

تم تحميل هذا الملف من موقع المناهج القطرية



أوراق عمل اثرائية خصائص المواد مع الإجابة النموذجية

موقع المناهج ← المناهج القطرية ← المستوى الأول ← علوم ← الفصل الأول ← أوراق عمل ← الملف

تاريخ إضافة الملف على موقع المناهج: 2024-11-13 07:07:41

ملفات اكتب للمعلم اكتب للطالب الاختبارات الكترونية | اختبارات | حلول | عروض بوربوينت | أوراق عمل
منهج انجليزي | ملخصات وتقارير | مذكرات وبنوك | الامتحان النهائي للمدرس

المزيد من مادة
علوم:

التواصل الاجتماعي بحسب المستوى الأول



صفحة المناهج
القطرية على
فيسبوك

الرياضيات

اللغة الانجليزية

اللغة العربية

التربية الاسلامية

المواد على تلغرام

المزيد من الملفات بحسب المستوى الأول والمادة علوم في الفصل الأول

أوراق عمل الأندلس نهاية الفصل مع الحل

1

أوراق عمل الأندلس نهاية الفصل غير مجابة

2

أوراق عمل اثرائية نهاية الفصل غير مجابة

3

الاختبار النهائي منتصف الفصل

4

بنك أسئلة الوحدة الأولى الكائنات الحية

5



المادة: العلوم

المستوى: الأول

الإجابة النموذجية

اختبار الوحدة (خصائص المواد) رقم (3)

الكتاب المدرسي من صفحة () الى صفحة ()

اليوم:

التاريخ:

الفصل الدراسي الأول

الهدف: رفع التحصيل الأكاديمي وتعزيز مهارات التفكير العليا بعد كل وحدة دراسية

العام الأكاديمي: 2024-2023

30

اختبار الوحدة لا يغني الطالب عن المذاكرة من المصدر التعليمي وحل أسئلة التقويم للوحدة



الأسئلة الموضوعية:

أجب عن الأسئلة الآتية :

السؤال الأول
❖ ما المادة التي تصنع منها الملابس؟ أ. معدن ب. مطاط ج. قماش

السؤال الثاني
❖ ما المادة التي تصنع منها لعبة مكعبات التركيب؟ أ. زجاج ب. بلاستيك ج. ورق



السؤال الثالث

❖ ما المادة التي يصنع منها الكتاب؟

أ. زجاج

ب. بلاستيك

ج. ورق

3/0

السؤال الرابع

❖ ما الحاسة التي استخدمها لاكتشف ملمس الأشياء؟

أ. الشم

ب. اللمس

ج. السمع



السؤال الخامس

❖ ضع علامة (√) أمام العبارة الصحيحة وعلامة (x) أمام العبارة الخطأ .

- ممكن أن يصنع الشيء من أكثر من مادة واحدة. (صح)
- تصنع النوافذ من مادة المعدن حتى يسمح لنا بالرؤية. (خطأ)
- تصنع ألعاب الأطفال من زجاج لأنه آمن. (خطأ)
- بعض الأشياء ملمسها ناعم وبعضها خشن. (صح)

2025





2024

Andalus Educational Complex
Since 1995



السؤال السادس

❖ صل ما في العمود (أ) بما يناسبه من العمود (ب)؟

العمود (ب)	العمود (أ)
	طري
	قاس
	ناعم
	خشن



مجمع الأندلس التعليمي
Al Andalus Educational Complex
مدرسة الأندلس الخاصة للبنات
روضة • ابتدائي • إعدادي • ثانوي

مع تحيات قسم المسار العلمي

