

تم تحميل هذا الملف من موقع المناهج القطرية



أوراق عمل في الوحدة الأولى الأعداد من الصفر حتى عشرة

موقع المناهج ← المناهج القطرية ← المستوى الأول ← رياضيات ← الفصل الأول ← أوراق عمل ← الملف

تاريخ إضافة الملف على موقع المناهج: 2024-10-18 00:20:38

ملفات اكتب للمعلم اكتب للطالب | اختبارات الكترونية | اختبارات | حلول | عروض بوربوينت | أوراق عمل
منهج انجليزي | ملخصات وتقارير | مذكرات وبنوك | الامتحان النهائي للمدرس

المزيد من مادة
رياضيات:

إعداد: مجمع الفرقان

التواصل الاجتماعي بحسب المستوى الأول



صفحة المناهج
القطرية على
فيسبوك

الرياضيات

اللغة الانجليزية

اللغة العربية

التربية الاسلامية

المواد على تلغرام

المزيد من الملفات بحسب المستوى الأول والمادة رياضيات في الفصل الأول




أوراق عمل أبي حنيفة في جمع الأعداد	1
أوراق عمل الفرقان في الأعداد وطرح الأعداد مع الإجابة	2
أوراق عمل في الأعداد وكتابتها	3
أوراق عمل في الطرح غير محلولة	4
أوراق عمل شاملة لاختبار منتصف الفصل غير محلولة	5

اسم الطالب: الصف: أول/.....




الوحدة: الأولى - الأعداد من 0 حتى 10


الأسئلة الموضوعية:


تعليمات: اختر الإجابة الصحيحة لكل من الأسئلة من 1 إلى 6، وذلك بوضع علامة × داخل المربع المجاور للإجابة الصحيحة:


السؤال (1)	
أي مما يلي يمثل العدد 2 ؟	
A	
B	
C	

السؤال (2)	
ما العدد الكلي للفرشات ؟	
A	2
B	3
C	4




		السؤال (3)
أي مما يلي يمثل العدد 0 ؟		
A		
B		
C		


		السؤال (4)
ما العدد الكلي للطيور؟		
		
A	5	
B	6	
C	7	




		السؤال (5)
ما العدد الكلي للأقلام؟		
		
A	6	
B	7	
C	8	

السؤال (6)	
 <p>ما العدد الكلي للأزرار؟</p>	
A	8
B	9
C	10


السؤال (7)	
 <p>ما العدد الذي يمثل الأرانب؟</p>	
A	6
B	7
C	8




السؤال (8)	
<p>أي مما يلي يمثل العدد 3؟</p>	
A	
B	
C	

السؤال (9)	
ما العدد الذي يمثل النحل في الصورة التالية؟	
	
A	3
B	4
C	5

السؤال (10)	
أي مما يلي يمثل العدد 0؟	
A	
B	
C	

تعليمات: عند الإجابة على الأسئلة من 11 إلى 12 ، اكتب إجاباتك في المساحات المخصصة لذلك.

السؤال (11)
<p>ارسم 3 دوائر </p> <div style="border: 1px solid black; height: 80px; width: 550px; margin: 10px auto;"></div>

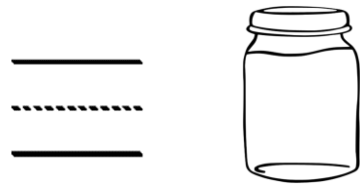
السؤال (12)
<p>عد واكتب العدد.</p> <div style="display: flex; justify-content: space-around; align-items: center;">  </div>
(A)
<div style="display: flex; align-items: center;">  <div style="margin-left: 10px;"> <hr style="border: 0; border-top: 1px solid black; width: 80px;"/> <hr style="border: 0; border-top: 1px dashed black; width: 80px;"/> <hr style="border: 0; border-top: 1px solid black; width: 80px;"/> </div> </div>
(B)
<div style="display: flex; align-items: center;">  <div style="margin-left: 10px;"> <hr style="border: 0; border-top: 1px solid black; width: 80px;"/> <hr style="border: 0; border-top: 1px dashed black; width: 80px;"/> <hr style="border: 0; border-top: 1px solid black; width: 80px;"/> </div> </div>

السؤال (13)
<p>اكتب العدد أسفل الصورة:</p> <div style="display: flex; justify-content: space-around; align-items: center;"> <div style="text-align: center;">  <div style="margin-top: 10px;"> <hr style="border: 0; border-top: 1px solid blue; width: 100px;"/> <hr style="border: 0; border-top: 1px dashed blue; width: 100px;"/> <hr style="border: 0; border-top: 1px solid blue; width: 100px;"/> </div> </div> <div style="text-align: center;">  <div style="margin-top: 10px;"> <hr style="border: 0; border-top: 1px solid blue; width: 100px;"/> <hr style="border: 0; border-top: 1px dashed blue; width: 100px;"/> <hr style="border: 0; border-top: 1px solid blue; width: 100px;"/> </div> </div> </div>
درجة


السؤال (14)

عد واكتب العدد.

(A)



(B)

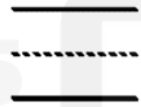


(C)



السؤال (15)

لون 3 مربعات إضافية ثم اكتب العدد الكلي للمربعات الملونة.



السؤال (16)

عد واكتب العدد.

(A)

