



مدرسه مريم بنت عمران الابتدائية  
العام الأكاديمي 2020-2021

**مدرسة مريم بنت عمران الابتدائية للبنات**  
**تدريبات اثرائية**  
**في مادة الرياضيات للصف الاول**  
**العام الأكاديمي 2020 / 2021**

## السؤال الأول: اختاري الإجابة الصحيحة بوضع دائرة حولها.

السؤال رقم ( 1 )

أي الأعداد التالية يمثل عدد الفراشات؟



- A 4  
B 5  
C 6

السؤال رقم ( 2 )

أي مما يلي يمثل العدد 10 ؟

- A
- B
- C

السؤال رقم (3)

ما الترتيب الصحيح للقرد ؟



- A الثاني  
B الثالث  
C الرابع

السؤال رقم (4)

أي مما يلي يمثل قطة تحت الكرسي؟

A



B



C



السؤال رقم (5)

ما العدد الكلي للفراشات؟



A

4 و 2 يصبح 6

B

4 و 3 يصبح 7

C

4 و 4 يصبح 8

السؤال رقم (6)

ما جملة الجمع المناسبة؟



A

$5+3=8$

B

$4+4=8$

C

$5+4=9$

السؤال رقم ( 7 )

لدى سالم 4 أقلام . أعطاه والده 2 قلمان إضافيان.  
ما جملة الجمع التي تمثل العدد الكلي للأقلام لدى سالم ؟

A  $4+2=6$

B  $5+3=8$

C  $3+4=7$

السؤال رقم ( 8 )

في الحديقة 5 فراشات وانضمت إليها 3 فراشات أخرى، كم فراشة أصبحت في الحديقة الآن؟

A  $5+5=10$

B  $4+3=7$

C  $5+3=8$

السؤال رقم ( 9 )

في وعاء 6 كرات زجاجية. اخذ منها 4 كرات كم كرة تبقى في الوعاء؟



A 6

B 2

C 3

السؤال رقم (10)

ما جملة الطرح المناسبة للصورة؟



A  $6-4=2$

B  $5-3=2$

C  $4-3=1$

السؤال رقم ( 11 )

ما جملة الجمع المناسبة للصورة؟



A  $6+2=8$

B  $6+3=9$

C  $6+1=7$

السؤال رقم ( 12 )

ما جملة الضعف الصحيحة؟



A  $3+3=6$

B  $4+4=8$

C  $5+5=10$

## السؤال الثاني : اوجدي الناتج بتوضيح خطوات الحل

السؤال رقم (1)

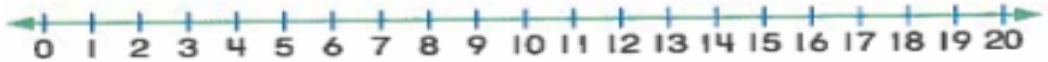
استعمل خط الاعداد ثم عد تصاعدياً لإيجاد ناتج الجمع.

$$6 + 2 = \square$$



استعمل خط الاعداد ثم عد تنازلياً لإيجاد ناتج الطرح.

$$8 - 4 = \square$$






السؤال رقم (2)

في مزرعة جاسم 4 خرفان.  
انضم إليها 2 خروفان آخران.  
كم خروف يوجد الآن في مزرعة جاسم؟  
ارسم صورة، ثم أكتب جملة جمع مختلفتين.

$$\text{-----} + \text{-----} = \text{-----}$$
$$\text{-----} + \text{-----} = \text{-----}$$

عد الأشياء لكل مجموعة واكتب العدد الكلي.



أكمل الأعداد الناقصة.

0	1	.....	.....	.....	5
6	7	-----	-----	10	-----
12	-----	-----	-----	-----	-----



حوظ الإجابة الصحيحة ثم اكتب جملة عددية التي تمثل المكعبات.

A



لَيْسَتْ

حَقِيقَةٌ


حَقِيقَةٌ

ضِعْفِ

ضِعْفِ

----- + ----- = -----

B



لَيْسَتْ

حَقِيقَةٌ


حَقِيقَةٌ

ضِعْفِ

ضِعْفِ

----- + ----- = -----

C



لَيْسَتْ

حَقِيقَةٌ

حَقِيقَةٌ

ضِعْفِ

ضِعْفِ

----- + ----- = -----

D



لَيْسَتْ

حَقِيقَةٌ

حَقِيقَةٌ

ضِعْفِ

ضِعْفِ


----- + ----- = -----

الأول

انظر إلى الصورة وأجب عن الأسئلة التالية:



قطّة




كلب




أرنّب



عصفور



زرافة



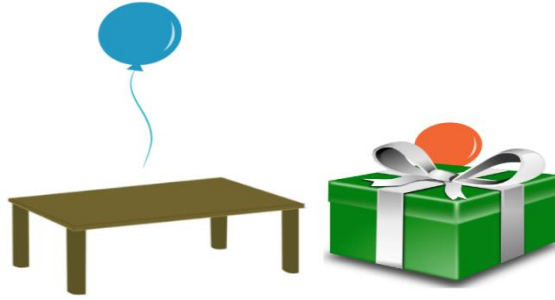
فيل

- ما ترتيب الفيل؟ .....
- ما ترتيب الزرافة؟ .....
- ما ترتيب العصفور؟ .....
- ما اسم الحيوان الذي له الترتيب الثالث؟ .....
- ما اسم الحيوان الذي يقع بين الأول والثالث؟ .....

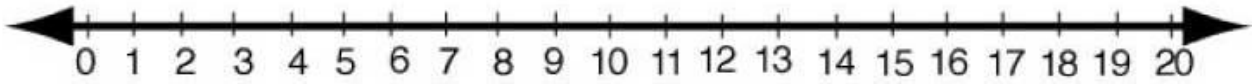
1. حوِّط الكرة على يمين المكتب.



2. حوِّط الصورة التي تبيِّن (البالون فوق الطاولة).

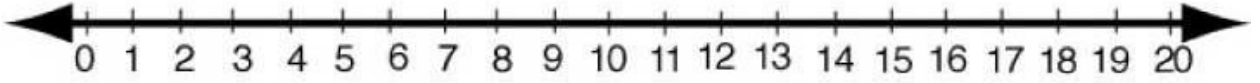


إذا كان لدى فاطمة 8 من المكعبات اعطتها صديقتها 6 مكعبات إضافية، فما عدد المكعبات لدى فاطمة الآن؟  
استخدم خط الأعداد للعد تصاعدياً وإيجاد ناتج الجمع.



$$\text{-----} + \text{-----} = \text{-----}$$

إذا كان لدى فاطمة 11 تفاحات اعطت صديقتها 5 تفاحات ، فما عدد التفاحات التي بقيت لدى فاطمة الآن؟  
استخدم خط الاعداد للعد تنازلياً وإيجاد ناتج الفرق.



$$\text{-----} - \text{-----} = \text{-----}$$

أكتب مجموع الأعداد الثلاثة في كل تمرين.

حوظ عددين أولاً ثم أكتب مجموعهما في الصندوق إلى اليمين ثم أكتب مجموع الأعداد الثلاثة.

1

$$\begin{array}{r} 7 \\ 3 \\ + 3 \\ \hline \square \end{array} \quad \square$$

2

$$\begin{array}{r} 2 \\ 8 \\ + 3 \\ \hline \square \end{array} \quad \square$$

وضعت سارة 7 كتب على رف مكتبة و3 كتب على رف اخر، ثم وضعت 5 كتب على الرف الأخير. كم كتابا وضعت سارة على الرفوف الثلاثة كلها؟

$$\underline{\quad} + \underline{\quad} + \underline{\quad} = \underline{\quad}$$

كتابا         

**ملاحظته: الكتاب هو الأساس في الدراسة قبل حل هذه الأوراق**

بالتوفيق لجميع الطالبات