

## تم تحميل هذا الملف من موقع المناهج القطرية



## أوراق عمل أبي حنيفة في جمع الأعداد

موقع المناهج ← المناهج القطرية ← المستوى الأول ← رياضيات ← الفصل الأول ← أوراق عمل ← الملف

تاريخ إضافة الملف على موقع المناهج: 00:17:27 2024-10-18

ملفات اكتب للمعلم اكتب للطالب الاختبارات الكترونية | اختبارات | حلول | عروض بوربوينت | أوراق عمل  
منهج انجليزي | ملخصات وتقارير | مذكرات وبنوك | الامتحان النهائي للمدرس

المزيد من مادة  
رياضيات:

إعداد: مجمع الفرقان

## التواصل الاجتماعي بحسب المستوى الأول



صفحة المناهج  
القطرية على  
فيسبوك

الرياضيات

اللغة الانجليزية

اللغة العربية

التربية الاسلامية

المواد على تلغرام

## المزيد من الملفات بحسب المستوى الأول والمادة رياضيات في الفصل الأول

أوراق عمل الفرقان في الأعداد وطرح الأعداد مع الإجابة

1

أوراق عمل في الأعداد وكتابتها

2

أوراق عمل في الطرح غير محلولة

3

أوراق عمل شاملة لاختبار منتصف الفصل غير محلولة

4


أوراق عمل شاملة لاختبار منتصف الفصل مع الإجابة

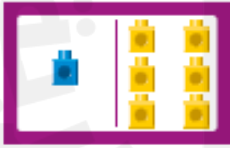
5

## أوراق عمل الوحدة الثانية

اسم الطالب: ..... الصف: الأول / .....

اختر الإجابة الصحيحة بوضع دائرة حول رمز الإجابة الصحيحة:

		1
ما العدد الكلي للضفادع؟		
		
	4 و 2 يصبح 6	A
	4 و 3 يصبح 7	B
	4 و 4 يصبح 8	C

		2
أي جملة الجمع التي تمثل الصورة؟		
		
	$1 + 5 = 6$	A
	$1 + 6 = 7$	B
	$1 + 7 = 8$	C

3

لدى ليلى 6 كتب أعطها ابوها 3 كتب. كم كتاب أصبح لدى ليلى الآن؟

7

A

8

B


9

C

أجب عن الأسئلة، واكتب إجابتك في المساحة المخصصة للإجابة

4

ما العدد الكلي للأصابع؟

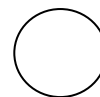
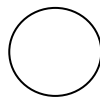


يصبح

و


5

اكتب جملة الجمع التي تعبر عن الصورة التالية:



6

أَسْتَعْمِلُ النَّمُودَجَ لِكِتَابَةِ الأَجْزَاءِ. ثُمَّ أَكْتُبُ جُمْلَةً عَدَدِيَّةً وَأَحْلُهَا.

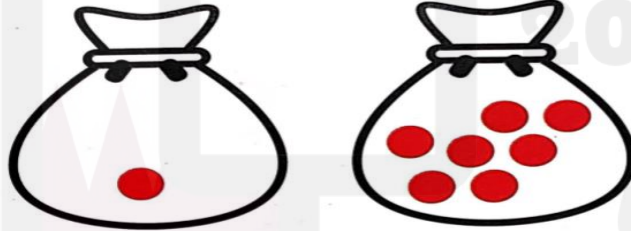


..... + .....

..... + ..... = .....

7

اكتب جملة الجمع التي تعبر عن الصورة التالية:



.....

.....

.....

.....