

## تم تحميل هذا الملف من موقع المناهج القطرية



## أوراق عمل نهاية الفصل غير مجانية

موقع المناهج ← المناهج القطرية ← المستوى الأول ← علوم ← الفصل الأول ← أوراق عمل ← الملف

تاريخ إضافة الملف على موقع المناهج: 2024-12-15 21:17:03

ملفات اكتب للمعلم اكتب للطالب الاختبارات الكترونية | اختبارات | حلول | عروض بوربوينت | أوراق عمل  
منهج انجليزي | ملخصات وتقارير | مذكرات وبنوك | الامتحان النهائي للمدرس

المزيد من مادة  
علوم:

## التواصل الاجتماعي بحسب المستوى الأول



صفحة المناهج  
القطرية على  
فيسبوك

الرياضيات

اللغة الانجليزية

اللغة العربية

التربية الاسلامية

المواد على تلغرام

## المزيد من الملفات بحسب المستوى الأول والمادة علوم في الفصل الأول

بنك أسئلة الوحدة الثالثة خصائص المواد	1
بنك أسئلة الوحدة الثانية الأشياء المتحركة	2
مجموعة أوراق عمل غير مجانية	3
أوراق عمل نهاية الفصل غير مجانية	4
كراسة نهاية الفصل غير مجانية	5



## بنك الأسئلة

العام الأكاديمي 2024 – 2025

خولة بنت الأزور	اسم المدرسة
علوم	المادة
الاول	الصّف
د.رانيا البكور	اسم الموجه التربوي
دينا أبو لبدة	اسم المنسق (المراجع)
ندى شعبان	اسم المعلم (المعد)
○ منتصف الفصل الدراسي الأوّل ○ نهاية الفصل الدراسي الأوّل	نوع الاختبار

1 ديسمبر	تاريخ التسليم
----------	---------------


ملاحظات	أرقام الأسئلة					رقم النتائج	اسم الدرس	اسم الوحدة
	المقالي	صح وخطأ	أكمل الفراغ	المزوجة	الاختيار من متعدد			
	16	14	13	11	1-10	C0101.1	مم تصنع الأشياء؟	خصائص المواد
	17	15		12		C0101.2		
	18					C0102.1	كيف يمكن أن تساعدني الحواس على تحديد المواد؟	
						C0102.2		
						C0101.1	ما استخدامات المواد القاسية والطرية؟	
						C0102.1 C0102.2		

تعليمات  
اختر الإجابة الصحيحة لكل من الأسئلة من 1 إلى 10 ، وذلك بوضع علامة × داخل  
المربع المجاور للإجابة الصحيحة:

السؤال رقم ( 1 )	
أي مما يأتي يصنع عادة من القماش؟	
النوافذ	A
السيارات	B
الملابس	C

السؤال رقم ( 2 )	
أي مما يأتي مصنوع من أكثر من مادة؟	

	A
	B
	C

السؤال رقم (3)	
	ما هو الوصف المناسب للمنشفة؟
صلبة	A
خشنة	B
طرية	C

السؤال رقم (4)	
----------------	--

ما المادة التي صنع منها هذا الشيء؟



المطاط	A
القماش	B
الورق	C

السؤال رقم ( 5 )

أي من الأشياء الآتية يجب أن يكون قاسياً؟

ثوب	A
نافذة	B
اسفنجة	C
السؤال رقم ( 6 )	

أي مما يلي قاسٍ وخشن؟



A



B



C

السؤال رقم (7)



ما هي المادة التي صنعت منها الجرّة؟

المعدن




A

الطين

B

البلاستيك

C

السؤال رقم (8)	
أي مما يلي مصنوع من الخشب؟	
	A
	B
	C

السؤال رقم (9)	
أي مما يلي يستخدم لحماية البيض في العش؟	
مواد قاسية	A
مواد خشنة	B
مواد طرية	C



السؤال رقم ( 10 )

أي مما يلي ملمسه خشن؟



A







B



C

السؤال رقم ( 11 )

صل ما في العمود ( أ ) بما يناسبه من المواد في العمود ( ب ):

( ب )	( أ )
ورق	
زجاج	
قماش	
بلاستيك	

صل ما في العمود ( أ ) بما يناسبه من الخصائص في العمود ( ب ) :

( ب )	( أ )
قاسٍ	
خشن	
طري	
ناعم	

أكمل الفراغات التالية مستعيناً بالكلمات في الجدول التالي.

الحجر	مختلفة	الطّرية	لملمس
-------	--------	---------	-------

- 1- تصنع الأشياء من مواد .....
- 2- ..... هو مادة قاسية موجودة في الطبيعة.
- 3- يمكن استخدام المواد ..... لحماية الأشياء.

2025

2024



موقع المناهج النقطية

ضع علامة ( √ ) أمام العبارة الصحيحة وعلامة ( × ) أمام العبارة الخاطئة :

- 1- بعض المواد ملمسها خشن وبعضها ناعم. ( )
- 2- تصنع جميع الأشياء من مواد متشابهة . ( )
- 3- يمكن صنع الشيء نفسه من مواد مختلفة . ( )
- 4- المادة الطرية هي مادة لا يسهل ضغطها أو عصرها. ( )
- 5- بعض الأشياء تنحن لأنها صلبة وبعضها لا تنحن لأنها ليّنة . ( )

ضع علامة ( √ ) أمام العبارة الصحيحة وعلامة ( × ) أمام العبارة الخطأ :

- 1- كل الأشياء مصنوعة من المواد. ( )
- 2- لا يمكنني أن أستخدم حواسي لأصِف المواد . ( )
- 3- يمكن استخدام المعدن في صنع المطارق والمسامير . ( )
- 4- يمكن صنع الملعقة من المعدن أو الخشب أو البلاستيك . ( )
- 5- يمكن تصنيف المواد بحسب لونها أو شكلها أو حجمها . ( )
- 6- تستخدم المواد الطَّرِيَّة مثل القماش في صنع الملابس لأنها مريحة. ( )



السؤال رقم ( 16 )

اجب على ما يأتي:

اكتب اسم مادتين استخدمتا في صنع الحقيبة المدرسية.



.....و.....

السؤال رقم ( 17 )



اجب على ما يأتي:

ما ملمس الطاولة؟

.....

السؤال رقم ( 18 )



اجب على ما يأتي:

1- ما المادة التي صنعت منها اللعبة الظاهرة بالصورة ؟

.....



2- هل هي مادة قاسية أم طريّة ؟

.....

3- هل هي مادة ناعمة أم خشنة؟

.....

