

تم تحميل هذا الملف من موقع المناهج القطرية



## بنك أسئلة الوحدة السابعة تمثيل البيانات وتفسيرها مع الإجابة النموذجية

[موقع المناهج](#) ← [المناهج القطرية](#) ← [المستوى الأول](#) ← [رياضيات](#) ← [الفصل الثاني](#) ← [الملف](#)

تاريخ إضافة الملف على موقع المناهج: 2024-05-30 02:47:08

إعداد: مدرسة عبد الحميد الدابل

## التواصل الاجتماعي بحسب المستوى الأول



[اضغط هنا للحصول على جميع روابط "المستوى الأول"](#)

## روابط مواد المستوى الأول على تلغرام

[الرياضيات](#)

[اللغة الانجليزية](#)

[اللغة العربية](#)

[التربية الاسلامية](#)

## المزيد من الملفات بحسب المستوى الأول والمادة رياضيات في الفصل الثاني

[تدريبات دعم واثراء نهاية الفصل مجمع الفرقان غير محابة](#)

1

[الاختبار الوزاري منتصف الفصل](#)

2

[أوراق عمل اثرائية منتصف الفصل مدرسة الأندلس مع الإجابة النموذجية](#)

3

## المزيد من الملفات بحسب المستوى الأول والمادة رياضيات في الفصل الثاني

[أوراق عمل اثرائية منتصف الفصل مدرسة الأندلس غير محابة](#)

4

[تدريبات دعم وإثراء الفرقان منتصف الفصل](#)

5



الاسم: ..... الصف: أول/.....

1- اختر الإجابة الصحيحة بوضع دائرة حول رمز الإجابة الصحيحة:

1

أستعمل جدول الإشارات التالي، وأجب عن السؤال التالي:  
ما عدد الطلاب الذين يفضلون اللون الأخضر؟

**الألوان المقصّلة**

الأخضر	الأحمر	الأزرق

3  A

6  B

7  C

2

أي مجموعة إشارات عد توضح عدد القبعات في التمثيل بالمصورات؟




III  A

III  B












III  C

3- أجب عن كل مما يلي:

طرح خالد سوّالا استطلاعيّا على أصدقانه

الفاكهة المفضّلة		
الكمثرى 	الموز 	التفاح 
8 <del>IIII</del> III	3 III	5 <del>IIII</del>

1. أستمع البيانات التي جمعها لتمثيلها بالمصوّرات

الفاكهة المفضّلة									
الكمثرى 									
الموز 	○	○	○						
التفاح 	○	○	○	○	○				

2. ما الفاكهة الأقل تفضيلا لدى الطلاب؟

.....الموز.....




3. بكم يزيد عدد الطلاب الذين يفضلون الكمثرى عن الذين يفضلون الموز؟













.....8 - 3 = 5.....

4. ما العدد الكلي للطلاب الذين شاركوا في التصويت؟

.....5 + 3 + 8 = 16.....

اختر الإجابة الصحيحة بوضع دائرة حول رمز الإجابة الصحيحة:














4		أستعمل جدول الإشارات التالي، وأجب عن السؤال التالي: أي نكهة مثلجات حصلت على معظم الأصوات ؟
<b>نكهة المثلجات المفضلة</b>		
الفانيليا	الشوكولاتة	الفراولة
		
IIII	III	IIII
	الفراولة	A
	الشوكولاتة	B
	الفانيليا	C

5		أستعمل التمثيل بالمصورات التالي، وأجب عن السؤال التالي: بكم يزيد عدد الأشخاص الذين يفضلون السباحة عن عدد الذين يفضلون ركوب الدرجات ؟
<b>الأنشطة المفضلة في الرحلة</b>		
		
		
		
		
السباحة	التيئة	ركوب الدراجة
		
		1 A
		4 B
		3 C



6- أجب عن الأسئلة مستعملا جدول المصورات التالي.

الأنشطة المفضلة عند طلاب الصف الأول

ركوب الدراجة 					
كرة القدم 					
التزلج 					

(1) ما عدد الطلاب الذين يفضلون كرة القدم؟

.....5.....

(2) ما النشاط الأقل تفضيلا لدى الطلاب؟

.....التزلج.....

(3) بحكم يقل الطلاب الذين يفضلون التزلج عن الطلاب الذين يفضلون كرة القدم؟

.....5 - 2 = 3.....

(3) ما العدد الكلي للطلاب الذين شاركوا في التصويت؟

.....3 + 5 + 2 = 10.....

أستعمل البيانات في جدول الإشارات لإنشاء  
تفصيل بالمصوّرات.

### الألوان المفضلة

الأخضر	الأزرق	البنفسجي
4	7	8

### الألوان المفضلة

الأخضر	○	○	○	○						
البنفسجي	○	○	○	○	○	○	○	○		
الأزرق	○	○	○	○	○	○	○			

2- بكم يزيد عدد الطلاب الذين يفضلون اللون البنفسجي عن الذين يفضلون اللون الأحمر؟

$$8 - 4 = 4$$

3- ما اللون الأكثر تفضيلاً؟

البنفسجي