

شكراً لتحميلك هذا الملف من موقع المناهج القطرية



أوراق عمل اثرائية منتصف الفصل مدرسة الأندلس مع الإجابة النموذجية

[موقع المناهج](#) ← [المناهج القطرية](#) ← [المستوى الأول](#) ← [علوم الحاسب](#) ← [الفصل الثاني](#) ← [الملف](#)

تاريخ نشر الملف على موقع المناهج: 2024-02-22 15:59:17 | اسم المدرس: مدرسة الأندلس

التواصل الاجتماعي بحسب المستوى الأول



روابط مواد المستوى الأول على تلغرام

[الرياضيات](#)

[اللغة الانجليزية](#)

[اللغة العربية](#)

[التربية الاسلامية](#)

المزيد من الملفات بحسب المستوى الأول والمادة علوم الحاسب في الفصل الثاني

[أوراق عمل اثرائية منتصف الفصل مدرسة الأندلس غير محابة](#)

1

[تدريبات دعم واثراء الفرقان منتصف الفصل](#)

2

[اوراق عمل منتصف الفصل غير محابة مدرسة عبد الحميد الدابل](#)

3

[اوراق عمل منتصف الفصل محابة مدرسة عبدالحميد الدابل](#)

4

[تدريبات دعم واثراء منتصف الفصل الفرقان محابة](#)

5

مدرسة الأندلس الخاصة للبنات
العام الأكاديمي 2024/2023
منتصف الفصل الدراسي الثاني



أوراق عمل إثرائية الوحدة الأولى والثانية

مادة الحاسب الآلي

الصف: الأول

اسم الطالبة/.....

الصف والشعبة /.....

السؤال الأول: الأسئلة الموضوعية:

اختار الإجابة الصحيحة:


7

جهاز يستخدم لإدخال الأرقام والحروف:

1.1



A



B

1



C

يستخدم مفتاح لحذف الحروف:

1.2



A



B

1



C

<p>1.3 لترك مسافة بين الكلمات نستخدم مفتاح</p>	1.3
<p>A </p>	
<p>B </p>	1
<p>C </p>	
<p>1.4 يستخدم مفتاح لكتابة الحروف الكبيرة باللغة الإنجليزية:</p>	1.4
<p>A </p>	
<p>B </p>	1
<p>C </p>	
<p>1.5 لتحريك المؤشر في جهاز الحاسوب نستخدم.</p>	1.5
<p>A </p>	1
<p>B </p>	



C

1.6 تتصل أجهزة الحواسيب في جميع أنحاء العالم عن طريق " الأقمار الصناعية".

1.6



A



B



C

1.7 تتصل أجهزة الحواسيب في جميع أنحاء العالم عن طريق "الهوائيات".

1.7



A








B



C

السؤال الثاني: صل العمود (أ) مع ما يناسبه من العمود (ب) : (5 درجات)

(ب)	(أ)
	جهاز نستخدمها لكتابة الحروف والأرقام
	مفتاح نستخدمه لإنشاء سطر جديد
	مفاتيح نستخدمه لتحريك مؤشر الكتابة
	مفتاح نستخدمه لحذف الحرف التالي لمؤشر الكتابة
	مفتاح نستخدمه لكتابة الحروف الكبيرة باللغة الإنجليزية





السؤال الثاني: صل العمود (أ) مع ما يناسبه من العمود (ب) : (5 درجات)

(ب)	(أ)
	الأقمار الصناعية
	الهوائيات
	الاتصال السلكي
	الاتصال اللاسلكي
	متصفح الويب

السؤال الثالث: صل العمود (أ) مع ما يناسبه من العمود (ب) : (4 درجات)

(ب)	(أ)
	زيارة موقع الويب
	التواصل مع الآخرين
	الاستماع إلى الملفات الصوتية ومشاهدة مقاطع الفيديو
	استخدام الخرائط لتحديد المواقع

السؤال الرابع: صل العمود (أ) مع ما يناسبه من العمود (ب) : (4 درجات)

(ب)	(أ)
	لا تشارك معلومات الشخصية
	لا تتحدث مع الغرباء
	لا تشارك أبدًا كلمات المرور الخاصة بك
	لا ترسل صوراً شخصية للغرباء

انتهت الأسئلة