

## شكراً لتحميلك هذا الملف من موقع المناهج القطرية



## اوراق عمل منتصف الفصل مدرسة الأندلس غير مجانية

[موقع المناهج](#) ⇨ [المناهج القطرية](#) ⇨ [المستوى الأول](#) ⇨ [علوم](#) ⇨ [الفصل الثاني](#) ⇨ [الملف](#)

تاريخ نشر الملف على موقع المناهج: 10-01-2024 12:35:44 | اسم المدرس: مدرسة الأندلس

## التواصل الاجتماعي بحسب المستوى الأول



## روابط مواد المستوى الأول على تلغرام

[الرياضيات](#)

[اللغة الانجليزية](#)

[اللغة العربية](#)

[التربية الاسلامية](#)

## المزيد من الملفات بحسب المستوى الأول والمادة علوم في الفصل الثاني

[اوراق عمل نهاية الفصل الأندلس مع الإجابة](#)

1

[بنك اسئلة الوحدة السادسة الغذاء والنمو مع الإجابة](#)

2

[بنك اسئلة الوحدة السادسة الغذاء والنمو](#)

3

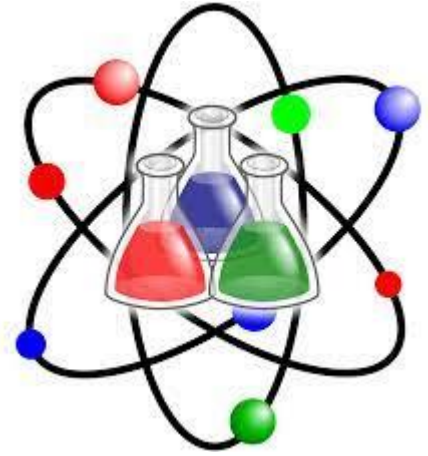
[اوراق عمل نهاية الفصل مدرسة مريم بنت عمران](#)

4

[جدول مواصفات اختبار نهاية الفصل](#)

5

العام الأكاديمي 2023/2022  
منتصف الفصل الدراسي الثاني



# التدريبات الإثرائية لمنتصف الفصل الدراسي الثاني مادة العلوم

الصف الأول الابتدائي

	اسم الطالب
	الصف والشعبة

## ورقة عمل الطعام الطازج

اختر الإجابة الصحيحة مما يلي:

(1) ما الوصف الصحيح للطعام الذي لم يحافظ على لونه ورائحته ولمسه وأصبح غير صالح للأكل؟

طعام طازج	A
طعام محفوظ	B
طعام متعفن	C

(2) ما الوصف الصحيح للطعام غير الطازج، ولكنه صالح للأكل؟

طعام متعفن	A
طعام محفوظ	B
طعام طازج	C

(3) ما الخصائص التي تظهر أن الطعام طازج؟

اللون فقط	A
الرائحة فقط	B
اللون و الرائحة	C

(4) ما الجهاز الذي يساعد على بقاء الطعام طازجًا لفترة أطول؟

الفرن	A
الثلاجة	B
الميكروويف	C

5) أي أنواع الطماطم التالية تظل طازجة لفترة أطول؟	
A	طماطم مغلقة فقط
B	طماطم غير مغلقة
C	طماطم مغلقة بالثلاجة

6) أي الأعراض التالية ليس لها علاقة بالتسمم الغذائي؟	
A	الإسهال
B	وجع البطن
C	احمرار العين

7) من العادات الصحيحة التي يجب أن أفعلها لتجنب التسمم الغذائي؟	
A	غسل الطعام قبل أكله
B	أكل الطعام مباشرة بعد شرائه
C	أكل الطعام المطهي نصف طهي

8) صل ما بين الجملة والصورة الصحيحة التي تُعبر عنها



طعام طازج



طريقة تبقي الطعام  
طازج مدة اطول



1) عفن ينمو على الطعام

9) ضع علامة (√) أمام العبارة الصحيحة و علامة (x) أمام العبارة الخطأ.

(-----)	1) نميز الطعام الطازج من غير الطازج اعتمادًا على اللون والرائحة والملمس.
(-----)	2) الإنسان الذي يأكل طعام متعفن قد يُصاب بوجع في البطن والإسهال.
(-----)	3) ينمو العفن على الفاكهة الطازجة إذا تركت مدة من الزمن.
(-----)	4) من الطرق التي تحميها من التسمم الغذائي غسل الطعام

10) أكمل الفراغات مما بين القوسين: ( العفن / فاسد / الطازج / تغليف )


أ) الطعام ..... هو الذي يكون محافظًا على لونه ورائحته وملمسه.
ب) يجعل العفن الطعام ..... ولا يصلح للأكل .
ت) ينمو ..... على الفاكهة الطازجة إذا تُركت خارج الثلاجة مدة من الزمن.
ث) ..... الطعام ببقية طازجًا لفترة أطول.


(11)


اذكر طريقة واحدة تساعدنا في تجنب التسمم الغذائي.

---

## ورقة عمل استخدام المواد

	1) ما الوصف الصحيح للشيء الموجود أمامك بالصورة؟	
	A	باهت وطري
	B	لامع وطري
	C	باهت وقاسي

	2) ما الوصف الصحيح لقطعة الإسفنج الموجود أمامك بالصورة؟	
	A	طري وخشن
	B	قاسي وخشن
	C	قاسي وناعم

	3) ما الوصف الصحيح للشيء الموجود أمامك بالصورة؟	
	A	يغوص وطري
	B	يطفو وقاسي
	C	يغوص وقاسي



4) ما نوع المادة التي تُصنع منها عدسات النظارة الطبية؟

A	مادة شفافة
B	مادة معتمة
C	مادة معتمة - طرية

5) هذه الكرة .....




A	شفافة
B	معتمة
C	شبه شفافة

6) صل ما بين الجملة والصورة الصحيحة التي تُعبر عنها.



شيء يقوم بعكس الضوء



مصنوع من الخشب



7) ضع علامة (✓) أمام العبارة الصحيحة وعلامة (x) أمام العبارة الخاطئة.

(-----)	1) من الممكن صناعة الوسائد من الخشب أو الحديد.
(-----)	2) أفضل مادة يمكن أن نضع منها عدسات النظارة الطبية هي القماش الثقيل.
(-----)	3) تُصنع الأشياء التي ينبغي أن تتحني من مواد طرية.

8) صنّف الأشياء التالية عن طريق كتابة الرقم الموجود أسفل الصورة بالجدول.



معتم	شفاف
-----	-----

9) أكمل الفراغات مما بين القوسين: (طرية / اللامعة / البصر / تطفو)

(أ) الأشياء ..... هي التي تعكس الضوء.

(ب) تُصنع المواد التي ينبغي أن تنحني من مواد .....

(ج) الحاسة التي يتم من خلالها معرفة المادة التي صنع منها الشيء هي حاسة .....

(د) عندما تقع قطعة من الخشب في الماء فإنها ..... فوق سطح الماء .