


شكراً لتحميلك هذا الملف من موقع المناهج القطرية



اختبار في الوحدة الثانية

[موقع المناهج](#) ← [المناهج القطرية](#) ← [المستوى الأول](#) ← [رياضيات](#) ← [الفصل الأول](#) ← [الملف](#)

تاريخ نشر الملف على موقع المناهج: 2023-10-07 14:54:20

التواصل الاجتماعي بحسب المستوى الأول



روابط مواد المستوى الأول على تلغرام

[الرياضيات](#)

[اللغة الانجليزية](#)

[اللغة العربية](#)

[التربية الاسلامية](#)

المزيد من الملفات بحسب المستوى الأول والمادة رياضيات في الفصل الأول

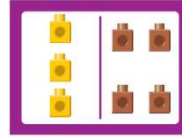
اختبار في الوحدة الاولى الأعداد	1
تدريبات مجمع الفرقان منتصف الفصل	2
اوراق عمل اثرائية نهاية الفصل في العد والجمع	3
كتاب الطالب الجزء الثاني	4
كتاب الطالب الجزء الأول	5

ما جملة الجمع التي تمثل المسألة التالية؟




- A $2 + 2 = 4$
B $5 + 2 = 7$
C $2 + 3 = 5$

ما جملة الجمع التي تمثل الصورة التالية؟




- A $3 + 1 = 4$
B $5 + 2 = 7$
C $3 + 4 = 7$

ما جملة الجمع التي تمثل الصورة التالية؟

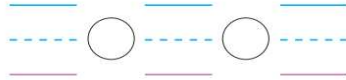


- A $3 + 1 = 4$
B $4 + 5 = 9$
C $3 + 6 = 9$


اكتب جملة الجمع التي تمثل كل مسألة.



(1)



(2)



$$\underline{\quad} + \underline{\quad} = \underline{\quad}$$

انظر إلى الصورة واكتب كم الباقي؟

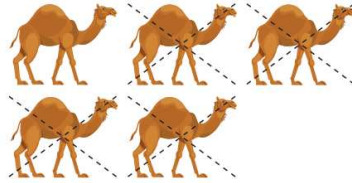


A 2

B 6

C 8

ما جملة الطرح التي تمثل الصورة التالية؟



A $4 - 1 = 3$

B $5 - 1 = 4$

C $5 - 4 = 1$

ما جملة الطرح التي تمثل الصورة التالية؟

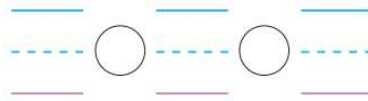
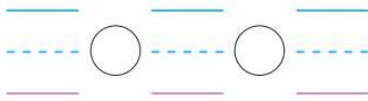


A $4 - 3 = 1$


B $7 - 4 = 3$

C $7 - 3 = 4$


اكتب جملة الطرح التي تمثل كل مسألة.



اكتب عدد المكعبات الحمراء والمكعبات الزرقاء. ثم أذكر بكم أكثر؟ اكتب جملة الطرح لتمثيل المسألة.




_____ مُكَّعَبَاتٍ زَرْقَاءَ
_____ مِّنَ الْمُكَّعَبَاتِ الْحَمْرَاءِ
أَيُّ لَوْنٍ مُكَّعَبَاتُهُ أَكْثَرُ؟
بِكَمْ أَكْثَرُ؟
_____ - _____ = _____



_____ مُكَّعَبَاتٍ حَمْرَاءَ
_____ مِّنَ الْمُكَّعَبَاتِ الزَّرْقَاءِ
أَيُّ لَوْنٍ مُكَّعَبَاتُهُ أَكْثَرُ؟
بِكَمْ أَكْثَرُ؟
_____ - _____ = _____

بكم يزيد عدد الطيور الزرقاء عن الصفراء؟ اكتب جملة الطرح التي تمثل المسألة.



_____ - _____ = _____

مدرسة الأندلس الخاصة للبنات
(روضة-ابتدائي-اعدادي-ثانوي)
رؤية المدرسة: "تَعَلَّمْ عَصْرِيَّ مُلْهُمَّ بِهُوِيَّةٍ وَطَنِيَّةٍ وَقِيَمِ إِسْلَامِيَّةٍ"



	منسقة القسم		معلمة الصف
			الخطوة العلاجية