

تم تحميل هذا الملف من موقع المناهج القطرية

\*للحصول على أوراق عمل لجميع الصفوف وجميع المواد اضغط هنا

<https://almanahj.com/qa>

\* للحصول على أوراق عمل لجميع مواد المستوى الأول اضغط هنا

<https://almanahj.com/qa/1>

\* للحصول على جميع أوراق المستوى الأول في مادة رياضيات ولجميع الفصول. اضغط هنا

<https://almanahj.com/qa/1>

\* للحصول على أوراق عمل لجميع مواد المستوى الأول في مادة رياضيات الخاصة بـ اضغط هنا

<https://almanahj.com/qa/1>

\* لتحميل كتب جميع المواد في جميع الفصول للمستوى الأول اضغط هنا

<https://almanahj.com/qa/grade1>

للتحدث إلى بوت على تلغرام: اضغط هنا

[https://t.me/qacourse\\_bot](https://t.me/qacourse_bot)

تدريبات اثرائية لمادة الرياضيات

اختبار نهاية الفصل الأول

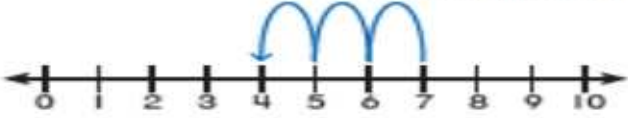
الصف الأول

[almanahj.com/qa](http://almanahj.com/qa)

المنهج القطرية

اجب على جميع الأسئلة التالية

		ما العدد الكلي للعملات المعدنية ؟	1
A	8		
B	9		
C	10		

		ما هي جملة الطرح الموضحة على خط الأعداد:	2
A	$8 - 3 = 4$		
B	$7 - 3 = 4$		

أي جملة جمع لها نفس ناتج جمع $3 + 2$ ؟		3
A	$3 + 3$	
B	$4 + 1$	
C	$2 + 3$	

لدى حمد 5 حبات من العنب أعطاه أخوه 3 من حبات العنب؟ ما العدد الكلي لحبات العنب لدى حمد؟		5
A	5	
B	6	
C	8	

قرأت دانة 6 كتب في اليوم الأول ثم قرأت 3 كتب في اليوم الثاني. اعد تصاعدياً لأجد عدد الكتب التي قرأتها دانه، أي حقيقة جمع تمثل القصة؟		6
A	$6 + 3 = 9$	
B	$3 + 2 = 5$	
C	$6 + 1 = 7$	

رسمت مها 4 قطط ورسمت منى العدد نفسه من القطط. ما العدد الكلي للقطط؟		7
A	$4 + 2 = 6$	
B	$4 + 3 = 7$	
C	$4 + 4 = 8$	

أي مما يلي يمثل حقيقة ضعف؟		8
A	$6 + 2 = 8$	
B	$4 + 3 = 7$	
C	$5 + 5 = 10$	

 ما هي حقيقة الجمع المناسبة لإيجاد العدد الكلي لحبات الطماطم؟		9
A	$6 + 2 = 8$	
B	$5 + 2 = 7$	
C	$4 + 3 = 7$	

لدى ماجد 7 بيضات . ففست منها 5 بيضات . كم بيضة لم تفقس ؟		10
A	$7 - 4 = 3$	
B	$7 - 5 = 2$	
C	$4 + 3 = 7$	

اجب على جميع الاسئلة

اكتب جملة جمع لكل ضعف:



$$\underline{\quad} + \underline{\quad} = \underline{\quad}$$

A-

11



$$\underline{\quad} + \underline{\quad} = \underline{\quad}$$

B-

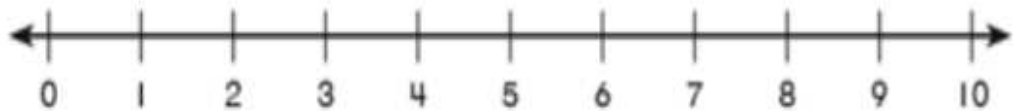
12

في خلية نحل 5 نحلات . انضممت إليها 5 نحلات أخرى .  
ما عدد النحلات في الخلية الآن؟

$$\dots\dots\dots + \dots\dots\dots = \dots\dots\dots$$

13

أوجد ناتج الطرح باستخدام خط الأعداد :



$$7 - 4 = \dots\dots\dots$$

- عد تصاعديا لتجد ناتج الجمع.

14



$$\underline{\quad} + \underline{\quad} = \underline{\quad}$$



$$\underline{\quad} + \underline{\quad} = \underline{\quad}$$

أكتب جملة الجمع باستخدام بطاقات الأعداد الموجودة:

15

3 8 5

$$\underline{\quad} + \underline{\quad} = \underline{\quad}$$
$$\underline{\quad} + \underline{\quad} = \underline{\quad}$$

اكتب جملة الطرح التي الممثلة على خط الأعداد :

16

..... - ..... = .....

السؤال رقم (1)

ما عدد الاسماك في الصورة :



A 11

B 12

C 13

السؤال رقم (2)

قطف فارس 10 زهور و قطفت أخته 2 زهور . ما العدد الكلي للزهور ؟



A 10

B 11

C 12

السؤال رقم (3)

ما العدد الكلي للسيارات ؟



A 11

B 12

C 13



السؤال رقم (4)

أي مما يلي يمثل عدد الخراف ؟



- A 12
- B 13
- C 14


السؤال رقم (5)

عد المكعبات في كل مجموعة ثم اكتب الاعداد في الفراغ :




السؤال رقم (7)

حوظ ستة عشر قطعة عد ثم اكتب العدد في الفراغ :





كم عدد التفاح؟



- A 15
- B 13
- C 10

عد الأشياء التالية ثم اكتب عددها





المنافسة القارية

- ارسم مجموعة من الدوائر تمثل العدد 19:



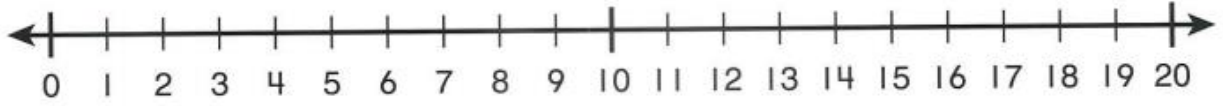
19

اجب على الأسئلة التالية:

لدى محمد 14 قلماً , أعطاه اخاه قلماً إضافياً , كم عدد الأقلام؟

لدى محمد 10 ريالاً , أعطاه ابوه 6 ريالاً , كم ريالاً لدى محمد؟

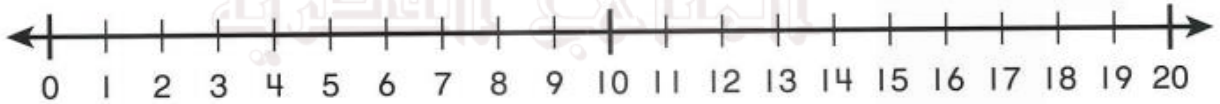
اوجد ناتج الجمع باستخدام خط الاعداد



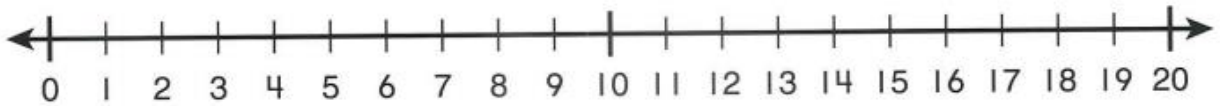
$$9 + 4 = \dots\dots$$

almanahj.com/qa

المنهج القلمية

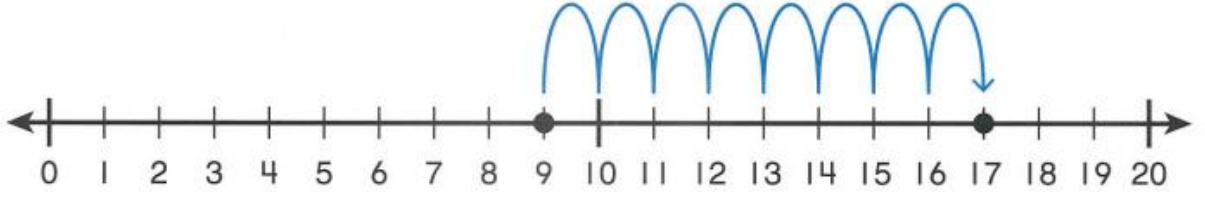


$$10 + 8 = \dots\dots$$

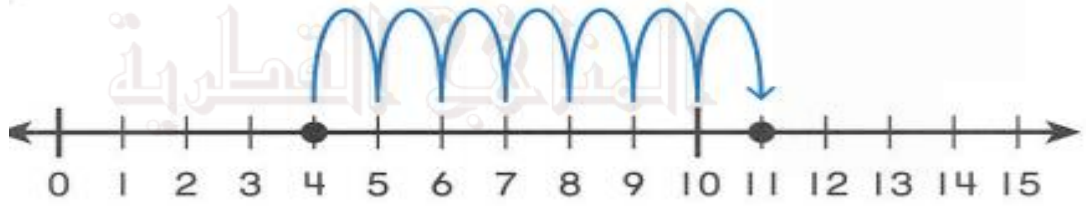


$$5 + 7 = \dots\dots$$

اكتب جملة الجمع الممثلة على خط الاعداد



almanahj.com/qa



اكتب حقيقة الضعف



اكمل حقيقة الضعف

$7 + 7 = \dots\dots$

$9 + 9 = \dots\dots$

$6 + 6 = \dots\dots$

$8 + 8 = \dots\dots$

اختر عددين لجمعهما أولاً وضعها في الصندوق ثم اوجد ناتج جمع الاعداد الثلاثة

$$\begin{array}{r} 6 \\ 6 \\ +1 \\ \hline \end{array} \quad \square$$

$$\begin{array}{r} 3 \\ 7 \\ +8 \\ \hline \end{array} \quad \square$$

$$\begin{array}{r} 2 \\ 8 \\ +3 \\ \hline \end{array} \quad \square$$

$$\begin{array}{r} 7 \\ 3 \\ +3 \\ \hline \end{array} \quad \square$$

$$\begin{array}{r} 2 \\ 2 \\ +8 \\ \hline \end{array} \quad \square$$

$$\begin{array}{r} 5 \\ 0 \\ +9 \\ \hline \end{array} \quad \square$$

استعمل الصور للإجابة على الأسئلة التالية

الأول



نَحْلَةٌ



دُعْشُوقَةٌ



فَرَّاشَةٌ



دُودَةٌ



عَنْكَبُوتٌ

2. ما تَرتيبُ العنكبوتِ؟

\_\_\_\_\_

1. ما تَرتيبُ الفَراشةِ؟

\_\_\_\_\_

4. ما تَرتيبُ الدُودَةِ؟

\_\_\_\_\_

3. ما تَرتيبُ الدُعْشُوقَةِ؟

\_\_\_\_\_

أيُّ صورةٍ تُوضِّحُ أنَّ الصَّفَدَعِ أَمَامَ الوِغَاءِ؟

(A)



(C)



(B)



(D)







استعمل الصور للإجابة على الأسئلة التالية



أحَوِّطُ بِاللُّونِ الْأَخْمَرِ الْكُزْبِيِّ إِلَى جِهَةِ الْيَمِينِ.

أحَوِّطُ بِاللُّونِ الْأَخْضَرِ اللَّوْحَةِ فَوْقَ الشَّرِيرِ.

أحَوِّطُ بِاللُّونِ الْأَزْرَقِ الْبَطَّةِ تَحْتَ الطَّائِلَةِ.

أَصْغُ إِشَارَةَ X عَلَى الْوَسَادَةِ خَلْفَ الدُّبِّ.

اوجد العدد الكلي

العَدَدُ الكُلِّيُّ للسلحفاة؟



ما العَدَدُ الكُلِّيُّ للعضافير؟



اكتب جملة الجمع

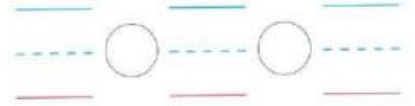
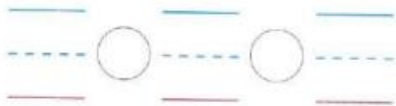
يُضِيحُ

وَ

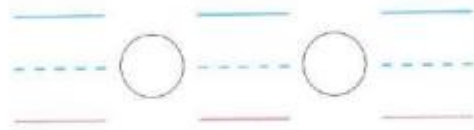
يُضِيحُ

وَ

المناجاة القطرية



اكتب جملة الطرح



almanahj.com/qa



اجمع بإعادة الترتيب

أجمع. أكتب جمل جمع تتضمن أعدادا مضافة بترتيب مختلف.



$$\underline{\quad} + \underline{\quad} = \underline{\quad}$$



$$\underline{\quad} + \underline{\quad} = \underline{\quad}$$