

تم تحميل هذا الملف من موقع المناهج القطرية



أوراق عمل دعم وإثراء الفرفنهاية الفصل مع الإجابة النموذجية

موقع المناهج ← المناهج القطرية ← المستوى الأول ← علوم الحاسب ← الفصل الأول ← أوراق عمل ← الملف

تاريخ إضافة الملف على موقع المناهج: 12:57:11 2025-01-04

ملفات اكتب للمعلم اكتب للطالب ااختبارات الكترونية ااختبارات ا حلول ا عروض بوربوينت ا أوراق عمل
منهج انجليزي ا ملخصات وتقارير ا مذكرات وبنوك ا الامتحان النهائي للمدرس

المزيد من مادة:
علوم الحاسب:

التواصل الاجتماعي بحسب المستوى الأول



الرياضيات



اللغة الانجليزية



اللغة العربية



التربية الاسلامية



المواد على تلغرام

صفحة المناهج
القطرية على
فيسبوك

المزيد من الملفات بحسب المستوى الأول والمادة علوم الحاسب في الفصل الأول

أوراق عمل نهاية الفصل مع الإجابة النموذجية

1

اختبار نهاية الفصل غير مجاب

2

اختبار نهاية الفصل مع الإجابة النموذجية

3

أوراق عمل مريم بنت عمران نهاية الفصل مع الإجابة النموذجية

4

أوراق عمل مريم بنت عمران نهاية الفصل غير مجابة

5

1

إجابات

الحواسبة

1446 هـ - 24-25 م

نهاية ف 1

تدريبات
دعم
وإثراء



يا رب انصر عبادك المؤمنين
وجنك الموحدين في كل مكان

القدس والأقصى ▼ حتماً ستعود

ملحوظة: هذه التدريبات لا تقني عن الكتاب المدرسي

الاسم / الصف / 1-




التميز




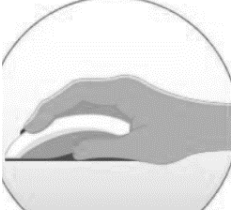
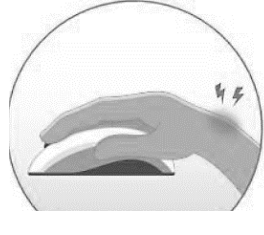
السؤال الأول: ضع دائرة حول الإجابة الصحيحة فيما يلي:**(1) من الأشياء التي لا يجب أن تكون بجانب الحاسوب**

	(ج)		(ب)		(أ)
-----------------------------------------------------------------------------------	-----	-----------------------------------------------------------------------------------	-----	-------------------------------------------------------------------------------------	-----




(2) الأداة التي يمكن الكتابة بها في برنامج الرسم

	(ج)		(ب)		(أ)
------------------------------------------------------------------------------------	-----	------------------------------------------------------------------------------------	-----	--------------------------------------------------------------------------------------	-----

(3) وضعية اليد الصحيحة لاستخدام الفأرة

	(ج)		(ب)		(أ)
-------------------------------------------------------------------------------------	-----	-------------------------------------------------------------------------------------	-----	---------------------------------------------------------------------------------------	-----




(4) أيقونة المجلدات الموجودة على سطح المكتب

	(ج)		(ب)		(أ)
-------------------------------------------------------------------------------------	-----	-------------------------------------------------------------------------------------	-----	---------------------------------------------------------------------------------------	-----




(5) ملف الفيديو

	(ج)		(ب)		(أ)
-----------------------------------------------------------------------------------	-----	-----------------------------------------------------------------------------------	-----	-------------------------------------------------------------------------------------	-----

(6) أداة التعبئة المستخدمة في تلوين الأشكال في برنامج الرسام

	(ج)		(ب)		(أ)
------------------------------------------------------------------------------------	-----	------------------------------------------------------------------------------------	-----	--------------------------------------------------------------------------------------	-----

(7) وضعية الجلوس الصحيحة أمام الحاسوب





	(ج)		(ب)		(أ)
-------------------------------------------------------------------------------------	-----	-------------------------------------------------------------------------------------	-----	---------------------------------------------------------------------------------------	-----

(8) ملف الصورة





	(ج)		(ب)		(أ)
-------------------------------------------------------------------------------------	-----	-------------------------------------------------------------------------------------	-----	---------------------------------------------------------------------------------------	-----

السؤال الثاني:

**- صل بين الكلمة في العمود (أ) بالصورة المناسبة في العمود (ب)
وذلك بكتابة الرقم المناسبة في الدائرة أمام الصورة:**

(ب)		(أ)	
	2	1	متصفح الانترنت
	1	2	سلة المحذوفات
	4	3	جهاز الحاسوب
	3	4	المجلد

صل بين الكلمة في العمود (أ) بالصورة المناسبة في العمود (ب)
وذلك بكتابة الرقم المناسبة في الدائرة أمام الصورة:


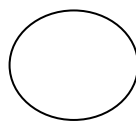
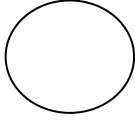
(ب)	
	2
	1
	4
	3

(أ)	
أداة الممحاة	1
أداة تعبئة اللون	2
أداة الفرشاة	3
أداة الرسم بالقلم	4

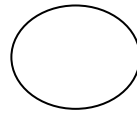
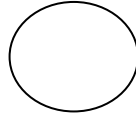

السؤال الثالث:

أجب عن الأسئلة الآتية بوضع (✓) أسفل الصورة المناسبة :




1) ضع علامة (✓) أسفل الصور التي تحتوي على وضعية الجلوس الصحيحة أمام الحاسوب:





2) ضع علامة (✓) أسفل الصور التي تحتوي على ملف النص :






3) ضع علامة (✓) أسفل الصور التي تحتوي على تسجيل الصوت :



4) ضع علامة (✓) أسفل الصور التي تحتوي على سلة المحذوفات :



5) ضع علامة (✓) أسفل الصور التي تحتوي على برنامج الرسام :



6) ضع علامة (✓) أسفل الصور التي تحتوي على ملف الفيديو :

