

تم تحميل هذا الملف من موقع المناهج القطرية



أوراق عمل الأندلس الاثرائية منتصف الفصل غير مجانية

موقع المناهج ← المناهج القطرية ← المستوى الأول ← علوم الحاسب ← الفصل الأول ← أوراق عمل ← الملف

تاريخ إضافة الملف على موقع المناهج: 20:28:03 2024-10-05

ملفات اكتب للمعلم اكتب للطالب | اختبارات الكترونية | اختبارات | حلول | عروض بوربوينت | أوراق عمل
منهج انجليزي | ملخصات وتقارير | مذكرات وبنوك | الامتحان النهائي للمدرس

المزيد من مادة
علوم الحاسب:

إعداد: مدرسة الأندلس

التواصل الاجتماعي بحسب المستوى الأول



صفحة المناهج
القطرية على
فيسبوك

الرياضيات

اللغة الانجليزية

اللغة العربية

التربية الاسلامية

المواد على تلغرام

المزيد من الملفات بحسب المستوى الأول والمادة علوم الحاسب في الفصل الأول

أوراق عمل الأندلس الاثرائية منتصف الفصل غير مجانية

1

أوراق عمل الأندلس الاثرائية منتصف الفصل مجانية

2

اختبار الوحدة الأولى غير مجاب

3

أوراق عمل منتصف الفصل مجمع الفرقان مع الإجابة النموذجية

4

أوراق عمل منتصف الفصل مدرسة الأندلس مع الإجابة النموذجية

5

مدرسة الأندلس الخاصة للبنات
العام الأكاديمي 2025/2024
منتصف الفصل الدراسي الأول



أوراق عمل إثرائية

مادة: الحوسبة و تكنولوجيا المعلومات

الصف: الأول

اسم الطالبة/.....

الصف والشعبة /.....

السؤال الأول: الأسئلة الموضوعية:

اختار الإجابة الصحيحة:

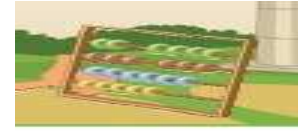


تطور الحاسوب وبدأ الحاجة للعد في عهد رجل الكهف.

1.1



A



B



C

تطور العد باستخدام المعداد للحسابات.

1.2









A



B



C

		1.3	تم اكتشاف الأرقام الرومانية.
		A	
		B	
		C	
		1.4	تم اكتشاف الأرقام العربية.
		A	
		B	
		C	

أول آلة حاسبة يدوية.		1.5
	A	
	B	
	C	

الآلة الحاسبة الكهربائية.		1.6
	A	
	B	
	C	

أول حاسوب عملاق يسمى "ENIAC".		1.7
	A	
	B	
	C	

تستخدم أجهزة الحاسوب في السوق.		1.8
	A	
	B	
	C	

تستخدم أجهزة الحاسوب في <u>المدرسة</u> .		1.9
	A	
	B	
	C	

تستخدم أجهزة الحاسوب في <u>البنك</u> .		1.10
	A	
	B	
	C	

من أجزاء جهاز الحاسوب " الشاشة".		1.11
	A	
	B	
	C	

من أجزاء جهاز الحاسوب " الفأرة".		1.12
	A	
	B	
	C	

من أجزاء جهاز الحاسوب " وحدة النظام".		1.13
	A	
	B	
	C	


من أجزاء جهاز الحاسوب " لوحة المفاتيح".		1.14
	A	
	B	
	C	

من طرائق التحكم بالحاسوب "اللمس":		1.15
	A	
	B	
	C	
من طرائق التحكم بالحاسوب "التحدث":		1.16
	A	
	B	
	C	

من طرائق التحكم بالحاسوب "التحكم بالإشارة والحركة":		1.1
	A	
	B	
	C	

الأسئلة المقالية:

السؤال الثاني: صل أنواع الأجهزة بالصورة المناسبة وذلك بكتابة الرقم المناسب أمام الصورة المناسبة:



استخدام المعداد
للحسابات.

1



أول حاسوب عملاق
يسمى "ENIAC".

2



أول آلة حاسبة يدوية.

3

السؤال الثالث: صلي بين العمودين: (5 درجات)

ب	أ
	حاسوب مكتبي
	جهاز لوحي
	حاسوب محمول
	هاتف ذكي
	ساعة ذكية

انتهت الأسئلة