

تم تحميل هذا الملف من موقع المناهج القطرية



أوراق عمل نهاية الفصل مدرسة الأندلس مع الإجابة النموذجية

[موقع المناهج](#) ⇨ [المناهج القطرية](#) ⇨ [المستوى الأول](#) ⇨ [علوم الحاسب](#) ⇨ [الفصل الثاني](#) ⇨ [الملف](#)

تاريخ إضافة الملف على موقع المناهج: 2024-06-02 21:40:10

إعداد: مدرسة الأندلس

التواصل الاجتماعي بحسب المستوى الأول



اضغط هنا للحصول على جميع روابط "المستوى الأول"

روابط مواد المستوى الأول على تلغرام

[الرياضيات](#)

[اللغة الانجليزية](#)

[اللغة العربية](#)

[التربية الاسلامية](#)

المزيد من الملفات بحسب المستوى الأول والمادة علوم الحاسب في الفصل الثاني

[أوراق عمل نهاية الفصل مع الإجابة النموذجية](#)

1

[أوراق عمل نهاية الفصل غير محابة](#)

2

[أوراق عمل نهاية الفصل مع الإجابة النموذجية مدرسة الأندلس](#)

3

[أوراق عمل نهاية الفصل غير محابة مدرسة الأندلس](#)

4

[أوراق عمل نهاية الفصل مدرسة الخور مع الإجابة النموذجية](#)

5

مدرسة الأندلس الخاصة للبنات
العام الأكاديمي 2024/2023
نهاية الفصل الدراسي الثاني



أوراق عمل إثرائية وإجاباتها

مادة الحاسب الآلي

الصف: الثاني

اسم الطالبة/.....

الصف والشعبة /.....

الوحدة الأولى: أنا أنظم ملفاتي

11

السؤال الأول: الأسئلة الموضوعية:

اختار الإجابة الصحيحة:

1.1 حفظ النصوص، الصور، الصوت والفيديو داخل الحاسوب تسمى.....:

1.1

6

A الملف.

B البرنامج.

C الصورة.

1

1.2 ما هو البرنامج الذي يستخدم لإنشاء الملف النصي؟

1.2



A



B



C

1

1.3 ما هو البرنامج الذي يستخدم لإنشاء الملف الصوري؟

1.3



A





B



C






1

 <p>ما هو حجم الملف التالي؟</p>	<p>1.4</p>	
<p>6 KB</p>	<p>A</p>	<p></p>
<p>20 KB</p>	<p>B</p>	<p>1</p>
<p>18 KB</p>	<p>C</p>	<p></p>
<p>من أنواع الملفات "ملف نصي":</p>		<p>1.5</p>
	<p>A</p>	<p></p>
	<p>B</p>	<p>1</p>
	<p>C</p>	<p></p>
<p>من أنواع الملفات "ملف صوري".</p>		<p>1.6</p>
	<p>A</p>	<p></p>
	<p>B</p>	<p>1</p>
	<p>C</p>	<p></p>

الأسئلة المقالية: (5 درجات)

5

السؤال الثاني: صل العمود (أ) مع ما يناسبه من العمود (ب) : (5 درجات)

(ب)	(أ)
	ملف بصوري
	ملف نصي
	ملف فيديو
	المجلد
	صورة مدرستي

الوحدة الثانية: أنا أزور العالم



10

5

السؤال الأول: الأسئلة الموضوعية:

اختر الإجابة الصحيحة:

<p>قواعد التصفح الآمن للإنترنت " استخدام دوماً اسماً مستعاراً":</p>	<p>1.1</p>
<p></p>	<p>A</p>
<p></p>	<p>B</p>
<p></p>	<p>C</p>
<p>قواعد التصفح الآمن للإنترنت " تجنب الضغط على الإعلانات":</p>	<p>1.2</p>
<p></p>	<p>A</p>
<p></p>	<p>B</p>
<p></p>	<p>C</p>
<p>قواعد التصفح الآمن للإنترنت " أستخدم برامج الحماية من الفيروسات":</p>	<p>1.3</p>
<p></p>	<p>A</p>




	<p>B</p>	
	<p>C</p>	

<p>تستخدم صفحات الويب أنواع مختلفة من المعلومات منها " النص ":</p>		<p>1.4</p>
<p>المها هو نوع من الظباء الصحراوية التي تقطن شبه الجزيرة العربية وأجزاء مختلفة من قارة أفريقيا، وللحفاظ على حيوان المها العربي من الانقراض أقامت دولة قطر العديد من المحميات الطبيعية.</p>	<p>A</p>	
	<p>B</p>	<p>1</p>
	<p>C</p>	

<p>تستخدم صفحات الويب أنواع مختلفة من المعلومات منها " الصورة ":</p>		<p>1.5</p>
<p>المها هو نوع من الظباء الصحراوية التي تقطن شبه الجزيرة العربية وأجزاء مختلفة من قارة أفريقيا، وللحفاظ على حيوان المها العربي من الانقراض أقامت دولة قطر العديد من المحميات الطبيعية.</p>	<p>A</p>	
	<p>B</p>	<p>1</p>
	<p>C</p>	

5

السؤال الثاني: صل العمود (أ) مع ما يناسبه من العمود (ب) : (5 درجات)

(ب)	(أ)
اسمي الحقيقي	اسم مستعار مناسب
اسم فاكهتي المفضلة	اسم مستعار غير مناسب
	أنواع المعلومات " نص "
	أنواع المعلومات " صورة "
	متصفح الويب

الوحدة الثالثة: البرمجة الرسومية

13

5





السؤال الأول: الأسئلة الموضوعية:

اختار الإجابة الصحيحة:

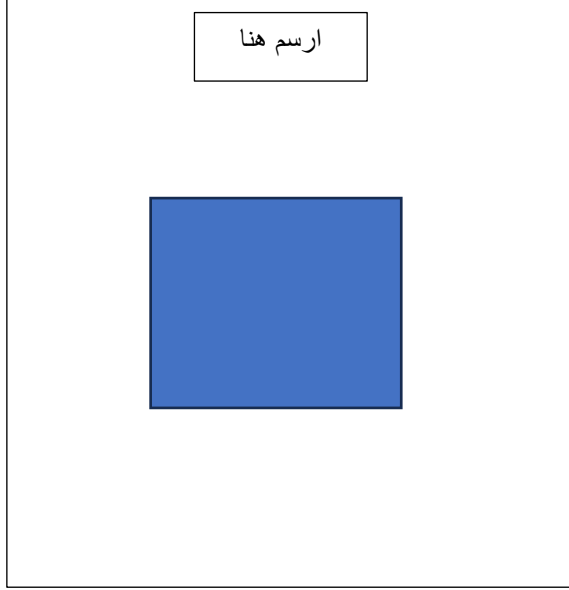
<p>الأوامر هي التعليمات التي تتلقاها الحواسيب لتستطيع تأدية مهامها:</p>	1.1
<p>A </p>	
<p>B </p>	1
<p>C </p>	
<p>برنامج TurtleArt يستخدم أوامر بسيطة في إنشاء برنامج لرسم أشكال هندسية ورسومات فنية:</p>	1.2
<p>A </p>	
<p>B </p>	1
<p>C </p>	
<p>ما هو الأمر الذي يستخدم لتحريك السلحفاة إلى الأمام:</p>	1.3
<p>A </p>	1

	100	<input type="checkbox"/>	B
	100	<input checked="" type="checkbox"/>	C

	ما هو الأمر الذي يستخدم لتحريك السلحفاة إلى الخلف:	1.4	
	90	<input type="checkbox"/>	A
	100	<input checked="" type="checkbox"/>	B
	100	<input type="checkbox"/>	C
		1	

	ما هو الأمر الذي يستخدم لاستدارة السلحفاة إلى اليمين:	1.5	
	90	<input checked="" type="checkbox"/>	A
	100	<input type="checkbox"/>	B
	100	<input type="checkbox"/>	C
		1	

السؤال الثاني: أجب عن الأسئلة التالية: (4 درجات)

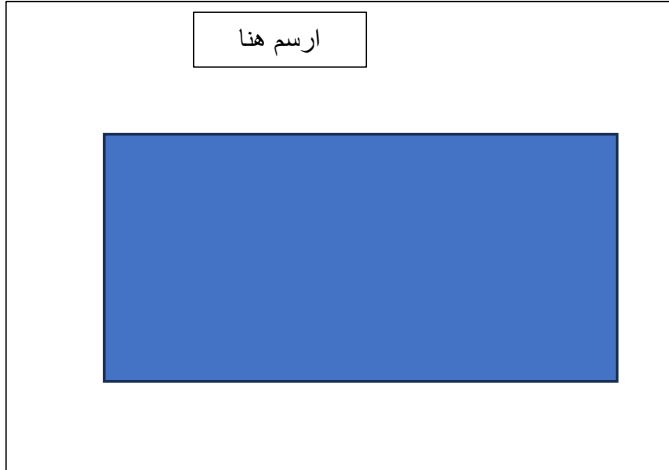


اكتب اسم الشكل: مربع

أ- تتبع الخطوات التالية وارسم الشكل؟

1. ارسم خطأً.
2. استدر لليمين.
3. ارسم خطأً بنفس القياس.
4. استدر لليمين.
5. ارسم خطأً بنفس القياس.
6. استدر لليمين.
7. ارسم خطأً بنفس القياس.
8. استدر لليمين.

ب - تتبع الخطوات التالية وارسم مستطيل؟ (4 درجات)



اكتب اسم الشكل: مستطيل

1. ارسم خطأً بطول 60 سم.
2. استدر لليمين.
3. ارسم خطأً بطول 20 سم.
4. استدر لليمين.
5. ارسم خطأً بطول 60 سم.
6. استدر لليمين.
7. ارسم خطأً بطول 20 سم.
8. استدر لليمين.

انتهت الأسئلة