

تم تحميل هذا الملف من موقع المناهج القطرية



## أوراق عمل في تاريخ قطر والهوية الوطنية والخصائص الطبيعية لدولة قطر مع الإجابة النموذجية

موقع المناهج ← المناهج القطرية ← المستوى العاشر ← اجتماعيات ← الفصل الأول ← أوراق عمل ← الملف

تاريخ إضافة الملف على موقع المناهج: 2024-10-15 21:15:15

ملفات اكتب للمعلم اكتب للطالب | اختبارات الكترونية | اختبارات | حلول | عروض بوربوينت | أوراق عمل  
منهج انجليزي | ملخصات وتقارير | مذكرات وبنوك | الامتحان النهائي | للمدرس

المزيد من مادة  
اجتماعيات:

### التواصل الاجتماعي بحسب المستوى العاشر



الرياضيات



اللغة الانجليزية



اللغة العربية



التربية الاسلامية



المواد على تلغرام

صفحة المناهج  
القطرية على  
فيسبوك

### المزيد من الملفات بحسب المستوى العاشر والمادة اجتماعيات في الفصل الأول

أوراق عمل في تاريخ قطر والهوية الوطنية والخصائص الطبيعية لدولة قطر غير مجابة

1

أوراق عمل إثرائية منتصف الفصل جغرافيا وتاريخ قطر

2

أوراق عمل حول الجغرافيا والتاريخ لدولة قطر قبل اختبار منتصف الفصل

3

أوراق عمل اثرائية قبل امتحان منتصف الفصل في تاريخ دولة قطر غير مجاب

4


جدول مواصفات اختبار نهاية الفصل

5



العام الدراسي  
2025-2024

الصف  
العاشر



# مادة الدراسات الاجتماعية

تدريبات إثرائية - واجبات

منهاج منتصف الفصل الدراسي الأول  
الوحدة الأولى + الوحدة الثانية + الوحدة الثالثة

اسم الطالب: .....

الصف: العاشر .....

ملحوظة هامة: هذه الأسئلة إثرائية ولا تغني عن الكتاب المدرسي وهو المصدر الرئيس للتعلم



# الوحدة الأولى:

## الخصائص الطبيعية

### لدولة قطر



التاريخ	الدرس	الأسبوع
01 – 05/09/2024م	الموقع واشكال السطح	1

تعليمات  
اختر الإجابة الصحيحة لكل من الأسئلة من 1 إلى 4 وذلك بوضع علامة X داخل المربع المجاور للإجابة الصحيحة.

1- تقع دولة قطر في منتصف ساحل الخليج العربي من الجهة :

الشمالية

الجنوبية

الشرقية

الغربية

2- مع أي الدول تتصل دولة قطر بحدود برية؟

البحرين

إيران

الإمارات

السعودية

3- تبلغ مساحة دولة قطر نحو:

10610 كم<sup>2</sup>

11610 كم<sup>2</sup>

12610 كم<sup>2</sup>

13610 كم<sup>2</sup>



4- تمتد قطر فلكيا بين دائرتي عرض:

( 24:27 ° و 26:10 ° شمالا )

( 24:27 و 26:10 جنوبا )

( 25:27 و 26:10 جنوبا )

( 25:27 و 26:10 شمالا )

عند الإجابة على الأسئلة من 5 إلى 6، اكتب إجابتك في الفراغ المخصص للإجابة:

تعليمات

5	وضح أهمية الموقع الاستراتيجي لدولة قطر:
	الإجابة: 1- سهولة الاتصال بشمال وجنوب الخليج العربي 2- الاستفادة من مغاصات اللؤلؤ وصيد الأسماك قديما واستخراج النفط والغاز حديثا 3- أصبحت قطر معبرا للعديد من السفن في الخليج العربي
6	اذكر العوامل المؤثرة في مناخ في دولة قطر؟
	الإجابة: 1- موقع الفلكي بالنسبة لدوائر العرض 2- الموقع الجغرافي والمؤثرات البحرية. 3- التضاريس.



التاريخ	الدرس	الأسبوع
08 – 12 / 09 / 2024م	الموقع واشكال السطح	2

تعليمات  
اختر الإجابة الصحيحة لكل من الأسئلة من 1 إلى 5 وذلك بوضع علامة X داخل المربع المجاور للإجابة الصحيحة.

1- تتميز الخلجان بأنها ألسنة من مياه البحر أكثر اتساعاً من:

الأخوار

السبخات

الدوحات

الشواطئ الرملية

2- أي مما يلي يعد طية مقعرة في دولة قطر؟

تلال دخان

سبخة الخفوس

دوحة الحصين

رأس ابروق



3- يطلق على التجمعات الرملية التي تكونها الرياح:

الخراسيع

الدحول

الكثبان الرملية

الأودية الجافة

4- في أي شهر تنخفض درجة الحرارة في دولة قطر لأدنى معدلاتها؟

يناير

فبراير

مارس

إبريل

5- ترتفع درجة الحرارة في دولة قطر لأعلى معدلاتها بسبب تعامد الشمس على مدار:

الجدي

السرطان

جرينتش

الاستواء



تعليمات

عند الإجابة على الأسئلة من 6 إلى 9، اكتب إجابتك في الفراغ المخصص للإجابة:

6	عدد أشكال الأرض الصحراوية في دولة قطر.									
الإجابة:										
1- المنخفضات 2- الروضات 3- الكثبان الرملية 4- الدحول والخراسيع 5- التلال 6- الأودية الجافة										
7	وضح أهمية الفشوت في دولة قطر؟									
الإجابة: 1- مقصدا للسياحة 2- يوجد في بعضها النفط والغاز الطبيعي 3- مصدرا للغذاء والمأوى للأسماك والكاننات البحري 4- حماية الشواطئ من التآكل										
8	قارن بين الخلجان والدوحات من حيث التعريف وأمثلة لكل منهما:									
<table border="1"><thead><tr><th>الدوحات</th><th>الخلجان</th><th>التعريف</th></tr></thead><tbody><tr><td>انحناء ساحل البحر عند اليابس على شكل قوس</td><td>امتداد البحر داخل اليابس من خلال فتحات واسعة</td><td></td></tr><tr><td>دوحة الدوحة ودوحة أم الماء</td><td>خليج سلوى - زكريت</td><td>الأمثلة</td></tr></tbody></table>		الدوحات	الخلجان	التعريف	انحناء ساحل البحر عند اليابس على شكل قوس	امتداد البحر داخل اليابس من خلال فتحات واسعة		دوحة الدوحة ودوحة أم الماء	خليج سلوى - زكريت	الأمثلة
الدوحات	الخلجان	التعريف								
انحناء ساحل البحر عند اليابس على شكل قوس	امتداد البحر داخل اليابس من خلال فتحات واسعة									
دوحة الدوحة ودوحة أم الماء	خليج سلوى - زكريت	الأمثلة								





قارن بين الرؤوس الأرضية والأخوار من حيث التعريف وأمثلة لكل منهما:		9
الأخوار	الرؤوس الأرضية	وجه المقارنة
امتداد البحر داخل اليابس من خلال فتحات ضيقة	امتداد اليابس داخل البحر	التعريف
خور الخور وخور العديد وخور الذخيرة	رأس أبو عبود، ورأس لفان، رأس أبو فنطاس، رأس دخان، رأس ركن	الأمثلة





التاريخ	الدرس	الأسبوع
15 – 19 / 09 / 2024م	المناخ- والحياة الفطرية وموارد المياه	3

اختر الإجابة الصحيحة لكل من الأسئلة من 1 إلى 5 وذلك بوضع علامة X داخل المربع المجاور للإجابة الصحيحة.

تعليمات

1- تقع دولة قطر ضمن الإقليم المناخي:

الاستوائي

المداري

الصحراوي

الصيني

2- أي مما يلي من نباتات الروضات في دولة قطر؟

السدر

القرمل

القرم

الثمام

3- تصنف رياح الكوس في دولة قطر ضمن الرياح:

العكسية

المحلية

التجارية

الموسمية



4- ترتفع نسبة الملوحة والتكوينات الكبريتية بدولة قطر في حوض المياه الجوفي :

الشمالي

الجنوبي

الشرقي

الغربي

5- يقتصر تأثير الخليج العربي في مناخ دولة قطر على عنصر:

الرياح

الحرارة

الرطوبة

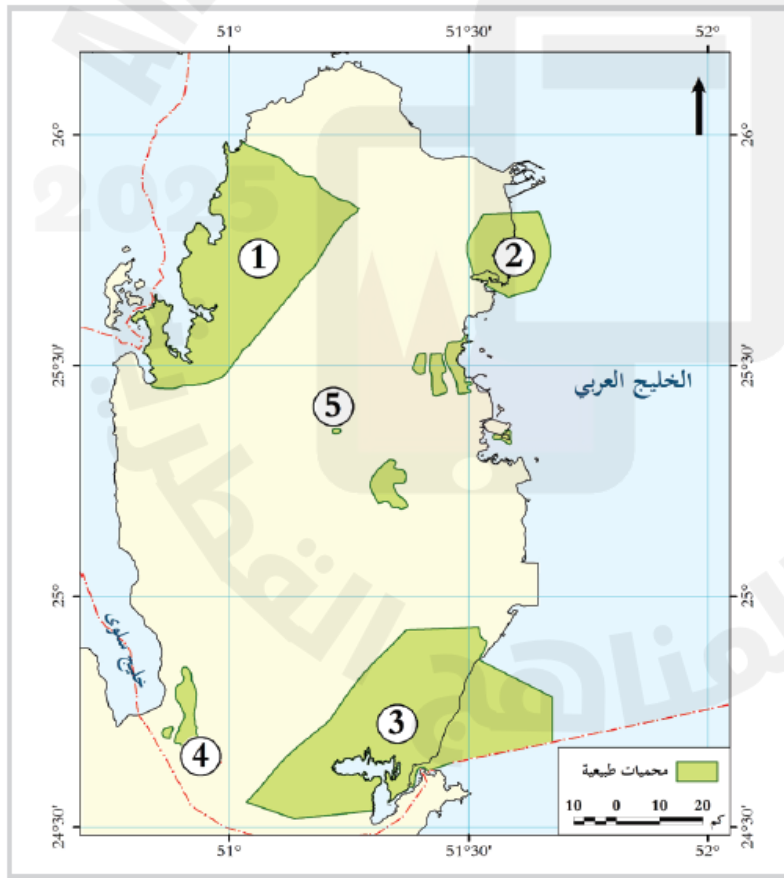
الضغط الجوي



عند الإجابة على الأسئلة من 6 إلى 9، اكتب إجابتك في الفراغ المخصص للإجابة:

تعليمات

6	ما أهمية النبات الطبيعي في دولة قطر.
الإجابة:	
1- يستخدم كوقود 2- كمصدات للرياح 3-رعي الحيوانات 4-حماية الشواطئ من التآكل 5-تتغذى عليه الأسماك 5-تثبيت التربة 6- علاج بعض الامراض 7- بيئة لحياة بعض الحيوانات والطيور والحشرات البرية	
7	أمامك خريطة صماء لدولة قطر؛ اكتب أسماء المحميات المُشار إليها بالرموز الآتية:



- 1- محمية : .. الريم.
- 2- محمية : ... الذخيرة
- 3- محمية : خورالعديد
- 4- محمية : ...العريق
- 5- محمية : .. الشيحانية



8 ما المشكلات التي تتعرض لها أحواض المياه الجوفية في دولة قطر؟

الإجابة:

1- انخفاض منسوبها.

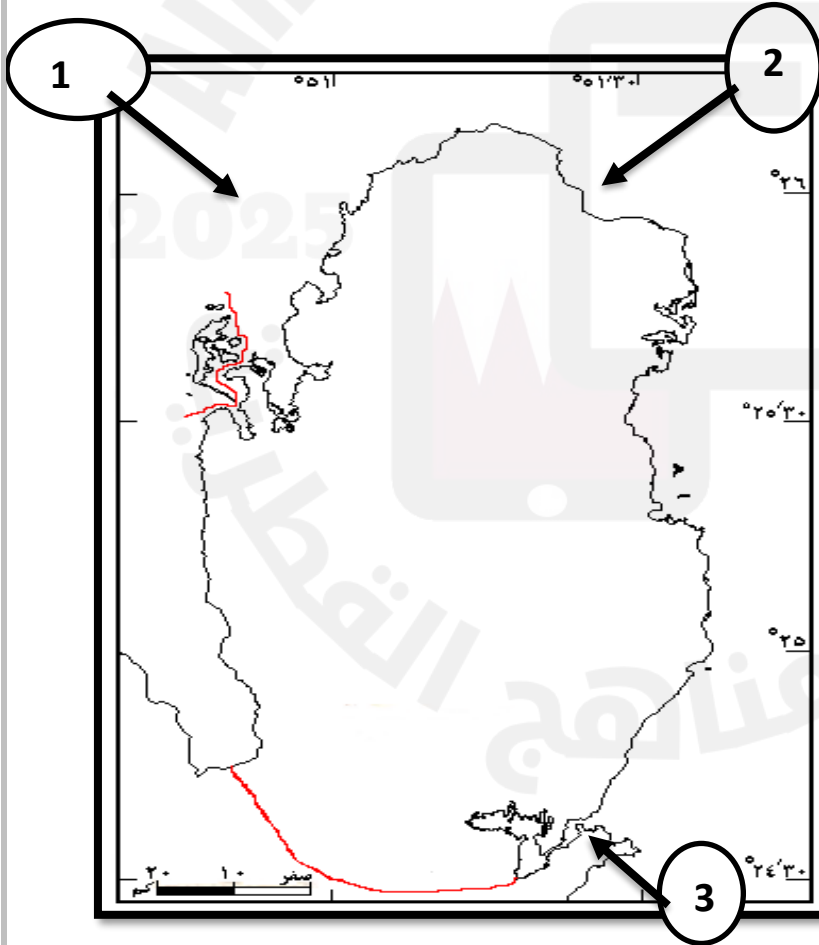
2- ارتفاع ملوحتها.

3- الاستنزاف الجائر.

4- اختلاطها بمياه البحر.

9 أمامك خريطة صماء لدولة قطر أكتب أنواع الرياح المشار إليها على الخريطة الآتية بحسب اتجاهها:

الإجابة:



1- الرياح العكسية الشمالية

الغربية

2- الرياح التجارية الشمالية

الشرقية

3- الرياح المحلية الجنوبية

الشرقية



# الوحدة الثانية:

## تاريخ قطر الحديث



التاريخ	الدرس	الأسبوع
2024 /09/26 -22م	تاريخ قطر الحديث -الشيخ محمد بن ثاني ونشأة دولة قطر	4

اختر الإجابة الصحيحة لكل من الأسئلة من 1 إلى 3 وذلك بوضع علامة x داخل المربع المجاور للإجابة الصحيحة.

تعليمات

1- أطلق لقب شيخ الدوحة عام 1863م على الشيخ :

ثاني بن محمد

محمد بن ثاني

أحمد بن محمد بن ثاني

جاسم بن محمد بن ثاني

2- في أي المدن استقرت أسرة (آل ثاني) عام 1848م ؟

الدوحة

فويرط

الزبارة

الرويس

3- وُلد الشيخ (محمد بن ثاني) في مدينة :

الرويس

فويرط

الزبارة

زكريت



تعليمات

عند الإجابة على الأسئلة من 4 إلى 5، اكتب إجابتك في الفراغ المخصص للإجابة:

4	فسر سبب هجرة القبائل العربية من شبه الجزيرة العربية إلى دولة قطر.
الإجابة:	
1- انتشار القحط والجفاف	
2- صعوبة الأوضاع الاقتصادية والمعيشية .	
3- ساد النظام القبلي في الجزيرة العربية.	
5	ما النتائج المترتبة على توقيع محمد بن ثاني لمعاهدة عام 1868م مع بريطانيا؟
الإجابة:	
1- المحافظة على الأمن والسلام في البلاد	
2- المحافظة على السلام البحري .	
3- إقامة علاقات طيبة مع شيوخ القبائل الأخرى والرجوع لبريطانيا لفض المنازعات التي قد تحدث بين شيوخ القبائل.	
4- ظهور قطر ككيان سياسي مستقل	





التاريخ	الدرس	الاسبوع
9/29 – 10/3 / 2024م	تاريخ قطر الحديث - الشيخ جاسم بن محمد بن ثاني وتأسيس إمارة قطر	5

اختر الإجابة الصحيحة لكل من الأسئلة من 1 إلى 2 وذلك بوضع علامة x داخل المربع المجاور للإجابة الصحيحة.

تعليمات

1- نشأ الشيخ (جاسم بن محمد بن ثاني) في مدينة:

الدوحة

فويرط

الزبارة

الرويس

2- في أي الأعوام تولى الشيخ (جاسم بن محمد بن ثاني) الحكم في قطر؟

1870م

1874م

1878م

1880م



تعليمات عند الإجابة على الأسئلة من 3 إلى 5، اكتب إجابتك في الفراغ المخصص للإجابة:

تعليمات

	اثبت بالأدلة التاريخية صحة العبارة الآتية	
	"نجح الشيخ (جاسم بن محمد بن ثاني) في النهوض بإمارة قطر على المستوى الداخلي":	3
الإجابة: 1- توحيد القبائل القطرية . 2- الاهتمام بالتعليم. 3- تعزيز تجارة اللؤلؤ في المنطقة. 4- وطم علاقة قطر مع المناطق المجاورة.		
	ما الصعوبات التي واجهت الشيخ (جاسم بن محمد بن ثاني) منذ توليه الحكم في قطر؟	4
الإجابة: 1- قلة الموارد الطبيعية في قطر. 2- تعرض سواحل قطر للقرصنة البحرية. 3- زيادة الأطماع البريطانية للسيطرة على قطر.		
	ما النتائج المترتبة على معركة الوجبة عام 1983م	5
الإجابة: 1- انتصار القطريين على العثمانيين. 2- إطلاق سراح الشيخ أحمد بن محمد ومن معه . 3- سحب القوات العثمانية إلى الأحساء. 4- عزل السلطان عبد الحميد الثاني الوالي العثماني.		



# الوحدة الثالثة: الهوية الوطنية والتحديات العالمي



التاريخ	الدرس	الاسبوع
6 - 10/10 / 2024م	المواطنة - الدرس الثاني - الهوية الوطنية والعولمة	6

اختر الإجابة الصحيحة لكل من الأسئلة من 1 إلى 2 وذلك بوضع علامة x داخل المربع المجاور للإجابة الصحيحة.

تعليمات

1- أي مما يلي من إيجابيات مواقع التواصل الاجتماعي؟

التحايل والتزوير

نشر الأفكار الهدامة

إدمان الإنترنت وإهدار الوقت

أسرع وسيلة لتداول الأفكار والمعلومات

2- أصدرت دولة قطر قانون الجرائم الإلكترونية في عام :

2013م

2014م

2015م

2016م



تعليمات عند الإجابة على الأسئلة من 3 إلى 7، اكتب إجابتك في الفراغ المخصص للإجابة:

تعليمات

3	قارن بين الآثار الإيجابية والآثار السلبية للعولمة الثقافية على الهوية الوطنية في الجدول أدناه.				
	<table border="1"><thead><tr><th>الآثار السلبية</th><th>الآثار الإيجابية</th></tr></thead><tbody><tr><td><ul style="list-style-type: none"><li>- تقليد الغرب في سلوكياتهم .</li><li>- إحلال اللغات الغربية مكان اللغة العربية.</li><li>- التأثير في ثقافة الشعوب وطمس هويتها .</li></ul></td><td><ul style="list-style-type: none"><li>- البعد عن الفكر التقليدي المتجمد .</li><li>- زيادة التنوع الثقافي.</li><li>- تنوع وسائل التعبير عن الثقافة والهوية الوطنية.</li></ul></td></tr></tbody></table>	الآثار السلبية	الآثار الإيجابية	<ul style="list-style-type: none"><li>- تقليد الغرب في سلوكياتهم .</li><li>- إحلال اللغات الغربية مكان اللغة العربية.</li><li>- التأثير في ثقافة الشعوب وطمس هويتها .</li></ul>	<ul style="list-style-type: none"><li>- البعد عن الفكر التقليدي المتجمد .</li><li>- زيادة التنوع الثقافي.</li><li>- تنوع وسائل التعبير عن الثقافة والهوية الوطنية.</li></ul>
الآثار السلبية	الآثار الإيجابية				
<ul style="list-style-type: none"><li>- تقليد الغرب في سلوكياتهم .</li><li>- إحلال اللغات الغربية مكان اللغة العربية.</li><li>- التأثير في ثقافة الشعوب وطمس هويتها .</li></ul>	<ul style="list-style-type: none"><li>- البعد عن الفكر التقليدي المتجمد .</li><li>- زيادة التنوع الثقافي.</li><li>- تنوع وسائل التعبير عن الثقافة والهوية الوطنية.</li></ul>				
4	عدد وسائل انتقال العولمة الثقافية.				
	الإجابة: - وسائل التواصل الاجتماعي . 2- القنوات الفضائية. 3- الصحافة الدولية .				
5	قارن بين إيجابيات وسلبيات وسائل التواصل الاجتماعي في الجدول أدناه.				
	<table border="1"><thead><tr><th>السلبيات</th><th>الإيجابيات</th></tr></thead><tbody><tr><td><ul style="list-style-type: none"><li>1- التحايل والتزوير.</li><li>2- نشر الشائعات .</li><li>3- إدمان الانترنت وإهدار الوقت .</li></ul></td><td><ul style="list-style-type: none"><li>1- تساعد طلاب العلم والباحثين .</li><li>2- سرعة تداول المعلومات .</li><li>3- تساعد في الأعمال الخيرية والتطوعية</li></ul></td></tr></tbody></table>	السلبيات	الإيجابيات	<ul style="list-style-type: none"><li>1- التحايل والتزوير.</li><li>2- نشر الشائعات .</li><li>3- إدمان الانترنت وإهدار الوقت .</li></ul>	<ul style="list-style-type: none"><li>1- تساعد طلاب العلم والباحثين .</li><li>2- سرعة تداول المعلومات .</li><li>3- تساعد في الأعمال الخيرية والتطوعية</li></ul>
السلبيات	الإيجابيات				
<ul style="list-style-type: none"><li>1- التحايل والتزوير.</li><li>2- نشر الشائعات .</li><li>3- إدمان الانترنت وإهدار الوقت .</li></ul>	<ul style="list-style-type: none"><li>1- تساعد طلاب العلم والباحثين .</li><li>2- سرعة تداول المعلومات .</li><li>3- تساعد في الأعمال الخيرية والتطوعية</li></ul>				



	اقتراح حلولاً للحد من الآثار السلبية لوسائل التواصل الاجتماعي.	6
	<p>الإجابة: 1- سن القوانين التي تجرم الاستخدام السيء.</p> <p>2- مراقبة الأبناء أثناء استخدامهم للإنترنت.</p> <p>3- إنشاء مواقع مفيدة.</p> <p>4- التوعية بأهمية وسائل التواصل الاجتماعي والتوعية بمخاطرها.</p>	
	عدد طرق مواجهة العولمة.	7
	<p>الإجابة:</p> <p>1- الاعتزاز بالهوية الوطنية.</p> <p>2- تزكية روح حب الوطن.</p> <p>3- مراقبة مناهج الجامعات والمدارس الأجنبية</p>	

انتهت الأسئلة