

تم تحميل هذا الملف من موقع المناهج القطرية



أوراق عمل حول الجغرافيا والتاريخ لدولة قطر قبل اختبار منتصف الفصل

موقع المناهج ← المناهج القطرية ← المستوى العاشر ← اجتماعيات ← الفصل الأول ← أوراق عمل ← الملف

تاريخ إضافة الملف على موقع المناهج: 20:53:24 2024-10-15

ملفات اكتب للمعلم اكتب للطالب | اختبارات الكترونية | اختبارات | حلول | عروض بوربوينت | أوراق عمل
منهج انجليزي | ملخصات وتقارير | مذكرات وبنوك | الامتحان النهائي | للمدرس

المزيد من مادة
اجتماعيات:

التواصل الاجتماعي بحسب المستوى العاشر



صفحة المناهج
القطرية على
فيسبوك

الرياضيات

اللغة الانجليزية

اللغة العربية

التربية الاسلامية

المواد على تلغرام

المزيد من الملفات بحسب المستوى العاشر والمادة اجتماعيات في الفصل الأول

أوراق عمل اثرائية قبل امتحان منتصف الفصل في تاريخ دولة قطر غير مجاب

1

جدول مواصفات اختبار نهاية الفصل

2

تحميل كتاب الطالب

3

كتاب المعلم الفصل الأول 2022-2023م

4

كتاب الطالب الفصل الأول 2022-2023

5

الصف العاشر

أولاً: اختر الإجابات الصحيحة من بين البدائل الآتية:

1. "موقع الدولة بالنسبة للمسطحات المائية واليابس"؛ يشير التعريف السابق إلى مفهوم:
أ- الموقع الفلكي ب- الموقع الجغرافي ج- الموقع الإستراتيجي د- الموقع الحدودي
2. أيّ الدّول الآتية تتصل بدولة قطر عبر المياه الإقليمية من جهة الشرق؟
أ- مملكة البحرين ب- سلطنة عمان ج- دولة الإمارات العربية المتحدة د- المملكة العربية السعودية
3. تمتدّ دولة قطر على شكل شبه جزيرة في مياه:
أ- خليج عدن ب- الخليج العربي ج- البحر الأحمر د- البحر الأبيض المتوسط

ثانياً: أجب عن الأسئلة الآتية:

1- اذكر حدود دولة قطر:

- أ- من جهة الشرق:
- ب- من جهة الغرب والشمال الغربي:
- ج- من جهة الجنوب:

2- بم تفسّر: تمتلك دولة قطر أكثر من 700 كم من السواحل؟

- أ-
- ب-

3- تتمتع دولة قطر بموقع استراتيجي مهم؛ برهن على صحة العبارة السابقة.

- أ-
- ب-
- ج-

الصف العاشر

أولاً: اختر الإجابات الصحيحة من بين البدائل الآتية:

1. أي من الأشكال الآتية عبارة عن طية مقعرة؟
أ- طية قطر ب- رأس أبروق ج- تلال دخان د- خليج زكريت
2. أي من أشكال سطح الأرض الآتية تتألف من تعاقب الصخور الصلبة والليننة؟
أ- التلال ب- الدحول ج- الخراسيع د- الأودية الجافة
3. تعدّ شبه جزيرة قطر طية محدّبة ظهرت خلال الزمن الجيولوجي:
أ- الأول ب- الثاني ج- الثالث د- الرابع
4. كلّ ما يأتي من أشكال سطح الأرض الساحلية، ما عدا:
أ- الأخوار ب- الخلجان ج- الدوحات د- الكثبان الرملية

ثانياً: أجب عن الأسئلة الآتية:

1- ما العوامل التي ساعدت على تشكيل المنخفضات بدولة قطر؟

- أ-
- ب-
- ج-
- 2- وضّح أهميّة الفشوت:
- أ-
- ب-
- ج-

3- قارن بين الخلجان والدوحات من حيث التعريف مع تقديم أمثلة.

وجه المقارنة	الخلجان	الدوحات
التعريف
أمثلة

الصف العاشر

أولاً: اختر الإجابات الصحيحة من بين البدائل الآتية:

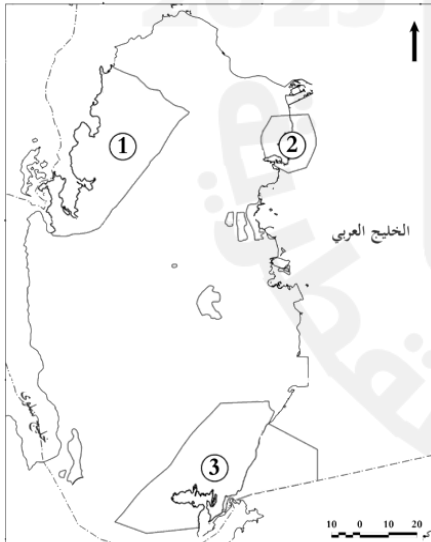
1. تصنّف دولة قطر حسب كمية الأمطار ضمن المناطق :
أ- الجافة ب- الرطبة ج- الممطرة د- شبه الجافة
2. من النتائج المترتبة على الموقع الفلكي لدولة قطر؛ وقوعها ضمن الإقليم :
أ- الجبلي ب- المداري ج- الصحراوي د- الاستوائي
3. ترتفع درجة الحرارة في دولة قطر إلى أعلى معدّلاتها في شهر :
أ- مايو ب- يناير ج- يوليو د- أغسطس
4. أيّ من الآتي يصنّف من نباتات الروضات :
أ- السدر ب- القرم ج- الثمام د- القرمل

ثانياً: أجب عن الأسئلة الآتية:

1- عدّد أنواع الرياح التي تهبّ على دولة قطر:

- أ-
- ب-
- ج-

2- من الخريطة المقابلة لدولة قطر، وضّح ما تشير إليه الأرقام الآتية.



- 1- محمية.....
- 2- محمية.....
- 3- محمية.....

3- وضّح أهمية تنوع الخصائص الطبيعية بدولة قطر.

- أ-
- ب-
- ج-
- د-

الصف العاشر

أولاً: اختر الإجابات الصحيحة من بين البدائل الآتية:

1. انتقلت أسرة آل ثاني من منطقة سلوى إلى قطر، وأول منطقة توجهوا إليها هي:

أ- الدوحة ب- الزيارة ج- الرويس د- فويرط

2. أي من أنظمة الحكم الآتية كان سائدا في معظم أنحاء شبه الجزيرة العربية قبل نشأة إمارة قطر؟

أ- القبلي ب- الملكي ج- الجمهوري د- الديموقراطي

3. أطلق لقب "شيخ الدوحة" عام 1863 م على الشيخ:

أ- ثاني بن محمد ب- محمد بن ثاني ج- أحمد بن محمد بن ثاني د- جاسم بن محمد بن ثاني

4. أدخلت معاهدة 1868 م قطر ضمن سلسلة معاهدات:


أ- السلام البحري ب- السلام الدائم ج- الأمن والسلام د- الانسحاب العسكري

ثانياً: أجب عن الأسئلة الآتية:

1- اذكر أهم ما تضمنته اتفاقية 1868 م التي وقّعها الشيخ محمد بن ثاني مع بريطانيا.

أ-
ب-
ج-

2- رتب على الخط الزمني الذي أمامك حكام دولة قطر من الأقدم إلى الأحدث حسب التسلسل الزمني الصحيح:
(الشيخ أحمد بن علي آل ثاني - الشيخ محمد بن ثاني - الشيخ خليفة بن حمد آل ثاني - الشيخ عبد الله بن جاسم آل ثاني)



3- "اشتهر الشيخ محمد بن ثاني بالعديد من الصفات التي أسهمت في نجاحه في توحيد القبائل القطرية"؛
دلل على صحة العبارة التاريخية السابقة.

أ-
ب-
ج-

الصف العاشر

أولاً: اختر الإجابات الصحيحة من بين البدائل الآتية:

1. "موقع الدولة بالنسبة للمسطحات المائية واليابس"؛ يشير التعريف السابق إلى مفهوم:
أ- الموقع الفلكي ب- الموقع الجغرافي ج- الموقع الإستراتيجي د- الموقع الحدودي
2. أيّ الدّول الآتية تتصل بدولة قطر عبر المياه الإقليمية من جهة الشرق؟
أ- مملكة البحرين ب- سلطنة عمان ج- دولة الإمارات العربية المتحدة د- المملكة العربية السعودية
3. تمتدّ دولة قطر على شكل شبه جزيرة في مياه:
أ- خليج عدن ب- الخليج العربي ج- البحر الأحمر د- البحر الأبيض المتوسط

ثانياً: أجب عن الأسئلة الآتية:

- 1- اذكر حدود دولة قطر:
أ- من جهة الشمال والشرق والغرب: مياه الخليج العربي.
ب- من جهة الغرب والشمال الغربي: مملكة البحرين.
ج- من جهة الجنوب: المملكة العربية السعودية.
- 2- بم تفسّر: تمتلك دولة قطر أكثر من 700 كم من السواحل؟
أ- طبيعتها كشبه جزيرة.
ب- كثرة تعاريج سواحلها.
- 3- تتمتع دولة قطر بموقع استراتيجي مهم؛ برهن على صحة العبارة السابقة.
أ- سهولة الاتصال بشمال وجنوب منطقة الخليج العربي.
ب- الاستفادة من مغاصات اللؤلؤ ومصائد الأسماك قديماً، والاستفادة من حقول النفط والغاز البحرية حديثاً.
ج- أصبحت قطر مَعْبَرًا مَلَحِيًّا للعديد من السفن التي تَعْبُر مياه الخليج العربي والعالم الخارجي.

الصف العاشر

أولاً: اختر الإجابات الصحيحة من بين البدائل الآتية:

1. أي من الأشكال الآتية عبارة عن طية مقعرة؟
أ- طية قطر ب- رأس أبروق ج- تلال دخان د- خليج زكريت
2. أي من أشكال سطح الأرض الآتية تتألف من تعاقب الصخور الصلبة والليننة؟
أ- التلال ب- الدحول ج- الخراسيع د- الأودية الجافة
3. تعدّ شبه جزيرة قطر طيةً محدّبة ظهرت خلال الزمن الجيولوجي:
أ- الأول ب- الثاني ج- الثالث د- الرابع
4. كلّ ما يأتي من أشكال سطح الأرض الساحلية، ما عدا:
أ- الأخوار ب- الخلجان ج- الدوحات د- الكثبان الرملية

ثانياً: أجب عن الأسئلة الآتية:

- 1- ما العوامل التي ساعدت على تشكيل المنخفضات بدولة قطر؟
أ- توفّر الصخور القابلة للذوبان مثل: الحجر الجيري.
ب- الشقوق والفواصل المنتشرة بالحجر الجيري.
ج- الأمطار الغزيرة أثناء العصر المطير.
2- وضّح أهمّية الفشوت:
أ- تُعدّ مقصداً للسياحة.
ب- يكمن في بعضها النفط، والغاز الطبيعي.
ج- تُعدّ مصدرًا للغذاء ومأوى للعديد من الأسماك والكائنات البحرية؛ مما جعلها مصائد للأسماك.
د- حماية الشواطئ والموانئ من التآكل بفعل أمواج البحر مثل: فشت العريف الذي يحيي ميناء مسيعيد >
3- قارن بين الخلجان والدوحات من حيث التعريف مع تقديم أمثلة.

وجه المقارنة	الخلجان	الدوحات
التعريف	هي السنة من مياه البحر أكثر اتساعاً من الأخوار تتوغل داخل اليابس.	عبارة عن تداخل ساحل البحر في اليابس على شكل مقوَس أو شبه دائري.
أمثلة	خليج سلوى، وخليج زكريت	دوحة الدوحة، ودوحة أم الماء

الصف العاشر

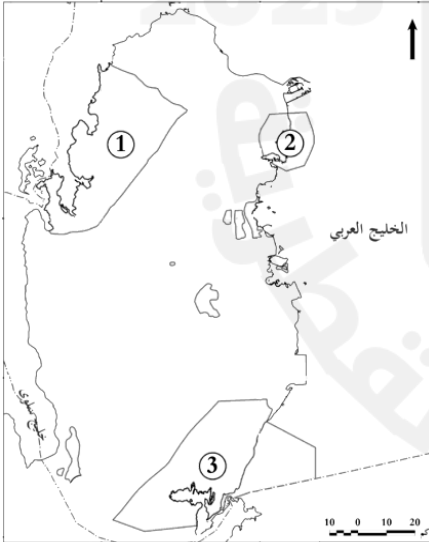
أولاً: اختر الإجابات الصحيحة من بين البدائل الآتية:

1. تصنّف دولة قطر حسب كمية الأمطار ضمن المناطق :
أ- الجافة ب- الرطبة ج- الممطرة د- شبه الجافة
2. من النتائج المترتبة على الموقع الفلكي لدولة قطر؛ وقوعها ضمن الإقليم :
أ- الجبلي ب- المداري ج- الصحراوي د- الاستوائي
3. ترتفع درجة الحرارة في دولة قطر إلى أعلى معدّلاتها في شهر :
أ- مايو ب- يناير ج- يوليو د- أغسطس
4. أيّ من الآتي يصنّف من نباتات الروضات :
أ- السدر ب- القرم ج- الثمام د- القرمل

ثانياً: أجب عن الأسئلة الآتية:

- 1- عدّد أنواع الرياح التي تهبّ على دولة قطر:
أ- الرياح التجارية.
ب- الرياح العكسية.
ج- الرياح المحلية.

2- من الخريطة المقابلة لدولة قطر، وضّح ما تشير إليه الأرقام الآتية.



1- محمية الريم

2- محمية الذخيرة

3- محمية خور العديد

3- وضّح أهمية تنوع الخصائص الطبيعية بدولة قطر.

- أ- الرؤوس الأرضية المتعمّقة في مياه البحر: ساعدت على قيام العديد من المنشآت الهامة عليها، مثل: محطات تحلية المياه.
- ب- وجود الدوحات: أدّى إلى إنشاء الموانئ مثل: ميناء الدوحة..
- ج- الحياة الفطرية بدولة قطر: تحافظ على التوازن

الصف العاشر

أولاً: اختر الإجابات الصحيحة من بين البدائل الآتية:

1. انتقلت أسرة آل ثاني من منطقة سلوى إلى قطر، وأول منطقة توجهوا إليها هي:
أ- الدوحة ب- الزبارة ج- الرويس د- فويرط
2. أي من أنظمة الحكم الآتية كان سائداً في معظم أنحاء شبه الجزيرة العربية قبل نشأة إمارة قطر؟
أ- القبلي ب- الملكي ج- الجمهوري د- الديموقراطي
3. أطلق لقب "شيخ الدوحة" عام 1863 م على الشيخ:
أ- ثاني بن محمد ب- محمد بن ثاني ج- أحمد بن محمد بن ثاني د- جاسم بن محمد بن ثاني
4. أدخلت معاهدة 1868 م قطر ضمن سلسلة معاهدات:
أ- السلام البحري ب- السلام الدائم ج- الأمن والسلام د- الانسحاب العسكري

ثانياً: أجب عن الأسئلة الآتية:

- 1- اذكر أهم ما تضمنته اتفاقية 1868 م التي وقّعها الشيخ محمد بن ثاني مع بريطانيا.
أ- المحافظة على الأمن والسلام والاستقرار في البلاد.
ب- المحافظة على السلام البحري وعدم الإبحار بغرض عدواني.
ج- الرجوع إلى بريطانيا لفض المنازعات التي قد تحدث في المنطقة، وإقامة علاقات طيبة مع شيوخ المنطقة.
- 2- رتب على الخط الزمني الذي أمامك حكام دولة قطر من الأقدم إلى الأحدث حسب التسلسل الزمني الصحيح:

(الشيخ أحمد بن علي آل ثاني - الشيخ محمد بن ثاني - الشيخ خليفة بن حمد آل ثاني - الشيخ عبد الله بن جاسم آل ثاني)



الشيخ محمد بن ثاني الشيخ عبد الله بن جاسم آل ثاني الشيخ أحمد بن علي آل ثاني الشيخ خليفة بن حمد آل ثاني

- 3- "اشتهر الشيخ محمد بن ثاني بالعديد من الصفات التي أسهمت في نجاحه في توحيد القبائل القطرية"؛
دّل على صحّة العبارة التاريخية السابقة.
أ- الفطنة والطيبة والتدين.
ب- الحكمة في التعامل مع مختلف المشكلات.
ج- الجِزْص على حماية ممتلكات القطريين وأرزاقهم.