

تم تحميل هذا الملف من موقع المناهج القطرية



## أوراق عمل إثرائية منتصف الفصل جغرافيا وتاريخ قطر

موقع المناهج ← المناهج القطرية ← المستوى العاشر ← اجتماعيات ← الفصل الأول ← أوراق عمل ← الملف

تاريخ إضافة الملف على موقع المناهج: 2024-10-15 21:04:27

ملفات اكتب للمعلم اكتب للطالب | اختبارات الكترونية | اختبارات | حلول | عروض بوربوينت | أوراق عمل  
منهج انجليزي | ملخصات و تقارير | مذكرات و بنوك | الامتحان النهائي | للمدرس

المزيد من مادة  
اجتماعيات:

## التواصل الاجتماعي بحسب المستوى العاشر



صفحة المناهج  
القطرية على  
فيسبوك

الرياضيات

اللغة الانجليزية

اللغة العربية

التربية الاسلامية

المواد على تلغرام

## المزيد من الملفات بحسب المستوى العاشر والمادة اجتماعيات في الفصل الأول

أوراق عمل حول الجغرافيا والتاريخ لدولة قطر قبل اختبار منتصف الفصل	1
أوراق عمل اثرائية قبل امتحان منتصف الفصل في تاريخ دولة قطر غير مجاب	2
جدول مواصفات اختبار نهاية الفصل	3
تحميل كتاب الطالب	4
كتاب المعلم الفصل الأول 2022-2023م	5

أوراق عمل إثرائية لمادة الاجتماعيات الصف العاشر منتصف الفصل الدراسي الأول 2024-2025

- 1- تبلغ مساحة دولة قطر نحو .....
- 2- تتصل دولة قطر مع المملكة السعودية برها من جهة .....
- 3- من نباتات السبخات في دولة قطر..... ومن أهم نباتات الروضات.....
- 4- وقع الشيخ محمد بن ثاني اتفاقية مع بريطانيا عام .....
- 5- مجموعة التطبيقات والمواقع الالكترونية لتبادل الرسائل عبر شبكة الانترنت .....
- 6- في عام 2014 م تم اصدار قانون ..... في دولة قطر
- 7- يرجع نسب أسرة آل ثاني إلى قبيلة.....
- 8- من السبخات الداخلية في دولة قطر سبخة: .....
- 9- أهم محطات تحلية المياه المالحة في دولة قطر.....
- 10- من الأسباب الغير مباشرة لمعركة الوجبة عام 1893م.....
- 11- من أشكال سطح الأرض الصحراوية..... و..... و.....
- 12- من اشكال سطح الأرض الساحلية ..... و..... و.....
- 13- من العوامل المؤثرة في مناخ دولة قطر..... و..... و.....
- 14- كتل صخرية وأرصفة وجزر مرجانية تنتشر أمام السواحل القطرية.....
- 15- تجمعات رملية كونتها الرياح هلالية أو طولية .....
- 16- كهوف أرضية انهارت الأجزاء العليا منها .....
- 17- كهوف مخفية تحت الأرض بسبب ذوبان الصخور .....

س 1 عط امثلة على اشكال سطح الأرض التالية

أمثلة الروضات.....	أمثلة الكثبان الرملية.....
أمثلة الدحول.....	أمثلة الخراسيع.....
أمثلة الاودية الجافة.....	أمثلة التلال.....

س2/ قارن بين الحرارة في الصيف والحرارة في الشتاء في دولة قطر.

الحرارة في الصيف	الحرارة في الشتاء
1-.....	1-.....
2-.....	2-.....
3-.....	3-.....

س3/ ميز بين (الأهمية الاستراتيجية لموقع دولة قطر) و( أهمية النبات الطبيعي والفضوت في دولة قطر) ؟

الأهمية الاستراتيجية لموقع دولة قطر	أهمية النبات الطبيعي	أهمية الفسوت
1-.....	1-.....	1-.....
2-.....	2-.....	2-.....
3-.....	3-.....	3-.....

س4/ ميز بين (أنواع الرياح في دولة قطر) ؟

الرياح التجارية	الرياح العكسية	الرياح المحلية
1-.....	1-.....	1-.....
2-.....	2-.....	2-.....
3-.....	3-.....	3-.....

س5/ ( مشاكل الاحواض الجوفية في قطر و أسباب اتجاه قطر لتحلية مياه البحر و دور قطر في المحافظة على الحياة القطرية ) ؟

مشاكل الاحواض الجوفية في قطر	أسباب اتجاه قطر لتحلية مياه البحر	جهود دولة قطر للمحافظة على الحياة القطرية
.....-1	.....-1	..... 1-
.....-2	.....-2	.....-2
.....-3	.....-3	

س6/ ميز بين ( الطيات المحدبة والمقعرة والرؤوس الأرضية في دولة قطر ) ؟

الطيات المحدبة	الطيات المقعرة	الرؤوس الأرضية
.....-1	.....-1	..... 1-
.....-2	.....-2	.....-2
.....-3	.....-3	.....-3

س7/ ميز بين ( المياه الجوفية في الحوض الجنوبي والشمالي في دولة قطر ) ؟

الحوض الشمالي	الحوض الجنوبي
.....-1	.....-1
.....-2	.....-2
.....-3	.....-3

س8/ ميز بين ( الحيوانات آكلة العشب والحيوانات آكلة اللحوم ) ؟

الحيوانات آكلة العشب	الحيوانات آكلة اللحوم
.....	.....
.....	.....
.....	.....

س9 ميز بين ( أنواع الأمطار في دولة قطر) ؟

امطار العواصف الرعدية	الامطار الاعصارية	
.....	.....	التعريف
.....	.....	
.....	.....	

س10/ قارن بين ( نتائج معركة الوجبة 1893 والأسباب الغير مباشرة لمعركة الوجبة 1893م)؟

نتائج معركة الوجبة 1893	الأسباب الغير مباشرة لمعركة الوجبة 1893م
.....-1	.....-1
.....-2	.....-2
.....-3	.....-3

س11/ ميز بين (جهود الشيخ جاسم في النهوض بقطر داخليا) و(الصعوبات التي واجهت الشيخ جاسم في تأسيس الدولة)؟

جهود الشيخ جاسم في النهوض بقطر داخليا	الصعوبات التي واجهت الشيخ جاسم في تأسيس الدولة
.....-1	.....-1
.....-2	.....-2
.....-3	.....-3

س12/ قارن بين سياسة الشيخ محمد ال ثاني الداخلية والخارجية؟

السياسة الداخلية في عهد الشيخ محمد	السياسة الخارجية في عهد الشيخ محمد
.....-1	.....-1
.....-2	.....-2
.....-3	.....-3

س 13/ قارن بين أسباب ترحيب الشيخ جاسم بالعثمانيين وبنود اتفاقية سبتمبر 1868 مع بريطانيا؟

أسباب ترحيب الشيخ جاسم بالعثمانيين	وبنود اتفاقية سبتمبر 1868 مع بريطانيا
1-.....	1-.....
2-.....	2-.....
3-.....	3-.....

س 14 قارن بين إيجابيات وسلبيات وسائل التواصل الاجتماعي.

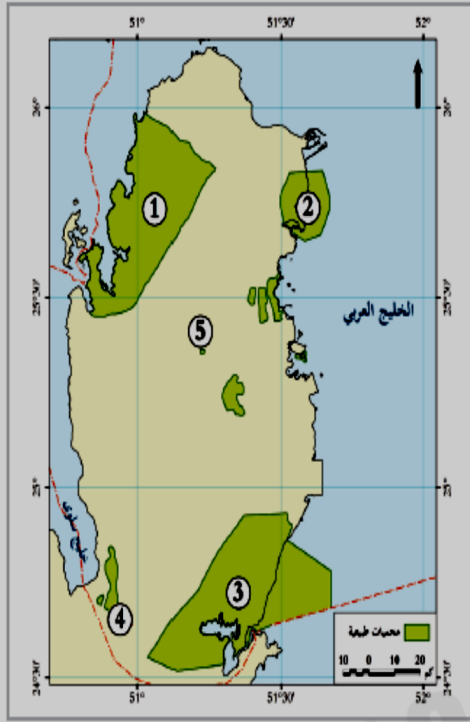
إيجابيات وسائل التواصل الاجتماعي .	سلبيات وسائل التواصل الاجتماعي .
1-.....	1-.....
2-.....	2-.....
3-.....	3-.....

س 15- قارن بين الآثار الايجابية والآثار السلبية للعولمة الثقافية على الهوية الوطنية .

الآثار الايجابية للعولمة الثقافية	الآثار السلبية للعولمة الثقافية
1-.....	1-.....
2-.....	2-.....
3-.....	3-.....

س 16- قارن بين الحلول للحد من الآثار السلبية لوسائل التواصل الاجتماعي طرق مواجهة العولمة

حلول الآثار السلبية لوسائل التواصل الاجتماعي	طرق مواجهة العولمة
1-.....	1-.....
2-.....	2-.....
3-.....	3-.....



محمية (1)

.....

محمية (2)

.....

محمية (3)

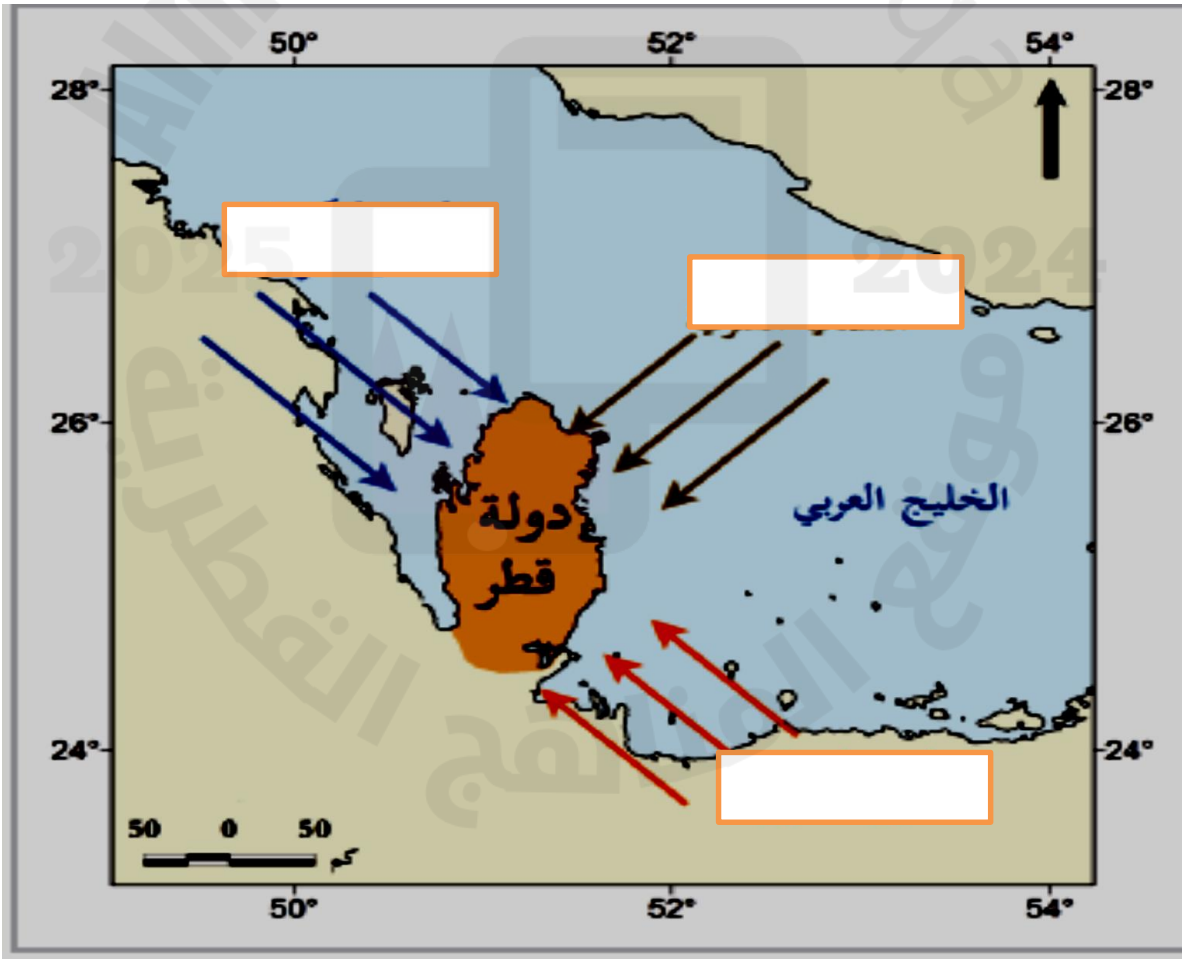
.....

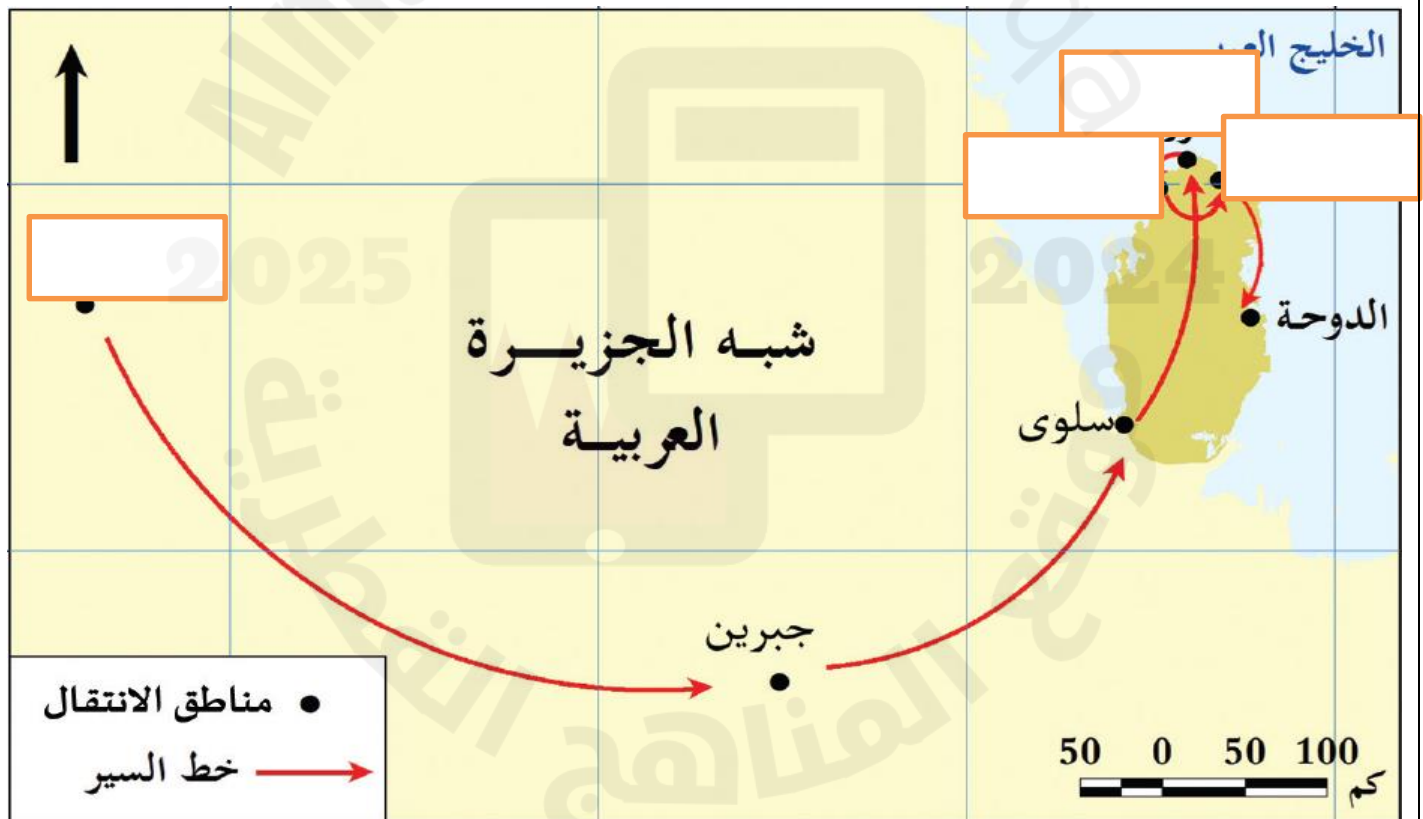
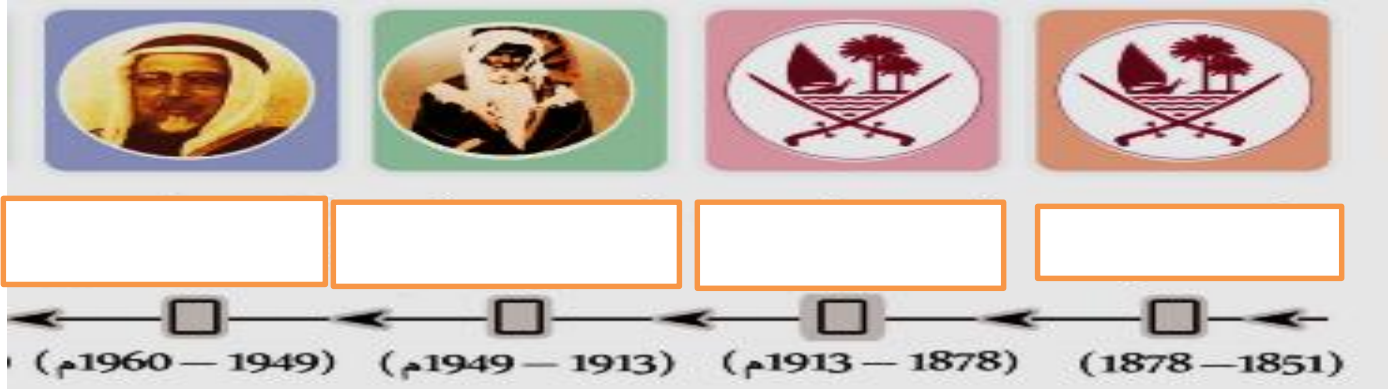
محمية (4)

.....

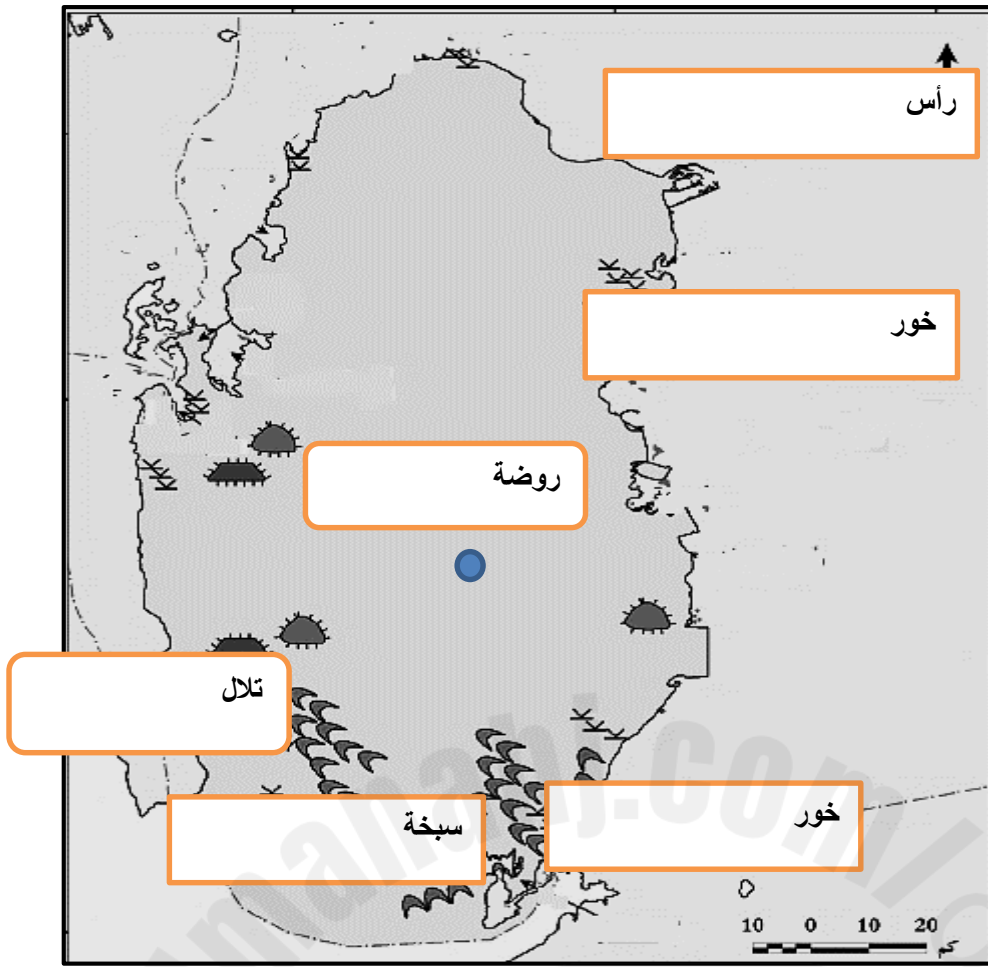
محمية (5)

.....









محطات تحلية مياه البحر في قطر

