

تم تحميل هذا الملف من موقع المناهج القطرية



## أسئلة امتحان مجابة حول استكشاف قارة أمريكا الشمالية منتصف الفصل

موقع المناهج ← المناهج القطرية ← المستوى الحادي عشر الأدبي ← جغرافيا ← الفصل الثاني ← الامتحان النهائي ← الملف

تاريخ إضافة الملف على موقع المناهج: 2025-02-21 02:17:36

ملفات اكتب للمعلم اكتب للطالب | اختبارات الكترونية | اختبارات | حلول | عروض بوربوينت | أوراق عمل | منهج انجليزي | ملخصات وتقارير | مذكرات وبنوك | الامتحان النهائي للمدرس

المزيد من مادة  
جغرافيا:

### التواصل الاجتماعي بحسب المستوى الحادي عشر الأدبي



صفحة المناهج  
القطرية على  
فيسبوك

الرياضيات

اللغة الانجليزية

اللغة العربية

التربية الاسلامية

المواد على تلغرام

### المزيد من الملفات بحسب المستوى الحادي عشر الأدبي والمادة جغرافيا في الفصل الثاني

أسئلة امتحان حول استكشاف قارة أمريكا الشمالية منتصف الفصل

1



التاريخ	الدرس	الأسبوع
6 - 9 / 01 / 2025م	الخصائص الطبيعية لقارة أمريكا الشمالية	1

تعليمات  
اختر الإجابة الصحيحة لكل من الأسئلة من 1 إلى 6 وذلك بوضع علامة X داخل المربع المجاور للإجابة الصحيحة.

1- تتصل قارة أمريكا الشمالية بقارة أمريكا الجنوبية من خلال:

خليج هدسن

قناة بنما

جزيرة جرين لاند

برزخ أمريكا الوسطى

2- أكبر دول قارة أمريكا الشمالية مساحة:

كندا

بنما

المكسيك

الولايات المتحدة الأمريكية

3- تطل قارة أمريكا الشمالية من جهة الشمال على المحيط:

الهادي

الهندي

الاطلنطي

المحيط القطبي



4- سلسلة جبلية داخلية شديدة الارتفاع تمتد في كندا والولايات المتحدة:

روكي

ماكينزي

ألاسكا

الأبلش

5- ثالث قارات العالم من حيث المساحة:

آسيا

أوروبا

أفريقيا

أمريكا الشمالية

6- يفصل بين قارتي آسيا وأمريكا الشمالية مضيق:

ملقا

بيرنج

البسفور

الدردنيل

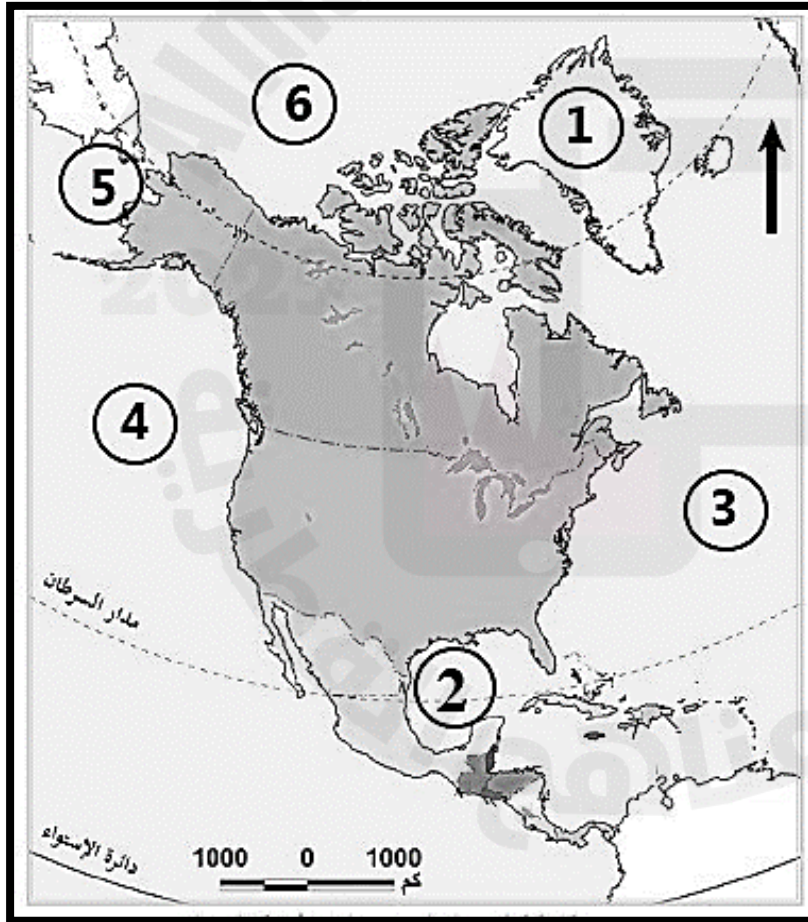


تعليمات

عند الإجابة على الأسئلة من 1 إلى 2، اكتب إجابتك في الفراغ المخصص للإجابة:

7	ما الأهمية الاستراتيجية لقارة أمريكا الشمالية؟
الإجابة:	
1- تنوع الأقاليم الطبيعية والمناخية	
2- تنوع المحاصيل الزراعية والنباتات الطبيعية	

11	اكتب ما تشير اليه الأرقام من مظاهر السطح على خريطة قارة أمريكا الشمالية الطبيعية الصماء التي أمامك:
----	---



- (1) على جزيرة: جرين لاند
- (2) على خليج: المكسيك
- (3) على المحيط: الاطلنطي
- (4) على المحيط: الهادي
- (5) على مضيق: بيرنج
- (6) على المحيط:
- القطبي الشمالي



التاريخ	الدرس	الأسبوع
12 - 01/16 / 2025م	الخصائص الطبيعية لقارة أمريكا الشمالية	2

اختر الإجابة الصحيحة لكل من الأسئلة من 1 إلى 6 وذلك بوضع علامة X داخل المربع المجاور للإجابة الصحيحة.

تعليمات

1- يصب نهر الميسيسيبي في :

المحيط الهادي

المحيط الأطلنطي

خليج هدسن

خليج المكسيك

2- ينتشر في المناطق الشمالية لقارة أمريكا الشمالية المناخ:

المداري

القطبي

الاستوائي

الصحراوي

3- منطقة ضغط جوي منخفض تتكون فوق المحيطات الدافئة وتستقطب الرياح من مناطق أخرى، ينتج عنها رياح حلزونية سريعة" ، يقصد بهذا المصطلح:

الأعاصير

الفيضانات

الضغط الجوي

أمواج تسونامي



4- أكثر جهات العالم تعرضاً للأعاصير :

البحر الأحمر

البحر الكاريبي

البحر المتوسط

المحيط الهندي

5- يمر بالسواحل الشمالية الشرقية لقارة أمريكا الشمالية تيار:

لبرادور

موزمبيق

المكسيك

كاليفورنيا

6- أكثر مناطق الغرب الأمريكي جفافاً:

جبال روكي

جبال كسكيد

الحوض العظيم

هضبة لبرادور



تعليمات عند الإجابة على الأسئلة من 7 إلى 15، اكتب إجابتك في الفراغ المخصص للإجابة:

تعليمات

	7	ما العوامل المؤثرة في مناخ قارة أمريكا الشمالية؟
		الإجابة: 1- الموقع بالنسبة لدوائر العرض. 2- المساحة وشكل الساحل 3- مظاهر السطح
	8	عدد أبرز الجبال في قارة أمريكا الشمالية؟
		الإجابة: 1- جبال روكي 2- جبال الابلاش 3- جبال كسكيد – سييرا نيفادا
	9	عدد أبرز الأنهار في قارة أمريكا الشمالية؟
		الإجابة: 1- المسيسيبي 2- ماكينزي 3- نلسن



10	ما النتائج المترتبة على الأعاصير في قارة أمريكا الشمالية؟
	1- خسائر مادية وتدمير الطرق والمباني والمنشآت 2- انتشار الحرائق بسبب قطع أسلاك الكهرباء 3- حدوث الوفيات نتيجة التعرض للأخطار وقت الاعصار 4- اقتلاع الأشجار والمحاصيل الزراعية 5- ارتفاع أمواج البحار والمحيطات
11	بين الجهود الدولية لمواجهة آثار الأعاصير؟
	أ- تقديم المعونات والإغاثة لضحايا الأعاصير ب- إعانات غذائية للمناطق المتضررة من منظمة الفاو ج- تسارع الدول بتقديم الدعم (غذاء, أدوات معيشة) د- إعانات للأطفال متضرري الأعاصير من منظمة اليونسيف
12	عدد أنواع الأقاليم المناخية في قارة أمريكا الشمالية؟
	1- الأقاليم الباردة 2- الأقاليم المعتدلة الباردة 3- الأقاليم المعتدلة الدفينة 4- الأقاليم الحارة
13	ما العوامل التي تتحكم في قوة الأعاصير؟
	1- اتجاه الإعصار 2- سرعة وحجم الإعصار





14 وضح مميزات السهول الوسطى في قارة أمريكا الشمالية؟

الإجابة:

1- وجود العديد من البحيرات (البحيرات العظمى)

2- يجري بها العديد من الأنهار مثل:- المسيسيبي - ماكينزي - نلسن .

15 أكتب إلى ما تشير اليه الأرقام على خريطة أمريكا الشمالية الصماء:

الإجابة:

1- دولة: كندا

2-

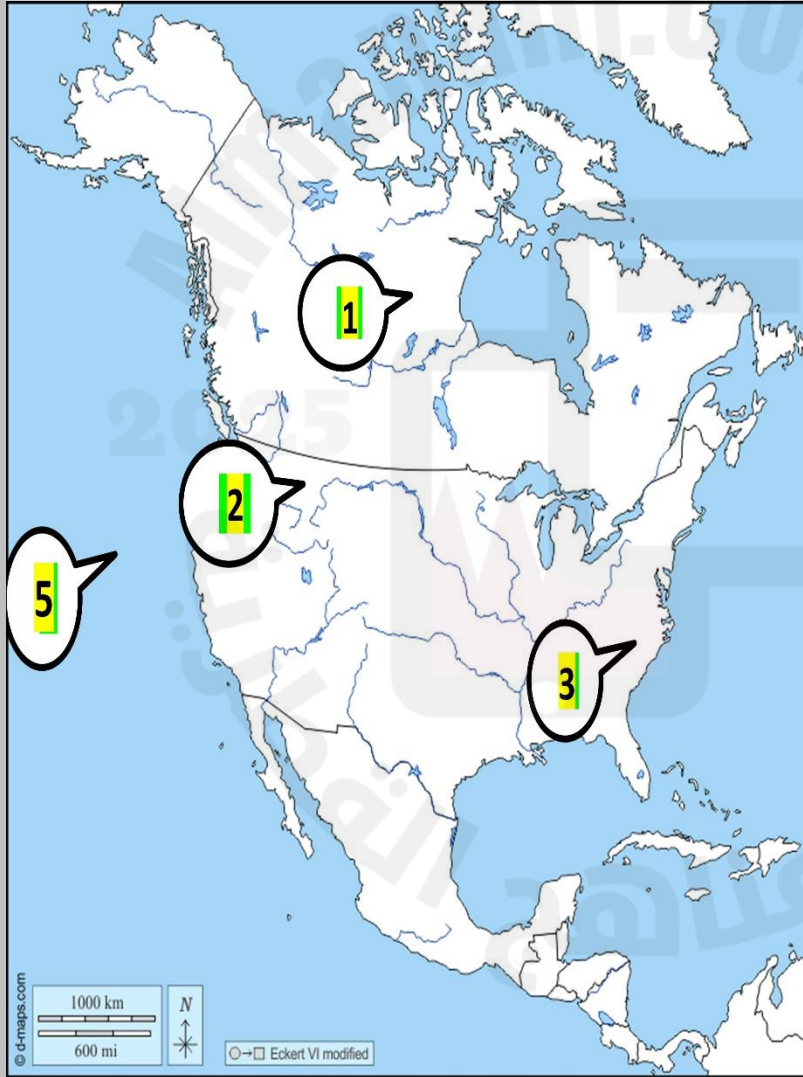
3- جبال: روكي

4-

5- جبال: الأبلاتش

6- خليج: المكسيك

7- المحيط: الهادي





التاريخ	الدرس	الأسبوع
2025 /01/23 – 19م	السكان في أمريكا الشمالية	3

اختر الإجابة الصحيحة لكل من الأسئلة من 1 إلى 6 وذلك بوضع علامة X داخل المربع المجاور للإجابة الصحيحة.

تعليمات

1- يأتي ترتيب قارة أمريكا الشمالية بين قارات العالم من حيث عدد السكان:

الثاني

الثالث

الرابع

الخامس

2- الدولة التي تحتل المرتبة الأولى من حيث عدد السكان في قارة أمريكا الشمالية:

كوبا

كندا

المكسيك

الولايات المتحدة الأمريكية

3- السكان الأصليين لقارة أمريكا الشمالية هم:

الزنوج

الفايكنج

القوقازيون

الهنود الحمر



تعليمات عند الإجابة على الأسئلة من 7 إلى 9، اكتب إجابتك في الفراغ المخصص للإجابة:

تعليمات

7	بم تفسر انخفاض المواليد في قارة أمريكا الشمالية؟
	<p>1-تأخر سن الزواج وارتفاع معدلات الطلاق</p> <p>2-عمل المرأة وتمكينها سياسيا واقتصاديا</p> <p>3-ارتفاع مستوى المعيشة</p> <p>4- ارتفاع تكاليف تربية الأطفال 5-انخفاض معدل الوفيات للأطفال</p>
8	بم تفسر ارتفاع الكثافة السكانية على السواحل المطلة على المحيط الأطلنطي؟
	<p>1-اعتدال المناخ</p> <p>2- قيام المدن مثل نيويورك</p> <p>3- بداية الاستقرار البشري</p>
9	بم تفسر تعتبر المناطق الوسطى من قارة أمريكا الشمالية متوسطة الكثافة السكانية؟
	<p>1-قيام الزراعة الواسعة</p> <p>2-قيام الصناعة</p> <p>3-اكتشاف مصادر الطاقة</p>



التاريخ	الدرس	الأسبوع
2025 /01/30 -26م	السكان في قارة أمريكا الشمالية	4

اختر الإجابة الصحيحة لكل من الأسئلة من 1 إلى 3 وذلك بوضع علامة X داخل المربع المجاور للإجابة الصحيحة.

تعليمات

1- تتجه معدلات الوفيات في قارة أمريكا الشمالية بشكل عام نحو:

الثبات

التطابق

الانخفاض

الارتفاع

2- بلغت نسبة الأطفال بقارة أمريكا الشمالية أقل من 14 عامًا من إجمالي سكان القارة:

الثلث

الربع

أقل من النصف

أعلى من النصف

3- يوجد نحو 55.3% من سكان قارة أمريكا الشمالية في دولة:

كوبا

كندا

المكسيك

الولايات المتحدة الأمريكية



تعليمات

عند الإجابة على الأسئلة من 4 إلى 6، اكتب إجابتك في الفراغ المخصص للإجابة:

السياسات السكانية في الدول المتقدمة	السياسات السكانية في الدول النامية
1- مثل الولايات المتحدة وكندا تعمل على رفع معدلات المواليد والاستمرار في خفض الوفيات	1- دول أمريكا الوسطى ودول الكاريبي لديها معدلات مواليد مرتفعة
2- تشجيع الزواج والانجاب	2- معدلات وفيات مرتفعة
3- التوسع في تنظيم هجرات شرعية	3- تقليل معدل الوفيات والمواليد

4

قارن بين كل من السياسات السكانية للدول المتقدمة والدول النامية بقارة الشمالية بالجدول أدناه:

5

الإجابة:

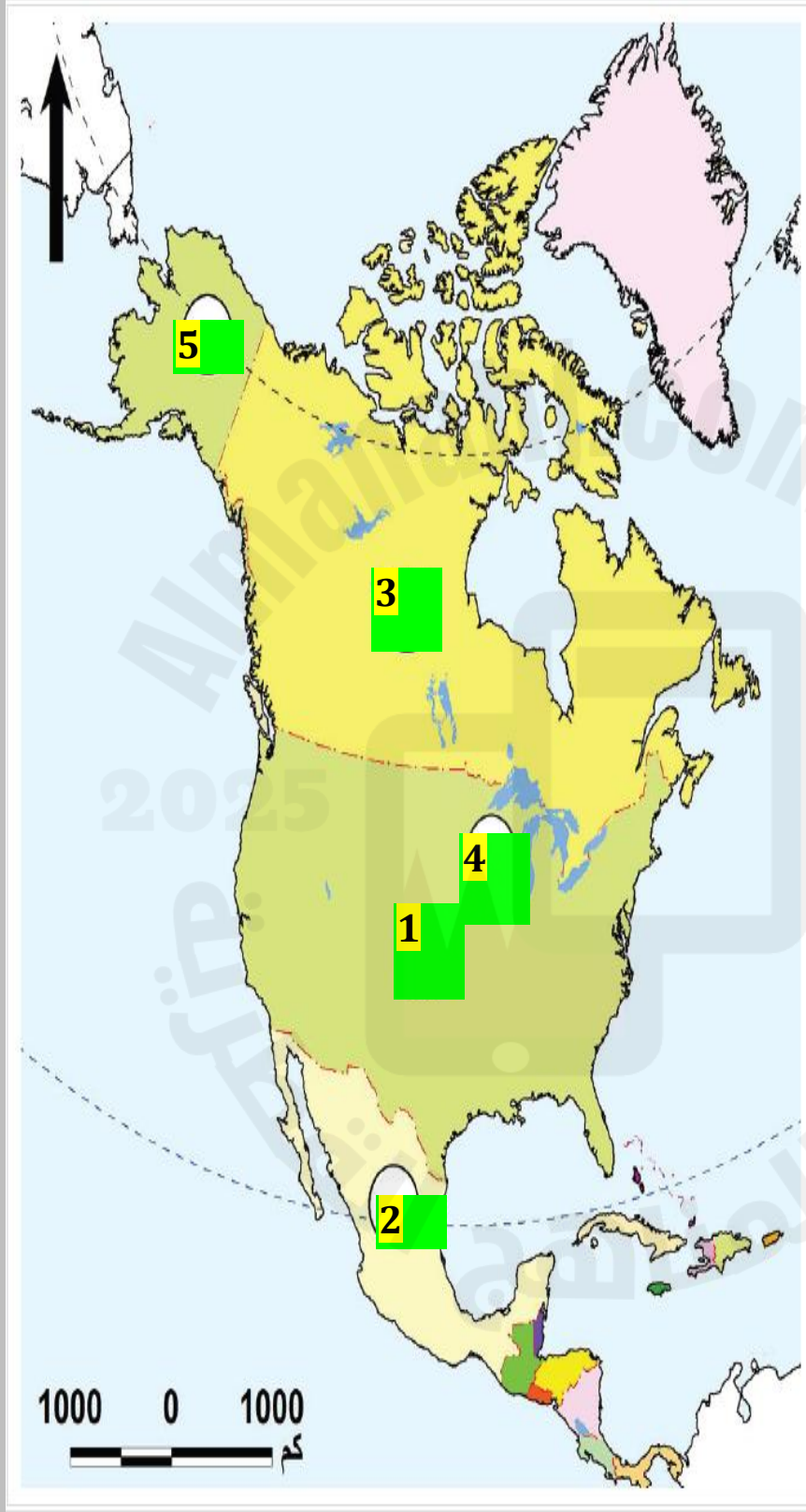
1- ارتفاع نسب كبار السن  
2- انخفاض معدل المواليد

بم تفسر ارتفاع معدل الوفيات في قارة أمريكا الشمالية منذ العام 2015 م؟



أكتب إلى ما تشير اليه الأرقام على خريطة أمريكا الشمالية الصماء:

6



1- أول دول القارة من حيث عدد السكان. **الولايات المتحدة**

2- ثاني دول القارة من حيث عدد السكان. **كندا**

3- ثالث دول القارة من حيث عدد السكان. **المكسيك**

4- منطقة ذات كثافة سكانية مرتفعة **شيكاغو**

5- منطقة ذات كثافة سكانية منخفضة **الاسكا**





التاريخ	الدرس	الأسبوع
2025 /02/6/2م	الأنشطة الاقتصادية في قارة أمريكا الشمالية	5

اختر الإجابة الصحيحة لكل من الأسئلة من 1 إلى 3 وذلك بوضع علامة X داخل المربع المجاور للإجابة الصحيحة.

تعليمات

1- تشتهر مدينة ديترويت في الولايات المتحدة الأمريكية بصناعة:

- السيارات  
 المنسوجات  
 الطائرات  
 الحديد والصلب

2- أكثر دول قارة أمريكا الشمالية في إنتاج قصب السكر هي:

- كندا  
 جامايكا  
 المكسيك  
 الولايات المتحدة الأمريكية

3- أي المعادن التالية يتركز إنتاجه في جامايكا؟

- الحديد  
 الذهب  
 البوكسيت  
 الفوسفات



عند الإجابة على الأسئلة من 4 إلى 6، اكتب إجابتك في الفراغ المخصص للإجابة:

تعليمات

4	عدد أنماط الزراعة في قارة أمريكا الشمالية؟
الإجابة:	
1- التجارية 2 - الزراعة بهدف انتاج الالبان 3- الزراعة المختلطة	
5	وضح خصائص الزراعة في قارة أمريكا الشمالية؟
1-انخفاض الأيدي العاملة نتيجة الاعتماد على الآلات 2- اتساع مساحة المزارع 3 -زيادة الانتاج الزراعي 4-الزراعة للغرض التجاري سواء داخليا أو خارجيا	
6	أذكر عوامل تطور الصناعة قارة أمريكا الشمالية؟
1- توفر رؤوس الأموال 2- التقدم العلمي والتكنولوجي 3- تطور شبكة المواصلات 4- سعة الأسواق المحلية المنتجة 5- الإدارة الجيدة للمشاريع الصناعية	





التاريخ	الدرس	الأسبوع
2025 /02/13/9م	الأنشطة الاقتصادية في قارة أمريكا الشمالية	6

اختر الإجابة الصحيحة لكل من الأسئلة من 1 إلى 3 وذلك بوضع علامة X داخل المربع المجاور للإجابة الصحيحة.

تعليمات

1- أولى دول قارة أمريكا الشمالية في زراعة الأرز:

كندا

كوبا

المكسيك

الولايات المتحدة الأمريكية

2- نمط الزراعة المنتشرة بين البحيرات العظمى شمالا وخليج المكسيك جنوبا:

الكثيفة

الانتقالية

الواسعة

المختلطة

3- تشتهر مدينة مكسيكو سيتي في الولايات المتحدة الأمريكية بصناعة:

الثلاجات

المنسوجات

الطائرات

الصناعات الالكترونية



عند الإجابة على الأسئلة من 4 إلى 6، اكتب إجابتك في الفراغ المخصص للإجابة:

تعليمات

4	عدد مصادر الطاقة غير المتجددة في قارة أمريكا الشمالية.
الإجابة: 1- الفحم 2- البترول 3- الغاز الطبيعي	
5	قارن بين الزراعة التجارية والزراعة المختلطة في قارة أمريكا الشمالية من حيث الخصائص وأهم المحاصيل:

نمط الزراعة	الزراعة التجارية	الزراعة المختلطة
الخصائص	1- انتشار الملكيات الفردية الكبيرة 2- تعتمد على محصول زراعي واحد	1- تربية الحيوانات إلى جانب الزراعة 2- المرونة في تغيير الإنتاج الزراعي والحيواني
أهم المحاصيل	القمح الذرة	الذرة



قارن بين إقليم وسط ساحل المحيط الأطلنطي الصناعي، وإقليم سواحل المحيط الهادي الصناعي في قارة أمريكا الشمالية من حيث المراكز الصناعية وأهم الصناعات:

6

إقليم سواحل المحيط الهادي	إقليم وسط ساحل المحيط الأطلنطي الصناعي	أوجه المقارنة
منطقة فانكوفر- سياتل - سان فرانسيسكو- لوس أنجلوس	1- إقليم وسط ساحل المحيط الأطلنطي: - المراكز الصناعية: - مدينة بوسطن - بالتيمور	المراكز الصناعية
الخشبية - معدات الثلجات	الحديد والصلب- السيارات - الطائرات - الأقمشة الصوفية والقطنية - السلع الجلدية	أهم الصناعات



التاريخ	الدرس	الأسبوع
2025 /02/20/16م	الأنشطة الاقتصادية في قارة أمريكا الشمالية	7

اختر الإجابة الصحيحة لكل من الأسئلة من 1 إلى 3 وذلك بوضع علامة X داخل المربع المجاور للإجابة الصحيحة.

تعليمات

1- تقع معظم السكك الحديدية في قارة أمريكا الشمالية في:

كندا

بنما

المكسيك

الولايات المتحدة الأمريكية

2- تحتل أمريكا الشمالية عالميا من حيث عدد السياح المرتبة

الأولى

الثانية

الثالثة

الرابعة

3- من الأمثلة على الصادرات في قارة أمريكا الشمالية :

البترول

الفحم

التصدير

الطائرات



عند الإجابة على الأسئلة من 4 إلى 5، اكتب إجابتك في الفراغ المخصص للإجابة:

تعليمات

4

قارن بين الصادرات والواردات في قارة أمريكا الشمالية في الجدول أدناه:

الواردات	الصادرات
<b>11- النيكل</b> <b>2- الفحم</b> <b>3- البترول</b> <b>4- الفواكه والخضروات</b>	<b>11- السيارات</b> <b>2- الطائرات</b> <b>3- الآلات</b> <b>4- المعدات الصناعية</b> <b>5- الأسلحة</b>

عدد أشهر المناطق السياحية في بعض دول قارة أمريكا الشمالية؟

5

الإجابة:

- 1 مجمع متاحف سميثسونيان
- 2- شلالات نياجرا
- 3- منتزه يوسيميتي الوطني بكاليفورنيا

انتهت الأسئلة