

تم تحميل هذا الملف من موقع المناهج القطرية



أوراق عمل مسيعيد قبل اختبار منتصف الفصل مع الإجابة النموذجية

موقع المناهج ← المناهج القطرية ← المستوى الحادي عشر الأدبي ← جغرافيا ← الفصل الأول ← أوراق عمل ← الملف

تاريخ إضافة الملف على موقع المناهج: 2024-11-04 19:24:19

ملفات اكتب للمعلم اكتب للطالب | اختبارات الكترونية | اختبارات | حلول | عروض بوربوينت | أوراق عمل
منهج انجليزي | ملخصات وتقارير | مذكرات وبنوك | الامتحان النهائي للمدرس

المزيد من مادة
جغرافيا:

التواصل الاجتماعي بحسب المستوى الحادي عشر الأدبي



صفحة المناهج
القطرية على
فيسبوك

الرياضيات

اللغة الانجليزية

اللغة العربية

التربية الاسلامية

المواد على تلغرام

المزيد من الملفات بحسب المستوى الحادي عشر الأدبي والمادة جغرافيا في الفصل الأول

أوراق عمل مسيعيد قبل اختبار منتصف الفصل غير محلولة

1

أوراق عمل الأندلس الوحدة الأولى قارة آسيا مع الإجابة النموذجية

2


أوراق عمل الأندلس الوحدة الأولى قارة آسيا غير مجابة

3



العام الدراسي
2025-2024

الصف
11



مادة
الجغرافيا

تدريبات إثرائية - واجبات

منهاج منتصف الفصل الدراسي الأول
الوحدة الأولى

اسم الطالب:

الصف: الحادي عشر.....

ملحوظة هامة: هذه الأسئلة إثرائية ولا تغني عن الكتاب المدرسي وهو المصدر الرئيس للتعلم



الوحدة الأولى:

قارة آسيا



التاريخ	الدرس	الأسبوع
01 - 09/05 /2024م	الخصائص الطبيعية لقارة آسيا	1

تعليمات
اختر الإجابة الصحيحة لكل من الأسئلة من 1 إلى 4 وذلك بوضع علامة X داخل المربع المجاور للإجابة الصحيحة.

1- تقع معظم قارة آسيا في نصف الكرة الأرضية :

الشرقي

الغربي

الجنوبي

الشمالي والشرقي

2- تفصل جبال الأورال قارة آسيا عن قارة :

إفريقيا

أوروبا

آسيا

أمريكا الشمالية

3- أكبر قارات العالم مساحةً:

إفريقيا

أوروبا

آسيا

أمريكا الشمالية



4- المضيق الذي يفصل قارة آسيا عن قارة أمريكا الشمالية :

ملقا

بيرنج

هرمز

باب المنذب

تعليمات عند الإجابة على الأسئلة من 5 إلى 7، اكتب إجابتك في الفراغ المخصص للإجابة:

تعليمات

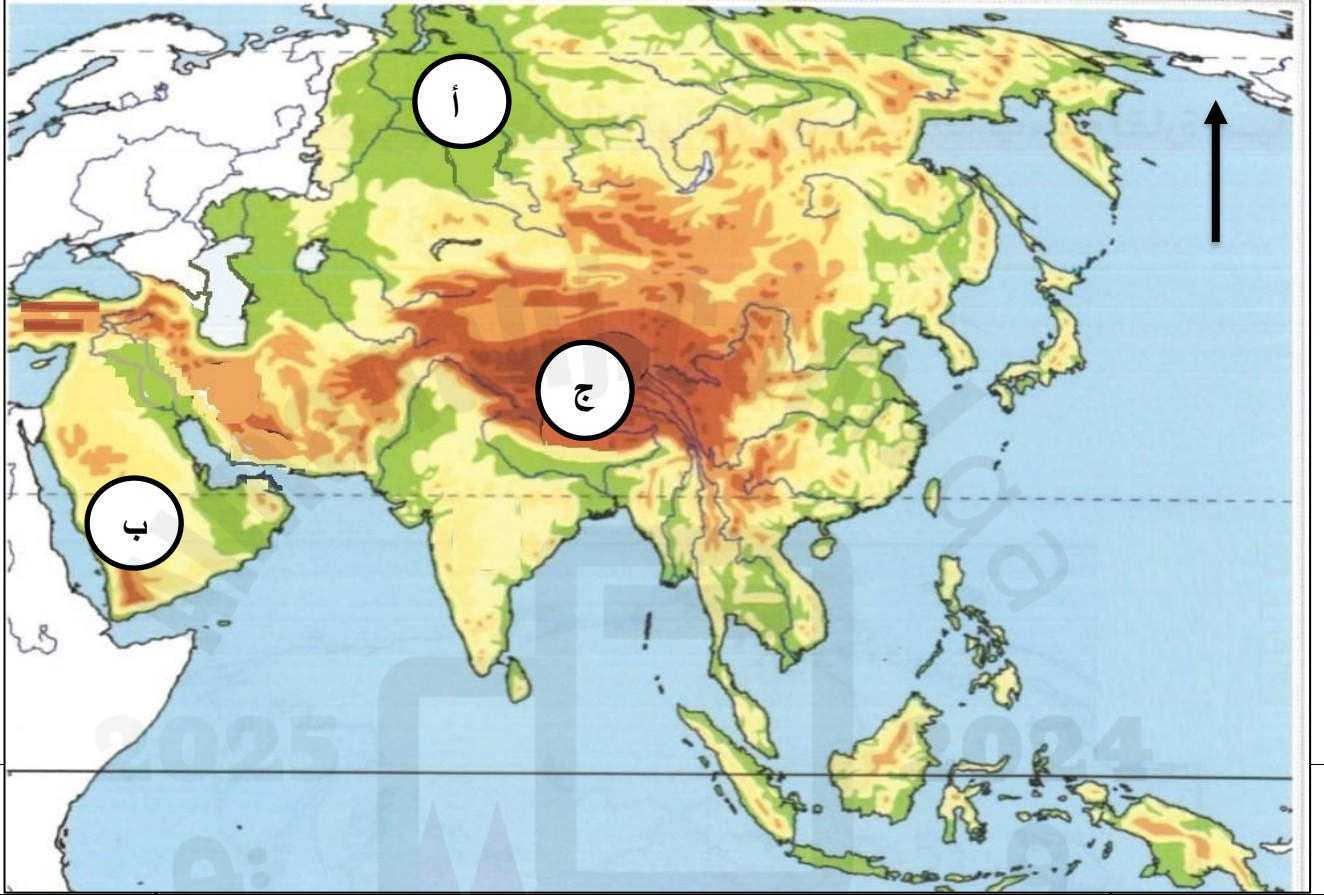
	أكمل الجدول أدناه للدول التي تمتد فيها الهضاب في قارة آسيا:	5
هضبة الدكن	هضبة الأناضول	اسم الهضبة
الهند	تركيا	الدولة التي تمتد بها
	قارن بين الإقليم الاستوائي والإقليم الصيني في قارة آسيا من حيث الموقع الفلكي والأمطار:	6
الإقليم الصيني	الإقليم الاستوائي	وجه المقارنة
بين دائرتي عرض 30:40 شمال خط الاستواء شرق القارات	بين دائرتي عرض 8:0 شمال وجنوب خط الاستواء	الموقع الفلكي
صيف حار، وشتاء دافئ وأمطار طوال العام	حرارة مرتفعة وأمطار غزيرة طوال العام	الأمطار



اكتب ما تشير اليه الأرقام على خريطة قارة آسيا أدناه

7

أ- سهول . سيبيريا ب - مرتفعات . عسير والحجاز ج - جبال الهيمالايا .





التاريخ	الدرس	الأسبوع
08 - 12 / 09 / 2024م	الخصائص الطبيعية لقارة آسيا	2

تعليمات عند الإجابة على الأسئلة من 1 إلى 9، اكتب إجابتك في الفراغ المخصص للإجابة:

1	وضح أهمية الموقع الفلكي والجغرافي لقارة آسيا:
	الإجابة: 1- تنوع الأقاليم المناخية والنباتية بسبب الامتداد الكبير خلال 91 درجة عرض 2- تنوع التكوينات الجيولوجية والصخرية أدى لتنوع الثروات المعدنية ومصادر الطاقة . 3- الاشراف على عدد من الأذرع والمضايق المائية المهمة .
2	عدد أبرز الجبال في قارة آسيا.
	الإجابة: 1- جبال سليمان. 2- جبال هندكوش . 3- جبال الهيمالايا
3	أذكر أبرز الهضاب في قارة آسيا.
	الإجابة: 1- هضبة الدك هضبة الاناضول 3- هضبة إيران 4- هضبة شبه الجزيرة العربية



	عدد أبرز السهول الفيضية في قارة آسيا.	4
	الإجابة: 1- سهول الصين. 2- سهول الجانج 3- سهول السند 4- سهول دجلة والفرات	
	ما أهم العوامل المؤثرة في مناخ قارة آسيا؟	5
	الإجابة: 1- الموقع الفلكي . 2- التضاريس. 3- التيارات البحرية 4- مساحة القارة وشكل سواحلها .	
	عدد الأقاليم المناخية السائدة في قارة آسيا.	6
	الإجابة: 1- الأقاليم الحارة 2- الأقاليم المعتدلة 3- الأقاليم المعتدلة الباردة 4- الأقاليم الباردة	



	7	بم تفسر حدوث الفيضانات في قارة آسيا؟
الإجابة:		
1- هطول الامطار الغزيرة في فترة زمنية قصيرة		
2- قطع الغابات الذي يؤدي لسرعة الجريان		
3- تكسر الجسور وفشل السدود		
	8	عدد جهود قارة آسيا في مواجهة أخطر الفيضانات.
الإجابة:		
1- بناء السدود والخزانات المائية		
2- بناء الحواجز البحرية لتقليل اثر المد البحري		
3- توسيع مجاري الأنهار الدائمة		



التاريخ	الدرس	الأسبوع
2024 /09/19 – 15م	السكان في قارة آسيا	3

اختر الإجابة الصحيحة لكل من الأسئلة من 1 إلى 5 وذلك بوضع علامة X داخل المربع المجاور للإجابة الصحيحة.

تعليمات

1- أولى دول العالم من حيث عدد السكان دولة:

الهند

الصين

روسيا

أندونيسيا

2- تمثل الهند والصين من سكان العالم حوالي:

الربع

الثالث

الخمس

السدس

3- يتميز معدل المواليد في قارة آسيا:

بالانخفاض

بالارتفاع

بالاستقرار

بالتزايد



4- أي من الدول الآسيوية الآتية التي تتبع سياسة الحد من الزيادة السكانية الكبيرة؟

الكويت

تايلاند

الصين

ماليزيا

5- الإجراءات التي تتخذها الحكومات للتأثير على حجم السكان أو معدلات نموهم، أو توزيعهم، أو تركيب سكانهم، يشير هذا المصطلح إلى:

الهرم السكاني

الكثافة السكانية

المشكلات السكانية

السياسات السكانية

تعليمات عند الإجابة على الأسئلة من 1 إلى 1، اكتب إجابتك في الفراغ المخصص للإجابة:

5	ما النتائج المترتبة على الزيادة السكانية في قارة آسيا؟
الإجابة 1	
1--	الضغط على الموارد وانخفاض مستوى المعيشة
2-	قلة نصيب الفرد من الدخل القومي
3- نقص الغذاء	4- نقص المياه
	5- ارتفاع الكثافة السكانية



التاريخ	الدرس	الأسبوع
2024 /09/26 -22م	السكان والأنشطة الاقتصادية في قارة آسيا	4

تعليمات
عند الإجابة على الأسئلة من 1 إلى 4، اكتب إجابتك في الفراغ المخصص للإجابة:

1	بم تفسر تركيز السكان في شرق قارة آسيا؟
الإجابة: 1-توافر المياه 2- التربة الخصبة 3-استواء السطح	
2	وضح أهداف السياسة السكانية في دولة قطر دولة قطر؟
الإجابة: 1- التحكم في معدلات النمو السكاني 2- دعم المشاركة المجتمعية للمرأة 3- تعزيز المشاركة الفاعلة لكبار السن والأشخاص ذوي الإعاقة 4-الارتقاء بالصحة العامة للسكان 5-تطوير مراكز حضرية بعيدة عن الدوحة	



	عدد أنواع السياسات السكانية في قارة آسيا	3
الإجابة: 1- سياسة الوصول إلى العدد الأمثل للسكان 2- سياسة الحد من الزيادة السكانية الكبيرة 3- سياسة الحد من الانخفاض السكاني للمواطنين		
	عدد أنماط الزراعة في قارة آسيا.	4
الإجابة: 1- الزراعة البسيطة 2- الزراعة الكثيفة 3- الزراعة العلمية الواسعة		



التاريخ	الدرس	الأسبوع
2024 /10/3 – 9/29م	الأنشطة الاقتصادية في قارة آسيا	5

اختر الإجابة الصحيحة لكل من الأسئلة من 1 إلى 5 وذلك بوضع علامة X داخل المربع المجاور للإجابة الصحيحة.

تعليمات

1- تحتكر القارة الآسيوية إنتاج محصول:

الأرز

القمح

الذرة

الشعير

2- أي المعادن الآتية يُعد الخام الرئيس لإنتاج معدن الألمنيوم؟

الحديد

النحاس

الكوبلت

البوكسيت

3- أي مما يلي من الصناعات الهندسية في قارة آسيا؟

الأدوية

الأسمدة

السيارات

الحديد والصلب



4- أولى دول العالم في انتاج الكتان:

الصين

الهند

تايلاند

أندونيسيا

5- من أهم الدول الآسيوية المنتجة لمحصول المطاط الطبيعي؟

الهند

الصين

أندونيسيا

بنجلادش

عند الإجابة على الأسئلة من 6 إلى 9، اكتب إجابتك في الفراغ المخصص للإجابة:

تعليمات

6	اتبعت الدول الآسيوية أساليب مختلفة لتنمية القطاع الصناعي، دلل على ذلك.
	الإجابة: 1-اتباع الأساليب العلمية الحديثة في التصنيع:
	2- تطوير برامج التعليم والتدريب
	3-ترشيد الاستهلاك لدى الافراد
	4-تحفيز أصحاب الاعمال على الاستثمار



	ما أهم أسباب ارتفاع الأسماك في قارة آسيا؟										
	الإجابة: 1- التقاء التيارات البحرية الباردة والدافئة على السواحل مما يوفر الغذاء للأسماك 2- وفرة الموانئ الطبيعية 3- التوسع في انشاء المزارع السمكية										
8	قارن بين الزراعة البسيطة البدائية والزراعة العلمي الواسعة من حيث مناطق الانتشار وأهم المحاصيل في الجدول أدناه:										
	<table border="1"> <thead> <tr> <th>وجه المقارنة</th> <th>الزراعة البسيطة البدائية</th> <th>الزراعة العلمية الواسعة</th> </tr> </thead> <tbody> <tr> <td>مناطق الانتشار</td> <td>أطراف الغابات ومناطق الحشائش منغوليا</td> <td>المزارع الواسعة إندونيسيا</td> </tr> <tr> <td>أهم المحاصيل</td> <td>الكاسافا</td> <td>الشاي والمطاط</td> </tr> </tbody> </table>	وجه المقارنة	الزراعة البسيطة البدائية	الزراعة العلمية الواسعة	مناطق الانتشار	أطراف الغابات ومناطق الحشائش منغوليا	المزارع الواسعة إندونيسيا	أهم المحاصيل	الكاسافا	الشاي والمطاط	
وجه المقارنة	الزراعة البسيطة البدائية	الزراعة العلمية الواسعة									
مناطق الانتشار	أطراف الغابات ومناطق الحشائش منغوليا	المزارع الواسعة إندونيسيا									
أهم المحاصيل	الكاسافا	الشاي والمطاط									
4	بم تفسر ارتفاع إنتاج قارة آسيا من الثروة الحيوانية؟										
	الإجابة: 1. اتساع مساحة المراعي 2. توافر الرعاية البيطرية 3-توافر أعلاف الحيوانات										



التاريخ	الدرس	الأسبوع
6 - 10/10 / 2024م	الأنشطة الاقتصادية في قارة آسيا	6

عند الإجابة على الأسئلة من 1 إلى 3، اكتب إجابتك في الفراغ المخصص للإجابة:

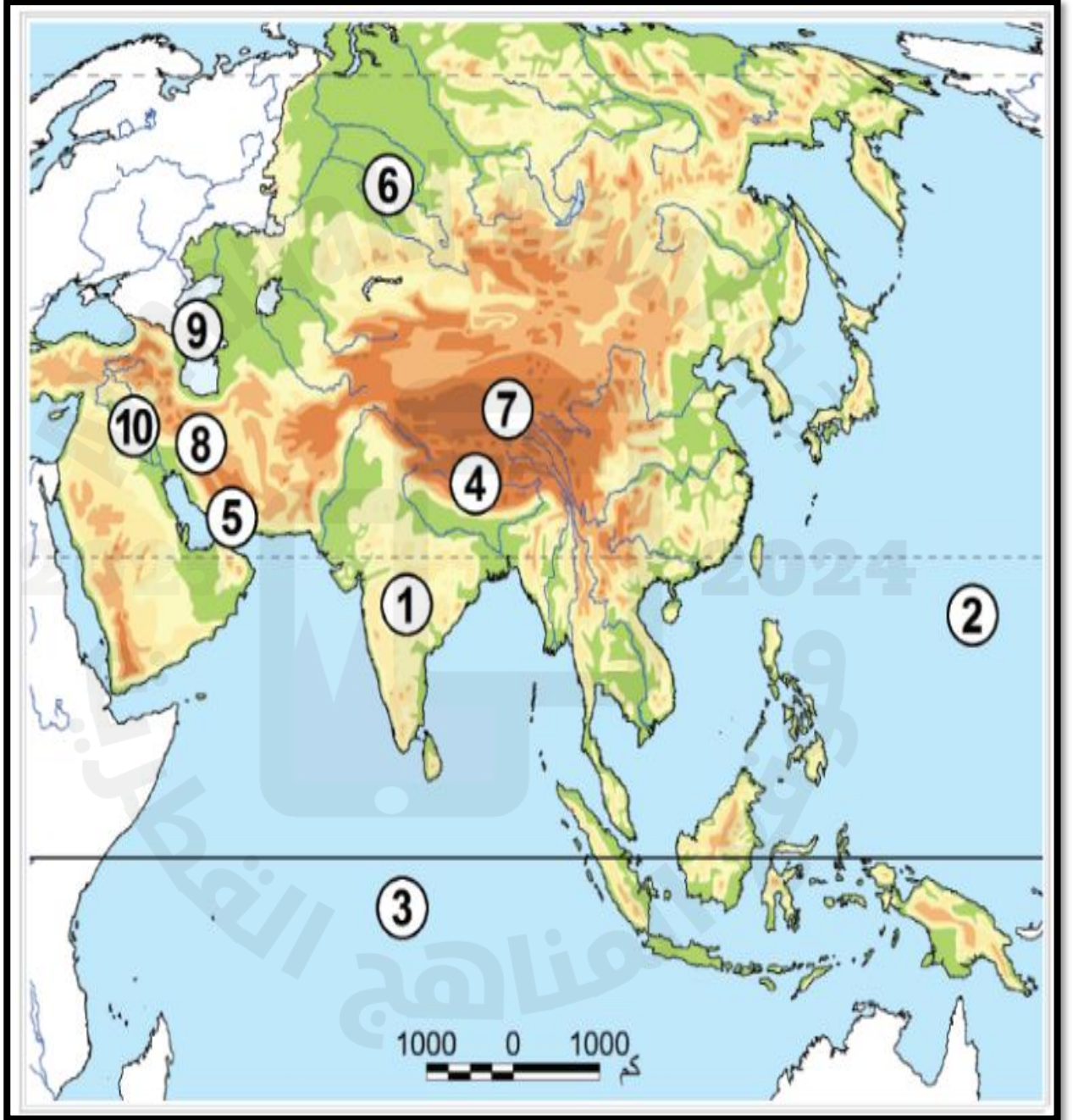
تعليمات

1	ما المشكلات التي تواجه التنمية الزراعية في قارة آسيا؟
الإجابة:	
1- قلة المساهمة في التجارة الدولية.	
2- ضعف الإمكانيات المادية.	
3- الفيضانات	
4- الجفاف	
2	قارن بين الصادرات والواردات في قارة آسيا كما في الجدول أدناه:
أمثلة الصادرات	أمثلة الواردات
المنتجات البترولية والزراعية - الأجهزة الالكترونية - السيارات	المواد الغذائية - الأسلحة - المواد الخام البترولية



3 أمامك خريطة لقارة اسيا اكتب ما تشير إليه الأرقام المدونة عليها؟

- 1 - هضبة الدكن
- 2 - المحيط الهادي
- 3 - المحيط الهندي
- 4 - جبال الهيمالايا
- 5 - مضيق هرمز
- 6 - سهول سيبيريا
- 7 - هضبة التبت
- 8 - جبال زاغروس
- 9 - بحر قزوين
- 10 - نهري دجلة والفرات



انتهت الأسئلة

17