

تم تحميل هذا الملف من موقع المناهج القطرية



أسئلة مقالية مستخرجة من أسئلة السنوات السابقة

موقع المناهج ← المناهج القطرية ← المستوى الثاني عشر الأدبي ← جغرافيا ← الفصل الأول ← ملفات متنوعة ← الملف

تاريخ إضافة الملف على موقع المناهج: 19:31:46 2025-02-04

ملفات اكتب للمعلم اكتب للطالب الاختبارات الكترونية | اختبارات | حلول | عروض بوربوينت | أوراق عمل
منهج انجليزي | ملخصات وتقارير | مذكرات وبنوك | الامتحان النهائي للمدرس

المزيد من مادة
جغرافيا:

التواصل الاجتماعي بحسب المستوى الثاني عشر الأدبي



صفحة المناهج
القطرية على
فيسبوك

المزيد من الملفات بحسب المستوى الثاني عشر الأدبي والمادة جغرافيا في الفصل الأول

أسئلة مقالية مستخرجة من أسئلة السنوات السابقة	1
حل الاختبار التجريبي الوزاري لنهاية الفصل الأول ٢٠٢٢م	2
الاختبار التجريبي الوزاري لنهاية الفصل الأول ٢٠٢٢م	3
كتاب الطالب الفصل الأول 2022-2023	4

أوضح شروط حدوث التكاثف؟

1-.....

2-.....

3-.....

ب- عدد أنواع المطر؟

1-.....

2-.....

3-.....

ج- اجب عن الاتي

1-وضح أنواع البحيرات حسب النشأة؟

1-.....

2-.....

3-.....

2-وضح مصادر المياه الجوفية العذبة ؟

1-.....

2-.....

3-اكتب ما تدل عليه الأرقام علي الخريطة التي امامك؟

1-نهر:.....

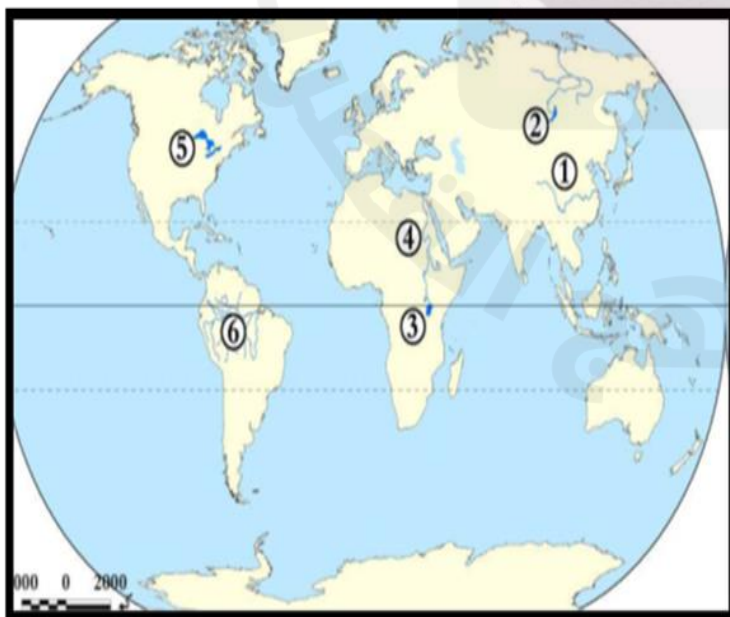
2-بحيرة:.....

3-بحيرة:.....

4-نهر:.....

5-البحيرات:.....

6-نهر:.....



أ- اجب عن الآتي :

1- اذكر العوامل المؤثرة في شفافية ولون مياه البحار والمحيطات؟

--1
-2
-3

2- وفي جدول قارن بين الأمواج الاهتزازية و الارتطامية

الارتطامية	الاهتزازية
.....

ب- اجب عن الآتي:

1- وضح أهمية مياه البحار والمحيطات (الأنهار - التيارات البحرية)؟

--1
-2
-3

2- عدد منابع نهر النيل؟

--1
-2
-3

3- وضح أهمية الندي للنبات؟

--1
-2

4- وضح الأهمية الاقتصادية لنهر الدانوب؟

--1
-2

أ- اجب عن الآتي:

1- وضح عوامل تشكل التضاريس تحت سطح البحار والمحيطات؟

--1
-2

2- عرف ما المقصود بالاتي ؟

أ-الندي؟

ب-الجنديل؟

ج-الحوض؟

د-الخائق؟

هـ-الوادي:

ب-دلل على دور قطر في الحفاظ علي طبقة الأوزون؟

-1

-2

-3

ج-اجب عن الاتي:

1-وضح العوامل المؤثرة في تسرب المياه الجوفية الي باطن الأرض؟

-1

-2

2-وضح شروط حدوث الضباب (الندي - المطر - التكاثف -) ؟

-1

-2

-3

3-وضح أهمية الرصيف القاري؟

-1

-2

4-عدد الدول التي توجد بها بحيرة فيكتوريا ؟

-1

-2

-3

5-اذكر العوامل المؤثرة في كثافة مياه البحار والمحيطات؟

-1

-2

6-وضح أهمية الغلاف الجوي ؟

--1
-2
-3
-4

7-عدد مصادر تلوث المياه الجوفية الناتجة عن نشاطات الإنسان؟

--1
-2
-3

8-عدد أنواع الآبار؟

--1
-2

9-وضح شروط حدوث الشلال؟

--1
-2

10-بم تفسر... أهمية السحب ؟

--1
-2

11-وضح دو قطر في الحفاظ علي المياه الجوفية ؟

--1
-2
-3
-4

12-بم تفسر... تناقص المياه الجوفية في قطر؟

--1
-2
-3

13- عدد شروط حدوث وتكون الدالة ؟

.....-1

.....-2

.....-3

14- وضح أهمية طبقة الأوزون؟

.....-1

.....-2

15- بم تفسر ... ملائمة طبقة الستراتوسفير لحركة الطيران .

.....-1

.....-2

15- عدد مصادر الاجسام الصلبة؟

.....-1

.....-2

16- عدد مكونات الغلاف الجوي؟

.....-1

.....-2

.....-3

17- قارن بين أنواع الضباب ؟

المقارنة	الاشعاعي	المنقول	الجبهات	السفوح
السبب
المكان

18- وضح وجه الشبه و الاختلاف بين الندى و الصقيع ؟

وجه المقارنة	الندى	الصقيع
وجه التشابه
وجه الاختلاف

19- عدد وسائل المزارعين لحماية النبات من الصقيع؟

.....-1

.....-2

20- عدد اضرار البرد للنبات؟

.....-1

.....-2

21- عدد اشكال التضاريس تحت مياه البحار والمحيطات؟

.....-1

.....-2

.....-3

22- وضح عوامل حدوث المد و الجزر ؟

.....-1

.....-2

.....-3

23- وضح خصائص مرحلة نضج النهر ؟

.....-1

.....-2

.....-3

24- قارن بين مرحلتي الشباب و الشيخوخة ؟

مرحلة الشيخوخة	مرحلة الشباب	وجه المقارنة
.....	الخصائص
.....	المظاهر

25- وضح العوامل المؤثرة في كمية و طول النهر (مستوي المياه الجوفية) ؟

.....-1

.....-2

.....-3

26- وضح العوامل المؤثرة في الامطار التضاريسية ؟

.....-1

.....-2

.....-3

27-وضح العوامل البشرية المؤثرة في مستوى المياه الجوفية؟

1-.....

2-.....

28-"تتميز المياه الجوفية بالعديد من الخصائص و المزايا " في ضوء العبارة وضح تلك المزايا ؟

1-.....

2-.....

3-.....

29-وضح وجهة الاختلاف بين كلا من طبقتي التربوسفير و الميزوسفير

الميزوسفير	التربوسفير
.....
.....

30-قارن بين كلا من الجندل و الشلال؟

المقارنة	الجندل	الشلالات
التعريف
امثلة

31-قارن بين بحيرة بايكال و البحيرات العظمى من حيث النشأة و المكان ؟

وجه المقارنة	بايكال	البحيرات العظمى
المكان
سبب النشأة

32-ما العلاقة بين كلا من كثافة مياه البحار وحركات المياه ؟

.....

33-عرف ما المقصود بالاتي :

أ-الغلاف الجوي؟

ب-الينبوع:

ج-المياه الجوفية:

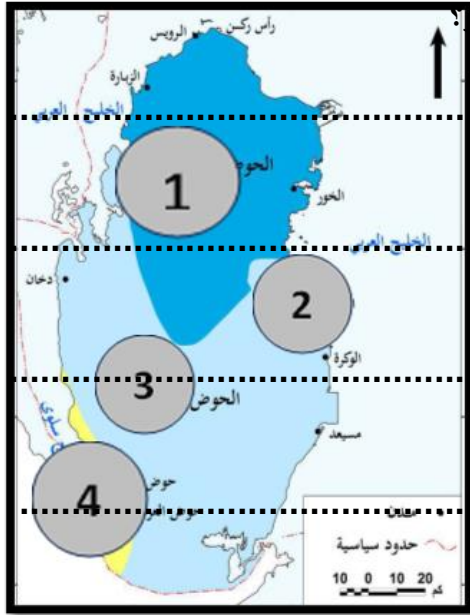
د-المد والجزر؟

34-وضح أسباب تكون التيارات البحرية ؟

1-.....

2-.....

34- اكتب اسم الخزان الجوفي الذي تشير إليه الأرقام التالية على خريطة قطر؟



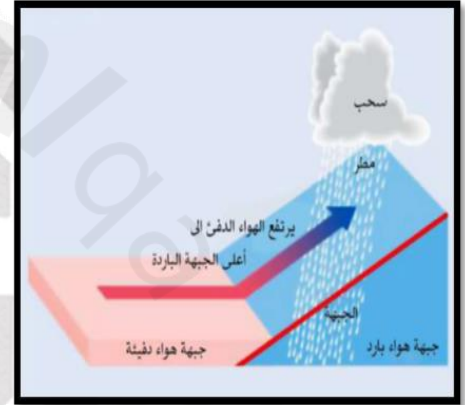
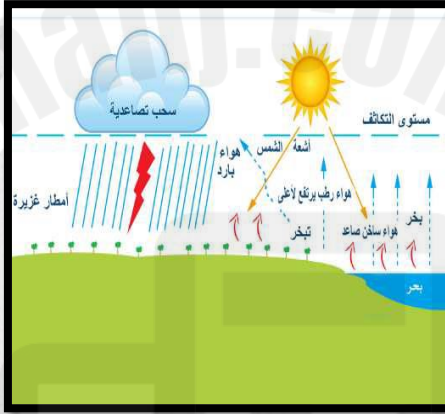
1-حوض:

2-حوض:

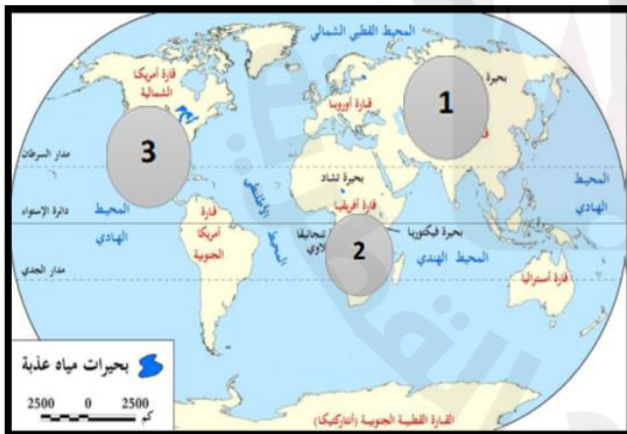
3-حوض:

4-حوض:

35- اكتب اسم الامطار التي امامك ؟



36- اكتب ما تدل عليه الأرقام علي الخريطة؟



1-بحيرة:

2-بحيرة:

3-بحيرة:

37- قارن بين المحيط الاطلنطي و الهادي من حيث (التيارات - الأنهار)

المحيط الاطلنطي	المحيط الهندي	المحيط الهادي	وجه المقارنة
.....	التيارات البحرية
.....	الانهار