

تم تحميل هذا الملف من موقع المناهج القطرية



* للحصول على أوراق عمل لجميع الصفوف وجميع المواد اضغط هنا

<https://almanahj.com/qa>

* للحصول على أوراق عمل لجميع مواد المستوى الثاني عشر الأدبي اضغط هنا

<https://almanahj.com/qa/16>

* للحصول على جميع أوراق المستوى الثاني عشر الأدبي في مادة جغرافيا وجميع الفصول, اضغط هنا

<https://almanahj.com/qa/16geography>

* للحصول على أوراق عمل لجميع مواد المستوى الثاني عشر الأدبي في مادة جغرافيا الخاصة بـ الفصل الثاني اضغط هنا

<https://almanahj.com/qa/16geography2>

* لتحميل كتب جميع المواد في جميع الفصول للمستوى الثاني عشر الأدبي اضغط هنا

<https://almanahj.com/qa/grade16>

* لتحميل جميع ملفات المدرس مدرسة الأندلس اضغط هنا

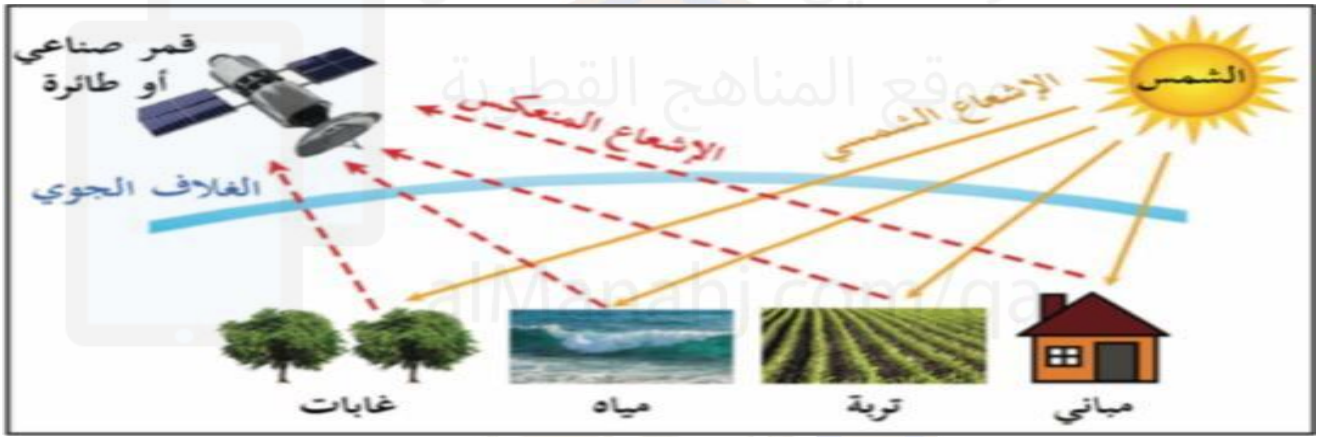
للتحدث إلى بوت المناهج القطرية على تلغرام: اضغط هنا

https://t.me/qacourse_bot

الخرائط والأشكال

الإسم	الصف	الثاني عشر أدبي
-------	------	-----------------

من خلال الشكل الذي أمامك أجب عن الآتي :



1- ما إسم هذه التقنية المستخدمة في التخطيط العمراني؟

الاستشعار عن بُعد

2- ما المقصود بهذه التقنية؟

عملية للكشف عن الخصائص الطبيعية لمنطقة ما ومراقبتها من خلال الإشعاع المنبعث من مسافة بعيدة وذلك باستخدام أجهزة محمولة على الأقمار الصناعية والطائرات

3- ما أهمية هذه التقنية في التخطيط العمراني؟

1- دراسة محاور النمو العمراني

2- وضع خطط عمرانية مستقبلية دقيقة

3- توفير البيانات والمعلومات اللازمة للتخطيط العمراني



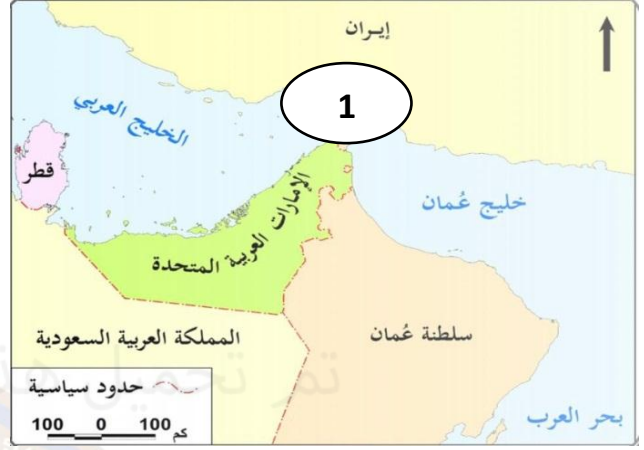
مجمع الأندلس التعليمي Al Andalus Educational Complex

مدرسة الأندلس الابتدائية الإعدادية الثانوية الخاصة للبنات
تحت إشراف وزارة التربية والتعليم والتعليم العالي

ما مدلول الأرقام الموضحة على الخرائط الآتية :



2- قناة بنما



1- مضيق هرمز

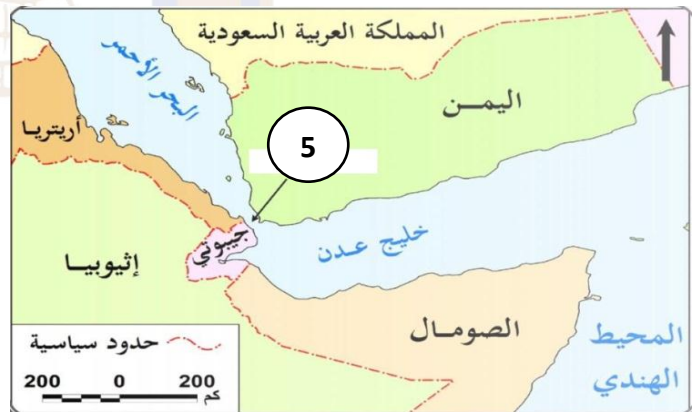


4- مضيق الدردنيل

3- مضيق البسفور



6- قناة السويس



5- مضيق باب المندب

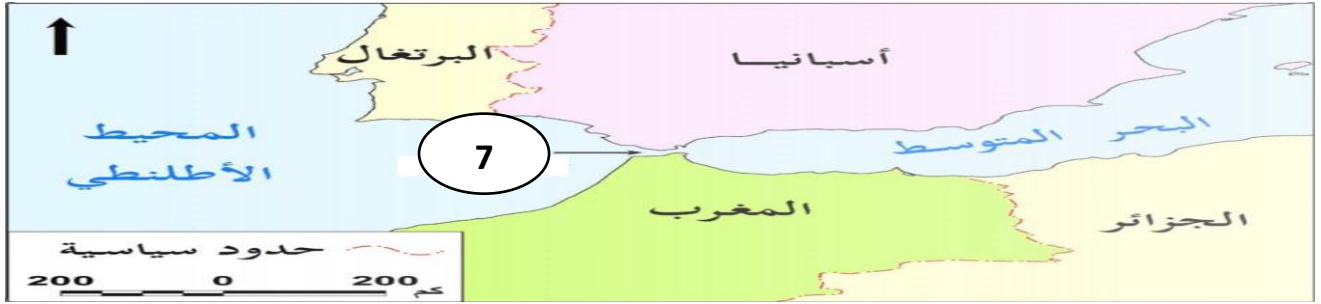
رؤية المدرسة : تَعَلَّمَ عَصْرِيٌّ مُلْهِمٌ بِهُوِيَّةٍ وَطَنِيَّةٍ وَقِيَمٍ إِسْلَامِيَّةٍ



مجمع الأندلس التعليمي

Al Andalus Educational Complex

مدرسة الأندلس الابتدائية الإعدادية الثانوية الخاصة للبنات
تحت إشراف وزارة التربية والتعليم والتعليم العالي

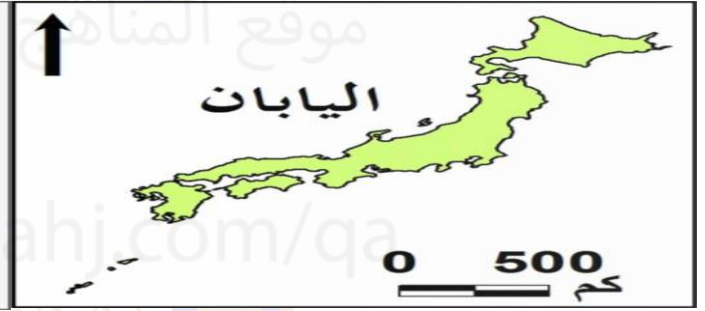


7- مضيق جبل طارق

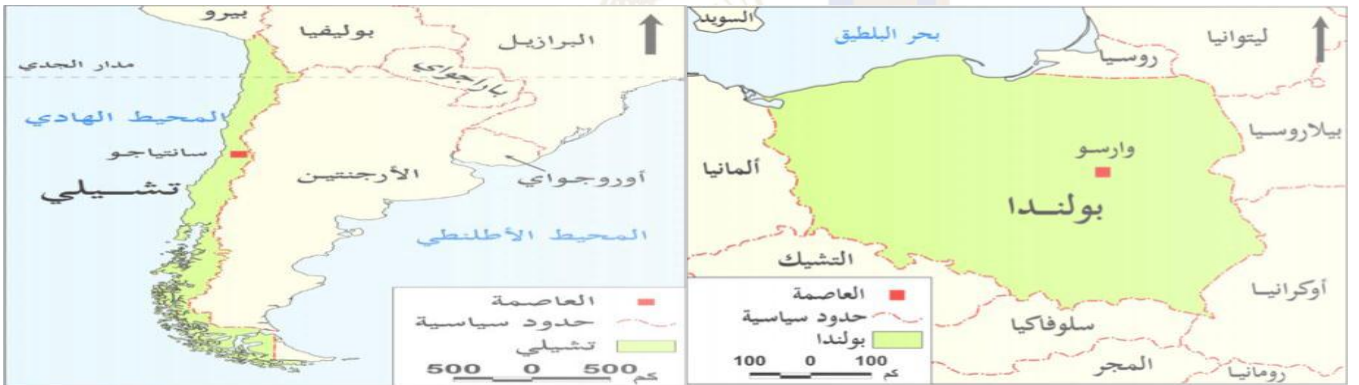
اذكر أشكال الدول في الخرائط التالية :



المنتظم



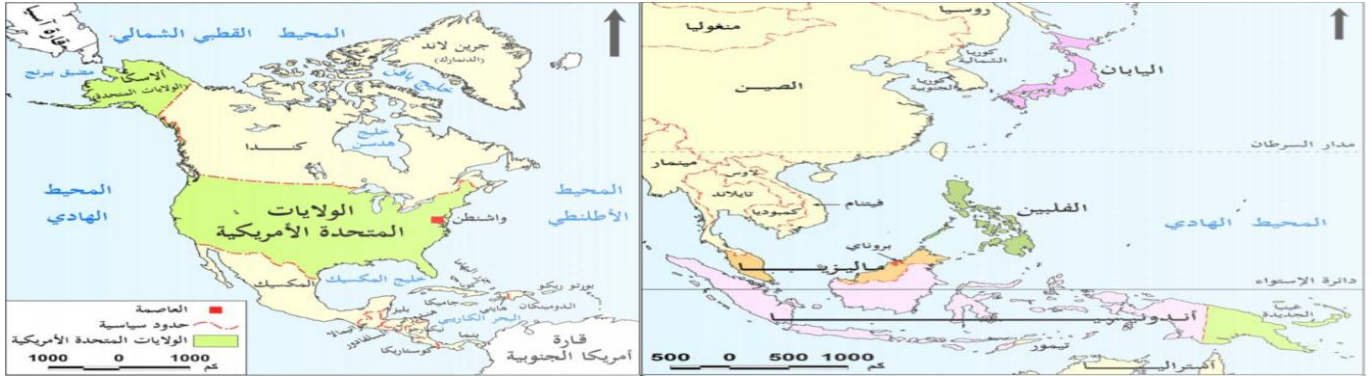
المجزأ



المستطيل

المنتظم

رؤية المدرسة : تَعَلَّمَ عَصْرِيٌّ مُلْهِمٌ بِهُوِيَّةٍ وَطَنِيَّةٍ وَقِيَمٍ إِسْلَامِيَّةٍ



برية مجزأة

بحرية مجزأة

من خلال الخرائط التي أمامك أجب عن الآتي :



(ج)

(ب)

(أ)

1- سم كل شكل من الأشكال التي أمامك.

(أ)- برية بحرية مجزأة (ب)- المثقب (الجيوب) (ج)- المنتظم

2- عدد مزايا الشكل (ج).

1- سهولة الدفاع عنها 2- ترابط سكان الدولة 3- سهولة إنشاء شبكة نقل ومواصلات

3- بم تفسر : تواجه دولة تشيلي والنرويج بعض الصعوبات بسبب شكلهما المستطيل.

1- عزلة بعض مدنها عن العاصمة

2- صعوبة الدفاع عن كل أطراف الدولة

3- صعوبة إدارة الدولة وربطها بشبكة نقل ومواصلات

رؤية المدرسة : تَعَلَّمْ عَصْرِيْ مُلْهِمٌ بِهُوِيَّةٍ وَطَنِيَّةٍ وَقِيَمِ إِسْلَامِيَّةٍ

من خلال الخرائط التي أمامك أجب عن الآتي :



(ب)



(أ)

1- سم كل شكل من الأشكال التي أمامك.

(أ) - المستطيل (ب) - المثقب (الجيوب)

2- اذكر عيوب الشكل (ب).

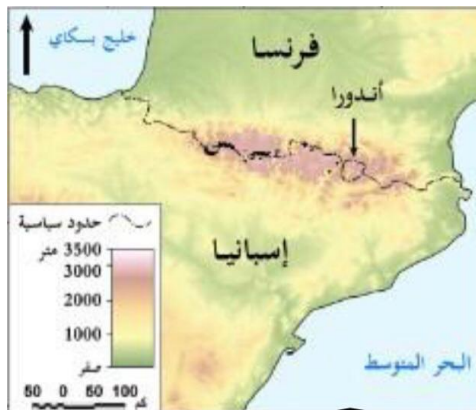
تكون دول الجيوب الداخلية تابعة كلية للدول المطوقة لها من الناحية السياسية والاقتصادية

3- عدد مزايا الشكل (أ).

1- تنوع المناخ

2- تنوع الموارد والإنتاج الزراعي

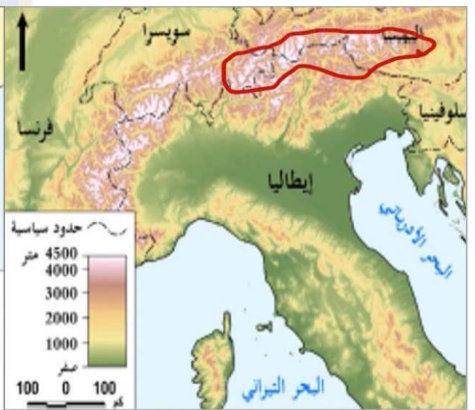
من خلال الخرائط الآتية أكتب أسماء الجبال التي تتخذ حدوداً طبيعية بين الدول :



جبال البرانس



جبال الإنديز



جبال الألب

رؤية المدرسة : تَعَلَّمْ عَصْرِيْ مُلْهِمْ بِهُوِيَّةٍ وَطَنِيَّةٍ وَقِيَمِ إِسْلَامِيَّةٍ

اذكر طرق تحديد الحدود النهرية التي تُشير إليها الخرائط الآتية :

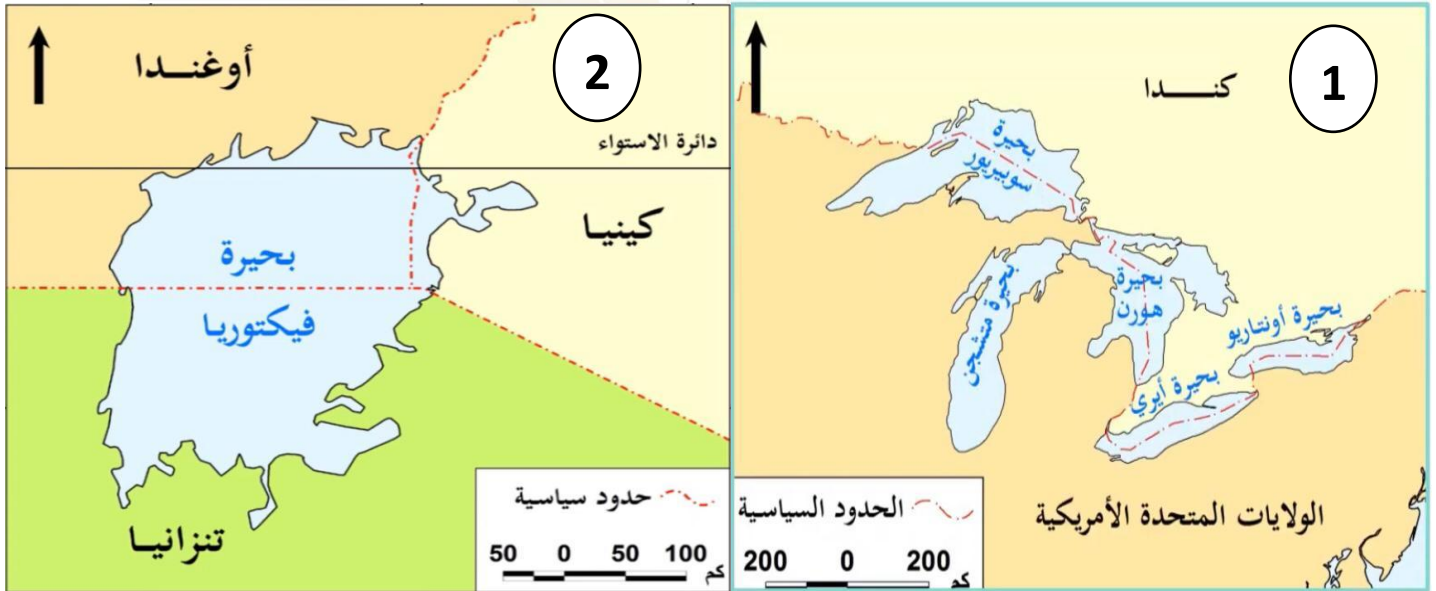


تلتزم الحدود بخط العمق الملاحي

تلتزم الحدود بخط المنتصف

تلتزم الحدود بإحدى ضفتي النهر

ما أنواع الحدود الظاهرة في الخرائط التالية :



حدود تقسم البحيرة وفقاً لاتفاق دولي

حدود تتفق مع الخط الأوسط للبحيرة

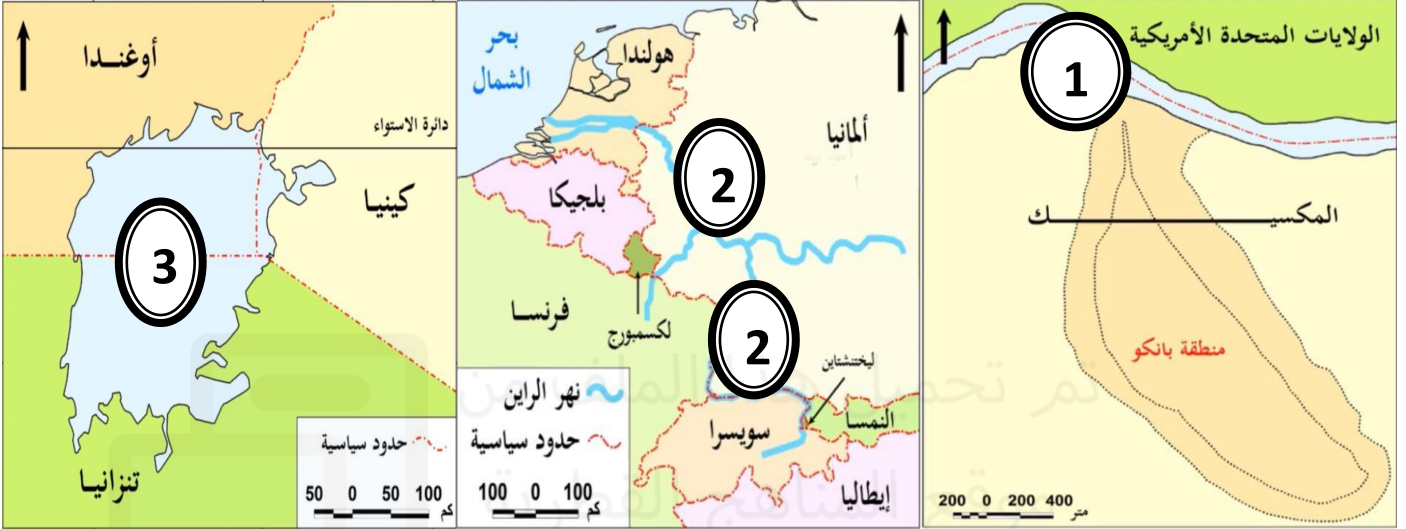
رؤية المدرسة : تَعَلَّمَ عَصْرِيٌّ مُلْهِمٌ بِهُوِيَّةٍ وَطَنِيَّةٍ وَقِيَمٍ إِسْلَامِيَّةٍ



مجمع الأندلس التعليمي Al Andalus Educational Complex

مدرسة الأندلس الابتدائية الإعدادية الثانوية الخاصة للبنات
تحت إشراف وزارة التربية والتعليم والتعليم العالي

أكتب ما تشير إليه الخرائط الآتية :

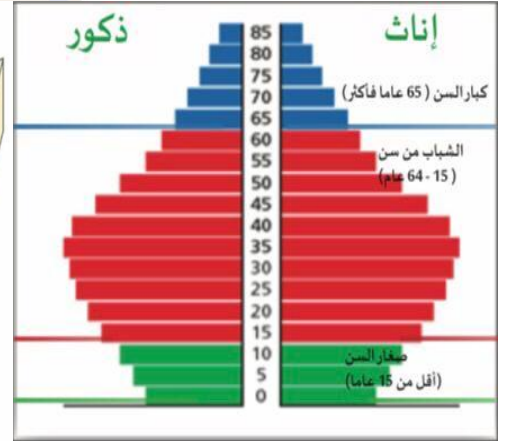
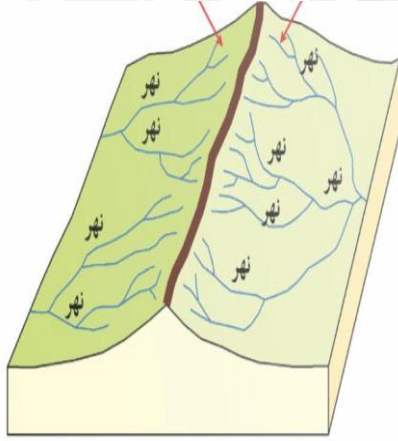
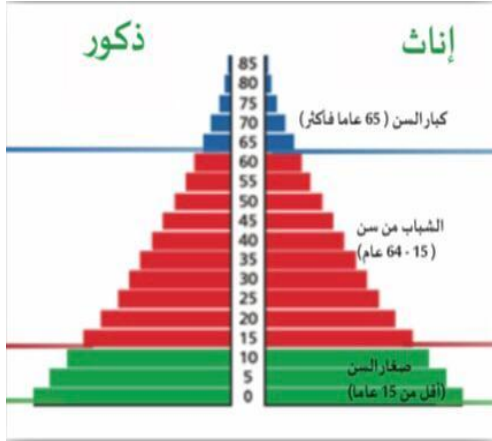


بحيرة فيكتوريا

نهر الراين

نهر الريدجراند

أكتب ما تدل عليه الأشكال التي أمامك.

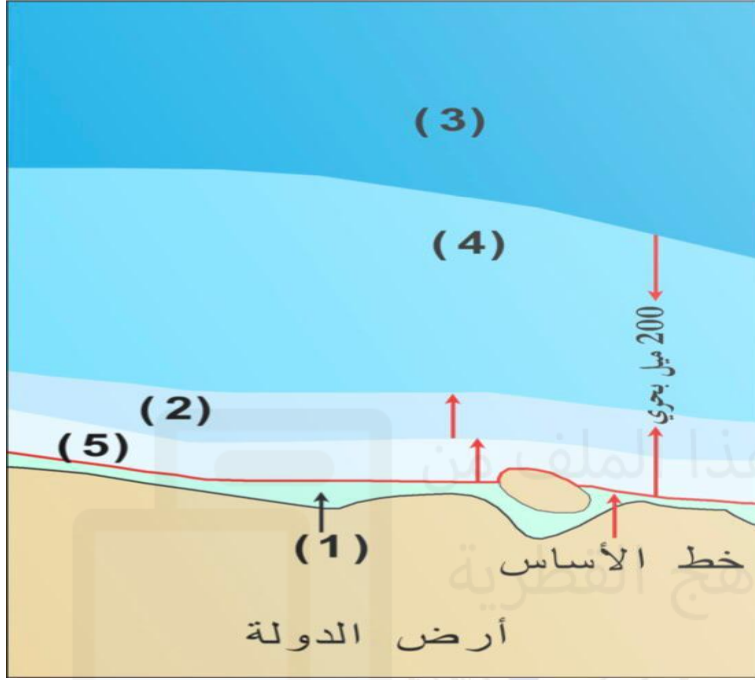


هرم سكاني لدولة يتزايد سكانها

خط تقسيم المياه

هرم سكاني لدولة يتناقص سكانها

رؤية المدرسة : تَعَلَّمَ عَصْرِيٌّ مُلْهِمٌ بِهُوِيَّةٍ وَطَنِيَّةٍ وَقِيَمٍ إِسْلَامِيَّةٍ



أكتب مدلول الأرقام على شكل نطاقات
المياه البحرية :

1- المياه الداخلية

2- المياه الملاصقة

3- أعالي البحار

4- المنطقة الاقتصادية الخالصة

5- المياه الإقليمية

أعط مثلاً لكل من أنواع الدول البحرية :

1- دول تطل على سطح مائي واحد بجهة بحرية طويلة.

تشيلي - البرازيل

2- دول تطل على سطح مائي واحد بجهة بحرية قصيرة.

السودان - بلجيكا

3- دول تطل على مسطحين مائيين.

السعودية - المغرب - فرنسا

4- دول شبه جزرية تطل على أكثر من سطح مائي.

الهند - إيطاليا

5- دول بحدود بحرية كاملة (جزرية).

بريطانيا - اليابان - أيسلندا

رؤية المدرسة : تَعَلَّمْ عَصْرِيْ مُلْهِمٌ بِهُوِيَّةٍ وَطَنِيَّةٍ وَقِيَمٍ إِسْلَامِيَّةٍ



مجمع الأندلس التعليمي

Al Andalus Educational Complex

مدرسة الأندلس الابتدائية الإعدادية الثانوية الخاصة للبنات
تحت إشراف وزارة التربية والتعليم والتعليم العالي

أمثلة على الدول الحبيسة



اذكر مثالا لكل مما يأتي :

1- دولة تجاورها 14 دولة.

الصين

2- دول يجاورها عدد قليل من الدول.

مثل : (البرتغال وأسبانيا)
(كندا والولايات المتحدة
الأمريكية)

3- دولة تجاورها 7 دول.

السودان

4- دولة تجاورها 10 دول.

البرازيل

5- دولة ذات حدود بعيدة عن بعضها.

المملكة المتحدة

رؤية المدرسة : تَعَلَّمَ عَصْرِيٌّ مُلْهِمٌ بِهُوِيَّةٍ وَطَنِيَّةٍ وَقِيَمٍ إِسْلَامِيَّةٍ



مجمع الأندلس التعليمي Al Andalus Educational Complex

مدرسة الأندلس الابتدائية الإعدادية الثانوية الخاصة للبنات
تحت إشراف وزارة التربية والتعليم والتعليم العالي

أعط مثالا لكل من أشكال الدول التالية



المنتظم المستطيل المثلث (الجيوب) بحرية مجزأة برية مجزأة برية بحرية مجزأة

إيطاليا	الاسكا التابعة للولايات المتحدة وتفصلهما كندا	1- اليابان 2- الفلبين 3- أندونيسيا	1- سان مارينو 2- الفاتيكان 3- ليسوتو	1- تشيلي 2- السويد 3- النرويج 4- إيطاليا	1- فرنسا 2- بلجيكا 3- بولندا 4- كينيا
---------	---	--	---	---	--

أكتب أمثلة على الدول حسب أشكال السطح الآتية



دول تتنوع فيها مظاهر السطح

1- الولايات المتحدة الأمريكية
2- روسيا
3- الصين
4- فرنسا

دول جبلية

1- سويسرا
2- اليابان

دول سهلية

1- هولندا
2- الدنمارك
3- ألمانيا

رؤية المدرسة : تَعَلَّمَ عَصْرِيٌّ مُلْهِمٌ بِهُوِيَّةٍ وَطَنِيَّةٍ وَقِيَمٍ إِسْلَامِيَّةٍ



مجمع الأندلس التعليمي

Al Andalus Educational Complex

مدرسة الأندلس الابتدائية الإعدادية الثانوية الخاصة للبنات
تحت إشراف وزارة التربية والتعليم والتعليم العالي

اذكر أمثلة على الحدود الجبلية بين الدول.

1- جبال الهيمالايا بين الهند والصين

2- جبال الإنديز بين تشيلي والأرجنتين

3- جبال الألب بين النمسا وإيطاليا

4- جبال البرانس بين فرنسا وأسبانيا

اذكر مثالا لكل من أنواع الحدود التالية :

1- حدود سياسية تلتزم بإحدى ضفتي النهر.

الحدود بين العراق وإيران في منطقة شط العرب

2- حدود نهريّة تلتزم بخط المنتصف.

نهر الريوجراند بين الولايات المتحدة والمكسيك

3- ترسيم الحدود في أعرق منطقة في المجرى النهري.

الحدود بين فرنسا وألمانيا على طول نهر الراين

4- حدود تتفق مع الخط الأوسط للبحيرة إذا كانت البحيرة تقع بين دولتين.

1- البحيرات العظمى بين كندا والولايات المتحدة الأمريكية

2- بحيرة تنجانيقا بين الكونغو الديمقراطية وتنزانيا

5- حدود تقسم البحيرة وفقاً لاتفاق دولي إذا كانت البحيرة تقع بين عدة دول.

بحيرة فيكتوريا بين أوغندا وتنزانيا وكينيا

عبير يوسف

منسقة القسم

عبير يوسف

معلمتك

أتمنى لكن كل التوفيق والنجاح

رؤية المدرسة : تَعَلَّمَ عَصْرِيٌّ مُلْهِمٌ بِهُوِيَّةٍ وَطَنِيَّةٍ وَقِيَمٍ إِسْلَامِيَّةٍ