

تم تحميل هذا الملف من موقع المناهج القطرية



أسئلة اختيار من متعدد مستخرجة من أسئلة السنوات السابقة

موقع المناهج ← المناهج القطرية ← المستوى الثاني عشر الأدبي ← جغرافيا ← الفصل الأول ← ملفات متنوعة ← الملف

تاريخ إضافة الملف على موقع المناهج: 19:34:12 2025-02-04

ملفات اكتب للمعلم اكتب للطالب الاختبارات الكترونية الاختبارات ا حلول اعروض بوربوينت ا أوراق عمل
منهج انجليزي ا ملخصات وتقارير ا مذكرات وبنوك الامتحان النهائي للمدرس

المزيد من مادة
جغرافيا:

التواصل الاجتماعي بحسب المستوى الثاني عشر الأدبي



صفحة المناهج
القطرية على
فيسبوك

المزيد من الملفات بحسب المستوى الثاني عشر الأدبي والمادة جغرافيا في الفصل الأول

أسئلة مقالية مستخرجة من أسئلة السنوات السابقة	1
حل الاختبار التجريبي الوزاري لنهاية الفصل الأول ٢٠٢٢م	2
الاختبار التجريبي الوزاري لنهاية الفصل الأول ٢٠٢٢م	3
كتاب الطالب الفصل الأول 2022-2023	4

1- أي الغازات التالية من الغازات الخفيفة في طبقات الغلاف الجوي؟

أ- الاوزون

ب- النتروجين

ج- الاوكسجين

د- الهيدروجين

2- أي من الآتي من بحار المحيط الهادي ؟

أ- جاوة

ب- الميت

ج- الاسود

د- المتوسط

3- أي من أنواع الضباب التالية يحدث بسبب التقاء كتل هوائية باردة مع دافئة ؟

أ- الجبهات

ب- السفوح

ج- المنقول

د- الاشعاعي

4- في أي الطبقات تحدث ظاهرة الغيوم الصدفية ؟

أ- التروبوسفير

ب- الترموسفير

ج- الميزوسفير

د- الستراتوسفير

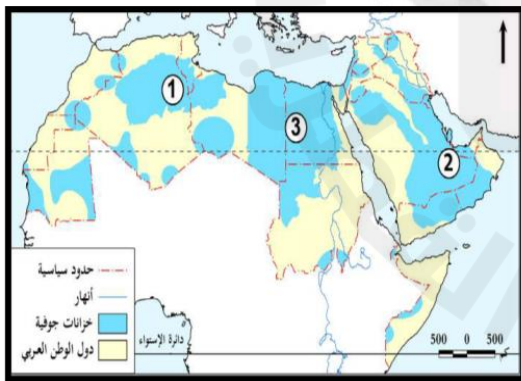
5- أي الأرقام التالية يشير الي الحوض الرملي النوبي ؟

أ- (1)

ب- (2)

ج- (3)

د- (4)



6- اي الظواهر التالية تحدث في مرحلة شيخوخة النهر ؟

أ- الجندل

ب- الشلال

ج- الدالة

7- في الي الدول توجد ينابيع جبال الالب ؟

أ- فرنسا

ب- المانيا

ج- إيطاليا

8- في أي القارات توجد شلالات نياجرا؟

أ- آسيا

ب- أفريقيا

ج- استراليا

د- أمريكا الشمالية

9- من التيارات البحرية الباردة في المحيط الهادي تيار؟

أ- بيرو

ب- كناري

ج- الخليج

د- كاليفورنيا

10- يشير الرقم (1) الي حوض نهر؟

أ- النيل

ب- الدانوب

ج- الامازون

د- المسيسيبي

11- "اودية طويلة شديدة العمق" يشير التعريف الي؟

أ- الخنادق

ب- المنحدر القاري

ج- المرتفع القاري

د- الرصيف القاري

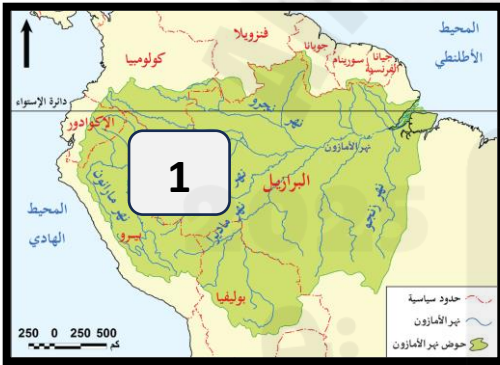
12- تبلغ نسبة المياه العذبة علي سطح الكرة الأرضية ؟

أ- 2.5%

ب- 97.5%

ج- 5.2%

د- 79.5%



13-تقلّ درجات الحرارة كلما ارتفعنا الي اعلى عن مستوى سطح البحر بمعدل درجة لكل؟

أ-100م

ب-150م

ج-250م

14-أي الامراض التالية يحمي الغلاف الجوي الانسان منها؟

أ-القلب

ب- سرطان الجلد

ج- سرطان المعدة

15-يتكون البرد في سحب الركام المزني نتيجة؟

أ- التيارات الهوائية الهابطة

ب- التيارات الهوائية الصاعدة

ج- شدة الرطوبة وانخفاض درجة الحرارة

د- اختلاف درجات الحرارة في طبقات الجو

16-اكثر الغازات في الغلاف الجوي هو غاز؟

أ-الهيليوم

ب-النتروجين

ج-الاووكسجين

17-تبلغ نسبة المياه المالحة علي سطح الكرة الأرضية؟

أ-2.5%

ب-79.5%

ج-97.5%

18-يتصل بحر البلطيق بالمحيط؟

أ-الهادي

ب-الهندي

ج-القطبي

د-الاطلنطي

19-توجد شالات الاورنج في قارة؟

أ-افريقيا

ب-آسيا

ج-أمريكا الجنوبية

د-أمريكا الشمالية

20-توجد ينابيع الابلاش في دولة ؟

أ-إيطاليا

ب-روسيا

ج-مصر و السودان

د-الولايات المتحدة الامريكية

21- تظهر الصورة التي امامك حوض نهر ؟

أ-النيل

ب-الراين

ج-الامازون

د-الميسيسيبي



22- في أي الطبقات التالية تحدث ظاهرة الوهج القطبي؟

أ-الثرموسفير

ب- التروبوسفير

ج- الاكسوسفير

د- الستراتوسفير

23- تكثر السحب في وسط اوروبا في فصل؟

أ-الربيع

ب-الصيف

ج-الشتاء

24- اكثر الاملاح تواجد في البحار و المحيطات هو ملح ؟

أ- الماغنسيوم

ب- كلوريد الصوديوم

ج- كلوريد البوتاسيوم

25- تتميز مرحلة شباب النهر بوجود ظاهرة ؟

أ-الخائق

ب-الدالات

ج-الاسر النهري

26- أي البحيرات التالية هي اضخم بحيرة من حيث حجم المياه العذبة ؟

أ-تانا

ب-بايكال

ج-فيكتوريا

27- " الأراضي المنخفضة علي جانبي النهر " يشير التعريف الي مفهوم؟

أ-المنبع

ب- الوادي

ج-الحوض

د- المصب

28-أي الغازات التالية من الغازات الخفيفة في طبقات الغلاف الجوي؟

أ-الاوزون

ب-الاوكسجين

ج-الهيدروجين

29-أي من الاتي من جزر المحيط الهادي ؟

أ- البحرين

ب- هاواي

ج-جرينلاندا

30-أي من أنواع الضباب التالية يحدث بسبب تحرك الهواء افقيا في المناطق الساحلية ؟

أ- الجبهات

ب-السفوح

ج-المنقول

31-اي الاحواض المائية التالية هو اكبر الاحواض في شمال افريقيا ؟

أ-فران

ب-العرق الصغير

ج-الرملي النوبي

32- تكثر الحفر الوعائية في انهار دولة؟

أ-ايسلندا

ب-نيوزيلاندا

32-"صخور صلبة تعترض مجري النهر " يشير التعريف الي ؟

أ- الخانق

ب-الجنديل

ج-الشلال

د-منعطف الشباب

33- أي الغازات التالية تعكس الأشعة الضارة ؟

أ- الأوزون

ب- الأوكسجين

ج- النيتروجين

د- الهيدروجين

34- من جزر المحيط الاطلنطي جزيرة ؟

أ- البحرين

ب- هاواي

ج- جرينلاند

35- من البحيرات البركانية بحيرة ؟

أ- تانا

ب- بايكال

ج- مفكتوريا

د- الخمس العظمي

36- اي الاحواض المائية التالية توجد في دولة ليبيا؟

أ- فزان

ب- العرق الصغير

ج- العرق الكبير

37- اي الطبقات التالية هي الامثلة للملاحة الجوية ؟

أ- التروبوسفير

ب- الميزوسفير

ج- الايونوسفير

د- الستراتوسفير

38- "قطرات مائية صغيرة تشاهد في الصباح الباكر" يشير التعريف الي مفهوم ؟

أ- الندى

ب- نقطة الندى

ج- التكاثف

د- بخار الماء

39- أي الاملاح التالية يتناقص بسبب استهلاكه من قبل الكائنات الحية ؟

أ-الصوديوم

ب-البوتاسيوم

ج-الكالسيوم

د-الهيدروجين

40- من مصادر الاجسام الصلبة النشاط ؟

أ- البركاني

ب- البيولوجي

ج-الانفجارات الكونية

د-الانفجارات الارضية

41- من امثلة السحب المنخفضة سحب؟

أ-الركام المزني

ب-الركام الطبقي

ج-المزن الطبقي

د-السمحاق الطبقي

42- اي من الاتي يعد من شروط حدوث التكاثف؟

أ-حركة الرياح

ب-رطوبة الهواء

ج-وجود السحب

د-ارتفاع درجة الحرارة

43-تبلغ نسبة غاز الاوكسجين في الغلاف الجوي ؟

أ-21%

ب-78%

ج-12%

44- تقلل السحب في وسط اوروبا في فصل؟

أ- الشتاء

ب-الصيف

ج- الربيع

د- الخريف

45- يشمل الغلاف الجوي علي كميات كبيرة من الاجسام الصلبة الدقيقة مثل ؟

أ-الغبار

ب-النتروجين

ج-الهيدرجين

د-ثاني أكسيد الكربون

46- طبقة الغلاف الجوي التي تلامس سطح الأرض هي ؟

أ-الثرموسفير

ب- التروبوسفير

ج- الاكسوسفير

د- الستراتوسفير

47- يعمل صفاء الجو علي تكون ظاهرة ؟

أ-البرد

ب-الندي

ج-الثلج

د- الصقيع

48- يرجع زيادة نسبة تركز الاملاح في مياه المحيطات الي عامل ؟

أ-التبخر

ب-الامطار

ج-ذوبان الجليد

د-مصبات الأنهار

49- أي المحيطات التالية ينفرد بضخامة و كثرة المياه العذبة المنصرفة اليه ؟

أ-الهندي

ب-الهادي

ج-الاطنطي

50- قامت حضارة الصين قديما علي نهر؟

أ-النيل

ب-اليانجستي

50- قامت حضارة الفرعونية في مصر قديما علي نهر؟

أ-النيل

ب-اليانجستي

51- تعتبر بحيرة فيكتوريا المنبع الدائم لنهر ؟

أ- النيل

ب- الدانوب

ج- الامازون

د- المسيسيبي

52- يوجد حوض العرق الكبير في دولة ؟

أ- مصر

ب- ليبيا

ج- الجزائر

د- المغرب

53- "تدفق المياه من باطن الأرض دون تدخل الانسان " يشير التعريف الي ؟

أ- الجندل

ب- الشلال

ج- الدالات

د- الينابيع

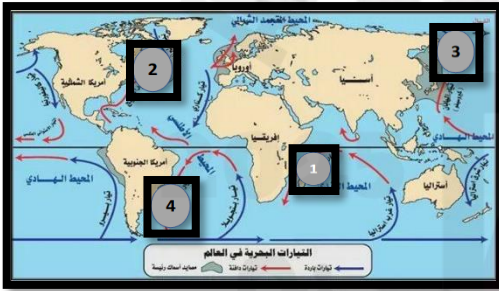
54- يشير الرقم (1) الي تيار ؟

أ- لبرادور

ب- كمتشكا

ج- موزمبيق

د- البرازيل



55- طبقة من طبقات الغلاف الجوي تعرف باسم الغلاف الحراري؟

أ- التروبوسفير

ب- الميزوسفير

ج- الثرموسفير

د- الستراتوسفير

56- تنتشر سقوط الامطار الاعاصرية في نطاق الرياح ؟

أ- التجارية

ب- العكسية

ج- القطبية

د- الموسمية

57- أي الأسباب التالية تؤدي الي تكون الجزر المحيطية ؟

أ- الرياح

ب- الامواج

ج- انحسار مياه المحيطات

د- الشعب المرجانية و البراكين

58- أي المحيطات التالية الأقل من حيث عدد الجزر ؟

أ-الهندي

ب-الهادي

ج-الاطلنطي

د-القطبي الشمالي

59- تقع البحيرات العظمي بين دولتي ؟

أ- كندا و المكسيك

ب-المكسيك و الولايات المتحدة

ج-الولايات المتحدة الامريكية و كندا

د- الولايات المتحدة الامريكية و كوستاريكا

60- أي أنواع الضباب يتكون بسبب انخفاض درجة الحرارة في منطقة الاحواض ؟

أ-السفوح

ب-المنقول

ج-الجبهات

د-الاشعاعي

61- يوجد حوض الرملي النوبي في دولة ؟

أ-مصر

ب-ليبيا

ج-الجزائر

د-جنوب افريقيا

62- طبقة الغلاف الأكثر أهمية للكائنات الحية ؟

أ-الثرموسفير

ب-الميزوسفير

ج-التربوسفير

د-الاكسوسفير

63-أقاليم تكثر فيها السحب و تتكون غالبا بعد الظهر نتيجة التيارات الصاعدة ؟

أ-المدارية

ب-الموسمية

ج- القطبية

د-الاستوائية

64-يوجد خندق مارينا في المحيط ؟

أ-الهندي

ب-القطبي

ج-الهادي

د-الاطلنطي

65-اشهر الأنهار و يتصل به اكثر من 1000 رافد هو نهر ؟

أ-النيل

ب- الامازون

ج-اليا نجستي

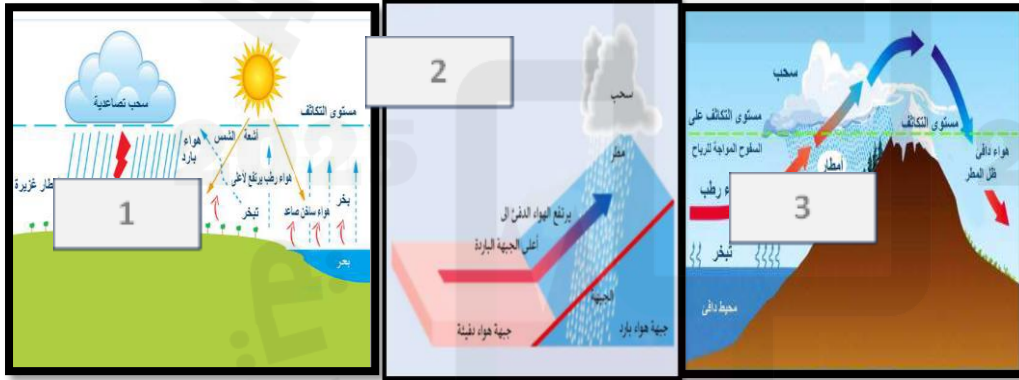
66-تشير الصورة الي امامك الي نوع الامطار (1) ؟

أ-القطبية

ب-الاعصارية

ج-التصاعدية

د-التضاريسية



67-يشير الرقم (1) الي حوض نهر ؟

أ-النيل

ب-الامازون

ج-الدانوب

د-اليانجستي

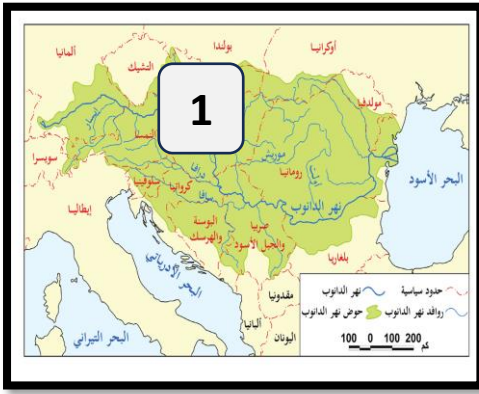


68-يشير الرقم (1) الي حوض نهر ؟

أ-النيل

ب-الامازون

ج- الدانوب



69-وجه الشبه بين طبقتي التروبوسفير و الميزوسفير ؟

أ-ارتفاع درجة الحرارة

ب-انخفاض درجة الحرارة

ج-ملائمتها لحركة الطيران

د-حماية الأرض من الشهب و النيازك

70-وجه الشبه بين الأمواج و التيارات البحرية الحدوث بسبب؟

أ-دوران القمر

ب- دوران الأرض

71-السبب المباشر في حدوث جميع صور التساقط ؟

أ-ارتفاع نسبة البخار

ب-ارتفاع الكتلة الهوائية

72-يوجد خائق كلوردوا في دولة ؟

أ-كندا

ب-الولايات المتحدة الامريكية

73-تبلغ نسبة المياه المالحة في النصف الكرة الجنوبي ؟

أ-65%

ب-75%

74-تبلغ نسبة المياه المالحة في النصف الكرة الشمالي ؟

أ-16%

ب-61%

75-أي البحيرات التالية تحتوي علي 20% من حجم المياه العذبة علي سطح الأرض و توجد في روسيا ؟

أ-بايكال

ب- الخمس العظيم