

تم تحميل هذا الملف من موقع المناهج القطرية



اختبار منتصف الفصل الموحد

موقع المناهج ← المناهج القطرية ← المستوى الثاني ← علوم ← الفصل الثاني ← اختبارات ← الملف

تاريخ إضافة الملف على موقع المناهج: 2025-02-23 11:49:00

ملفات اكتب للمعلم اكتب للطالب | اختبارات الكترونية | اختبارات | حلول | عروض بوربوينت | أوراق عمل
منهج انجليزي | ملخصات وتقارير | مذكرات وبنوك | الامتحان النهائي للمدرس

المزيد من مادة
علوم:

التواصل الاجتماعي بحسب المستوى الثاني



صفحة المناهج
القطرية على
فيسبوك

الرياضيات

اللغة الانجليزية

اللغة العربية

التربية الاسلامية

المواد على تلغرام

المزيد من الملفات بحسب المستوى الثاني والمادة علوم في الفصل الثاني

أوراق عمل في التغذية الصحية واستكشاف الضوء منتصف الفصل مع الإجابة النموذجية

1

أوراق عمل في التغذية الصحية واستكشاف الضوء

2

أوراق عمل الأندلس منتصف الفصل غير مجابة

3

أوراق عمل الأندلس منتصف الفصل مع الإجابة النموذجية

4

أوراق عمل نهاية الفصل مدرسة الأندلس مع الإجابة النموذجية

5



اسم الطالب: الثاني /
الصف: الثاني /

اختبار: منتصف الفصل الدراسي الثاني

العام الأكاديمي: 2025/2024

15

المادة: العلوم




الصف: الثاني

نوع السؤال	رقم السؤال	درجة السؤال	درجة الطالب	المُصحح	المُراجع
اختيار من متعدد	6-1	6			
مزاوجة / صل	7	2			
صح أو خطأ	8	3			
إكمال الفراغ	9	3			
الأسئلة المقالية	10	1			
المجموع		15			
المجموع لفظيًا					

المنسق قائد الطاولة: التوقيع:


اختر الإجابة الصحيحة للأسئلة من 1 إلى 6، وذلك بوضع علامة × داخل المربع المجاور للإجابة الصحيحة:

السؤال الأول	1 /.....
أي مما يلي ينتمي إلى مجموعة الخضروات والفواكه؟	
A	
B	
C	

السؤال الثاني	1 /.....
أي مما يلي ينتمي لمجموعة اللحوم؟	
A	
B	
C	

1 /.....	السؤال الثالث	
أي مما يلي مناسب كوجبة غذائية خفيفة؟		
		A
		B
		C

1 /.....	السؤال الرابع	
كم كوبا من الماء يحتاج الطفل أن يشرب يوميا ليحافظ على صحته؟		
	1	A
	3	B
	6	C

1 /.....	السؤال الخامس
أي مما يلي يُصدر الضوء بالاحتراق؟	
	A
	B
	C

1 /.....	السؤال السادس
أي مما يلي يعكس الضوء؟	
القمر	A
النار	B
المصباح	C

صل بين الجملة في العمود (أ) والصورة المناسبة في العمود (ب):

(ب)



(أ)


شفاف



2025

2024

شبه شفاف



السؤال الثامن

3 /.....

ضع علامة (✓) أمام العبارة الصحيحة، أو علامة (×) أمام العبارة الخاطئة:

1. شرب الحليب يُحافظ على نمو العظام. ()

2. تُساعدني الملصقات الغذائية لمعرفة مكونات الأطعمة المصنعة. ()

3. تُسمح الأشياء المعتمة بمرور الضوء من خلالها. ()

السؤال التاسع

3/.....

أكمل الفراغات التالية مستعيناً بصندوق الكلمات:

السكر	الرياضة	تعكس
-------	---------	------

1- للتحكم بوزن الجسم تُمارس

2- يحتوي نظام الغذاء الصحي على القليل من

3- نرى الأشياء عندما الضوء .

السؤال العاشر	1/.....
أجب عن السؤال الآتي. ما المصدر الرئيسي للضوء والحرارة على سطح الأرض؟ الإجابة:	

انتهت الأسئلة

نتمنى لكم التوفيق

