

تم تحميل هذا الملف من موقع المناهج القطرية



تدريبات اثرائية نهاية الفصل غير مجانية

[موقع المناهج](#) ← [المناهج القطرية](#) ← [المستوى الثاني](#) ← [رياضيات](#) ← [الفصل الثاني](#) ← [الملف](#)

تاريخ إضافة الملف على موقع المناهج: 2024-06-02 21:58:38

التواصل الاجتماعي بحسب المستوى الثاني



اضغط هنا للحصول على جميع روابط "المستوى الثاني"

روابط مواد المستوى الثاني على تلغرام

[الرياضيات](#)

[اللغة الانجليزية](#)

[اللغة العربية](#)

[التربية الاسلامية](#)

المزيد من الملفات بحسب المستوى الثاني والمادة رياضيات في الفصل الثاني

أوراق عمل نهاية الفصل غير مجانية مدرسة الأندلس	1
أوراق عمل نهاية الفصل مدرسة الأندلس مع الإجابة النموذجية	2
تدريبات دعم واثراء نهاية الفصل مجمع الفرقان غير مجانية	3
الامتحان الوزاري منتصف الفصل	4
أوراق عمل اثرائية منتصف الفصل مدرسة الأندلس مع الإجابة النموذجية	5

السلام عليكم ورحمة الله
وبركاته





تدریبات اِثرائیہ

ما ناتج الطرح. أستخدم الرسومات إذا لزم الأمر.

عَشْرَات	آحَاد
<input type="text"/>	<input type="text"/>
7	5
	6
<hr/>	

عَشْرَات	آحَاد
<input type="text"/>	<input type="text"/>
3	2
	6
<hr/>	

أجمع العملات المعدنية





ما قيمة 7 في العدد 478



ما قيمة 5 في العدد 549



ما قيمة 9 في العدد 329



ما قيمة 6 في العدد 164



ما قيمة 2 في العدد 428

ما تقدير طول أو ارتفاع الشيء الموضح أمامك



أ سنتيمتر تقريبًا

أ متر تقريبًا



أ سنتيمتر تقريبًا

أ متر تقريبًا


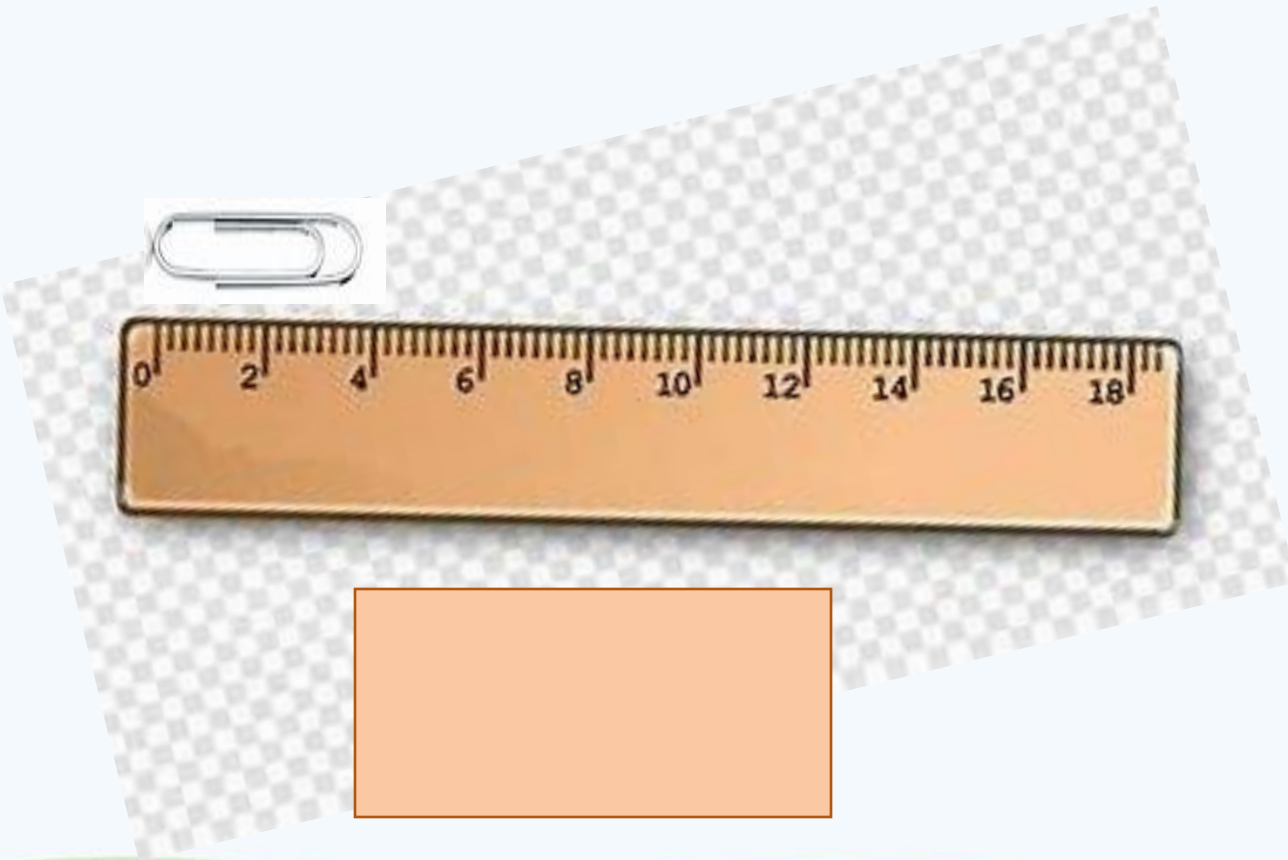


أ سنتيمتر تقريبًا

أ متر تقريبًا



ما تقدير الأطوال بالسنتيمتر؟



ما عدد الزوايا القائمة في هذا الشكل ؟

ما عدد الزوايا الحادة في هذا الشكل ؟

يوجد في منزل 22 كرسي. كسر 5
كراسي. كم كرسي بقي في المنزل ؟

يوجد في منزل 25 كرسي. كسر 7
كراسي. كم كرسي بقي في المنزل ؟

أعد تصاعدياً لإيجاد القيمة الكلية للأوراق النقدية اكتبي الجملة العددية.



حدد الوقت. اكتب الأرقام بحيث تُظهر كلتا الساعتين نفس الوقت.


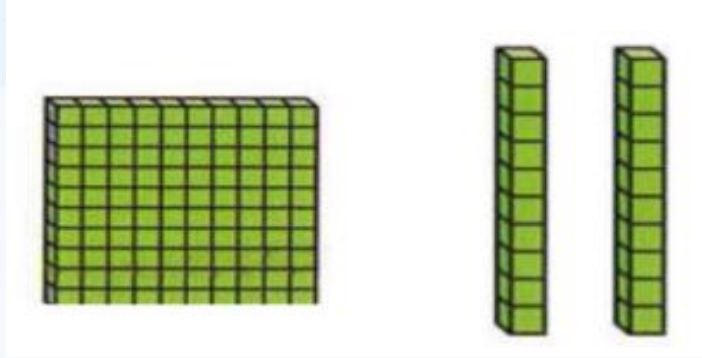


a.m أو p.m
لأحدد وقت تناول الفطور؟

a.m أو p.m
لأحدد وقت النوم ليلاً؟

a.m أو p.m
لأحدد وقت الاستيقاظ من النوم نهاراً؟

أكتب العدد. أستعمل النموذج وجدول القيمة المنزلية إذا لزم الأمر .



مِئَاتُ	عَشْرَاتُ	آحَادُ

مِئَاتُ	عَشْرَاتُ	آحَادُ

العدد

العدد

أكتب بالصيغة التحليلية

$$352 = \underline{\quad\quad\quad} + \underline{\quad\quad\quad} + \underline{\quad\quad\quad}$$

$$721 = \underline{\quad\quad\quad} + \underline{\quad\quad\quad} + \underline{\quad\quad\quad}$$

$$951 = \underline{\quad\quad\quad} + \underline{\quad\quad\quad} + \underline{\quad\quad\quad}$$


$$619 = \underline{\quad\quad\quad} + \underline{\quad\quad\quad} + \underline{\quad\quad\quad}$$

قارن بين الأعداد.

أكتب


< أو > أو =

652




132

421



852

821



821

أجمع . أرسم قوالب القيم المنزلية لتوضيح حلّي .

مئات	عشرات	آحاد
8	4	5
1	1	2

مئات	عشرات	آحاد
4	3	2
1	1	3

مئات	عشرات	آحاد
5	7	6
3	2	2

مِئَاتُ	عَشْرَاتُ	آحَادُ

مِئَاتُ	عَشْرَاتُ	آحَادُ

مِئَاتُ	عَشْرَاتُ	آحَادُ

أطرح بإستعمال الحساب الذهني . أستعمل النماذج إذا لزم الأمر .

$$652 - 100 =$$

$$742 - 100 =$$

$$341 - 10 =$$

$$832 - 10 =$$

اجمع بإستعمال الحساب الذهني . أستعمل النماذج إذا لزم الأمر .

$$652 + 100 =$$

$$742 + 100 =$$

$$341 + 10 =$$

$$863 + 10 =$$

حوظ التقدير المنطقي لطول الأشياء المرسومة أمامك .



8 m تقريباً

8 cm تقريباً



3 m تقريباً

3 cm تقريباً



9 m تقريباً

9 cm تقريباً

أذكر عدد الأضلاع والرؤوس . سَمِ الشكل

_____ = عدد الأضلاع
_____ = عدد الرؤوس
_____ : اسم الشكل



_____ = عدد الأضلاع
_____ = عدد الرؤوس
_____ : اسم الشكل



اكتب

ربع

نصف

ثلث

