

تم تحميل هذا الملف من موقع المناهج القطرية



أوراق عمل نهاية الفصل مدرسة صفية بنت عبد المطلب مع الإجابة النموذجية

[موقع المناهج](#) ⇨ [المناهج القطرية](#) ⇨ [المستوى الثاني](#) ⇨ [علوم الحاسب](#) ⇨ [الفصل الثاني](#) ⇨ [الملف](#)

تاريخ إضافة الملف على موقع المناهج: 13:10:30 2024-06-10

إعداد: مدرسة صفية بنت عبد المطلب

التواصل الاجتماعي بحسب المستوى الثاني



اضغط هنا للحصول على جميع روابط "المستوى الثاني"

روابط مواد المستوى الثاني على تلغرام

[الرياضيات](#)

[اللغة الانجليزية](#)

[اللغة العربية](#)

[التربية الاسلامية](#)

المزيد من الملفات بحسب المستوى الثاني والمادة علوم الحاسب في الفصل الثاني

[أوراق عمل نهاية الفصل غير محابة مدرسة صفية بنت عبد المطلب](#)

1

[أوراق عمل نهاية الفصل مدرسة الخور مع الإجابة النموذجية](#)

2

[أوراق عمل نهاية الفصل غير محابة مدرسة الخور](#)

3

المزيد من الملفات بحسب المستوى الثاني والمادة علوم الحاسب في الفصل الثاني

[أوراق عمل نهاية الفصل غير محابة مدرسة الأندلس](#)

4

[تدريبات دعم واثراء نهاية الفصل مجمع الفرقان غير محابة](#)

5



مدرسة وروضة صفية بنت عبد المطلب الابتدائية
وزارة التربية والتعليم والتعليم العالي
Ministry of Education and Higher Education
دولة قطر • State of Qatar



أوراق إثرائية نهاية الفصل الدراسي الثاني

العام الأكاديمي 2023-2024

لمادة الحوسبة وتكنولوجيا المعلومات

الصف: الثاني الابتدائي

معلمة المادة: امه الكور



1. الاسم المناسب لصورة عن مدرستي هي:



A المدرسة

B ملف 1

C العطلة


2. الجهاز الذي يمكنه تبادل الملفات مع الحاسوب هو:



A



B



C

امتداد هذا الملف هو:

3



jpg.كرة قدم

wmv

A

rtf

B

jpg

C

امتداد هذا الملف هو:

4



علم.png

Png

A

rtf

B

jpg

C

أيقونة برنامج متصفح الويب هو:



A



B



C

أيقونة برنامج الدفتر هو:



A



B



C

لإنشاء ملف صوتي نستخدم برنامج:

7



A



B



C

لإنشاء ملف نصي نستخدم برنامج:

8



A



B



C

أي برامج مؤذية وخطيرة تسبب العديد من المشاكل لملفات وأجهزة الحاسوب

9

- الفيروسات A
متصفح الويب B
الروابط التشعبية C

هو برنامج يستخدم لتصفح مواقع الإنترنت

10

- الفيروسات A
متصفح الويب B
الروابط التشعبية C

يمكن تمرير الصفحة من أعلى إلى أسفل من خلال

11

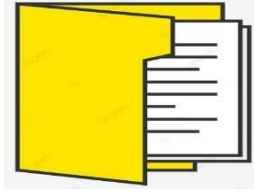
- شريط العنوان A
شريط التمرير B
الروابط التشعبية C

1- لرسم شكل ما يجب أن تضع الخطوط معاً بترتيب معين:

12

- الملف A
التسلسل B
الانترنت C

13 هو مكان داخل الحاسوب يستخدم لحفظ وتنظيم الملفات بداخله



A



B


وردة.rtf



C

كرة قدم.jpg

14 هي برامج مؤذية وخطيرة تسبب العديد من المشاكل لملفات وأجهزة الحاسوب



A



B



C

15 هي التعليمات التي تتلقاها الحاسوب لتأدية مهامها.

- الأوامر A
الشاشة B
متصفح الويب C

16 لغة الحاسوب الخاصة للإصدار الأوامر هي

- اللغة الإنجليزية A
لغة البرمجة B
اللغة الفرنسية C

17 برنامج يستخدم أوامر بسيطة في إنشاء رسومات و أشكال



A



B








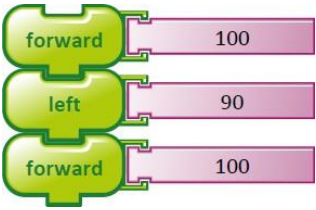
C

السؤال الثاني:

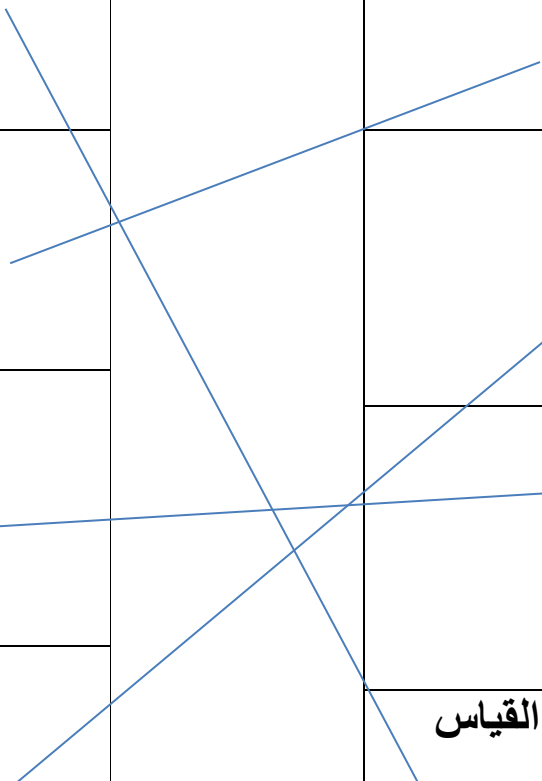
صلي العمود (أ) بما يناسبها في العمود (ب)

-1

العمود (ب)		العمود (أ)
 <p>سباق الفروسية.wmv</p>		أيقونة الملف النصي هو
 <p>وردة.rtf</p>		أيقونة الملف الصوري
 <p>كرة قدم.jpg</p>		أيقونة ملف الفيديو


Turtle Art
الأوامر
رمز متصفح الأنترنت
أربع أضلاع لها نفس القياس



\

السؤال الثالث: أجب عن الأسئلة الآتية بوضع علامة ✓ أسفل الصورة المناسبة:

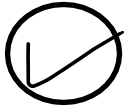
1- من قواعد التصفح الآمن للإنترنت تجنب الضغط على الإعلانات:




2- الصورة التي تمثل نوع من أنواع الملفات عند القيام بتصفح الويب هي:



صورة

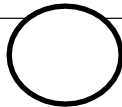


نص



3- الأمر الذي يساعد في نسخ الصورة من صفحة الويب هي:


Save




Copy



4- من قواعد التصفح الآمن للإنترنت استخدام برنامج حماية من الفيروسات:




5- من قواعد التصفح الآمن للإنترنت استخدام اسم مستعار مثل:



6- الصورة التي تمثل نوع من أنواع الملفات عند القيام بتصفح الويب هي:

قلعة الزبارة


تعد هذه القلعة مجاورة لمدينة الزبارة الساحلية المحاطة بسور ويعود تاريخها إلى القرن العشرين، وتعتبر أحدث وأهم معالم موقع الزيارة الأثري. أحد مواقع التراث العالمي لدى اليونسكو. وهي مثال أصيل للقلعة العربية التقليدية، حيث كانت جدرانها البالغ سمكها متراً واحداً تعمل على صد الغزاة، وتساعد في الحفاظ على برودة الغرف خلال فصل الصيف الحار. ويضم هذا الموقع المهم قصوراً سكنية ومساجد ومنازل ذات أفنية وأكواخاً للصيادين وشوارع وجدراناً دفاعية مزدوجة وميناءً وفتاةً ومغابرة.



السؤال الرابع: قومي بالإجابة عن الأسئلة التالية:

1

تتبعي خطوات الخوارزمية وارسمي الشكل الناتج واكتبي الناتج:

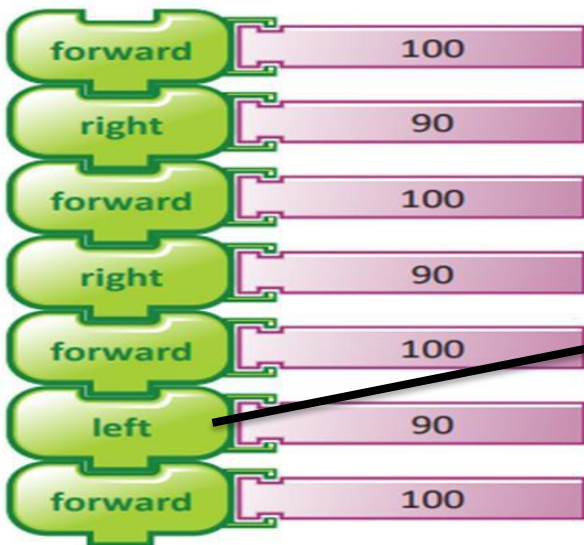


- 1- ارسم خطأً 100
- 2- استدر الى اليمين 90
- 3- ارسم خطأً بنفس 100
- 4- استدر لليمين 90
- 5- ارسم خطأً بنفس 100
- 6- استدر لليمين 90
- 7- ارسم خطأً بنفس 100

الشكل الناتج هو المربع

2

اعثري على الخطأ في الخوارزمية ووضعي دائرة عليها ثم قومي بتصحيحها:



الإجابة الصحيحة
استدر لليمين

