

تم تحميل هذا الملف من موقع المناهج القطرية



أوراق عمل وتدريبات اختبار منتصف الفصل غير مجانية

موقع المناهج ← المناهج القطرية ← المستوى الثاني ← علوم الحاسب ← الفصل الأول ← أوراق عمل ← الملف

تاريخ إضافة الملف على موقع المناهج: 2024-10-22 14:44:42

ملفات اكتب للمعلم اكتب للطالب | اختبارات الكترونية | اختبارات | حلول | عروض بوربوينت | أوراق عمل
منهج انجليزي | ملخصات وتقارير | مذكرات وبنوك | الامتحان النهائي للمدرس

المزيد من مادة:
علوم الحاسب:

التواصل الاجتماعي بحسب المستوى الثاني



صفحة المناهج
القطرية على
فيسبوك

الرياضيات

اللغة الانجليزية

اللغة العربية

التربية الاسلامية

المواد على تلغرام

المزيد من الملفات بحسب المستوى الثاني والمادة علوم الحاسب في الفصل الأول

أوراق مراجعة لاختبار منتصف الفصل غير مجانية

1

أوراق مراجعة لاختبار منتصف الفصل مع الإجابة النموذجية

2

أوراق عمل اثرائية قبل اختبار منتصف الفصل غير مجانية

3

أوراق عمل اثرائية قبل اختبار منتصف الفصل مع الإجابة النموذجية

4

أوراق عمل دعم وإثراء الفرقان منتصف الفصل مع الإجابة النموذجية

5




غير محلولة

همتي في مادتي

مادة الحوسبة وتكنولوجيا المعلومات

الصف الثاني
2024-2025

الاسم:
الشعبة:



تدريبات إثرائية نظري لمادة الحوسبة وتكنولوجيا المعلومات الصف الثاني الابتدائي



1. الصورة التي تدل على الجلسة الصحيحة على جهاز الحاسوب.

	C		B		A
---	---	---	---	---	---

2. تدل الصورة على بيئة النظيفة والأمنة.

	C		B		A
---	---	---	---	--	---




3. الأشياء التي لا يصح أن تكون بجوار الحاسوب.

	C		B		A
--	---	--	---	--	---

4. من القواعد الصحيحة لاستخدام الحاسوب.




الشاشة تحت مستوى النظر	C	إبقاء الرقبة منحنية	B	إبقاء الظهر مستقيماً	A
------------------------	---	---------------------	---	----------------------	---

5. الصورة التي تدل على الطريقة الصحيحة لاستخدام الأجهزة المحمولة هي.

	C		B		A
---	---	---	---	---	---




6. حدد السلة ال مناسبة من سلات إعادة التدوير للجهاز



	C		B		A
---	---	---	---	---	---




7. حدد السلة المناسبة من سلات إعادة التدوير للجهاز التالي:



	C		B		A
--	---	--	---	--	---




8. حدد السلة المناسبة من سلات إعادة التدوير للجهاز التالي:






	C		B		A
---	---	---	---	---	---

9. حدد السلة المناسبة من سلات إعادة التدوير للأوراق التالي:






	C		B		A
---	---	---	---	---	---



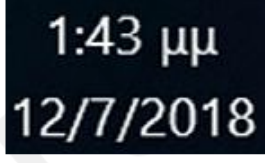
10- صورة زرا البدء على سطح المكتب.

	C		B		A
---	---	---	---	---	---

11- صورة مستكشف الملفات على سطح المكتب.

	C		B		A
---	---	---	---	---	---




12- صورة Microsoft Edge على سطح المكتب.

	C		B		A
---	---	---	---	---	---




13 - صورة التاريخ والوقت على سطح المكتب.

	C		B		A
---	---	---	---	---	---

14 - صورة التحكم بمستوى الصوت على سطح المكتب.

	C		B		A
---	---	---	---	---	---




15 - صورة سلة المحذوفات على سطح المكتب.

	C		B		A
---	---	---	---	--	---

16 - صورة اتصال بالإنترنت على سطح المكتب.

	C		B		A
---	---	---	---	---	---

17 - صورة شريط المهام على سطح المكتب.

	C		B		A
---	---	---	---	---	---

18. قم بتوصيل الأجهزة التالية بسلة إعادة التدوير المناسبة :

2025

2024

www.manahj.com
موقع المناهج القطرية

عملي

المهارة

السؤال الأول:

غير خلفية سطح المكتب إلى الصورة التالية:



السؤال الثاني:

قم بإضافة الرسمة التالية من تصميمك كخلفية لسطح المكتب.



ارفع يدك بعد الانتهاء