

## شكراً لتحميلك هذا الملف من موقع المناهج القطرية



## الامتحان الوزاري منتصف الفصل

[موقع المناهج](#) ⇨ [المناهج القطرية](#) ⇨ [المستوى الثاني](#) ⇨ [رياضيات](#) ⇨ [الفصل الثاني](#) ⇨ [الملف](#)

تاريخ نشر الملف على موقع المناهج: 2024-02-29 12:41:53

## التواصل الاجتماعي بحسب المستوى الثاني



## روابط مواد المستوى الثاني على تلغرام

[الرياضيات](#)

[اللغة الانجليزية](#)

[اللغة العربية](#)

[التربية الاسلامية](#)

## المزيد من الملفات بحسب المستوى الثاني والمادة رياضيات في الفصل الثاني

[أوراق عمل اثرائية منتصف الفصل مدرسة الأندلس مع الإجابة النموذجية](#)

1

[أوراق عمل اثرائية منتصف الفصل مدرسة الأندلس غير محابة](#)

2

[تدريبات دعم وإثراء الفرقان منتصف الفصل](#)

3


[تدريبات دعم وإثراء الفرقان منتصف الفصل مع الإجابة النموذجية](#)

4

[اوراق عمل في العملات والوقت والاعداد غير محابة](#)

5

فيه أحمد صباحًا كما هو مبين على الساعة أدناه.



**A** 6:05 a.m

**B** 6:05 p.m

**C** 7:05 a.m

ج إلى إعادة تجميع لإيجاد الناتج.

A	$32 - 8 = ?$
B	$46 - 3 = ?$
C	$57 - 2 = ?$

1 / .....

ية التالية؟



A 50 درهم

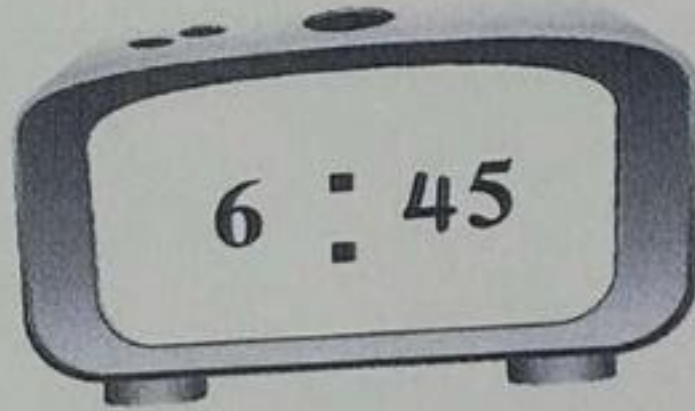
B 75 درهم

C 100 درهم

(أ) حدد الوقت بكتابة الأرقام بحيث تظهر كلتا الساعتين نفس الوقت.



(ب) حدد الوقت برسم العقارب بحيث تظهر كلتا الساعتين نفس الوقت.



أوجد ناتج الطرح.

عشرات	آحاد
<input type="text"/>	<input type="text"/>
8	2
	6

السؤال الخامس

د. ناتج الطرح. تحقق من إجابتك من خلال الجمع.

اطرح

تحقق

4 9

- 1 5

+

لدى خولة 5 QR.

أعطتها جدتها ورقة نقدية من فئة 10 QR.

وأخرى من فئة 5 QR.

ما المبلغ الكلي الذي لدى خولة؟

ارسم الأوراق النقدية لتوضيح حلك.

QR \_\_\_\_\_

السؤال السادس

حل المسألة أدناه.

اشترى عمر صندوقاً فيه 56 مكعباً.

استعمل منها 38 مكعباً.

كم مكعباً بقي في الصندوق؟


مكعب \_\_\_\_\_

2 /.....


عشرات	أحاد
<input type="checkbox"/>	<input type="checkbox"/>
<input type="checkbox"/>	<input type="checkbox"/>

السؤال السابع

أوجد القيمة الكلية للأوراق النقدية.



\_\_\_\_\_



\_\_\_\_\_