

تم تحميل هذا الملف من موقع المناهج القطرية



أوراق عمل اثرائية غير مجابة استعدادا لاختبار منتصف الفصل

موقع المناهج ← المناهج القطرية ← المستوى الثاني ← علوم ← الفصل الأول ← أوراق عمل ← الملف

تاريخ إضافة الملف على موقع المناهج: 2024-10-20 15:05:37

ملفات اكتب للمعلم اكتب للطالب | اختبارات الكترونية | اختبارات | حلول | عروض بوربوينت | أوراق عمل
منهج انجليزي | ملخصات وتقارير | مذكرات وبنوك | الامتحان النهائي للمدرس

المزيد من مادة
علوم:

التواصل الاجتماعي بحسب المستوى الثاني



صفحة المناهج
القطرية على
فيسبوك

الرياضيات

اللغة الانجليزية

اللغة العربية

التربية الاسلامية


المواد على تلغرام

المزيد من الملفات بحسب المستوى الثاني والمادة علوم في الفصل الأول

أوراق عمل اثرائية تحضيراً لاختبار منتصف الفصل مع الإجابة النموذجية	1
مراجعة وأوراق عمل الفرقان منتصف الفصل غير مجابة	2
الاختبار النهائي منتصف الفصل	3
أوراق عمل الأندلس الاثرائية منتصف الفصل مجابة	4
أوراق عمل الأندلس الاثرائية منتصف الفصل غير مجابة	5

العام الأكاديمي 2025/2024

منتصف الفصل الدراسي الاول



أوراق العمل الإثرائية

مادة العلوم


الصف الثاني الابتدائي


	اسم الطالب
	الصف والشعبتي


1/9/2024

الاسم: الصف: ثاني/

اختر الإجابة الصحيحة

نبات له أشواك لتقلل من خسارة الماء، في أي موطن يعيش هذا النبات؟		1
	الصحراء	A
	المنطقة القطبية	B
	الغابة المطيرة	C

ما هو المكان الذي يعيش فيه الحيوان الموجود بالصورة؟		2
	الصحراء	A
	المنطقة العشبية	B
	المنطقة القطبية	C

ما هو الموطن الذي يعيش فيه الدب القطبي؟		3
	الصحراء	A
	الغابة المطيرة	B
	المنطقة القطبية	C

4 ما هو الموطن الذي يكون كثير الأمطار؟	
A	المنطقة القطبية
B	الصحراء
C	الغابة

5 ما هو شكل أوراق النخيل؟	
A	سميكة باهتة مغطاة بطبقة دهنية
B	رفيعة باهتة مغطاة بطبقة زيتية
C	رفيعة لامعة مغطاة بطبقة شمعية




6 أي التصرفات التالية <u>يضر</u> الموطن والكائنات الحية المتواجدة به؟	
A	هدر الطاقة
B	إعادة الاستخدام
C	ترشيد الاستهلاك

7 ما الوصف الصحيح الذي يُعبر عن مناخ المنطقة القطبية؟	
A	بارد جدًا
B	معتدل وأمطار كثيرة جدًا
C	جاف وممطر



أي النباتات التالية يعيش في دولة قطر وهو مهدد بالانقراض؟		8
شجر البلوط	A	
شجر العوسج	B	
شجر الأرز	C	

ما هو سبب أن الأطوم حيوان مهدد بالانقراض؟		9
	لأن موطنه لا يناسبه	A
	بسبب الصيد الجائر	B
	بسبب ارتفاع درجات الحرارة في موطنه	C

السؤال العاشر: أكمل الجمل باستخدام الكلمات الموجودة في مربع الكلمات التالي :
صل العبارات من العمود (أ) مع الصور التي تناسبها من العمود (ب).

العمود (ب)



العمود (أ)

1) مكان يعيش فيه
الفيل

2) حيوان صحراوي
مهدد بالانقراض

السؤال الحادي عشر: أكمل الجمل باستخدام الكلمات الموجودة في مربع الكلمات التالي :

الْحُبَارَى - السَّنَام - التَّلَوْتُ

1 - النفايات تسبب (-----)

2- جزء من جسم الجمل يخزن فيه الدهون هو (.....)

3- طائر تقيم له دولة قطر المحميات لأنه مهدد بالانقراض (-----).

السؤال الثاني عشر : ضع علامة (√) أمام العبارة الصحيحة، وعلامة (x) أمام الاجابة الخاطئة

1- تعيش السمكة في الصحراء

(-----)

2- تُنشئ دولة قطر المحميات الطبيعية للمحافظة على المواطن.

(-----)

3- نحافظ على المواطن من خلال رمي النفايات في الأمكنة المخصصة لها

(-----)




السؤال الثالث عشر : بماذا يمتاز مناخ الصحراء ؟





15/9/2024


الاسم: الصف: ثاني/


اختر الإجابة الصحيحة :


	1 ما الطاقة <u>المهدورة</u> التي ينتجها المصباح الكهربائي؟	
	الصوت	A
	الضوء	B
	الحرارة	C


	2 في الصورة المقابلة: ماذا تسمى هذه القطعة؟	
	قابس	A
	مقبس	B
	سلك كهربائي	C




	3 ما الطاقة التي ينتجها هذا الجهاز <u>ونستفيد منها</u> ؟	
	الضوء	A
	الحركة	B
	الحرارة	C

	ما هي <u>الطاقة المفيدة</u> التي ينتجها المصباح اليدوي؟		4
	حرارية	A	
	حركية	B	
	ضوئية	C	

	ما <u>الطاقة المفيدة</u> التي تنتجها الغسالة؟		5
	الصوت	A	
	الحركة	B	
	الضوء	C	

	جزء في الكشاف اليدوي هو الذي <u>يعطيه الطاقة</u> حتى يضيء المصباح، ما هو؟		6
	المفتاح	A	
	البطارية	B	
	المصباح	C	

	ما هو الجهاز الكهربائي الذي يعمل ببطارية غير قابلة للشحن؟		7
	الريموت	A	
	الجوال	B	
	الفرن الكهربائي	C	

<p>ما هو الجهاز الذي يعمل بالكهرباء ؟</p>		8
		
(ت)	(ب)	(أ)
	(أ)	A
	(ب)	B
	(ت)	C

السؤال التاسع : أكمل الجمل التالية باستخدام الكلمات الموجودة في صندوق الكلمات

كهربائية - الضوئية

(1) تُنتج البطاريات طاقة (.....)

(2) الطاقة المفيدة التي تنتجها المصابيح الكهربائية هي الطاقة (.....)

1/10/2024

الاسم: الصف: ثاني /

السؤال الأول : صل بين الجهاز و استخدامه



تسخين الماء



يعطي الضوء



يعطي صوت

السؤال الثاني : ضع علامة (✓) أمام العبارة الصحيحة، وعلامة (x) امام الاجابة الخاطئة

1- الصورة المجاورة تسمى مقبس



(-----)

2-التلفاز جهاز كهربائي



(-----)

3- الكرسي يعمل بالبطارية



(-----)



السؤال الثالث : بالاستفادة من صندوق المفردات صنف الأجهزة التالية :

(بطارية - كهرباء رئيسية - لا يحتاج كهرباء)

.....		غسالة
.....		قلم
.....		ريموت كونترول



السؤال الرابع :

ضع علامة (✓) أمام العبارة الصحيحة، وعلامة (X) أمام العبارة الخاطئة.

(-----)		1) عندما نسخن الماء في الغلاية الكهربائية فإنها طاقة مفيدة
(-----)		2) يعتبر الكتاب من الأجهزة التي تعمل بالكهرباء

السؤال الخامس: صنف أشكال الطاقة التالية إلى مهدورة ومفيدة حسب الجهاز الكهربائي الموجود بالجدول.

الصوت - الضوء - الحرارة - الحركة

طاقة مهدرة	طاقة مفيدة	الجهاز الكهربائي
		 <p>الخلاط</p>
		 <p>المدفئة</p>