

تم تحميل هذا الملف من موقع المناهج القطرية




تدريبات دعم واثراء نهاية الفصل مجمع الفرقان غير مجانية

[موقع المناهج](#) ⇨ [المناهج القطرية](#) ⇨ [المستوى الثاني](#) ⇨ [علوم](#) ⇨ [الفصل الثاني](#) ⇨ [الملف](#)

تاريخ إضافة الملف على موقع المناهج: 18:19:49 2024-05-15

إعداد: مجمع الفرقان

التواصل الاجتماعي بحسب المستوى الثاني



اضغط هنا للحصول على جميع روابط "المستوى الثاني"

روابط مواد المستوى الثاني على تلغرام

[الرياضيات](#)

[اللغة الانجليزية](#)

[اللغة العربية](#)

[التربية الاسلامية](#)

المزيد من الملفات بحسب المستوى الثاني والمادة علوم في الفصل الثاني

[أوراق عمل اثرائية منتصف الفصل مدرسة الأندلس غير مجانية](#)

1

[أوراق عمل اثرائية منتصف الفصل مدرسة الأندلس غير مجانية](#)

2

[تدريبات دعم واثراء الفرقان منتصف الفصل](#)

3

[اوراق دعم واثراء الفرقان منتصف الفصل مع الاحابة النموذجية](#)

4

[اوراق عمل منتصف الفصل مدرسة الأندلس مع الإجابة](#)

5

العلوم

1445 هـ - 23-24 م

2
تدريبات

دعم وإثراء
نهائية
العام



يا رب انصر عبادك المؤمنين
وجنك الموحدين في كل مكان

القدس والأقصى ▼ حتماً ستعود

ملحوظة: هذه التدريبات لا تقني عن الكتاب المدرسي

الاسم / الصف / 2-

التميز



الوحدة الثالثة (تناول الطعام الصحي)

1/ اختر الإجابة الصحيحة بوضع علامة (x) داخل المربع.

1 أي من الأطعمة التالية ينبغي أن أتناولها بكميات كثيرة؟

A الأملاح

B السكريات

C الفواكه والخضروات

2 أي مما يلي من مجموعة منتجات الألبان؟

A الزيت

B الحليب

C الدجاج

3 أي مما يلي من مجموعة الحبوب؟

A الخبز

B الموز

C الخيار

4 أي من الأطعمة التالية ينبغي أن أتناولها بكميات قليلة؟

A السمك

B الدهون

C الفواكه والخضروات

5 أي من الأطعمة التالية تساعد على بناء العضلات؟

A اللحوم

B الألبان

C الدهون

6 أي من الأطعمة التالية تساعد على تجنب المرض؟

A الحبوب

B الشوكولاتة

C الفواكه والخضروات

7 ما النظام الغذائي الأفضل للأشخاص المصابين بمرض السكري؟

A نسبة قليلة من السكر

B نسبة عالية من السكر

C نسبة عالية جداً من السكر

8 ما هو النشاط المفيد للصحة؟



A مشاهدة التلفاز

B تناول الحلويات بكثرة

C ممارسة التمارين الرياضية

2/ أكمل الفراغات من صندوق المفردات.

الحليب	6 أكواب	الدهون	اللحوم
--------	---------	--------	--------

- 1- يحتاج الطفل إلى شرب من الماء يومياً.
- 2- يعتبر السمك من مجموعة
- 3- يساعد على نمو العظام والمحافظة على قوتها.
- 4- ينبغي أن يحتوي الطعام الصحي على القليل من

3/ أصل ما في العمود (أ) بما يناسبه من العمود (ب).

العمود (ب)
الدهون.
يساعد على نمو العظام.
الفواكه والخضروات.
اللحوم.

العمود (أ)





4/ أضع علامة (√) أمام العبارة الصحيحة وعلامة (x) أمام العبارة الخاطئة.

1/	الأغذية الصحية توفر للجسم حاجاته الضرورية لصحة جيدة.	()
2/	تساعد الفواكه والخضروات على تجنب المرض.	()
3/	الأغذية الصحية تحتوي على كمية كبيرة من الدهون أو السكر أو الملح.	()
4/	تعد الوجبات السريعة من الاغذية الصحية.	()
5/	من الأغذية غير الصحية الأملاح والسكريات.	()
6/	الإكثار من الدهون يصيب الجسم بالأمراض.	()
7/	ينبغي للأطفال ممارسة تمارين بدنية بشكل يومي.	()
8/	تساعدني الملصقات الغذائية لمعرفة مكونات الأطعمة المصنعة.	()
9/	الحلوى من الأطعمة التي تناسب شخصاً مصاباً بمرض السكري.	()
10/	يحتاج جسمي عادة شرب (3) أكواب من الماء يومياً.	()

5/ أجب عن الأسئلة التالية.

1/ أذكر بعض الأطعمة غير الصحية.

.....

.....

2/ أسمى طعاماً يساعد على بناء العضلات.

.....

3/ أي مجموعة غذائية مفقودة في لائحة الأطعمة الآتية؟

الألبان

الدهون

اللحوم

الحبوب

..... المجموعة الغذائية المفقودة:

2023 - 2024 م	1444 - 1445 هج	التقييم الرابع	الفصل الدراسي الثاني
-7-			

الوحدة الرابعة (الضوء والظلال)

1/ اختر الإجابة الصحيحة بوضع علامة (x) داخل المربع.

1 ما المصدر الرئيسي للضوء والحرارة على الأرض؟

A القمر

B النجوم

C الشمس

2 أي مما يلي يصدر الضوء بالاحتراق؟

A النار

B المصباح اليدوي

C المصباح الكهربائي

3 أي مما يلي يصدر الضوء بالكهرباء؟

A الشمعة

B الألعاب النارية

C المصباح اليدوي

4 ماذا يحدث عندما تواجه دولة قطر الشمس؟



A الظل

B النهار

C الليل

5 أي مما يلي من الأشياء المعتمة؟


- A الجدار
B الزجاج الشفاف
C الزجاج البلوري

6 أي من الأجسام التالية تسمح بمرور جزء من الضوء ولا نرى الأشياء خلفها بوضوح؟




- A المعتمة
B الشفافة
C شبه الشفافة

7 ما هي الأشياء التي يتشكل لها الظل؟



- A الشفافة
B المعتمة
C الكبيرة

8 ماذا يحدث للظل عندما يكون مصدر الضوء قريباً من الشيء؟



- A تكون مساحة الظل كبيرة
B تكون مساحة الظل صغيرة
C تكون مساحة الظل متوسطة

9 كيف يسير الضوء؟

- A في خطوط دائرية
B في خطوط متعرجة
C في خطوط مستقيمة

10 متى يكون الظل أقصر في أثناء النهار؟

- A بداية النهار
B نهاية النهار
C منتصف النهار

11 لماذا نستخدم ساعة الظل؟

- A لمعرفة الوقت
B لمعرفة الحجم
C لمعرفة الطول

12 كيف يمكن استخدام ساعة الظل؟

- A عندما يكون الجو ظلاماً
B عندما يكون الجو مشمساً
C عندما يكون الجو غائماً

2/ أكمل الفراغات من صندوق المفردات.

القمر	24 ساعة	الشمس	الشفافة
-------	---------	-------	---------

1- كرة ضخمة من الغاز المحترق.

2- تدور الأرض حول نفسها مرة كل

3- عاكس الضوء لأنه يعكس ضوء الشمس.

4- نستطيع أن نرى من خلال الأشياء

3/ أصل ما في العمود (أ) بما يناسبه من العمود (ب).

العمود (ب)
نجم كبير.
في خطوط مستقيمة.
يسقط الضوء على أشياء معتمة.
من الأشياء الشفافة.

العمود (أ)
يسير الضوء
الشمس
الكأس الزجاجي
يتشكل الظل عندما

4/ أضع علامة (√) أمام العبارة الصحيحة وعلامة (x) أمام العبارة الخاطئة.

1/	القمر والمرايا من مصادر الضوء.	()
2/	عندما تواجه دولة قطر الشمس يكون فيها نهار.	()
3/	المصباح الكهربائي يصدر الضوء بالاحتراق.	()
4/	الطين من الأشياء التي لا أرى من خلالها.	()
5/	يستطيع الضوء أن يمر من خلال الخشب.	()
6/	يتشكل الظل عندما يسقط الضوء على أشياء معتمة.	()
7/	عندما يقترب مصدر الضوء من الشيء تقل مساحة ظله.	()
8/	شكل الظل هو شكل الشيء نفسه.	()
9/	تظل مساحة الظل ثابتة في أثناء النهار.	()
10/	يمكن استخدام ساعات الظل لمعرفة الوقت.	()

5/ أجب عن الأسئلة التالية.

1/ اذكر بعض الأشياء التي تصدر الضوء بالاحتراق.

.....

2/ اذكر بعض الأشياء التي تصدر الضوء بالكهرباء.

.....

3/ اذكر بعض الأشياء التي تعكس الضوء.

.....

4/ اذكر بعض الأشياء الشفافة (التي تسمح بمرور الضوء من خلالها).

.....

5/ اذكر بعض الأشياء المعتمة (التي لا تسمح بمرور الضوء من خلالها).

.....

الفصل الدراسي الثاني	التقييم الرابع	1444 - 1445 هـ	2023 - 2024 م
----------------------	----------------	----------------	---------------

الوحدة الخامسة (زراعة النبات)

1 أي من الأشياء التالية يحتاج إليها النبات ليعيش؟

A الهواء

B الظلام

C الدخان

2 ماذا يحدث للنبات عندما لا يحصل على حاجاته من الماء والهواء والضوء؟

A ينمو

B يكبر

C يذبل ولا ينمو



3 ما هو جزء النبات الذي لا أراه في الصورة؟

A الساق

B الجذور

C الأوراق

4 ما هو جزء النبات الذي ينقل الماء من الجذور إلى باقي أجزاء النبات؟



A الساق

B الورقة

C البذرة

5 ما هو جزء النبات الذي يصنع الغذاء للنبات؟

A الثمرة

B الزهرة

C الورقة



6 ما وظيفة الزهرة في النبات؟

A تنقل الماء

B تنتج البذور

C تحمل الساق



7 ماذا يوجد في داخل الفواكه؟

A البذور

B الأزهار

C الأوراق

8 أي من هذه النباتات يسمى محصولاً؟



A القمح

B الزنبق

C الصبار

9 ما المرحلة التي بلغها هذا النبات؟



- A تنبت البذور
B تنمو الساق
C يتفتح برعم الزهرة

10 أذكر ما يحدث في الصورة الآتية.



- A إنبات البذرة
B التلقيح
C تفتح الزهرة

11 ما وظيفة السبلة؟



- A تمتص الماء
B تحمي الزهرة
C تجذب الحشرات

12 ماذا يسمى انتقال حبوب اللقاح من زهرة إلى أخرى؟



- A النمو
B التلقيح
C الإنبات

2/ أكمل الفراغات من صندوق المفردات.

البتلة	الماء	اللقاح	الزهرة	الجدور
--------	-------	--------	--------	--------

1- يحتاج النبات إلى ليعيش.

2- توجد في أسفل النبات.

3- توجد بالقرب من قمة النبات.

4- تنقل الحشرات حبوب من زهرة إلى أخرى.

5- توجد في الزهرة كي تجذب الحشرات.

3/ أصل ما في العمود (أ) بما يناسبه من العمود (ب).

العمود (ب)
تمتص العناصر الغذائية من التربة.
تسمح بانتقال الماء إلى باقي أجزاء النبات .
تنتج البذور.
تستخدم ضوء الشمس لصنع الغذاء للنبات.
تحمي البذور.

العمود (أ)
الساق
الجزور
الأوراق
الزهرة
الثمرة

4/ أضع علامة (√) أمام العبارة الصحيحة وعلامة (x) أمام العبارة الخاطئة.

()	1/ يحتاج النبات إلى الضوء فقط لكي يعيش وينمو.
()	2/ الجذور تمتص الماء من التربة.
()	3/ الساق تنتج البذور في داخل الأزهار.
()	4/ تحتوي الفواكه على البذور.
()	5/ الزهرة هي جزء النبات الذي تغطيه التربة.
()	6/ البتلات لها أشكال وأحجام وألوان وروائح مختلفة.
()	7/ تنمو البذور المختلفة لتصبح نفس النبات.
()	8/ يعتبر القمح من النباتات القابلة للأكل وتسمى محصولاً.
()	9/ التلقيح هو امتصاص الماء من التربة.
()	10/ تنمو للنباتات الزهرية المكتملة النمو براعم تتفتح لتصبح أزهاراً ملونة.

5/ من أنا؟

1/ أنا جزء في النبات أقوم بامتصاص الماء من التربة.

.....

2/ أنا جزء في النبات أقوم بإنتاج البذور.

.....

3/ أنا جزء في النبات أستخدم ضوء الشمس لصنع الغذاء للنبات.

.....

4/ أنا أختلف في الشكل والحجم واللون وموجودة داخل الفواكه.

.....

5/ أنا جزء في الزهرة أقوم بجذب الحشرات.

.....

6/ أنا جزء في الزهرة وظيفتي أحمي الزهرة.

.....

انتهت الأسئلة

مع أطيب التمنيات بالنجاح والتوفيق

الفصل الدراسي الثاني	التقييم الرابع	1444 - 1445 هـ	2023 - 2024 م
-21-			