

تم تحميل هذا الملف من موقع المناهج القطرية



اختبار تجريبي في الوحدة الثانية استخدام الكهرباء غير مجاب

موقع المناهج ← المناهج القطرية ← المستوى الثاني ← علوم ← الفصل الأول ← اختبارات ← الملف

تاريخ إضافة الملف على موقع المناهج: 2024-10-20 17:05:18

ملفات اكتب للمعلم اكتب للطالب | اختبارات الكترونية | اختبارات | حلول | عروض بوربوينت | أوراق عمل
منهج انجليزي | ملخصات وتقارير | مذكرات وبنوك | الامتحان النهائي للمدرس

المزيد من مادة
علوم:

التواصل الاجتماعي بحسب المستوى الثاني



صفحة المناهج
القطرية على
فيسبوك

الرياضيات

اللغة الانجليزية

اللغة العربية

التربية الاسلامية

المواد على تلغرام

المزيد من الملفات بحسب المستوى الثاني والمادة علوم في الفصل الأول

أوراق عمل دعم وإثراء الفرقان منتصف الفصل مع الإجابة النموذجية

1

ورق عمل إثرائي تحضيرى لاختبار منتصف الفصل

2

بنك اسئلة اختبار منتصف الفصل

3

أوراق عمل اثرائية غير مجابة استعدادا لاختبار منتصف الفصل

4

أوراق عمل اثرائية تحضيريا لاختبار منتصف الفصل مع الإجابة النموذجية

5



بنك الأسئلة

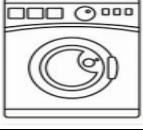


العام الأكاديمي 2024 – 2025


المرخية الابتدائية للبنات	اسم المدرسة
الثاني	الصف
العلوم	المادة
الثانية (استخدام الكهرباء)	الوحدة
○ منتصف الفصل الدراسي الاول	المحتوى




اختر الإجابة الصحيحة لكل من الأسئلة من 1 إلى 9 ، وذلك بوضع علامة × داخل
المربع المجاور للإجابة الصحيحة:

تعليمات

السؤال رقم (1)	
أي من الأجهزة التالية لا يعمل بالكهرباء ؟	
	A
	B
	C

السؤال رقم (2)	
	كيف يعمل الجهاز في الصورة ؟
لا يعمل بالكهرباء	A
يعمل بمصدر الكهرباء الرئيس	B
يعمل ببطارية قابلة لإعادة الشحن	C



السؤال رقم (3)	
ما الطاقة المفيدة التي ينتجها الجهاز التالي؟	
	A
الضوء	B
الحرارة	C
الحركة	

السؤال رقم (4)	
أي من الأجهزة التالية تعمل ببطارية غير قابلة لإعادة الشحن؟	
A	ساعة الحائط
B	الهاتف المحمول
C	الغسالة



السؤال رقم (5)

صل ما في العمود (أ) بما يناسبه في العمود (ب) :

(ب)



(أ)

يعمل بمصدر كهربائي
رئيسي

يعمل بالبطارية



السؤال رقم (6)

صل ما في العمود (أ) بما يناسبه في العمود (ب):

(ب)



(أ)

جهاز يعمل بواسطة
بطارية قابلة لإعادة
الشحن

جهاز يعمل بالبطارية



السؤال رقم (7)

أكمل الفراغات التالية مستعيناً بالكلمات في الجدول التالي:

مفيدة	تعمل	الحركة	جهازاً كهربائياً	حاملة للبطارية	مقبس	كهرباء رئيس
-------	------	--------	------------------	----------------	------	-------------

1. يسمى الجهاز الذي يعمل بالكهرباء

2. للجهاز الذي يعمل بالكهرباء سلك كهربائي و

3. الثلاجة بالكهرباء

4. تعمل بعض الأجهزة بواسطة مصدر

5. الطاقة المفيدة التي تنتجها الخلاط هي

6. في المصباح الكهربائي يعد الضوء طاقة



السؤال رقم (8)

ضع علامة (✓) أمام العبارة الصحيحة، أو علامة (×) أمام العبارة الخاطئة :

1. نسمي الجهاز الذي لا يعمل بالكهرباء جهازاً كهربائياً ()

2. المروحة اليدوية تعمل بالكهرباء ()

3. للجهاز الذي يعمل بالكهرباء سلك كهربائي و قابس ()

4. تعمل بعض الأجهزة بواسطة البطارية ()

5. جميع البطاريات غير قابلة لإعادة الشحن ()



ثانياً: الأسئلة المقالية :

السؤال رقم (19)
أجب عن الأسئلة التالية
ماذا نسمي الشيء الذي لديه سلك وقابس؟ -----
ماذا تنتج البطارية؟ -----
ما الطاقة المهدورة في غسالة الملابس؟ -----
اذكر جهاز يعمل بالكهرباء -----
اذكر جهاز لا يعمل بالكهرباء -----