

تم تحميل هذا الملف من موقع المناهج القطرية



أوراق عمل نهاية الفصل غير مجابة مدرسة الخور

[موقع المناهج](#) ⇨ [المناهج القطرية](#) ⇨ [المستوى الثاني](#) ⇨ [علوم الحاسب](#) ⇨ [الفصل الثاني](#) ⇨ [الملف](#)

تاريخ إضافة الملف على موقع المناهج: 08:10:19 2024-06-10

إعداد: مدرسة الخور

التواصل الاجتماعي بحسب المستوى الثاني



اضغط هنا للحصول على جميع روابط "المستوى الثاني"

روابط مواد المستوى الثاني على تلغرام

[الرياضيات](#)

[اللغة الانجليزية](#)

[اللغة العربية](#)

[التربية الاسلامية](#)

المزيد من الملفات بحسب المستوى الثاني والمادة علوم الحاسب في الفصل الثاني

[أوراق عمل نهاية الفصل غير مجابة مدرسة الأندلس](#)

1

[تدريبات دعم واثراء نهاية الفصل مجمع الفرقان غير مجابة](#)

2

[أوراق عمل اثرائية منتصف الفصل مدرسة الأندلس مع الإجابة النموذجية](#)

3

[أوراق عمل اثرائية منتصف الفصل مدرسة الأندلس غير مجابة](#)

4

العام الأكاديمي 2022/2023

رؤيتنا: " الريادة في توفير فرص تعلم دائمة ومبتكرة وذات جودة عالية للمجتمع القطري "

الصف: الثاني

ورقة عمل 1

الأسبوع الثاني والعشرون

الوحدة الأولى والثانية والثالثة: أنا أنظم ملفاتي + أنا أزور العالم + البرمجة الرسومية

اسم الطالبة:



هذه التدريبات لا تُعني
عن الكتاب المدرسي

السؤال الأول: اختاري الإجابة الصحيحة

1- ملف صوتي



2- ملف نصي



3- ملف فيديو



العام الأكاديمي 2022/2023

رؤيتنا: " الريادة في توفير فرص تعلم دائمة ومبتكرة وذات جودة عالية للمجتمع القطري "

4- اسم الملف المناسب لصورة لعطلتك الصيفية هو

A. صورة

B. إجازتي

C. ملف 2

5- اسم الملف المناسب لصورة عن رياضتك المفضلة هو

A. ملف 1

B. التنس

C. صورتي

6- اسم الملف المناسب لقائمة عن المناطق السياحية هو

A. المناطق السياحية

B. ملف نصي 1

C. ص 2

7- اسم الملف المناسب لصورة عن مدرستي

A. العطلة

B. صورة

C. المدرسة



التفاح.rtf

8- ما هو اسم الملف؟

A. الموز

B. التفاح

C. الأسد



التفاح.rtf

9- ما هو نوع الملف؟

A. نص

B. صورة

C. فيديو

رؤيتنا: " الريادة في توفير فرص تعلم دائمة ومبتكرة وذات جودة عالية للمجتمع القطري "

-10 ما امتداد الملف؟



A .Jpg

B .Wmv

C .rtf

-11 ما هو اسم الملف؟



عصفور.JPG

A .الخضروات

B .الفراولة

C .عصفور

-12 ما هو نوع الملف؟



عصفور.JPG

A .نص

B .صورة

C .فيديو

-13 ما امتداد الملف؟



عصفور.JPG

A .JPG

B .WMV

C .rtf

-14 أحد الأجهزة التالية يمكنها تبادل الملفات مع الحاسوب



A.



B.



العام الأكاديمي 2022/2023

رؤيتنا: " الريادة في توفير فرص تعلم دائمة ومبتكرة وذات جودة عالية للمجتمع القطري "

-15 أحد الأسماء التالية يعتبر اسم مستعار مناسب

A. اسم رياضتي المفضلة

B. اسمي الحقيقي

C. عنوان بيتي

-16 أحد الأسماء التالية يعتبر اسم مستعار غير مناسب

A. اسم قطتي

B. لوني المفضل

C. رقم بطاقتي الشخصية

-17 من أنواع الملفات

A. ملف نصي

B. الشاشة

C. الإنترنت

-18 هي برامج مؤذية وخطيرة يمكن أن تتسبب بالعديد من المشاكل لملفاتنا ولأجهزة الحاسوب

A. التنس

B. فيروسات الحاسوب

C. المجلد

-19 لحماية جهازي الحاسوب من الفيروسات نستخدم

A. برنامج الحماية من الفيروسات

B. برنامج الدفتر WordPad

C. وحدة النظام

-20 من قواعد التصفح الآمن عبر الويب

A. استخدم اسمي الحقيقي

B. استخدم رقم جوازي السفر

C. أتجنب الضغط على الإعلانات.

العام الأكاديمي 2022/2023

رؤيتنا: " الريادة في توفير فرص تعلم دائمة ومبتكرة وذات جودة عالية للمجتمع القطري "

21- واحد من التالي، يمثل أحد أنواع المعلومات التي تجدها عند تصفحك للويب.

- A. صورة
B. برنامج الدفتر WordPad
C. لوحة المفاتيح



22- نوع المعلومات التالي هو:

- A. نص
B. صورة
C. فيديو



23- نوع المعلومات التالي هو:

- A. نص
B. صورة
C. فيديو

24- هي لغة خاصة يستخدمها الإنسان لإصدار الأوامر للحاسوب وتسمى لغة البرمجة:

- A. اللغة الإنجليزية
B. المجلد
C. لغة الحاسوب

25- هي التعليمات التي تتلقاها الحواسيب لتستطيع تأدية مهامها. وتكون مرتبة ترتيباً صحيحاً.

- A. لغة الحاسوب
B. الأوامر
C. نص

العام الأكاديمي 2022/2023

رؤيتنا: الريادة في توفير فرص تعلم دائمة ومبتكرة وذات جودة عالية للمجتمع القطري"

-26 هو وضع الخطوات بترتيب معين وصحيح.

A. التسلسل

B. الأوامر

C. نص

-27 المربع له أضلاع

A. ثلاثة

B. أربعة

C. خمسة

-28 المستطيل له أضلاع

A. ثلاثة

B. أربعة

C. خمسة

-29 هو برنامج يستخدم أوامر بسيطة في إنشاء برامج لرسم أشكال هندسية ورسومات فنية



A. برنامج الدفتر WordPad



B. برنامج متصفح الويب Microsoft Edge



C. برنامج السلحفاة TurtleArt

العام الأكاديمي 2022/2023

رؤيتنا: " الريادة في توفير فرص تعلم دائمة ومبتكرة وذات جودة عالية للمجتمع القطري "




السؤال الثاني: أكمل الجدول التالي:

نوع الملف			امتداد الملف	اسم الملف	
فيديو	صورة	نص			
<input type="checkbox"/>	<input type="checkbox"/>	<input type="checkbox"/>			 برتقال. JPEG
<input type="checkbox"/>	<input type="checkbox"/>	<input type="checkbox"/>			 قطة. rtf
<input type="checkbox"/>	<input type="checkbox"/>	<input type="checkbox"/>			 الخيول. WMV

رؤيتنا: الريادة في توفير فرص تعلم دائمة ومبتكرة وذات جودة عالية للمجتمع القطري"

السؤال الثالث: صلي العمود (أ) وما يناسبه من العمود (ب)

اسم فاكهتي المفضلة	
رقم جواز السفر	اسم مستعار مناسب
اسم الشخصية الكرتونية المفضلة لديك	
عنواني	
اسمي الحقيقي	اسم مستعار غير مناسب
لوني المفضل	

	استخدم برامج الحماية من الفيروسات
	استخدم اسماً مستعاراً
	تجنب الضغط على الإعلانات

رؤيتنا: " الريادة في توفير فرص تعلم دائمة ومبتكرة وذات جودة عالية للمجتمع القطري "

السؤال الرابع:

أ) اتبع خطوات الخوارزمية التالية ثم اكتب أو ارسم الناتج في المربع الفارغ

	تقدم إلى الأمام 150 خطوة	
	<u>استدر لليمين</u>	
	تقدم إلى الأمام 150 خطوة	
	استدر لليمين	
	تقدم إلى الأمام 150 خطوة	
	استدر لليمين	
	تقدم إلى الأمام 150 خطوة	
	استدر لليمين	

ب) اتبع خطوات الخوارزمية التالية ثم اكتب أو ارسم الناتج في المربع الفارغ

	تقدم إلى الأمام 100 خطوة	
	استدر لليمين	
	تقدم إلى الأمام 60 خطوة	
	استدر لليمين	
	تقدم إلى الأمام 100 خطوة	
	استدر لليمين	
	تقدم إلى الأمام 60 خطوة	
	استدر لليمين	