

شكراً لتحميلك هذا الملف من موقع المناهج القطرية



تدريبات مجمع الفرقان منتصف الفصل

[موقع المناهج](#) ⇨ [المناهج القطرية](#) ⇨ [المستوى الثاني](#) ⇨ [علوم الحاسب](#) ⇨ [الفصل الأول](#) ⇨ [الملف](#)

تاريخ نشر الملف على موقع المناهج: 18:52:17 2023-10-02 | اسم المدرس: مجمع الفرقان

التواصل الاجتماعي بحسب المستوى الثاني



روابط مواد المستوى الثاني على تلغرام

[الرياضيات](#)

[اللغة الانجليزية](#)

[اللغة العربية](#)

[التربية الاسلامية](#)

المزيد من الملفات بحسب المستوى الثاني والمادة علوم الحاسب في الفصل الأول

تحميل كتاب الأنشطة	1
تحميل كتاب الطالب	2
احابات تدريبات دعم واثراء نهاية الفصل الأول ٢٠٢٢م	3
تدريبات دعم واثراء نهاية الفصل الأول ٢٠٢٢م	4
كتاب المعلم الفصل الأول 2022-2023م	5

الحاسوب 2

منتصف ف1

1445 هـ
23-24 م



واصل
التطبيق



ملحوظة: هذه التدريبات لا تفني عن الكتاب المدرسي

الصف/2-

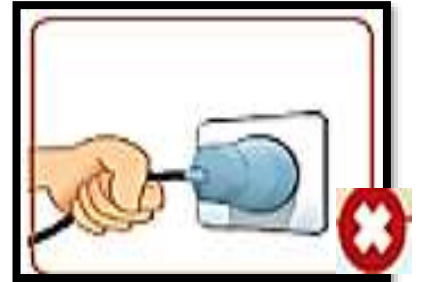
الاسم/

التميز



أسئلة محلولة

س : ضع علامة (✓) على الاستخدام الصحيح للأجهزة
وعلمة (×) على الاستخدام الخاطئ للأجهزة :-





س :



عرف إعادة التدوير :



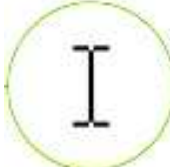


هي استخدام الأشياء القديمة المستعملة لإنشاء أشياء جديدة.

تدريب كتاب النشاط صفحة رقم 11

صل المواد القابلة لإعادة التدوير بالعلبة المناسبة.

The diagram illustrates the recycling process for various materials. On the left, there are three recycling bins: a green bin for paper and cardboard, an orange bin for plastic, metal, and glass, and a blue bin for electronic waste. On the right, there are four categories of waste: a laptop, a smartwatch, batteries, and a stack of paper. Red arrows indicate the correct disposal method for each category: the laptop and smartwatch go to the blue bin, the batteries go to the orange bin, and the stack of paper goes to the green bin.

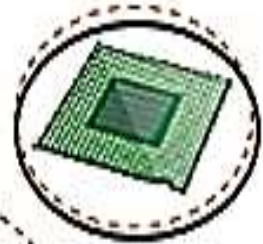
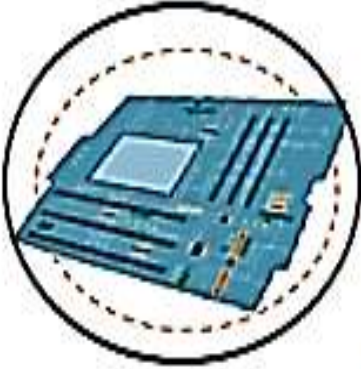
يس : صل الكلمات في العمود (أ) مع ما يناسبها من العمود (ب) :

<u>(ب) المهام</u>	<u>(أ) شكل مؤشر الفأرة</u>
الاختيار	
التحرك	
انتقال إلى	
كتابة نص	
انتظار	

حل كتاب التدريبات ص 15

3

ضع دائرة حول المكونات الموجودة في وحدة النظام.





الشاشة
Monitor



وحدة النظام
System Unit

الأجهزة الرئيسة للحاسوب



الفأرة
Mouse



لوحة المفاتيح
Keyboard

لنتعرف على الأجهزة الملحقة لحاسوبي



الطابعة
Printer



الميكروفون
Microphone



مكبر الصوت
Speakers



كاميرا الويب
Webcam



الماسح الضوئي
Scanner



سماعات الأذن
Headphones



الكاميرا الرقمية
Digital Camera

حل كتاب التدريبات والأنشطة ص 16




صل وظائف الأجهزة بالصورة المناسبة وذلك بكتابة الرقم المناسب في الصورة أمام الصورة المناسبة.



2

تسجيل صوت.

1



1

كتابة نص.

2



4

عرض شاشات البرنامج.

3



3

التقاط الصور أو مقاطع الفيديو.

4



5

الاستماع إلى الملفات الصوتية.

5

حل كتاب التدريبات ص 17

اكتب رقم الجهاز الصحيح في الدائرة المناسبة:

2 الاستماع إلى الملفات الصوتية.



1 تحريك المؤشر.



4 طباعة الصور والصفحات.



3 إدخال المستندات إلى الحاسوب.



5 مشاهدة الأصدقاء عبر الإنترنت.



اجب عن الأسئلة الآتية :

السؤال الأول :-

ضع علامة (X) أمام الإجابة الصحيحة

من أشكال الفأرة يستخدم للانتظار

1

من الأجهزة الملحقة للحاسوب



2

الصورة التي تدل على الطريقة الصحيحة لاستخدام الأجهزة






3

من الأشياء التي لا يصح أن تكون بجوار الحاسوب



4


السؤال الثاني: -
صل أجهزة الحاسوب في العمود (A) بوظيفتها المناسبة في العمود (B)

B		A
تحريك المؤشر		
تسجيل الصوت		
ادخال المستندات والصور للحاسوب		

السؤال الثالث: -
ضع علامة ✓ بجانب الصورة المناسبة

من مكونات وحدة النظام:







1

من الأجهزة الرئيسية للحاسوب:







2

لإعادة تدوير الأجهزة تستخدم:







3

السؤال الرابع

صل أشكال مؤشر الفأرة في العمود (A) بالمهام المناسبة بالعمود (B)

B		A
الاختيار		
الانتقال إلى		
الكتابة		
الانتظار		
التحرك		