

تم تحميل هذا الملف من موقع المناهج القطرية



أوراق عمل اثرائية تحضيريا لاختبار منتصف الفصل مع الإجابة النموذجية

موقع المناهج ← المناهج القطرية ← المستوى الثاني ← علوم ← الفصل الأول ← أوراق عمل ← الملف

تاريخ إضافة الملف على موقع المناهج: 2024-10-20 15:03:55

ملفات اكتب للمعلم اكتب للطالب | اختبارات الكترونية | اختبارات | حلول | عروض بوربوينت | أوراق عمل
منهج انجليزي | ملخصات وتقارير | مذكرات وبنوك | الامتحان النهائي للمدرس

المزيد من مادة
علوم:

التواصل الاجتماعي بحسب المستوى الثاني



صفحة المناهج
القطرية على
فيسبوك

الرياضيات

اللغة الانجليزية

اللغة العربية

التربية الاسلامية

المواد على تلغرام

المزيد من الملفات بحسب المستوى الثاني والمادة علوم في الفصل الأول

مراجعة وأوراق عمل الفرقان منتصف الفصل غير مجابة

1

الاختبار النهائي منتصف الفصل

2

أوراق عمل الأندلس الاثرائية منتصف الفصل مجابة

3

أوراق عمل الأندلس الاثرائية منتصف الفصل غير مجابة


4

جدول مواصفات اختبار منتصف الفصل

5

العام الأكاديمي 2025/2024

منتصف الفصل الدراسي الاول



حل أوراق العمل الإثرائية

مادة العلوم


الصف الثاني الابتدائي


	اسم الطالب
	الصف والشعبتي


1/9/2024

الاسم: الصف: ثاني/


اختر الإجابة الصحيحة

نبات له أشواك لتقلل من خسارة الماء، في أي موطن يعيش هذا النبات؟		1
	الصحراء	A <input checked="" type="checkbox"/>
	المنطقة القطبية	B <input type="checkbox"/>
	الغابة المطيرة	C <input type="checkbox"/>


ما هو المكان الذي يعيش فيه الحيوان الموجود بالصورة؟		2
	الصحراء	A <input checked="" type="checkbox"/>
	المنطقة العشبية	B <input type="checkbox"/>
	المنطقة القطبية	C <input type="checkbox"/>

ما هو الموطن الذي يعيش فيه الدب القطبي؟		3
	الصحراء	A <input type="checkbox"/>
	الغابة المطيرة	B <input type="checkbox"/>
	المنطقة القطبية	C <input checked="" type="checkbox"/>


ما هو الموطن الذي يكون كثير الأمطار؟		4
المنطقة القطبية	A	
الصحراء	B	
الغابة	C	X

ما هو شكل أوراق النخيل؟		5
	سميكة باهتة مغطاة بطبقة دهنية	A
	رفيعة باهتة مغطاة بطبقة زيتية	B
	رفيعة لامعة مغطاة بطبقة شمعية	C
		X

أي التصرفات التالية <u>يضر الموطن</u> والكائنات الحية المتواجدة به؟		6
هدر الطاقة	A	X
إعادة الاستخدام	B	
ترشيد الاستهلاك	C	

ما الوصف الصحيح الذي يُعبر عن مناخ المنطقة القطبية؟		7
	بارد جدًا	A
	معتدل وأمطار كثيرة جدًا	B
	جاف وممطر	C
		X

أي النباتات التالية يعيش في دولة قطر وهو مهدد بالانقراض؟		8
شجر البلوط	A	
شجر العوسج	B	X
شجر الأرز	C	

ما هو سبب أن الأطوم حيوان مهدد بالانقراض؟		9
	لأن موطنه لا يناسبه	A
	بسبب الصيد الجائر	B
	بسبب ارتفاع درجات الحرارة في موطنه	C

السؤال العاشر: أكمل الجمل باستخدام الكلمات الموجودة في مربع الكلمات التالي :
صل العبارات من العمود (أ) مع الصور التي تناسبها من العمود (ب).

العمود (ب)

العمود (أ)



1) مكان يعيش فيه
الفيل

2) حيوان صحراوي
مهدد بالانقراض

السؤال الحادي عشر: أكمل الجمل باستخدام الكلمات الموجودة في مربع الكلمات التالي :


الْحُبَارَى - السَّنَام - التَّلَوْث

1 - النفايات تسبب التلوث

2- جزء من جسم الجمل يخزن فيه الدهون هو السنام

3- طائر تقيم له دولة قطر المحميات لأنه مهدد بالانقراض الحبارى

السؤال الثاني عشر : ضع علامة (√) أمام العبارة الصحيحة، وعلامة (x) امام الاجابة الخاطئة

x	1- تعيش السمكة في الصحراء
√	2- تنشئ دولة قطر المحميات الطبيعية للمحافظة على المواطن.
√	3- نحافظ على المواطن من خلال رمي النفايات في الأمكنة المخصصة لها 

السؤال الثالث عشر : بماذا يمتاز مناخ الصحراء ؟





حار / جاف / قليل الامطار


15/9/2024


الاسم: الصف: ثاني /


اختر الإجابة الصحيحة


	ما الطاقة <u>المهدورة</u> التي ينتجها المصباح الكهربائي؟		1
	الصوت	A	
	الضوء	B	
	الحرارة	C	×


	في الصورة المقابلة: ماذا تسمى هذه القطعة؟		2
	قابس	A	×
	مقبس	B	
	سلك كهربائي	C	

	ما الطاقة التي ينتجها هذا الجهاز <u>ونستفيد</u> منها؟		3
	الضوء	A	
	الحركة	B	
	الحرارة	C	×

	ما هي <u>الطاقة المفيدة</u> التي ينتجها المصباح اليدوي؟		4
	حرارية	A	
	حركية	B	
	ضوئية	C	×

	ما <u>الطاقة المفيدة</u> التي تنتجها الغسالة؟		5
	الصوت	A	
	الحركة	B	×
	الضوء	C	

	جزء في الكشاف اليدوي هو الذي <u>يعطيه الطاقة</u> حتى يضيء المصباح، ما هو؟		6
	المفتاح	A	
	البطارية	B	×
	المصباح	C	

	ما هو الجهاز الكهربائي الذي يعمل ببطارية غير قابلة للشحن؟		7
	الريموت	A	×
	الجوال	B	
	الفرن الكهربائي	C	

  		<p>ما هو الجهاز الذي يعمل بالكهرباء ؟</p>	8	
(ت)	(ب)	(أ)		
		(أ)	A	
		(ب)	B	✗
		(ت)	C	

السؤال التاسع : أكمل الجمل التالية باستخدام الكلمات الموجودة في صندوق الكلمات

كهربائية - الضوئية

(1) تُنتج البطاريات طاقة كهربائية

(2) الطاقة المفيدة التي تنتجها المصابيح الكهربائية هي الطاقة الضوئية

1/10/2024

الاسم: الصف: ثاني/

السؤال الأول : صل بين الجهاز و استخدامه



تسخين الماء



يعطي الضوء



يعطي صوت

السؤال الثاني : ضع علامة (✓) أمام العبارة الصحيحة، وعلامة (x) امام الاجابة الخاطئة

<p style="text-align: center; font-size: 2em; font-weight: bold;">✓</p>	<p style="text-align: right;">1- الصورة المجاورة تسمى مقبس</p> 
<p style="text-align: center; font-size: 2em; font-weight: bold;">✓</p>	<p style="text-align: right;">2- التلفاز جهاز كهربائي</p> 
<p style="text-align: center; font-size: 2em; font-weight: bold;">x</p>	<p style="text-align: right;">3- الكرسي يعمل بالبطارية</p> 



السؤال الثالث : بالاستفادة من صندوق المفردات صنف الأجهزة التالية :

(بطارية - كهرباء رئيسية - لا يحتاج كهرباء)

كهرباء رئيسية		غسالة
لا يحتاج كهرباء		قلم
بطارية		ريموت كونترول

السؤال الرابع :

ضع علامة (√) أمام العبارة الصحيحة، وعلامة (X) أمام العبارة الخاطئة.

√		1) عندما نسخن الماء في الغلاية الكهربائية فإنها طاقة مفيدة
X		2) يعتبر الكتاب من الأجهزة التي تعمل بالكهرباء

السؤال الخامس: صنف أشكال الطاقة التالية إلى مهدورة ومفيدة حسب الجهاز الكهربائي الموجود بالجدول.

الصوت - الضوء - الحرارة - الحركة

طاقة مهدرة	طاقة مفيدة	الجهاز الكهربائي
الصوت	الحركة	 الخلاط
الضوء	الحرارة	 المدفئة