

تم تحميل هذا الملف من موقع المناهج القطرية



أنشطة وتمارين لتعزيز المهارات الرقمية وإدارة الأمان الإلكتروني منتصف الفصل

موقع المناهج ← المناهج القطرية ← المستوى الثاني ← علوم الحاسب ← الفصل الثاني ← ملفات متنوعة ← الملف

تاريخ إضافة الملف على موقع المناهج: 2025-02-13 23:04:41

ملفات اكتب للمعلم اكتب للطالب | اختبارات الكترونية | اختبارات | حلول | عروض بوربوينت | أوراق عمل
منهج انجليزي | ملخصات وتقارير | مذكرات وبنوك | الامتحان النهائي للمدرس

المزيد من مادة
علوم الحاسب:

التواصل الاجتماعي بحسب المستوى الثاني



الرياضيات



اللغة الانجليزية



اللغة العربية



التربية الاسلامية



المواد على تلغرام

صفحة المناهج
القطرية على
فيسبوك

المزيد من الملفات بحسب المستوى الثاني والمادة علوم الحاسب في الفصل الثاني

أوراق عمل الأندلس منتصف الفصل غير مجابة

1

أوراق عمل الأندلس منتصف الفصل مع الإجابة النموذجية

2

تدريبات دعم واثراء نهاية الفصل مع الإجابة النموذجية

3

تدريبات دعم واثراء نهاية غير مجابة

4

أوراق عمل نهاية الفصل مدرسة صفية بنت عبد المطلب مع الإجابة النموذجية

5

2

الحوسبة

1446 هـ - 24-25 م

منتصف ف 2م

تدريبات
دعم
وإثراء



يا رب انصر عبادك المؤمنين
وجنك الموحدين في كل مكان

القدس والأقصى ▼ حتماً ستعود

ملحوظة: هذه التدريبات لا تقني عن الكتاب المدرسي

الاسم / الصف / 2-

التميز





الصف الثاني

السؤال الأول : اختر الإجابة الصحيحة فيما يأتي :

1. أي من ايقونات الملفات الأتية تشير إلى ملف الفيديو :



ج.



ب.



أ.

2. أي من ايقونات الملفات الأتية تشير إلى ملف صوتي :



ج.



ب.



أ.

3. أي من ايقونات الملفات الأتية تشير إلى ملف نصي :



ج.



ب.



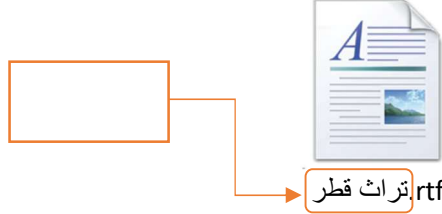
أ.



مادة الحوسبة وتكنولوجيا المعلومات

الصف الثاني

4. يشير السهم في الملف الاتي الي :




ج. ايقونة الملف

ب. امتداد الملف

أ. اسم الملف

5. يشير السهم في الملف الاتي الي :

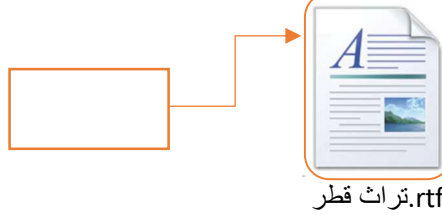


ج. ايقونة الملف

ب. امتداد الملف

أ. اسم الملف

6. يشير السهم في الملف الاتي الي :



ج. ايقونة الملف

ب. امتداد الملف

أ. اسم الملف

مراجعة منتصف الفصل الدراسي الثاني 2024-2025 م

مادة الحوسبة وتكنولوجيا المعلومات

الصف الثاني



7. البرنامج المستخدم للتصفح عبر الأنترنت هو:



ج.



ب.



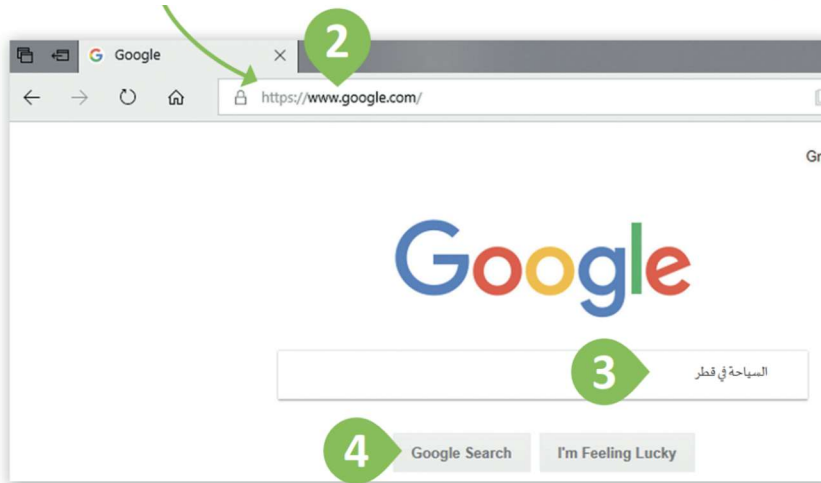
أ.

8. أي من الآتي هو شريط العنوان في صفحة الويب:

أ. 2

ب. 3

ج. 4





مادة الحوسبة وتكنولوجيا المعلومات

الصف الثاني

السؤال الثاني . اجب عن الأسئلة الآتية بشكل صحيح

1. حدد حجم المساحة التخزينية لكل مما يأتي :

حجم الملف	الامتداد	
7 كيلو بايت (KB)	.rtf	

حجم الملف	الامتداد	
18 كيلوبايت (KB)	.png	

2. قم بتوصيل العبارات في القائمة (أ) بما يناسبها من القائمة (ب) في قواعد التصفح الامن عبر الانترنت :



اسمي المستعار هو "Rm10"

أ.

استخدام برامج مضادة
للفيروسات

استخدام اسم مستعار

تجنب الضغط علي
الاعلانات

ب.



السؤال الثالث : اكتب اسم الملف، ضع علامة صح علي نوع الملف في الجدول الآتي :-

نوع الملف			اسم الملف	الملف
فيديو	صورة	نصي		
			 كرة القدم.rtf
			 الأحصنة.mp4
			 جزر.png