

تم تحميل هذا الملف من موقع المناهج القطرية



ورق عمل إثرائي تحضيرى لاختبار منتصف الفصل

موقع المناهج ← المناهج القطرية ← المستوى الثاني ← علوم ← الفصل الأول ← أوراق عمل ← الملف

تاريخ إضافة الملف على موقع المناهج: 2024-10-20 16:48:25

ملفات اكتب للمعلم اكتب للطالب | اختبارات الكترونية | اختبارات | حلول | عروض بوربوينت | أوراق عمل
منهج انجليزي | ملخصات وتقارير | مذكرات وبنوك | الامتحان النهائي للمدرس

المزيد من مادة
علوم:

التواصل الاجتماعي بحسب المستوى الثاني



صفحة المناهج
القطرية على
فيسبوك

الرياضيات

اللغة الانجليزية

اللغة العربية

التربية الاسلامية

المواد على تلغرام

المزيد من الملفات بحسب المستوى الثاني والمادة علوم في الفصل الأول

بنك اسئلة اختبار منتصف الفصل

1

أوراق عمل اثرائية غير مجابة استعدادا لاختبار منتصف الفصل

2

أوراق عمل اثرائية تحضيريا لاختبار منتصف الفصل مع الإجابة النموذجية

3

مراجعة وأوراق عمل الفرقان منتصف الفصل غير مجابة

4

الاختبار النهائي منتصف الفصل

5


ورق عمل اثرائي

العام الأكاديمي: 2024/2025

المادة: العلوم

اسم الطالب: الشعبة:

تعليمات اختر الإجابة الصحيحة لكل من الأسئلة من 1 إلى 13 ، وذلك بوضع علامة x داخل المربع المجاور للإجابة الصحيحة:

| السؤال رقم (1) | |
|---|--------------------------------|
|  | إلى ماذا تشير الإشارة التالية؟ |
| A | اعد تدوير النفايات |
| B | أطفئ المصابيح في المباني |
| C | اقتصد في استهلاك الماء |

| السؤال رقم (2) | |
|---|--------------------------------|
|  | إلى ماذا تشير الإشارة التالية؟ |
| A | اعد تدوير النفايات |
| B | أطفئ المصابيح في المباني |
| C | اقتصد في استهلاك الماء |

| السؤال رقم (3) | |
|---|--------------------------------|
|  | إلى ماذا تشير الإشارة التالية؟ |
| A | اعد تدوير النفايات |
| B | أطفئ المصابيح في المباني |
| C | اقتصد في استهلاك الماء |

| السؤال رقم (4) | |
|---|--------|
| أي من الحيوانات التالية مهدد بالانقراض؟ | |
| A | الضب |
| B | الجمل |
| C | القطعة |


| السؤال رقم (5) | |
|--|-----------------------------------|
| ما الأسباب التي تؤدي إلى الانقراض الحيوانات؟ | |
| A | زراعة الأشجار والنباتات |
| B | صيد الحيوانات والاحتفاظ بها |
| C | رمي النفايات في المكان المخصص لها |

| السؤال رقم (6) | |
|---|--------|
| أي من الحيوانات التالية مهدد بالانقراض؟ | |
| A | الأسد |
| B | الأطوم |
| C | الأرنب |

| السؤال رقم (7) | |
|---|--------|
| أي من النباتات التالية مهددة بالانقراض؟ | |
| A | الصبار |
| B | النخيل |
| C | العوسج |

| السؤال رقم (8) | |
|-------------------------------|-------------------------|
| كيف يحافظ الانسان على الموطن؟ | |
| A | هدر الماء |
| B | ترشيد الاستهلاك |
| C | رمي النفايات على الطريق |

| السؤال رقم (9) | |
|--|----------------------|
| تعد الغسالة جهازًا كهربائيًا لأن | |
| A | له حاملية بطارية |
| B | له سلك كهربائي وقابس |
| C | لا يعمل بالكهرباء |

| السؤال رقم (10) | |
|---|---|
|  | ما الذي يحتاج إليه الجهاز في الصورة لكي يعمل؟ |
| A | بطارية قابلة لإعادة الشحن. |
| B | بطارية دائرية صغيرة. |
| C | سلك كهربائي وقابس . |

| السؤال رقم (11) | |
|-------------------------------|---------|
| ما الشيء الذي يعمل بالكهرباء؟ | |
| A | التلفاز |
| B | الكتاب |
| C | القلم |

| السؤال رقم (12) | |
|---------------------------------------|----------------|
| أي من الأجهزة التالية يعمل بالبطارية؟ | |
| A | الغسالة |
| B | الثلاجة |
| C | المصباح اليدوي |

| السؤال رقم (13) | |
|---------------------------------------|---|
| أي من الأجهزة التالية يعمل بالكهرباء؟ | |
| A |  |
| B |  |
| C |  |

السؤال الثاني: صل ما في العمود (أ) بما يناسبه في العمود (ب):

| (ب) | (أ) |
|------------------------------------|---|
| إعادة التدوير |  |
| إلقاء النفايات في المكان المخصص له |  |
| الاعتصاف في استهلاك الماء |  |
| ترشيد استهلاك الكهرباء |  |

1- السؤال الثالث: ضع علامة (√) أو (x) أمام العبارات التالية:

| | |
|-----|---|
| () | 1. الحبارى من الحيوانات <u>غير المهددة</u> بالانقراض |
| () | 2. كثرة صيد الحيوانات تحميها من الانقراض |
| () | 3. يعد الأطوم من الحيوانات المهددة بالانقراض بسبب الصيد |
| () | 4. الضب من الحيوانات <u>المهددة</u> بالانقراض. |
| () | 5. من أسباب انقراض الحيوانات خسارة الموطن وصيد وهواية جمع الحيوانات |
| () | 6. <u>الاحتطاب العشوائي والرعي الجائر</u> من أسباب انقراض نبات العوسج. |
| () | 7. يمكن المحافظة على الموطن عبر تقليل من النفايات وترشيد الاستهلاك وإعادة التدوير وإعادة الاستخدام. |
| () | 8. نبات العوسج من النباتات المهددة بالانقراض في دولة قطر |
| () | 9. من طرق المحافظة على الموطن؛ رمي النفايات في الشارع. |
| () | 10. نسمي الشيء الذي يعمل بالكهرباء جهازاً كهربائياً. |
| () | 11. الجهاز الذي يعمل بالكهرباء له سلك كهربائي أو حاملة بطارية |
| () | 12. كل الأشياء تعمل بالكهرباء. |
| () | 13. بعض الأشياء تعمل بالكهرباء. |
| () | 14. بعض الأشياء تعمل بالكهرباء وبعضها لا تعمل بالكهرباء |

السؤال الرابع

أكمل الفراغات التالية مستعيناً بالكلمات في الجدول التالي :

| العوسج | جهاز كهربائي | التلوث | الماء | الحبارى |
|--------|--------------|--------|-------|---------|
|--------|--------------|--------|-------|---------|

- 1- ترك الصنبور مفتوحاً يهدر -----
- 2- النفايات تسبب -----
- 3- يُعد طائر ----- من الحيوانات المهددة بالانقراض بسبب الصيد الجائر.
- 4- نبات من النباتات المهددة بالانقراض في دولة قطر.
- 5- تسمى الأشياء التي تعمل بالكهرباء _____ .

1/


السؤال (5)

أنظر إلى الصورة ثم أجب عن السؤال التالي:

ماذا يحتاج الجهاز الكهربائي لكي يعمل، سلك كهربائي أو بطارية ؟

الإجابة: _____ .



| | |
|---|---|
| 1/ | السؤال (6) |
|  | أجب عن السؤال التالي: لماذا تعد الغسالة جهاز كهربائي؟ |

| | |
|----------|---|
| 1/ | السؤال (7) |
| | أجب عن السؤال التالي: اذكر جهازًا يعمل بالكهرباء. |

| | |
|----------|--|
| 1/ | السؤال (8) |
| | أجب عن السؤال التالي: نسمي الشيء الذي يعمل بالكهرباء |