

تم تحميل هذا الملف من موقع المناهج القطرية



الاختبار التحصيلي نهاية الفصل

[موقع المناهج](#) ⇨ [المناهج القطرية](#) ⇨ [المستوى الثاني](#) ⇨ [رياضيات](#) ⇨ [الفصل الثاني](#) ⇨ [الملف](#)

تاريخ إضافة الملف على موقع المناهج: 08:27:33 2024-06-09

التواصل الاجتماعي بحسب المستوى الثاني



اضغط هنا للحصول على جميع روابط "المستوى الثاني"

روابط مواد المستوى الثاني على تلغرام

[الرياضيات](#)

[اللغة الانجليزية](#)

[اللغة العربية](#)

[التربية الاسلامية](#)

المزيد من الملفات بحسب المستوى الثاني والمادة رياضيات في الفصل الثاني

[أوراق عمل نهاية الفصل مجمع الفرقان مع الإجابة النموذجية](#)

1

[بنك أسئلة اختبار نهاية الفصل مدرسة الشمال غير محاب](#)

2

[بنك أسئلة اختبار نهاية الفصل مدرسة خليفة غير محاب](#)

3


[بنك أسئلة اختبار نهاية الفصل مدرسة دخان غير محاب](#)


4

[بنك أسئلة اختبار نهاية الفصل غير محاب](#)

5

تعليمات: اختر الإجابة الصحيحة لكل من الأسئلة من 1 إلى 6، وذلك بوضع علامة × داخل المربع المجاور للإجابة الصحيحة:


السؤال الأول	
1 /.....	
ما القيمة الكلية للعمات المعدنية التالية؟	
	
A	50 درهم
B	75 درهم
C	100 درهم

السؤال الثاني	
1 /.....	
اختر الطريقة الصحيحة لقراءة الوقت.	
	
A	الساعة 5 والربع
B	الساعة 5 إلا ربع
C	15 دقيقة قبل الساعة 5

1 /.....

السؤال الثالث

ما العدد الذي يمثله النموذج أدناه؟



A 235


B 253

C 532

1 /.....

السؤال الرابع

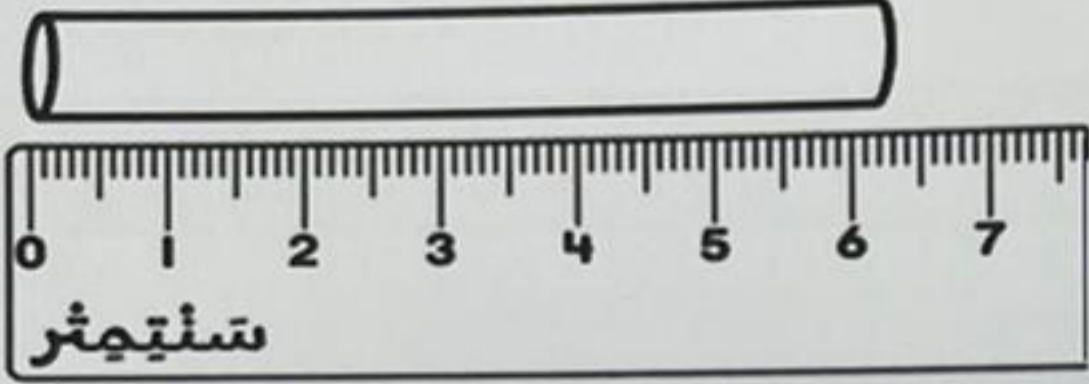
ما تقدير الطول المناسب للطاولة؟






A 1 سنتمتر تقريباً

B 1 متر تقريباً

C 10 متر تقريباً

السؤال الخامس	
1 /.....	
<p>ما تقدير طول الطيشور بالسنتيمتر؟</p> 	
A	5 سنتيمتر تقريبًا
B	6 سنتيمتر تقريبًا
C	7 سنتيمتر تقريبًا

السؤال السادس	
1 /.....	
<p>اختر الشكل المقسم إلى أرباع.</p>	
A	
B	
C	

تعليمات: عند الإجابة على الأسئلة من 7 إلى 16، اكتب إجاباتك في المساحات المخصصة لذلك.

السؤال السابع											
2/.....											
أوجد ناتج الطرح.											
	<table border="1"><thead><tr><th>عشرات</th><th>آحاد</th></tr></thead><tbody><tr><td><input type="text"/></td><td><input type="text"/></td></tr><tr><td>7</td><td>3</td></tr><tr><td>-</td><td>9</td></tr><tr><td></td><td></td></tr></tbody></table>	عشرات	آحاد	<input type="text"/>	<input type="text"/>	7	3	-	9		
عشرات	آحاد										
<input type="text"/>	<input type="text"/>										
7	3										
-	9										

السؤال الثامن							
2 /.....							
حل المسألة أدناه.							
	ركضت مريم 18 دقيقة يوم الأحد. وركضت 14 دقيقة يوم الاثنين. ما عدد الدقائق التي ركضتها في اليومين؟						
	دقيقة _____						
	<table border="1"><thead><tr><th>عشرات</th><th>آحاد</th></tr></thead><tbody><tr><td><input type="text"/></td><td><input type="text"/></td></tr><tr><td></td><td></td></tr></tbody></table>	عشرات	آحاد	<input type="text"/>	<input type="text"/>		
عشرات	آحاد						
<input type="text"/>	<input type="text"/>						

السؤال التاسع

3/.....

(أ) أوجد القيمة الكلية للأوراق النقدية.





(ب) حدد الوقت بكتابة الأرقام بحيث تظهر كلتا الساعتين نفس الوقت.



السؤال العاشر

2/.....

اكتب العدد 625 بالصيغة التحليلية والصيغة اللفظية:

الصيغة التحليلية: _____ + _____ + _____

الصيغة اللفظية: _____

السؤال الحادي عشر

3/.....

(أ) اكتب الأعداد الناقصة باستعمال أنماط القيم المنزلية والحساب الذهني:

452	453	454	455	456
462		464	465	466
472		474	475	476

(ب) اكتب الأعداد الناقصة باستعمال نمط العد القفزي.

100, 200, _____, _____, 500

(ج) قارن. اكتب > أو < أو = .

218 ○ 218

936 ○ 836

أوجد ناتج الجمع باستخدام نواتج الجمع الجزئية.

	آحاد	عشرات	مئات
	4	2	3
+	5	1	2
المئات:			
العشرات:			
الآحاد:			
المجموع =			

حل المسألة أدناه باستخدام الحساب الذهني.

يوجد 386 كعكة في علبة.

أكل طلاب الصف الثاني 100 كعكة منها.

ما عدد الكعكات المتبقية؟


$$\underline{\quad\quad\quad} - \underline{\quad\quad\quad} = \underline{\quad\quad\quad}$$

كعكة

السؤال الرابع عشر

2/.....

أ) استعمل المسطرة لقياس طول القلم الرصاص.



طول القلم الرصاص: _____ سنتمتر تقريبًا.

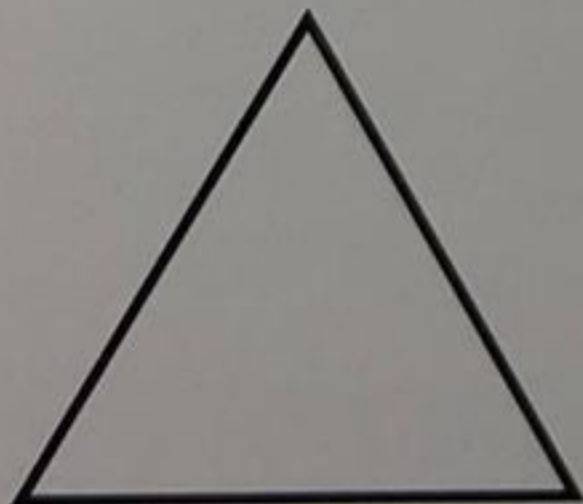
ب) استعمل أحمد عصا مترية لقياس طول سياج.
ووجد أن طول السياج يساوي 4 مرات طول العصا المترية.
ما طول السياج؟

_____ أمتار.

2/.....

السؤال الخامس عشر

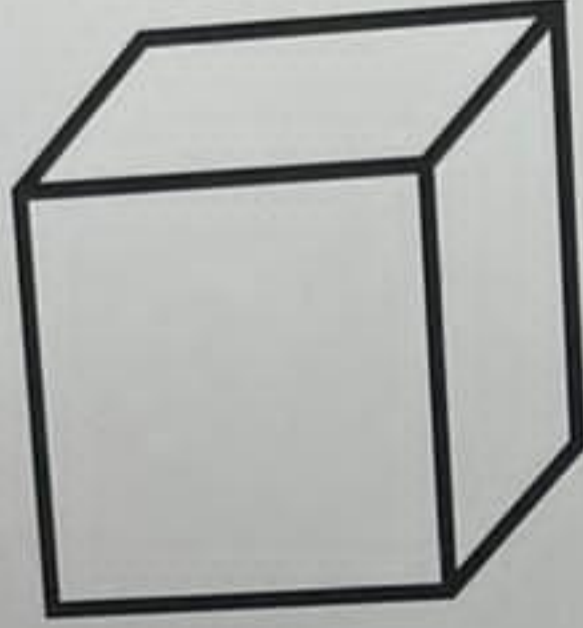
اكتب عدد الأضلاع والرؤوس للمثلث.



عدد الأضلاع: _____

عدد الرؤوس: _____

انظر إلى الشكل أدناه وأجب عن الأسئلة.



ما اسم الجسم؟

ما عدد الأوجه المستوية؟

ما عدد الرؤوس؟

انتهت الأسئلة

نتمنى لكم التوفيق