

## شكراً لتحميلك هذا الملف من موقع المناهج القطرية



## تدريبات دعم وإثراء الفرقان نهاية الفصل

[موقع المناهج](#) ⇨ [المناهج القطرية](#) ⇨ [المستوى الثاني](#) ⇨ [علوم الحاسب](#) ⇨ [الفصل الأول](#) ⇨ [الملف](#)

تاريخ نشر الملف على موقع المناهج: 2023-11-27 17:14:50

## التواصل الاجتماعي بحسب المستوى الثاني



## روابط مواد المستوى الثاني على تلغرام

[الرياضيات](#)

[اللغة الانجليزية](#)

[اللغة العربية](#)

[التربية الاسلامية](#)

## المزيد من الملفات بحسب المستوى الثاني والمادة علوم الحاسب في الفصل الأول

[احابة اختبار الوحدة الاولى انا استخدم الحاسوب](#)

1

[اختبار الوحدة الاولى انا استخدم الحاسوب](#)

2

[تدريبات مجمع الفرقان منتصف الفصل](#)

3

[تحميل كتاب الأنشطة](#)

4

[تحميل كتاب الطالب](#)

5

# الحوسبة

2  
الصف

دعم وإثراء نهائية ف1

العام الدراسي

1445 هـ

24-23 م



يا رب انصر عبادك المؤمنين  
وجنك الموحدين في كل مكان

القدس والأقصى ▼ حتماً ستعود

ملحوظة: هذه التدريبات لا تقني عن الكتاب المدرسي

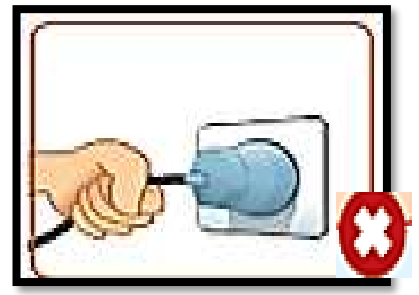
الاسم / ..... الصف /5-

التميز



### أسئلة محلولة


س : ضع علامة ( ✓ ) على الاستخدام الصحيح للأجهزة  
وعلمة ( × ) على الاستخدام الخاطئ للأجهزة :-



تدريب كتاب النشاط صفحة رقم 9



ضع دائرة حول الأشياء التي لا يصح أن تكون بجوار الحاسوب.



س :



**عرف إعادة التدوير :**

هي استخدام الأشياء القديمة المستعملة لإنشاء أشياء جديدة.





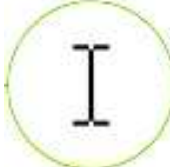


## تدريب كتاب النشاط صفحة رقم 11

3

صل المواد القابلة لإعادة التدوير بالسلة المناسبة.

The diagram illustrates the recycling process for various electronic and digital waste. On the right, four circular icons represent different types of waste: a laptop, a smartwatch, a set of batteries, and a stack of paper. On the left, three recycling bins are shown, each with a specific color and symbol: a green bin for paper, a yellow bin for plastic, and a blue bin for metal. Red arrows point from the laptop, smartwatch, and batteries to the yellow bin. A blue arrow points from the stack of paper to the green bin. A blue arrow also points from the laptop to the green bin, indicating that paper waste is the appropriate disposal method for electronic waste.

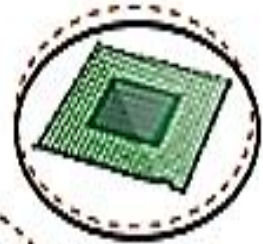
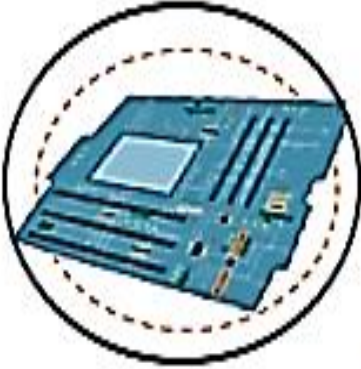
يس : صل الكلمات في العمود ( أ ) مع ما يناسبها من العمود ( ب ) :

<u>( ب ) المهام</u>	<u>( أ ) شكل مؤشر الفأرة</u>
الاختيار	
التحريك	
انتقال إلى	
كتابة نص	
انتظار	

## حل كتاب التدريبات ص 15

3

ضع دائرة حول المكونات الموجودة في وحدة النظام.







الشاشة  
Monitor



وحدة النظام  
System Unit

الأجهزة الرئيسة للحاسوب



الفأرة  
Mouse



لوحة المفاتيح  
Keyboard

لنتعرف على الأجهزة الملحقة لحاسوبي



الطابعة  
Printer



الميكروفون  
Microphone



مكبر الصوت  
Speakers



كاميرا الويب  
Webcam



الماسح الضوئي  
Scanner



سماعات الأذن  
Headphones



الكاميرا الرقمية  
Digital Camera



## حل كتاب التدريبات والأنشطة ص 16




صل وظائف الأجهزة بالصورة المناسبة وذلك بكتابة الرقم المناسب في الصورة أمام الصورة المناسبة.



2

تسجيل صوت.

1



1

كتابة نص.

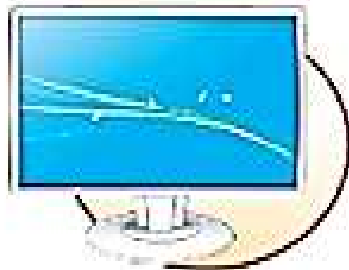
2



4

عرض شاشات البرنامج.

3



3

التقاط الصور أو مقاطع الفيديو.

4



5

الاستماع إلى الملفات الصوتية.

5

## حل كتاب التدريبات ص 17

اكتب رقم الجهاز الصحيح في الدائرة المناسبة:

2 الاستماع إلى الملفات الصوتية.



1 تحريك المؤشر.



4 طباعة الصور والصفحات.



3 إدخال المستندات إلى الحاسوب.



5 مشاهدة الأصدقاء عبر الإنترنت.




## اجب عن الأسئلة الآتية :

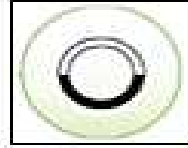
السؤال الأول :-

ضع علامة (X) أمام الإجابة الصحيحة

من أشكال مؤشر الفأرة ويستخدم للانتظار:








1

من الأجهزة الملحقة للحاسوب:








2

الصورة التي تدل على الطريقة الصحيحة لاستخدام الأجهزة المكتبية:








3

من الأشياء التي لا يصبح أن تكون بجوار الحاسوب:











4


السؤال الثاني: -  
صل أجهزة الحاسوب في العمود (A) بوظيفتها المناسبة في العمود (B)

B		A
تحريك المؤشر		
تسجيل الصوت		
إدخال المستندات وصور للحاسوب		

السؤال الثالث: -  
ضع علامة ✓ بجانب الصورة المناسبة

من مكونات وحدة النظام:








1

من الأجهزة الرئيسية للحاسوب:








2

لإعادة تدوير الأجهزة نستخدم:












3



## السؤال الرابع

صل أشكال مؤنتر الفارة في العمود (A) بالعهام المناسبة بالعمود (B)

B		A
الاختيار		
الانتقال إلى		
الكتابة		
الانتظار		
التحرك		