

تم تحميل هذا الملف من موقع المناهج القطرية



أوراق عمل نهاية الفصل غير مجابة مدرسة الأندلس

[موقع المناهج](#) ⇨ [المناهج القطرية](#) ⇨ [المستوى الثاني](#) ⇨ [علوم الحاسب](#) ⇨ [الفصل الثاني](#) ⇨ [الملف](#)

تاريخ إضافة الملف على موقع المناهج: 21:32:07 2024-06-02

إعداد: مدرسة الأندلس

التواصل الاجتماعي بحسب المستوى الثاني



اضغط هنا للحصول على جميع روابط "المستوى الثاني"

روابط مواد المستوى الثاني على تلغرام

[الرياضيات](#)

[اللغة الانجليزية](#)

[اللغة العربية](#)

[التربية الاسلامية](#)

المزيد من الملفات بحسب المستوى الثاني والمادة علوم الحاسب في الفصل الثاني

[تدريبات دعم واثراء نهاية الفصل مجمع الفرقان غير مجابة](#)

1

[أوراق عمل اثرائية منتصف الفصل مدرسة الأندلس مع الإجابة النموذجية](#)

2

[أوراق عمل اثرائية منتصف الفصل مدرسة الأندلس غير مجابة](#)

3

[تدريبات دعم واثراء الفرقان منتصف الفصل](#)

4

مدرسة الأندلس الخاصة للبنات
العام الأكاديمي 2024/2023
نهاية الفصل الدراسي الثاني



أوراق عمل إثرائية وإجاباتها

مادة الحاسب الآلي

الصف: الثاني

اسم الطالبة/.....

الصف والشعبة /.....

الوحدة الأولى: أنا أنظم ملفاتي

11

السؤال الأول: الأسئلة الموضوعية:

اختار الإجابة الصحيحة:

1.1 حفظ النصوص، الصور، الصوت والفيديو داخل الحاسوب تسمى.....:

1.1

6

A الملف.

B البرنامج.

C الصورة.

1

1.2 ما هو البرنامج الذي يستخدم لإنشاء الملف النصي؟

1.2



A



B



C

1

1.3 ما هو البرنامج الذي يستخدم لإنشاء الملف الصوري؟

1.3



A










B



C

1

 <p>ما هو حجم الملف التالي؟</p>	<p>1.4</p>	
<p>6 KB</p>	<p>A</p>	<p></p>
<p>20 KB</p>	<p>B</p>	<p>1</p>
<p>18 KB</p>	<p>C</p>	<p></p>
<p>من أنواع الملفات "ملف نصي":</p>		<p>1.5</p>
	<p>A</p>	<p></p>
	<p>B</p>	<p>1</p>
	<p>C</p>	<p></p>
<p>من أنواع الملفات "ملف صوري".</p>		<p>1.6</p>
	<p>A</p>	<p></p>
	<p>B</p>	<p>1</p>
	<p>C</p>	<p></p>

الأسئلة المقالية: (5 درجات)

5

السؤال الثاني: صل العمود (أ) مع ما يناسبه من العمود (ب) : (5 درجات)

(ب)	(أ)
	ملف بصوري
	ملف نصي
	ملف فيديو
	المجلد
	صورة مدرستي

الوحدة الثانية: أنا أזור العالم



10

5

السؤال الأول: الأسئلة الموضوعية:

اختر الإجابة الصحيحة:

<p>قواعد التصفح الآمن للإنترنت " استخدام دوماً اسماً مستعاراً":</p>	<p>1.1</p>
<p>A</p> 	<p>1</p>
<p>B</p> 	<p>1</p>
<p>C</p> 	<p>1</p>
<p>قواعد التصفح الآمن للإنترنت " تجنب الضغط على الإعلانات":</p>	<p>1.2</p>
<p>A</p> 	<p>1</p>
<p>B</p> 	<p>1</p>
<p>C</p> 	<p>1</p>
<p>قواعد التصفح الآمن للإنترنت " أستخدم برامج الحماية من الفيروسات":</p>	<p>1.3</p>
<p>A</p> 	<p>1</p>

	<p>B</p>	
	<p>C</p>	

<p>تستخدم صفحات الويب أنواع مختلفة من المعلومات منها " النص ":</p>		<p>1.4</p>
<p>المها هو نوع من الظباء الصحراوية التي تقطن شبه الجزيرة العربية وأجزاء مختلفة من قارة أفريقيا، وللحفاظ على حيوان المها العربي من الانقراض أقامت دولة قطر العديد من المحميات الطبيعية.</p>	<p>A</p>	
	<p>B</p>	<p>1</p>
	<p>C</p>	

<p>تستخدم صفحات الويب أنواع مختلفة من المعلومات منها " الصورة ":</p>		<p>1.5</p>
<p>المها هو نوع من الظباء الصحراوية التي تقطن شبه الجزيرة العربية وأجزاء مختلفة من قارة أفريقيا، وللحفاظ على حيوان المها العربي من الانقراض أقامت دولة قطر العديد من المحميات الطبيعية.</p>	<p>A</p>	
	<p>B</p>	<p>1</p>
	<p>C</p>	

5

السؤال الثاني: صل العمود (أ) مع ما يناسبه من العمود (ب) : (5 درجات)

(ب)	(أ)
اسمي الحقيقي	اسم مستعار مناسب
اسم فاكهتي المفضلة	اسم مستعار غير مناسب
	أنواع المعلومات " نص "
	أنواع المعلومات " صورة "
	متصفح الويب

الوحدة الثالثة: البرمجة الرسومية

13

5

السؤال الأول: الأسئلة الموضوعية:

اختار الإجابة الصحيحة:




الأوامر هي التعليمات التي تتلقاها الحواسيب لتستطيع تأدية مهامها:		1.1	
	A	1	
	B		
	C		
برنامج TurtleArt يستخدم أوامر بسيطة في إنشاء برنامج لرسم أشكال هندسية ورسومات فنية:		1.2	
	A	1	
	B		
	C		
	ما هو الأمر الذي يستخدم لتحريك السلحفاة إلى الأمام:		1.3
	A	1	

	100	B
	100	C



ما هو الأمر الذي يستخدم لتحريك السلحفاة إلى الخلف:

1.4




	90	A
	100	B
	100	C

1



ما هو الأمر الذي يستخدم لاستدارة السلحفاة إلى اليمين:

1.5

	90	A
	100	B
	100	C

1

السؤال الثاني: أجب عن الأسئلة التالية: (4 درجات)

ارسم هنا

أ- تتبع الخطوات التالية وارسم الشكل؟

1. ارسم خطأً.
2. استدر لليمين.
3. ارسم خطأً بنفس القياس.
4. استدر لليمين.
5. ارسم خطأً بنفس القياس.
6. استدر لليمين.
7. ارسم خطأً بنفس القياس.
8. استدر لليمين.

اكتب اسم الشكل _____

ب - تتبع الخطوات التالية وارسم مستطيل؟ (4 درجات)

ارسم هنا

1. ارسم خطأً بطول 60 سم.
2. استدر لليمين.
3. ارسم خطأً بطول 20 سم.
4. استدر لليمين.
5. ارسم خطأً بطول 60 سم.
6. استدر لليمين.
7. ارسم خطأً بطول 20 سم.
8. استدر لليمين.

اكتب اسم الشكل _____

انتهت الأسئلة