

تم تحميل هذا الملف من موقع المناهج القطرية



*للحصول على أوراق عمل لجميع الصفوف وجميع المواد اضغط هنا

<https://almanahj.com/qa>

* للحصول على أوراق عمل لجميع مواد المستوى الثاني اضغط هنا

<https://almanahj.com/qa/2>

* للحصول على جميع أوراق المستوى الثاني في مادة رياضيات ولجميع الفصول, اضغط هنا

<https://almanahj.com/qa/2math>

* للحصول على أوراق عمل لجميع مواد المستوى الثاني في مادة رياضيات الخاصة بـ الفصل الثاني اضغط هنا

<https://almanahj.com/qa/2math2>

* لتحميل كتب جميع المواد في جميع الفصول للمستوى الثاني اضغط هنا


<https://almanahj.com/qa/grade2>


للتحدث إلى بوت المناهج القطرية على تلغرام: اضغط هنا

https://t.me/qacourse_bot

تعليمات: اختر الإجابة الصحيحة لكل من الأسئلة من 1 إلى 3 ، وذلك بوضع علامة × داخل المربع المجاور للإجابة الصحيحة:

1/.....		السؤال رقم (1)
A	$45 - 0 = ?$	أي المسائل التالية يحتاج لإعادة التجميع؟
B	$68 - 49 = ?$	
C	$99 - 33 = ?$	

1/.....		السؤال رقم (2)
		يستيقظ حمد في الصباح في الوقت الذي تشير إليه الساعة المجاورة.
		متى يستيقظ حمد؟
A	6 : 15 a.m.	
B	7 : 15 a.m.	
C	6 : 15 p.m.	

1/.....		السؤال رقم (3)
		الصيغة اللفظية للعدد الممثل بالنموذج التالي:
A	مئة وأربعة وعشرون	
B	مئتان وأربعة عشر	
C	أربعمئة واثنان وعشرون	

تعليمات : عند الإجابة على الأسئلة من 4 إلى 14، اكتب إجاباتك في المساحات المخصصة لذلك.

1/.....

السؤال رقم (4)

أوجد ناتج الطرح التالي :

عشرات	آحاد
<input type="text"/>	<input type="text"/>
2	9
	4

تم تحميل هذا الملف من
موقع المناهج القطرية

2/.....

السؤال رقم (5)

أوجد حل المسألة التالية:

لدى محمد 52 كرة زجاجية. لدى راشد 34 كرة زجاجية.

كم كرة زجاجية لدى محمد أكثر مما لدى راشد ؟

عشرات	آحاد
<input type="text"/>	<input type="text"/>

..... كرة زجاجية

1/.....

السؤال رقم (6)

عد تصاعدياً لإيجاد القيمة الكلية للنقود التالية:



تم تحميل هذا الملف من

موقع المناهج القطرية

2/.....

السؤال رقم (7)

حدد الوقت بكتابة الأرقام بحيث تظهر كلتا الساعتين نفس الوقت.
ثم حوِّط "a.m" أو "p.m" لتحديد متى تقوم بالنشاط.



a.m.

p.m.

أستقل الحافلة من المدرسة إلى المنزل.

2/.....

السؤال رقم (8)

أوجد حل المسألة التالية:


لدى هيا 78 QR . بعد التسوق في المتجر ، بقي لديها 6 QR .

كم أنفقت هيا في المتجر؟

QR _____

السؤال رقم (9)

اكتب العدد بالصيغة التحليلية، ثم اكتبه بالصيغة القياسية.



تم تحميل هذا الملف من

موقع المناهج القطرية

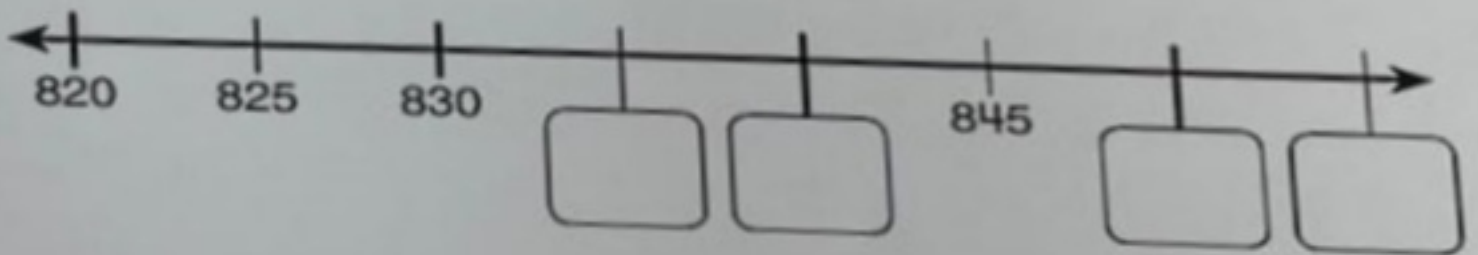
1. الصيغة التحليلية.

2. الصيغة القياسية.

alManahj.com/qa

السؤال رقم (10)

عد قفزياً على خط الأعداد. وأوجد الأعداد الناقصة.



انتهت الأسئلة