

تم تحميل هذا الملف من موقع المناهج القطرية



الاختبار النهائي منتصف الفصل

موقع المناهج ← المناهج القطرية ← المستوى الثاني ← علوم ← الفصل الأول ← اختبارات ← الملف

تاريخ إضافة الملف على موقع المناهج: 2024-10-20 14:53:06

ملفات اكتب للمعلم اكتب للطالب | اختبارات الكترونية | اختبارات | حلول | عروض بوربوينت | أوراق عمل
منهج انجليزي | ملخصات وتقارير | مذكرات وبنوك | الامتحان النهائي للمدرس

المزيد من مادة
علوم:

التواصل الاجتماعي بحسب المستوى الثاني



صفحة المناهج
القطرية على
فيسبوك

الرياضيات

اللغة الانجليزية

اللغة العربية

التربية الاسلامية

المواد على تلغرام

المزيد من الملفات بحسب المستوى الثاني والمادة علوم في الفصل الأول

أوراق عمل الأندلس الاثرائية منتصف الفصل مجابة

1

أوراق عمل الأندلس الاثرائية منتصف الفصل غير مجابة

2

جدول مواصفات اختبار منتصف الفصل

3

اوراق عمل في امكانية إعادة استخدام البطاريات

4

اوراق عمل في كيف استخدم البطارية بأمان




5

تعليمات
اختر الإجابة الصحيحة لكل من الأسئلة من 1 إلى 5 ، وذلك بوضع علامة × داخل المربع
المجاور للإجابة الصحيحة:

السؤال الأول:	
/.....	
ما الموطن الذي مناخه جاف وقليل الأمطار وحار جدًا؟	
الصحراء	A
المنطقة القطبية	B
المنطقة العشبية	C



السؤال الثاني:	
.....	
أي من النباتات التالية مهددة بالانقراض في دولة قطر؟	
التخيل	A
الصبار	B
العوسج	C

1 /.....	السؤال الثالث:	
أي مما يلي يساعد الجمل على المشي على الرمال؟		
	سنام	A
	خف عريض	B
	شفاه مشقوقة	C

1 /.....	السؤال الرابع:	
أي من الأشياء التالية تعد من الأجهزة الكهربائية؟		
		A
		B
		C

1 /.....	السؤال الخامس:	
أي من الأجهزة التالية تعمل بالبطارية؟		
		A
		B
		C

صل الموطن بالحيوان الذي يعيش فيه .

(ب)	(أ)
	الصحراء
	المنطقة العشبية
	2024 المنطقة القطبية
	الغابة المطيرة
	

السؤال السابع:

3/.....

ضع علامة (√) أمام العبارة الصحيحة ، وعلامة (×) أمام العبارة الخاطئة:

()

1- بعض البطاريات قابلة لإعادة الشحن.

()

2- تتميز أوراق النباتات في المنطقة القطبية بأنها كبيرة.

()

3- الطاقة المفيدة التي ينتجها المصباح الكهربائي هي الضوء.

4/.....

السؤال الثامن:

أكمل الفراغات التالية مستعيناً بالكلمات في الجدول التالي :

مهدورة	بارد جداً	قايض	أشواك	حارجدا
--------	-----------	------	-------	--------

1. مناخ المنطقة القطبية.....

2. أوراق نبات الصبار عبارة عن..... رقيقة.

3. يتكون الجهاز الكهربائي من سلك كهربائي و.....

4. تلتج الأجهزة الكهربائية طاقة مفيدة وأخرى.....

1/.....

السؤال التاسع:

أجب عن السؤال التالي:

ما الذي يساعد السمكة على الحركة في الماء؟

.....

انتهت الأسئلة

نتمنى لكم التوفيق

2025

2024

موقع المناهج القطرية