

تم تحميل هذا الملف من موقع المناهج القطرية



## أنشطة وتمارين لتعزيز المهارات الرقمية وإدارة الأمان الإلكتروني منتصف الفصل مع الإجابة النموذجية

موقع المناهج ← المناهج القطرية ← المستوى الثاني ← علوم الحاسب ← الفصل الثاني ← ملفات متنوعة ← الملف

تاريخ إضافة الملف على موقع المناهج: 02:25:27 2025-02-16

ملفات اكتب للمعلم اكتب للطالب | اختبارات الكترونية | اختبارات | حلول | عروض بوربوينت | أوراق عمل  
منهج انجليزي | ملخصات وتقارير | مذكرات وبنوك | الامتحان النهائي | للمدرس

المزيد من مادة  
علوم الحاسب:

إعداد: مجمع الفرقان

## التواصل الاجتماعي بحسب المستوى الثاني



صفحة المناهج  
القطرية على  
فيسبوك

الرياضيات

اللغة الانجليزية

اللغة العربية

التربية الاسلامية

المواد على تلغرام

## المزيد من الملفات بحسب المستوى الثاني والمادة علوم الحاسب في الفصل الثاني

1 أنشطة وتمارين لتعزيز المهارات الرقمية وإدارة الأمان الإلكتروني منتصف الفصل

1

2 أوراق عمل الأندلس منتصف الفصل غير مجانية

2

3 أوراق عمل الأندلس منتصف الفصل مع الإجابة النموذجية

3

4 تدريبات دعم واثراء نهاية الفصل مع الإجابة النموذجية

4



# 2

## إجابات

# الحواسبة

1446 هـ - 24-25 م

منتصف ف 2

تدريبات  
دعم  
وإثراء



يا رب انصر عبادك المؤمنين  
وجنك الموحدين في كل مكان

القدس والأقصى ▼ حتماً ستعود

ملحوظة: هذه التدريبات لا تقني عن الكتاب المدرسي

الاسم / ..... الصف / 2-

التميز






مادة الحوسبة وتكنولوجيا المعلومات

الصف الثاني

السؤال الأول : اختر الإجابة الصحيحة فيما يأتي :

1. أي من ايقونات الملفات الأتية تشير إلى ملف الفيديو :



ج.




ب.



أ.



2. أي من ايقونات الملفات الأتية تشير إلى ملف صوتي :



ج.



ب.



أ.



3. أي من ايقونات الملفات الأتية تشير إلى ملف نصي :



ج.



ب.



أ.

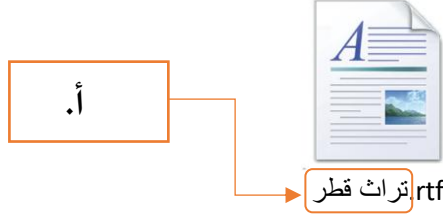




مادة الحوسبة وتكنولوجيا المعلومات

الصف الثاني

4. يشير السهم في الملف الاتي الي :

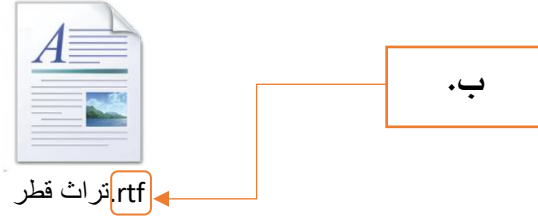


ج. ايقونة الملف

ب. امتداد الملف

أ. اسم الملف

5. يشير السهم في الملف الاتي الي :

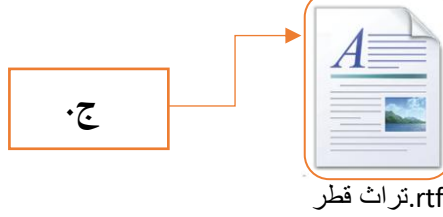


ج. ايقونة الملف

ب. امتداد الملف

أ. اسم الملف

6. يشير السهم في الملف الاتي الي :



ج. ايقونة الملف

ب. امتداد الملف

أ. اسم الملف



الصف الثاني

7. البرنامج المستخدم للتصفح عبر الأنترنت هو:



ج.



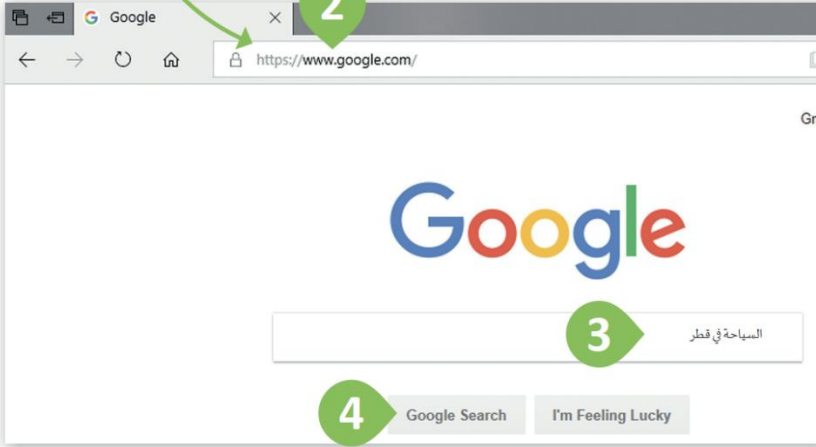
ب.



أ.



8. أي من الآتي هو شريط العنوان في صفحة الويب:



أ.

2

ب.

3

ج.

4



الصف الثاني

السؤال الثاني . اجب عن الأسئلة الآتية بشكل صحيح

1. حدد حجم المساحة التخزينية لكل مما يأتي :

حجم الملف	الامتداد	
صغير	7 كيلو بايت (KB)	.rtf الخضار المفضلة.rtf
كبير	18 كيلوبايت (KB)	.png جزر.png

2. قم بتوصيل العبارات في القائمة (أ) بما يناسبها من القائمة (ب) في قواعد التصفح الامن عبر الانترنت :






استخدام برامج مضادة  
للفيروسات

استخدام اسم مستعار

تجنب الضغط علي  
الاعلانات



السؤال الثالث : اكتب اسم الملف، ضع علامة صح علي نوع الملف في الجدول الآتي :-

نوع الملف			اسم الملف	الملف
فيديو	صورة	نصي		
		✓	كرة القدم .....	 كرة القدم.rtf
✓			الاحصنة .....	 الأحصنة.mp4
	✓		جزر .....	 جزر.png