

شكراً لتحميلك هذا الملف من موقع المناهج القطرية



كراسة التدريبات العلاجية الوحدة الثالثة الجرائم

[موقع المناهج](#) ← [المناهج القطرية](#) ← [المستوى الثالث](#) ← [علوم](#) ← [الفصل الأول](#) ← [الملف](#)

تاريخ نشر الملف على موقع المناهج: 2023-12-02 16:48:16

التواصل الاجتماعي بحسب المستوى الثالث



روابط مواد المستوى الثالث على تلغرام

[الرياضيات](#)

[اللغة الانجليزية](#)

[اللغة العربية](#)

[التربية الاسلامية](#)

المزيد من الملفات بحسب المستوى الثالث والمادة علوم في الفصل الأول

[كراسة التدريبات العلاجية في الوحدة الاولى الأسنان والاعضاء والعظام والعضلات](#)

1

[حل تدريبات وحدة الجرائم](#)

2

[أوراق عمل نهاية الفصل مدرسة الأندلس](#)

3

[تدريبات دعم وإثراء الفرقان نهاية الفصل](#)

4


[جدول مواصفات اختبار نهاية الفصل](#)

5

الوحدة الثالثة: الجرائم

مادة العلوم – الصف الثالث كراسة التدريبات العلاجية لرفع المستوى

الفصل الدراسي الأول 2023-2024م



السؤال الأول: اختر الإجابة الصحيحة بوضع علامة (X)

أي أداة تُساعدنا على رؤية الأشياء الدقيقة كالجراثيم؟

(A) الدَّورَقُ

(B) المِسْطَرَّةُ

(C) المِحْبَارُ المُدْرَجُ

(D) المِجْهَرُ الضَّوئِيُّ

كَيْفَ تَدْخُلُ الجِراثِيمُ عَادَةً أَجْسَامَنَا؟

(A) مِنْ خِلالِ الصَّدْرِ

(B) مِنْ خِلالِ الفَمِ أَوْ الأنْفِ

(C) مِنْ خِلالِ الأذْرُعِ أَوْ السِّيقَانِ

(D) مِنْ خِلالِ أَصَابِعِ اليَدِ أَوْ أَصَابِعِ القَدَمِ

الجِراثِيمُ تُسَبِّبُ الأمراضَ. لِمَاذَا يَرْتَدِي الأَطِبَّاءُ القُفَّازاتِ عِنْدَ فَحْصِ المَرَضِي؟

(A) لِمَنْعِ انْتِشارِ الجِراثِيمِ

(B) لِنَقْلِ الجِراثِيمِ إلى المَرِيضِ

(C) لِمُساعدَةِ الجِراثِيمِ على التُّكاثرِ

(D) لِعَدَمِ الإضْطِرابِ إلى غَسْلِ اليَدَيْنِ

أَيُّ طَرِيقَةٍ مِنَ الطُّرُقِ الْآتِيَةِ لَا يُمَكِّنُ أَنْ تَنْتَقِلَ مِنْ خِلَالِهَا الْجَرَائِمُ؟

(A) اللَّمَسُ

(B) التَّعْقِيمُ

(C) السُّعَالُ

(D) العَطَسُ

أَيُّ شَكْلِ يُظَهِّرُ صَوْرَةَ مُكَبَّرَةً لِجَرْتَوْمَةٍ؟




(A)



(B)



(C)

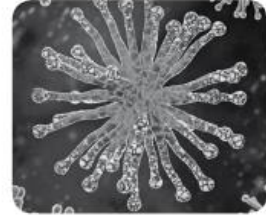


(D)

أَيُّ مِنَ الكَائِنَاتِ الآتِيَةِ هُوَ الأَصْغَرُ؟



(B)



(A)



(D)



(C)

ما هُوَ المَرَضُ المُعِدِي؟

(A) إعاقة

(B) مَرَضٌ يُمَكِّنُ أَنْ يَنْتَقِلَ مِنْ شَخْصٍ إِلَى آخَرَ

(C) مَرَضٌ لَا يُمَكِّنُ أَنْ يَنْتَقِلَ مِنْ شَخْصٍ إِلَى آخَرَ

(D) مَرَضٌ يَتَطَلَّبُ وَسِيلَةً مُسَاعِدَةً، كَالكُرْسِيِّ المُتَحَرِّكِ

لِمَاذَا نَغْسِلُ أَيْدِيَنَا بِالمَاءِ وَالمُصَابُونِ؟

(A) لِتَغْدِيَةِ الجَرَاثِيمِ

(B) لِمُشَاهَدَةِ الجَرَاثِيمِ

(C) لِلحَدِّ مِنْ عَدَدِ الجَرَاثِيمِ

(D) لِمُسَاعَدَةِ الجَرَاثِيمِ عَلَى التُّكَاثُرِ

تُستخدَم الأداة الموضَّحة في الشَّكلِ لِلنَّظَرِ إلى الجراثيمِ. ما اسمُ الأداة؟



(A) التِّلْسُكُوبُ

(B) المِخْبَارُ المُدْرَجُ

(C) العَدْسَةُ المَكْبَرَةُ

(D) المِجْهَرُ الصُّوْبِيُّ

أَيُّ عِبَارَةٍ تُصِفُ طَرِيقَةَ لِقَاتِلِ الجراثيمِ المَوْجُودَةِ عَلَى أَشْيَاءٍ نَسْتَعْدِمُهَا يَوْمِيًّا؟

(A) لَمَسُهَا بِاليَدِ

(B) مَسْحُهَا بِقُطْعَةٍ قُمَاشٍ

(C) تَغْطِيطُهَا بِقُطْعَةٍ قُمَاشٍ

(D) رَشُّهَا بِمِطْهَرَاتٍ ثُمَّ مَسْحُهَا

أَيُّ مِمَّا يَأْتِي مِثَالٌ عَلَى مَرَضٍ مُعَدِّ؟

(A) العَمَى

(B) الصَّمَمُ

(C) الحَصْبَةُ

(D) القَدَمُ المَكْسُورَةُ

انتهت الأسئلة....

أتمنى لكم التوفيق والنجاح

