

## تم تحميل هذا الملف من موقع المناهج القطرية



## أوراق عمل نهاية الفصل غير مجابة مدرسة الأندلس

[موقع المناهج](#) ⇨ [المناهج القطرية](#) ⇨ [المستوى الثالث](#) ⇨ [علوم الحاسب](#) ⇨ [الفصل الثاني](#) ⇨ [الملف](#)

تاريخ إضافة الملف على موقع المناهج: 2024-06-02 23:41:00

إعداد: مدرسة الأندلس

## التواصل الاجتماعي بحسب المستوى الثالث



اضغط هنا للحصول على جميع روابط "المستوى الثالث"

## روابط مواد المستوى الثالث على تلغرام

[الرياضيات](#)

[اللغة الانجليزية](#)

[اللغة العربية](#)

[التربية الاسلامية](#)

## المزيد من الملفات بحسب المستوى الثالث والمادة علوم الحاسب في الفصل الثاني

[تدريبات دعم واثراء نهاية الفصل مجمع الفرقان غير مجابة](#)

1

[أوراق عمل اثرائية منتصف الفصل مدرسة الأندلس مع الإجابة النموذجية](#)

2

[أوراق عمل اثرائية منتصف الفصل مدرسة الأندلس غير مجابة](#)

3

[تدريبات دعم واثراء الفرقان منتصف الفصل](#)

4



مدرسة الأندلس الخاصة للبنات  
العام الأكاديمي 2024/2023  
الفصل الدراسي الثاني



أوراق عمل إثرائية وإجاباتها

مادة الحاسب الآلي

الصف الثالث

اسم الطالبة/.....

الصف والشعبة /.....

أنت كفرد  
تقي بنفسك

السؤال الأول: الأسئلة الموضوعية:  
اختر الإجابة الصحيحة:

1.1	هي موقف معين يجب إيجاد حل له:
A	التفاحة.
B	السيارة.
C	الكتب الدراسية.
D	تعريف المشكلة.

1.2	هو دراسة المشكلة وتحديد طرائق الحل الممكنة لها:
A	الشنطة.
B	الورق.
C	تحليل المشكلة.
D	ملفات الفيديو.

1.3	هي عبارة عن مواقع إلكترونية تحتوي على معلومات تتعلق بجميع أو أحد فروع المعرفة المختلفة:
A	لوحة المفاتيح.
B	الملفات الصوتية.
C	الموسوعات الإلكترونية.
D	الطابعات.

هو برنامج يستخدم لتصفح المواقع الإلكترونية عبر شبكة الإنترنت

1.4



A



B



C



D

هي مجموعة الخطوات المتسلسلة اللازمة لحل مشكلة ما:

1.5

الكرسي.

A

الثلاجة.

B

الخوارزمية.

C

ملفات الفيديو.

D

1.6 تستخدم للتفاعل مع جهاز الحاسوب وإصدار الأوامر عن طريق لمس الشاشة باستشعار حركات اليد أو القلم



A



B



C



D

1.7 تكتب برامج الحاسوب بلغة يمكن للحاسوب أن يفهمها

1.7

الثلاجة.

A

الأوراق

B

الطابعة



C

لغة البرمجة.

D

## شكل أيقونة جوجل كروم Google chrome

1.8

	A	
	B	
التسلسل.	C	
الحاسوب.	D	

هو خطأ في صياغة الأوامر أو القواعد البرمجية يؤدي إلى عدم قدرة الحاسوب على فهمها وبالتالي لا يتم تنفيذ البرنامج

1.9

الفأرة.	A	
الثلاجة.	B	
خطأ لغوي.	C	
خطأ منطقي.	D	

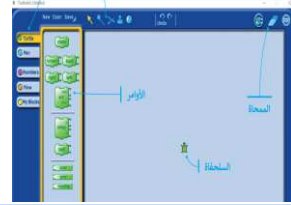
هي المعلومات التي نجدها في مواقع رسمية ومعتمدة، فالمدارس والشركات والوزارات الحكومية والمكتبات تقوم بإنشاء مواقع ويب حتى يتمكن الناس من معرفة تفاصيل أعمالهم.

1.10

الفأرة.	A	
الشاشة.	B	
خطأ لغوي.	C	
المعلومات الموثوقة.	D	

## واجهة برنامج TurtleArt

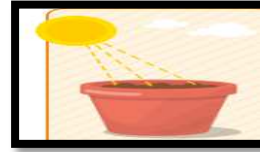
1.11



A



B



C

السماء

D

## ما نوع الخطأ البرمجي التي تمثله الصورة التالية

1.12

- 1 ضع كيس الشاي في الكوب.
- 2 قم بغلي الماء.
- 3 ضع الماء المغلي في الكوب.
- 4 أحضر كوبًا فارغًا.
- 5 اشرب الشاي.

خطأ لغوي.

A

خطأ منطقي.

B

لا يوجد خطأ.

C

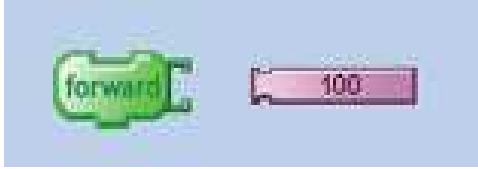
خطأ تنفيذي.

D



السؤال الثاني: ضع الإجابة الصحيحة في مكانها المناسب

(السلحفاة - خطأ برمجي - خطأ لغوي - المشكلة)



1-الصورة التالية تمثل .....

2-هذه الرسالة في برنامج turtle art تعني وجود .....



3-هي موقف معين يجب إيجاد حل له .....

4- الشخصية الرئيسية لبرنامج TurtleArt والتي تقوم بإنشاء الأشكال الهندسية

هي .....

السؤال الثالث: صل العمود الأول بما يناسبه بالعمود الثاني :

العمود الثاني	العمود الأول
TurtleArt	الصورة التث تمثل أيقونة برنامج TurtleArt
	هو بيئة عمل مستوحاه من لغة برمجة logo تعتمد على اللبئات البرمجية
خطأ لغوي	أخطاء في تركيب اللبئات TurtleArt
	أجهزة تستخدم لالتقاط البيانات مثل الصوت والصور والفيديو ثم إدخالها إلى جهاز الحاسوب.
أجهزة الإلتقاط .	تستخدم لتسجيل والتقاط المشاهد بالصوت والصورة لتكون مقطع فيديو.