

تم تحميل هذا الملف من موقع المناهج القطرية



أوراق عمل مسيعيد منتصف الفصل مع الإجابة النموذجية

موقع المناهج ← المناهج القطرية ← المستوى الرابع ← اجتماعيات ← الفصل الأول ← أوراق عمل ← الملف

تاريخ إضافة الملف على موقع المناهج: 2024-10-20 20:49:29

ملفات اكتب للمعلم اكتب للطالب | اختبارات الكترونية | اختبارات | حلول | عروض بوربوينت | أوراق عمل
منهج انجليزي | ملخصات وتقارير | مذكرات وبنوك | الامتحان النهائي للمدرس

المزيد من مادة
اجتماعيات:

التواصل الاجتماعي بحسب المستوى الرابع



صفحة المناهج
القطرية على
فيسبوك

الرياضيات

اللغة الانجليزية

اللغة العربية

التربية الاسلامية

المواد على تلغرام

المزيد من الملفات بحسب المستوى الرابع والمادة اجتماعيات في الفصل الأول

أوراق العمل الاثرية منتصف الفصل مع الإجابة النموذجية

1

أوراق عمل المنتصف الفصل غير مجابة

2

أوراق عمل الأندلس منتصف الفصل مع الإجابة النموذجية

3

أوراق عمل دعم وتثبيت لاختبار منتصف الفصل غير مجابة

4


أوراق عمل مسيعيد منتصف الفصل غير مجابة

5



العام الدراسي
2025-2024

الصف الرابع
4



مادة الدراسات
الاجتماعية

تدريبات إثرائية - واجبات

منهاج منتصف الفصل الدراسي الأول
الوحدة الأولى + الوحدة الثانية + الوحدة الثالثة

اسم الطالب:

الصف: الرابع /

ملحوظة هامة: هذه الأسئلة إثرائية ولا تغني عن الكتاب المدرسي وهو
المصدر الرئيس للتعلم



الوحدة الأولى:

جغرافيا

(الدرس الأول خطوط الطول ودوائر العرض وحركتا الارض)
(الدرس الثاني قطر طبيعيا)



التاريخ	الوحدة الاولى جغرافيا	الأسبوع
01 - 05/09/2024م	الدرس الأول خطوط الطول ودوائر العرض وحركتا الارض	1

تعليمات
اختر الإجابة الصحيحة لكل من الأسئلة من 1 إلى 2 وذلك بوضع علامة X داخل المربع المجاور للإجابة الصحيحة.

يبلغ عدد خطوط الطول:

1

360

370

380

390

خط الطول الرئيسي الذي ينصف الكرة الأرضية إلى نصفين شرقي وغربي :

2

جرينتش

الاستواء

مدار الجدي

مدار السرطان



تعليمات

عند الإجابة على الأسئلة من 3 اكتب إجابتك في الفراغ المخصص للإجابة:

3

أ- ما أهمية خطوط الطول؟

الإجابة: أ- تحديد مواقع البلدان شرق أو غرب خط جرينتش

ب- حساب فرق التوقيت بين المدن والدول

ب - عرف خطوط الطول .

الإجابة: أ- هي عبارة عن أنصاف دوائر وهمية تصل بين القطبين

ج- صل بين القائمة (أ) وما يناسبها من القائمة (ب) في الجمل الآتية :-

الرقم	(أ)	(ب)
أ-	عبارة عن أنصاف دوائر وهمية تصل بين القطبين	ب الاستواء
ب-	دائرة الخط الرئيسي ودرجتها صفر وهي أكبر الدوائر	ج الحركة اليومية
ج-	حركة الأرض حول (محورها)الشرق كل 24 ساعة	أ خطوط الطول
		جرينتش



التاريخ	الوحدة الاولى جغرافيا	الأسبوع
8 - 12 / 09 / 2024م	الدرس الأول خطوط الطول ودوائر العرض وحركتها الارض	2

تعليمات
اختر الإجابة الصحيحة لكل من الأسئلة من 1 إلى 3 وذلك بوضع علامة X داخل المربع المجاور للإجابة الصحيحة.

1 يبلغ عدد دوائر العرض :

160

170

180

190

2 الدائرة الرئيسية التي تقسم الكرة الأرضية إلى نصفين شمالي ونصف جنوبي هي:

الجدى

الاستواء

السرطان

جرينتش

3 تتصل دولة قطر باليابس من جهة الجنوب مع:

الكويت

الامارات

البحرين

السعودية



تعليمات

عند الإجابة على الأسئلة من 3 اكتب إجابتك في الفراغ المخصص للإجابة:

3

أ- عرف مفهوم دوائر العرض.

الإجابة: (عبارة عن دوائر وهمية أفقية متوازية تحيط بالكرة الأرضية) _____

ب- بم تفسر أهمية دوائر العرض؟

الإجابة: أ-تحديد الأماكن على سطح الأرض شمالا وجنوبا _____

ب_ تقسم العالم إلى مناطق حارة وباردة على سطح الأرض _____



التاريخ	الوحدة الاولى جغرافيا	الأسبوع
15 - 09/19 /2024م	(الدرس الثاني قطر طبيعيا)	3

اختر الإجابة الصحيحة لكل من الأسئلة من 1 إلى 4 وذلك بوضع علامة X داخل المربع المجاور للإجابة الصحيحة.

تعليمات

1 أي الجهات الآتية تتصل بها السعودية برا مع دولة قطر ؟

1

- الشرق
- الغرب
- الجنوب**
- الشمال

2 تُعد من أشكال سطح الأرض الداخلية في دولة قطر:

2

- الجُزر
- التلال**
- الخلجان
- السيخات



" أراض منخفضة تتجمع فيها مياه الأمطار وترتبتها طينية خصبة صالحة للزراعة "

3

يشير التعريف السابق لمفهوم:

التلال

الدحول

الخلجان

الروضات

تعد من أشكال سطح الأرض الساحلية بدولة قطر:

4

الجزر

التلال

الرمال

الروضات



تعليمات عند الإجابة على الأسئلة من 05 إلى 06، اكتب إجابتك في الفراغ المخصص للإجابة:

5

أ- بم تفسر صلاحية الروضات للزراعة؟

الإجابة: أ-تتجمع فيها مياه الأمطار

ب- تربتها خصبة

ج - عدد أشكال سطح الأرض الداخلية.

الإجابة: أ- التلال-الروضات

ب- الكثبان الرملية-الدحول

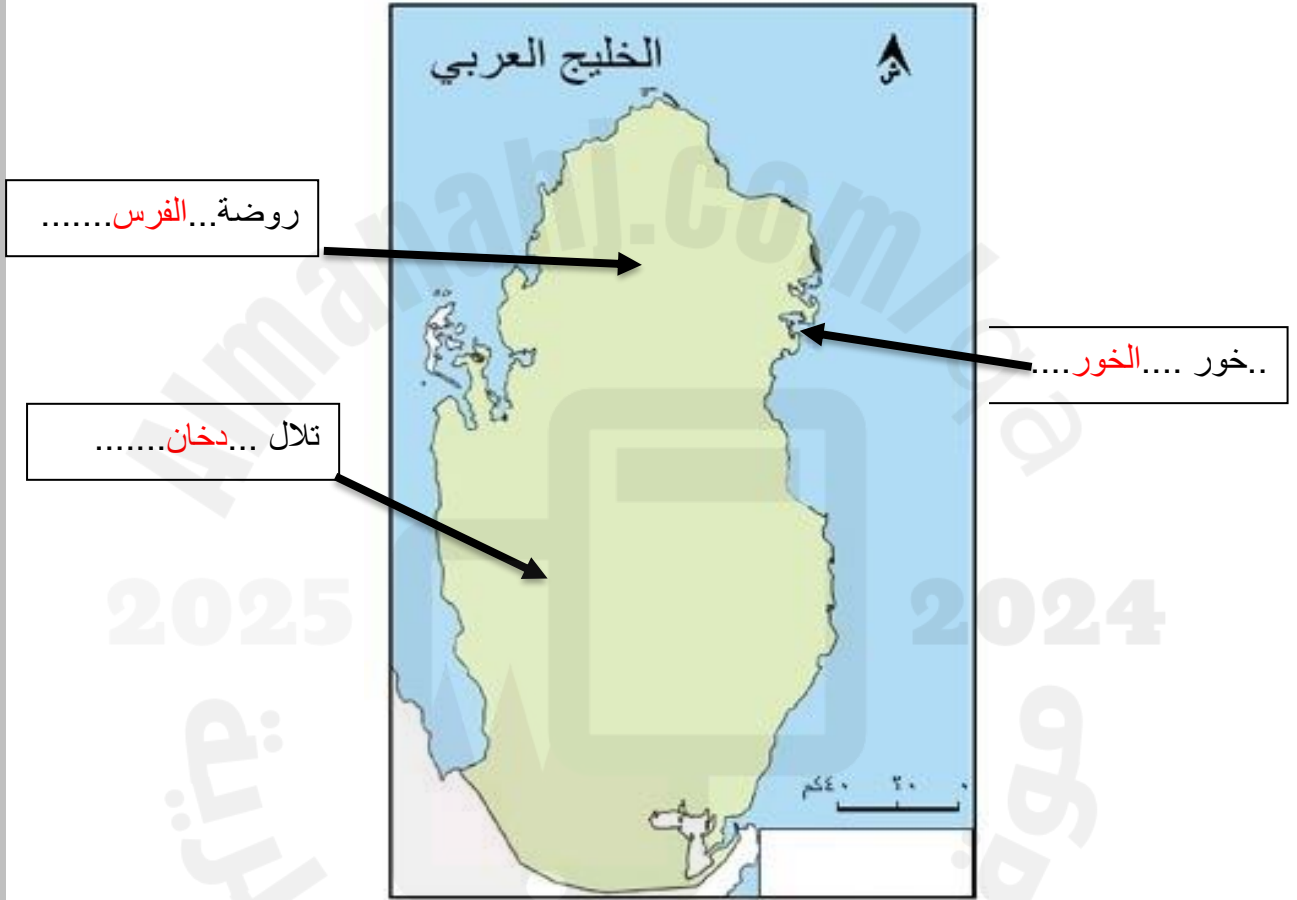


تعليمات

عند الإجابة على الأسئلة من 05 إلى 06، اكتب إجابتك في الفراغ المخصص للإجابة:

6

أ- حدد على خريطة دولة قطر أشكال السطح التالية :





ب- اذكر أشكال سطح الأرض الساحلية في دولة قطر .

الإجابة: أ- _____ الخلجان-الجزر _____

ب- _____ السبخات الساحلية-الرؤوس الأرضية _____

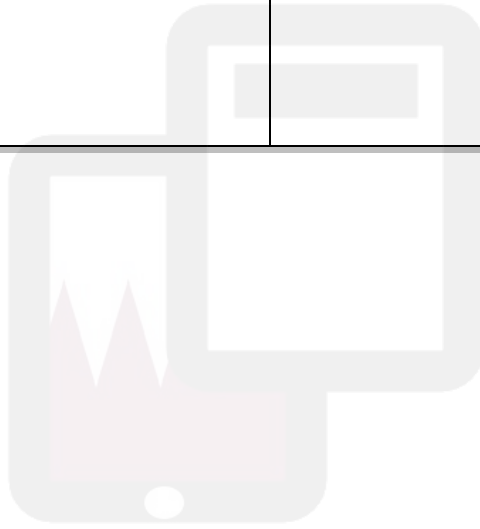
ج – صنف أشكال سطح الأرض الآتي في الجدول التالي :

(الكتبان الرملية – الخلجان – الجزر – الروضات – التلال – الرؤوس الأرضية)

الداخلية	الساحلية
التلال -الكتبان الرملية -الروضات	الخلجان الجزر الرؤوس الأرضية

2025

2024



موقع المناهج القطرية



الوحدة الثانية:

تاريخ

(الدرس الأول أسرة ال ثاني)

(الدرس الثاني نشأة امارة قطر)

2025

2024





التاريخ	الوحدة الثانية تاريخ	الأسبوع
22 - 26 / 09 / 2024م	(الدرس الأول أسرة ال ثاني)	4

تعليمات
اختر الإجابة الصحيحة لكل من الأسئلة من 1 إلى 3 وذلك بوضع علامة X داخل المربع المجاور للإجابة الصحيحة.

1 أي المناطق الآتية كان موطن أسرة (آل ثاني) قبل هجرتهم إلى قطر ؟

- الخور
 الوشم
 الحجاز
 الاحساء

2 ولد الشيخ محمد بن ثاني في مدينة:

- فويرط
 الزبارة
 الدوحة
 الرويس

3 كانت أطول مدة حكم في قطر في عهد الشيخ :

- أحمد بن علي آل ثاني
 جاسم بن محمد بن ثاني
 علي بن عبد الله آل ثاني
 عبدالله بن جاسم آل ثاني



تعليمات

عند الإجابة على الأسئلة من 4 اكتب إجابتك في الفراغ المخصص للإجابة:

4

أ-- بم تفسر هجرة (آل ثاني) من منطقة (نجد) إلي قطر؟

الإجابة: أ- سوء الأحوال الاقتصادية

ب- بحثا عن موارد المياه وأماكن الرعي

ب- بم تفسر إجماع القبائل في قطر على الشيخ (محمد بن ثاني) كشيخ لدولة قطر؟

الإجابة: أ- توحيد القبائل القطرية

ب نجاح في الحصول على اعتراف بريطانيا بقطر كإمارة مستقلة

ج- ضع علامة (✓) أو علامة (✗) أمام الجمل الآتية :-

أ- تميزت العلاقة بين الشيخ جاسم بن محمد بن ثاني وبريطانيا بالتعاون (✗)

ب- يبلغ عدد دوائر العرض 360 دائرة عرض (✗)

ج- ولد الشيخ محمد بن ثاني في فويرط (✓)

د- نشأ الشيخ جاسم بن محمد بن ثاني في مدينة الدوحة (✓)



التاريخ	الوحدة الثانية تاريخ	الأسبوع
2024 / 10 / 3 – 9 / 29 م	(الدرس الثاني نشأة امارة قطر)	5

تعليمات
اختر الإجابة الصحيحة لكل من الأسئلة من 1 إلى 4 وذلك بوضع علامة X داخل المربع المجاور للإجابة الصحيحة.

1 أي المهن التجارية الآتية عمل بها الشيخ جاسم بن محمد بن ثاني ؟

اللؤلؤ

الفراء

الجلود

الفواكه

2 مُنح الشيخ جاسم بن محمد بن ثاني لقب قائمقام من قبل:

الفرنسيون

البريطانيون

البرتغاليون

العثمانيون

3 أرسل الشيخ جاسم بن محمد بن ثاني دعوة للعثمانيين لمساعدته في مواجهة الأطماع:

الفرنسية

البرتغالية

الهولندية

البريطانية



تعليمات

عند الإجابة على الأسئلة من 5 اكتب إجابتك في الفراغ المخصص للإجابة:

5

أ- بم تفسرُ يعد الشيخ جاسم بن محمد بن ثاني المؤسس الفعلي لدولة قطر.

الإجابة: أ- صفاته مثل الشجاعة وحب العلم

ب- أعماله الدينية من بناء المساجد

ب- ما النتائج المترتبة على معركة الوجبة؟

الإجابة: أ- انتصرت القوات القطرية على العثمانيين

ب- فك أسر أخيه أحمد بن محمد

ج- ما أهمية معركة الوجبة 1893م بالنسبة للقطريين؟

الإجابة: أ- أظهرت أهمية الاتحاد بين القبائل القطرية في الازمات

ب- تقدير السلطان العثماني للشيخ جاسم بن محمد من خلال اعتذاره له

د- وضح أسباب معركة الوجبة .

الإجابة: أ- محاولة العثمانيين فرض الضرائب على تجارة اللؤلؤ

ب- اعتقال الوالي العثماني للشيخ احمد بن محمد



الوحدة الثالثة:

المواطنة

(الدرس الهوية الوطنية)



التاريخ	الوحدة الثالثة مواطنة	الأسبوع
6 - 10/10 / 2024م	(الدرس الأول الهوية الوطنية)	6

تعليمات
اختر الإجابة الصحيحة لكل من الأسئلة من 1 إلى 2 وذلك بوضع علامة X داخل المربع المجاور للإجابة الصحيحة.

أي مما يأتي يُعدُّ من آثار الاعتزاز بالهويَّة الوطنية؟

1

- الدين واللغة
- التاريخُ المشترك
- وحدة أبناء الوطن
- التشابه في العادات والتقاليد

"مجموعة الأحداث التي مرَّ بها الآباء والأجداد، جعلتهم أبناء هويَّة واحدة"
يشير التعريف السابق إلى مفهوم التاريخ:

2

- القديم
- الحديث
- المشترك
- المعاصر

"الأساليب التي تتوارثها الأجيال ويشترك فيها جميع أبناء الشعب القطري"
يشير التعريف السابق إلى مفهوم:

3

- الدين واللغة
- العادات والتقاليد
- التاريخُ المشترك
- الوحدة الجغرافية



تعليمات

عند الإجابة على الأسئلة من 3 اكتب إجابتك في الفراغ المخصص للإجابة:

3

أ- عرف مفهوم الهوية الوطنية القطرية .
الإجابة:

أ- هي الخصائص التي يتميز بها الشعب القطري عن الشعوب الأخرى

ب بين نتائج التمسك بالهوية الوطنية القطرية .
الإجابة:

أ- وحدة أبناء الوطن

ب- حب الوطن والدفاع عنه -تحقيق التقدم والتطور

ج - عدد مكونات الهوية الوطنية القطرية .
الإجابة:

أ- التاريخ المشترك -الدين واللغة

ب- العادات والتقاليد المشتركة-المستقبل المشترك

أحمد حسن
نائب المدير لشؤون الأكاديمية
22 SEP 2024