

شكراً لتحميلك هذا الملف من موقع المناهج القطرية



تدريبات علاجية وواجبات غير مجابة نهاية الفصل

[موقع المناهج](#) ⇨ [المناهج القطرية](#) ⇨ [المستوى الرابع](#) ⇨ [اجتماعيات](#) ⇨ [الفصل الأول](#) ⇨ [الملف](#)

تاريخ نشر الملف على موقع المناهج: 07:26:11 2023-12-07

التواصل الاجتماعي بحسب المستوى الرابع



روابط مواد المستوى الرابع على تلغرام

[الرياضيات](#)

[اللغة الانجليزية](#)

[اللغة العربية](#)

[التربية الاسلامية](#)

المزيد من الملفات بحسب المستوى الرابع والمادة اجتماعيات في الفصل الأول

[أوراق عمل نهاية الفصل مدرسة الأندلس](#)

1

[تدريبات دعم وإثراء الفرقان نهاية الفصل](#)

2

[جدول مواصفات اختبار نهاية الفصل](#)

3

[تدريبات مجمع الفرقان منتصف الفصل](#)

4

[تحميل كتاب الطالب](#)

5

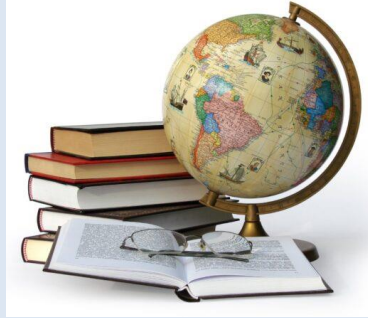


أوراق علاجية وواجبات

العام الدراسي
2024-2023

الصف الرابع

4



مادة الدراسات الاجتماعية

تدريبات علاجية - واجبات

منهاج نهاية الفصل الدراسي الأول

اسم الطالب:

الصف: الرابع

ملحوظة مهمة: هذه الأسئلة إثرائية ولا تغني عن الكتاب المدرسي وهو
المصدر الرئيس للتعلم



أوراق علاجية وواجبات

التاريخ: 27 - 31 / 8 / 2023م

الأسبوع الأول

الزمن:	مادة: الدراسات الاجتماعية
الصف / الشعبة	اسم الطالب
الرابع (.....)

- أولاً الأسئلة الموضوعية: قم بتحديد إجابتك بوضع علامة X في المربع المقابل للاختيار الصحيح:

يبلغ عدد خطوط الطول:	1
100.	A
180.	B
200.	C
360.	D

دائرة العرض الرئيسية التي تنصف الكرة الأرضية الى نصفين شمالي وجنوبي هي:	2
جرينتش.	A
الاستواء.	B
مدار الجدي.	C
مدار السرطان.	D



أوراق علاجية وواجبات

تتصل دولة قطر باليابس من جهة الجنوب مع:		3
A	الكويت.	
B	البحرين.	
C	الامارات.	
D	السعودية.	

من أشكال سطح الأرض الداخلية في دولة قطر:		4
A	الجُزر.	
B	التلال.	
C	الرؤوس الأرضية.	
D	السبخات الساحلية.	

" الكهوف الأرضية التي انهارت أجزاءها العليا؛ فكوّنت فتحات على سطح الأرض " يشير التعريف السابق لمفهوم:		5
A	الدحول.	
B	الخلجان.	
C	الكثبان الرملية	
D	. الرؤوس الأرضية.	



أوراق علاجية وواجبات

من أشكال سطح الأرض الساحلية بدولة قطر:		6
التلال.	A	
الدحول.	B	
الروضات.	C	
الرؤوس الأرضية.	D	

عمل الشيخ جاسم بن محمد بن ثاني مع والده في تجارة:		7
اللؤلؤ.	A	
الفراء.	B	
الجلود.	C	
الفواكه.	D	



أوراق علاجية وواجبات

التاريخ: 3 - 7 / 9 / 2023م

الأسبوع الثاني

مُنح الشيخ جاسم بن محمد بن ثاني لقب قائمقام من قبل:		8
فرنسا.	A	
بريطانيا.	B	
البرتغال.	C	
الدولة العثمانية.	D	

من أسباب معركة الوجة أسرُ العثمانيين للشيخ:		9
جاسم بن محمد بن ثاني.	A	
محمد بن ثاني بن محمد.	B	
أحمد بن محمد بن ثاني.	C	
عبد الله بن جاسم آل ثاني.	D	

تحتفل دولة قطر باليوم الوطني في:		10
18 سبتمبر.	A	
18 أكتوبر.	B	
18 نوفمبر.	C	
18 ديسمبر.	D	



أوراق علاجية وواجبات

- ثانياً السؤال المقالى: أجب عن الآتي:

1. بم تفسر؟

أهمية دوائر العرض؟

الإجابة: _____

صلاحية الروضات للزراعة؟

الإجابة: _____

2.

أمامك خريطة صمء لدولة قطر

حدّد عليها ما يلي:

- اكتب اسم أشكال السطح التي تدلّ

عليها الأرقام التالية:

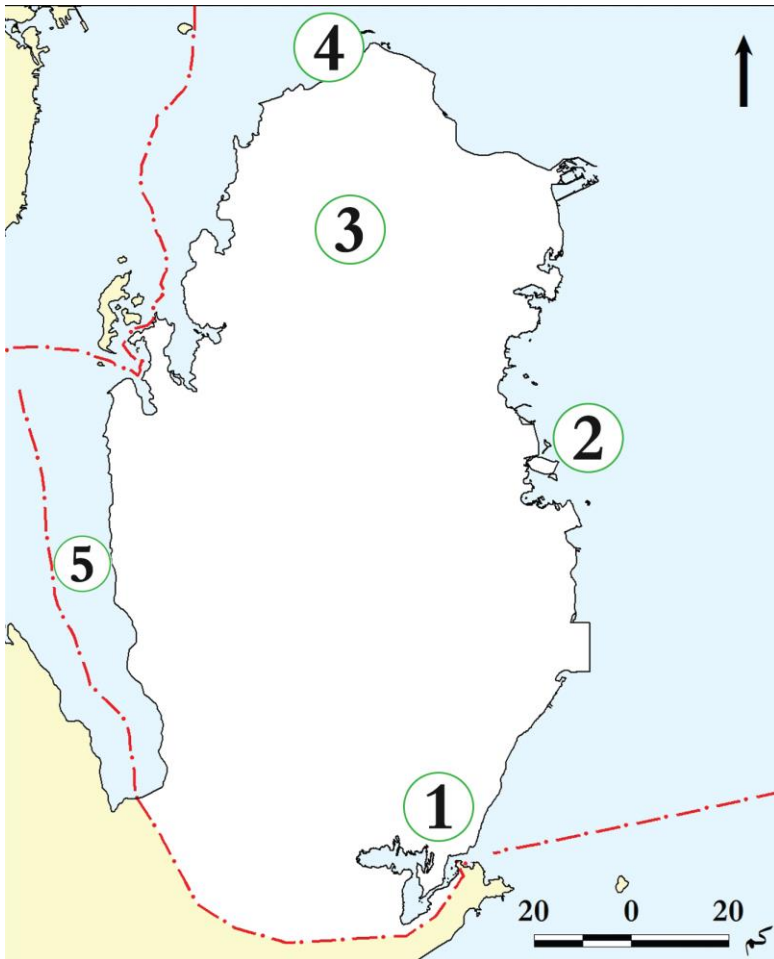
1- الكشبان

2- جزيرة

3- روضة

4- رأس

5- خليج





أوراق علاجية وواجبات

التاريخ: 10 - 14 / 9 / 2023م

الأسبوع الثالث

3- قارن بين أحوال المناخ في دولة قطر شتاءً وصيفاً. (ملاحظة غير مطلوب في الاختبار)

العنصر	أحوال المناخ شتاءً	أحوال المناخ صيفاً
درجة الحرارة
الأمطار

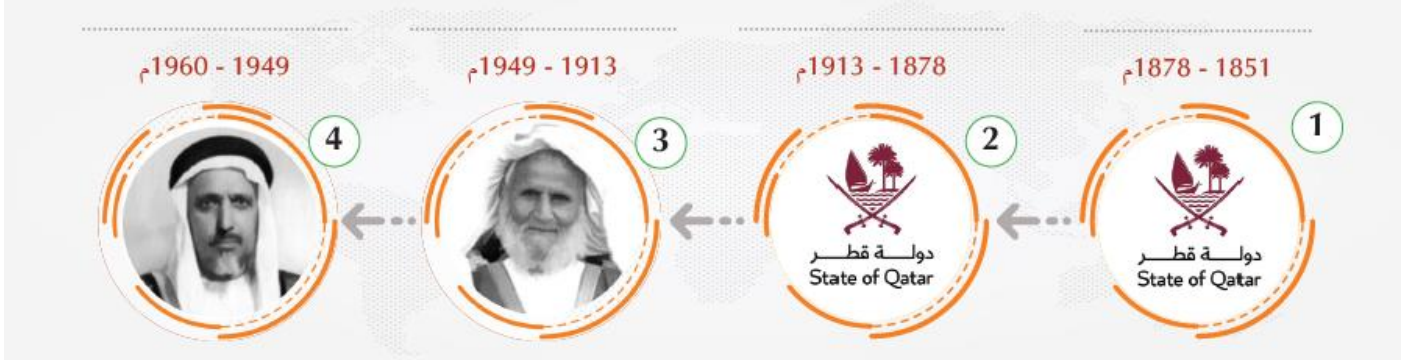
4- ضع علامة (✓) أمام العبارة الصحيحة، وعلامة (✗) أمام العبارة الخاطئة:

- 1- وُلِدَ الشَّيْخُ مُحَمَّدُ بْنُ ثَانِي فِي الدَّوْحَةِ. ()
- 2- هَاجَرَتْ أُسْرَةُ آلِ ثَانِي إِلَى قَطْرِ قَادِمَةً مِنْ إِقْلِيمِ نَجْدٍ. ()
- 3- نَجَحَ الشَّيْخُ مُحَمَّدُ بْنُ ثَانِي فِي الْحَصُولِ عَلَى اعْتِرَافٍ بَرِيطَانِيَا بِقَطْرِ كِبَارَةٍ مُسْتَقْلَةٍ. ()
- 4- تَبْدُو قَطْرٌ عَلَى شَكْلِ شِبْهِ جَزِيرَةٍ مُمْتَدَّةٍ فِي مِيَاهِ الْخَلِيجِ الْعَرَبِيِّ. ()
- 5- تَحْتَفِلُ دَوْلَةُ قَطْرِ بِالْيَوْمِ الْوَطْنِيِّ فِي 22/سَبْتَمْبَرٍ مِنْ كُلِّ عَامٍ. ()
- 6 - يَشْتَرِكُ أَبْنَاءُ الْمَجْتَمَعِ الْقَطْرِيِّ فِي الدِّينِ وَاللُّغَةِ. ()
- 7 - تَخْتَلِفُ الْعَادَاتُ وَالتَّقَالِيدُ بَيْنَ أَبْنَاءِ الْمَجْتَمَعِ الْقَطْرِيِّ. ()



أوراق علاجية وواجبات

5- أكمل الخط الزمني لحكام أسرة آل ثاني من الاقدم الى الأحدث بكتابة اسم الشيخ (الأمير) في الفراغ.



6- اذكر مكونات الهوية الوطنية القطرية.

- 1
- 2
- 3
- 4

7- وضح أهمية معركة الوجبة 1893م بالنسبة للقطريين.

الإجابة: أ _____

الإجابة: ب _____

الإجابة: ج _____

8- عرف كل من المفاهيم الآتية؟

أ- الحامية:

.....

ب- قائمقام:

.....



أوراق علاجية وواجبات

التاريخ: 17 – 21 / 9 / 2023م

الأسبوع الرابع

9- عدد أنواع الحيوانات البرية التي تعيش في دولة قطر. (ملاحظة غير مطلوب في الاختبار)

-1

-2

-3

-4

10- بم تفسر، يعد الشيخ جاسم بن محمد بن ثاني المؤسس الفعلي لقطر.

-1

-2

-3



أوراق علاجية وواجبات

- أولاً الأسئلة الموضوعية: قم بتحديد إجابتك بوضع علامة X في المربع المقابل للاختيار الصحيح:

يبلغ عدد دوائر العرض:		1
90.	A	
180.	B	
200.	C	
360.	D	

خط الطول الرئيسي الذي ينصف الكرة الأرضية الى نصفين شرقي وغربي هو:		2
جرينتش.	A	
الاستواء.	B	
مدار الجدي.	C	
مدار السرطان.	D	

يقع مدار السرطان بالنسبة لدولة قطر في جهة:		3
الشرق.	A	
الغرب.	B	
الشمال.	C	
الجنوب.	D	



أوراق علاجية وواجبات

يحلّ فصل الصيف في نصف الكرة الأرضية الشمالي عندما تتعامد الشمس على: (ملاحظة غير مطلوب في الاختبار)		4
A	مدار الجدي.	
B	مدار السرطان.	
C	دائرة الاستواء.	
D	القطب الجنوبي.	

يحلّ الشتاء في نصف الكرة الأرضية الشمالي عندما تتعامد الشمس على: (ملاحظة غير مطلوب في الاختبار)		5
A	مدار الجدي.	
B	مدار السرطان.	
C	دائرة الاستواء.	
D	القطب الجنوبي.	

يتصف مناخ دولة قطر في فصل الصيف ب:.... (ملاحظة غير مطلوب في الاختبار)		6
A	زيادة الأمطار.	
B	انعدام الأمطار.	
C	انخفاض الرطوبة.	
D	انخفاض درجة الحرارة.	



أوراق علاجية وواجبات

من أمثلة الطيور في دولة قطر: (ملاحظة غير مطلوب في الاختبار)		7
الضَّبَّ.	A	
الجراد	B	
الغزلان.	C	
الكروان.	D	

أرسل الشيخ جاسم بن محمد بن ثاني دعوة للعثمانيين لمساعدته في مواجهة الأطماع:		8
الفرنسية.	A	
البرتغالية.	B	
الهولندية.	C	
البريطانية.	D	

كان موطن أسرة آل ثاني قبل هجرتهم إلى قطر في منطقة:		9
الخور.	A	
الوشم.	B	
الحجاز.	C	
الأحساء.	D	



أوراق علاجية وواجبات

التاريخ: 24 - 28 / 9 / 2023م

الأسبوع الخامس

10	ولد الشيخ محمد بن ثاني في مدينة:
A	فويرط.
B	الزبارة.
C	الدوحة.
D	الرويس.

11	كانت أطول مدة حكم لقطر في عهد الشيخ:
A	أحمد بن علي آل ثاني.
B	جاسم بن محمد بن ثاني.
C	علي بن عبد الله آل ثاني.
D	عبد الله بن جاسم آل ثاني.

12	أي مما يأتي يُعد من آثار الاعتزاز بالهوية الوطنية:
A	الدين واللغة.
B	التاريخ المشترك.
C	تماسك أبناء الوطن.
D	التشابه في العادات والتقاليد.



أوراق علاجية وواجبات

13	"مجموعة الأحداث التي مرَّ بها الآباء والأجداد، وجعلتهم أبناء هُويَّة واحدة" التعريف السابق يشير لمفهوم:	
	A	الدين واللغة.
	B	العادات والتقاليد.
	C	التَّاريخ المشترك.
	D	الوحدة الجغرافية.

14	أيِّ ممَّا يأتي يُعدُّ من التراث المادي:	
	A	القلاع.
	B	العلوم.
	C	الفنون.
	D	الأمثال الشعبية.

15	ترميم وحماية المواقع والقلاع والحصون التاريخية من مَهَام:	
	A	هيئة متاحف قطر.
	B	الحي الثقافي (كتارا).
	C	مركز قطر للتراث والهويَّة.
	D	مؤسسة قطر للتربية والعلوم.



أوراق علاجية وواجبات

التاريخ: 1 - 5 / 10 / 2023م

الأسبوع السادس

• ثانياً السؤال المقال: أجب عن الآتي:

1- أكمل الفراغات الآتية:

- أ - استمرَّ حكم الشيخ حمد بن خليفة آل ثاني عاماً.
- ب - الحاكم الثاني الذي تولَّى حكم دولة قطر عام 1878.....
- ج - تُوفي الشيخ جاسم بن محمد بن ثاني عام.....
- د - أرسل اعتذاراً للشيخ جاسم بن محمد بن ثاني بعد معركة الوجبة السلطان العثماني.....
- هـ - أدَّى وجود الحامية العثمانية في قطر إلى.....

2- عرف كل من المفاهيم الآتية؟

التراث

.....

الأهزوجة

.....

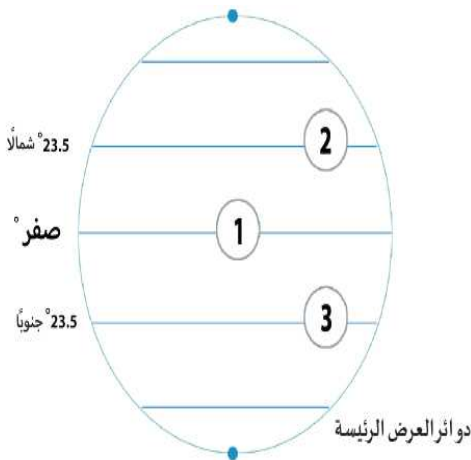
الهوية الوطنية القطرية

.....



أوراق علاجية وواجبات

3- اكتب نتائج التمسك بالهوية الوطنية في الشكل التالي:



4- انظر الشكل أدناه وأجب عن الأسئلة الآتية.

- أ - دائرة
- ب - مدار
- ج - مدار



أوراق عمل علاجية

قسم	الدراسات الاجتماعية	الصف الرابع	الأسبوع	العاشر
الوحدة	الثالثة – درس 2 (التراث)	التاريخ	10 / 2 – 11 / 2023 م	

أولاً: الاختيار من متعدد:

1- أيٌّ ممَّا يأتي يُعدُّ من التراث المادي؟

- أ – القلاع
ب – العلوم
ج – الفنون
د – الأمثال الشعبية
- 2- الجهة التي تقوم بترميم وحماية المواقع والقلاع والحصون التاريخية في دولة قطر هي:
- أ – هيئة متاحف قطر
ب – مؤسسة قطر للتربية والعلوم
ج – الحي الثقافي (كتارا)
د – مركز قطر للتراث والهويّة.

=====

ثانياً: ضع علامة (✓) أمام العبارة الصحيحة وعلامة (x) أمام العبارة الخطأ

- 1- تُعدُّ القلاع والأبراج، والحصون والبيوت من التراث المعنوي ()
- 2- التراث هو كلُّ ما تركه الأجداد من علم وفنّ، وعمارة، وعادات، وتقاليـد ()
- 3- تهدف هيئة متاحف قطر إلى تطوير ودعم المتاحف والفنون والتراث ()

=====

ثالثاً: أجب عما يلي:

1- عرف المفاهيم الآتية:

المفهوم	التعريف
التراث	
الأهزوجة	
العرضة	



أوراق علاجية وواجبات

2- وضح كيف يمكن أن نحافظ على التراث الوطني.

.....-1

.....-2

.....-3

3- عدد المؤسسات التي تعنى بالتراث القطري.

.....-1

.....-2

4- اذكر أشكال الأهازيج الشعبية في دولة قطر.

.....-1

.....-2

5- وضح الدور أو الأهداف التي تقوم بها المؤسسات التي تُعنى بالتراث القطري:

المؤسسات	الدور / الهدف
وزارة الثقافة	-1 -2
هيئة متاحف قطر	-1 -2



أوراق علاجية وواجبات

6- صل بين العمود (أ) ما يناسبه من العمود (ب):

- كل ما تركه الأجداد من علم وفن،
وعماره، وعادات، وقيم.

- نوع من الأناشيد الشعبية الغنائية
ويصاحبها أحياناً الآلات الموسيقية.

- الأناشيد التي يتغنى بها البحارة أثناء
رحلاتهم لاستخراج اللؤلؤ ولصيد
السمك.

- أهزوجة حربية أصبحت حالياً تؤدي في
أوقات الاحتفالات والأعياد الوطنية

1-الأهزوجة

2-التراث

3-العرضة

4-الأهازيج البحرية



أوراق عمل علاجية

قسم	الدراسات الاجتماعية	الصف الرابع	الأسبوع	الحادي عشر
الوحدة	الرابعة - درس 1 (نمو وتركيب السكان في دولة قطر)	التاريخ	11 / 5 - 11 / 9 / 2023 م	

أولاً: الاختيار من متعدد:

3- الفئة التي تمثل أعلى نسبة من سكان دولة قطر هي:

- أ - الأطفال
ب - الشباب
ج - كبار السن.
د - الإناث

4- "تعني الفرق بين عدد المواليد وعدد الوفيات" التعريف السابق يشير الى مفهوم:

- أ - الزيادة الطبيعية
ب - الزيادة غير الطبيعية
ج - الهجرات الوافدة
د - مركز قطر للتراث والهوية.

5- الفئة التي تمثل أقل نسبة من سكان دولة قطر هي:

- أ - الأطفال
ب - الشباب
ج - كبار السن.
د - الإناث

6- يرجع ارتفاع نسبة العمالة الوافدة بدولة قطر إلى:

- أ - حُسن المعاملة.
ب - اعتدال المناخ.
ج - كثرة الأماكن السياحية
د - ارتفاع مستوى المعيشة

7- "هي الهجرات الوافدة إلى دولة قطر" التعريف السابق يشير الى مفهوم:

- أ - الزيادة الطبيعية
ب - الزيادة غير الطبيعية
ج - التركيب النوعي
د - مركز قطر للتراث والهوية.

ثانياً: ضع علامة (✓) أمام العبارة الصحيحة وعلامة (X) أمام العبارة الخطأ

- 4- انخفض عدد سكان دولة قطر عن 2 مليون نسمة عام 2018 م ()
5- ترجع الزيادة في عدد سكان دولة قطر إلى ظهور النفط والغاز ()
6- استحوذ الذكور على النسبة الأكبر من سكان قطر لعام 2015 م ()



أوراق علاجية وواجبات

ثالثا: أجب عما يلي:

7- عرف المفاهيم الآتية:

المفهوم	التعريف
النمو السكاني.	
الزيادة الطبيعية.	
التركيب النوعي.	
التركيب العمري.	

8- بم تفسر تطور أعداد سكان قطر؟

1-

2-

9- ما أسباب زيادة العمالة الوافدة إلى قطر؟

1-

2-

10- وضح ارتفاع نسبة الذكور بدولة قطر.

1-



أوراق علاجية وواجبات

11- وضح أوجه الاختلاف في التركيب النوعي والتركيب العمري من حيث تصنيف كل منهما لسكان دولة قطر.

التركيب السكاني	أوجه الاختلاف
التركيب النوعي	-1 -2
التركيب العمري	-1 -2 -3

12- صل بين العمود (أ) ما يناسبه من العمود (ب):

1- النمو السكاني

2- الزيادة الطبيعية

3- التركيب النوعي

4- التركيب العمري

• تعني الفرق بين عدد المواليد وعدد الوفيات

• هو تصنيف السكان حسب النوع إلى (ذكور وإناث)

• هي الهجرات الوافدة إلى دولة قطر

• هو تغيّر عدد السكّان خلال فترة زمنية معينة



أوراق عمل علاجية

قسم	الدراسات الاجتماعية	الصف الرابع	الأسبوع	الثاني عشر
الوحدة	الرابعة - درس 2 (التوزيع السكاني وكثافته في قطر)	التاريخ	11 / 12 - 11 / 16 / 2023 م	

أولاً: الاختيار من متعدد:

8- أكثر بلديات دولة قطر سكاناً عام 2015 م بلدية:

- أ - الدوحة
ب - الريان
ج - الشمال
د - الطعائن

9- أقل بلديات دولة قطر سكاناً عام 2015 م بلدية:

- أ - الشمال
ب - الريان
ج - الوكرة
د - الشحانية

10- من المدن الصناعية التي تشهد تركّزاً للسكان بدولة قطر:

- أ - رأس لفان
ب - أم صلال
ج - الوكرة
د - الكعبان

11- يقلُّ تركّز سكان دولة قطر في المناطق الجنوبية الغربية والشرقية؛ بسبب وجود:

- أ - الصحاري
ب - الروضات
ج - حقول النفط
د - الجبال الوعرة

12- " يُقصد به توزيع السّكان على أرض دولة قطر " التعريف السابق يشير الى مفهوم:

- أ - الزيادة الطبيعية
ب - النمو السكاني
ج - التركيب النوعي
د - التوزيع الجغرافي للسكان

ثانياً: ضع علامة (✓) أمام العبارة الصحيحة وعلامة (X) أمام العبارة الخطأ

- 7- بلدية الوكرة هي ثاني أكثر بلديات قطر سكاناً لعام 2015 م ()
8- يتركّز غالبية سكان قطر على الساحل الغربي ()
9- يُقارب عدد سكان مدينة الدوحة حوالي 40 % من سكان دولة قطر ()
10- يوجد ببلدية الدوحة مقرُّ الحكم والوزارات والمؤسسات الحكومية. ()



أوراق علاجية وواجبات

ثالثاً: أجب عما يلي:

13- عرف المفاهيم الآتية:

المفهوم	التعريف
التوزيع الجغرافي للسكان.	
الزيادة الطبيعية.	

14- بم تفسر، تركز السكان في مدينة الدوحة؟

1-

2-

3-

15- ما أسباب قلة تركز السكان في المناطق الجنوبية الشرقية والغربية في قطر؟

1-

2-

16- عدد مناطق التركيز السكاني بدولة قطر.

1-



أوراق علاجية وواجبات

- 17- رتب البلديات التالية من حيث نسب السكان لدولة قطر في كل بلدية بوضع الأكثر كثافة سكانية أولاً و الأقل في الآخر.

الترتيب	اسم البلدية
	الشمال
	الوكرة
	الريان
	الدوحة

- 18- صل بين العمود (ا) ما يناسبه من العمود (ب):

1- التوزيع الجغرافي للسكان

2- أقل بلديات قطر سكاناً

3- بلدية الريان

4- الدوحة

• بلدية الشمال

• تعتبر عاصمة دولة قطر

• يُقصد به توزيع السكَّان على أرض دولة قطر

• تحتل المرتبة الثانية تعداداً للسكان في دولة قطر



أوراق عمل علاجية

قسم	الدراسات الاجتماعية	الصف الرابع	الأسبوع	الثالث عشر
الوحدة	الخامسة – درس 1 (الشيخ عبدالله بن جاسم آل ثاني)	التاريخ	11 / 19 – 11 / 23 / 2023 م	

أولاً: الاختيار من متعدد:

13- وُلِدَ الشَّيْخُ عبد الله بن جاسم آل ثاني في مدينة:

- أ – الوكرة
ب – فويرط
ج – الدوحة
د – الزبارة

14- الحاكم الثالث لدولة قطر الشيخ:

- أ – جاسم بن محمد آل ثاني.
ب – عبد الله بن جاسم آل ثاني.
ج – علي بن جاسم آل ثاني.
د – أحمد بن علي آل ثاني.

15- سُمِّيت أول مدرسة أُنشِئت في عهد الشيخ عبد الله بن جاسم آل ثاني بالمدرسة:

- أ – المستقلة
ب – الأثرية
ج – الفنية
د – الدينية

16- اكتُشِفَ النفط في عهد الشيخ عبد الله بن جاسم آل ثاني في منطقة:

- أ – الزبارة
ب – فويرط
ج – الدوحة
د – دخان

17- تولى الشيخ عبد الله بن جاسم آل ثاني الحكم بعد وفاة والده لدولة قطر عام:

- أ – 1911م
ب – 1912م
ج – 1913م
د – 1914م

ثانياً: ضع علامة (✓) أمام العبارة الصحيحة وعلامة (X) أمام العبارة الخطأ

- 11- تولى الشَّيْخُ عبد الله بن جاسم آل ثاني الحكم عام 1913 م. ()
12- اكتُشِفَ في عهد الشَّيْخِ عبد الله بن جاسم آل ثاني النِّفْط في منطقة مسعيد عام 1940 م. ()
13- عَقَدَ الشَّيْخُ عبد الله بن جاسم آل ثاني المعاهدات مع بريطانيا؛ لحفظ استقرار البلاد. ()
14- سميت أول مدرسة أُنشِئت في عهد الشيخ عبد الله بن جاسم آل ثاني بالمدرسة الدينية. ()



أوراق علاجية وواجبات

ثالثاً: أجب عما يلي:

19- عرف المفاهيم الآتية:

المفهوم	التعريف
المدرسة الأثرية	

20- أذكر بعض صفات الشيخ عبد الله بن جاسم آل ثاني.

- 1-
- 2-
- 3-

21- عدد أهم أعمال وإنجازات الشيخ عبد الله بن جاسم آل ثاني..

- 1-
- 2-
- 3-

22- وضح كم استمر حكم الشيخ عبد الله بن جاسم آل ثاني بالأعوام

- 1-



أوراق علاجية وواجبات

23- صل بين العمود (أ) ما يناسبه من العمود (ب):

• بلدية الشمال

• الأثرية

• دخان 1940م

• الدوحة

1- اكتشاف النفط

2- ولد الشيخ عبد الله بن
جاسم في مدينة

3- أول مدرسة أنشئت في
قطر



أوراق عمل علاجية

قسم	الدراسات الاجتماعية	الصف الرابع	الأسبوع	الرابع عشر
الوحدة	السادسة - درس 2 (الصالح العام)	التاريخ	11 / 26 - 11 / 30 / 2023 م	

أولاً: الاختيار من متعدد:

18- أي من التالية يُعدُّ من صفات المواطن الصالح في المجتمع:

- أ - مخالفة القوانين.
ب - اهدار الممتلكات العامة.
ج - الكتابة على الجدران.
د - حب الوطن والانتماء إليه.

19- يُمكن المحافظة على الصالح العام من خلال:

- أ - إلقاء المخلفات في الشوارع.
ب - الكتابة على طاولة الصف.
ج - المحافظة على وقت العمل.
د - استخدام مياه المنزل في غسيل السيارة.

20- " هو كل ما يعود بالنفع على المجتمع أو الفرد." التعريف السابق يشير الى مفهوم:

- أ - التقاليد
ب - الصالح العام.
ج - الهوية الوطنية.
د - الانتماء للوطن.

=====

ثانياً: ضع علامة (✓) أمام العبارة الصحيحة وعلامة (x) أمام العبارة الخطأ

- 15- أحد طرق المحافظة على الصالح العام المحافظة على أدوات المدرسة. ()
16- يُعدُّ من صفات المواطن الصالح احترام قوانين وعادات وتقاليد المجتمع. ()
17- الصالح العام يشمل فقط ممتلكات الأفراد دون الدولة ومواردها، ()



أوراق علاجية وواجبات

=====

ثالثاً: أجب عما يلي:

24- عرف المفاهيم الآتية:

المفهوم	التعريف
الصالح العام	

25- وضح طرق المحافظة على الصالح العام في المجتمع.

- 1-
- 2-
- 3-

26- عدد صفات المواطن الصالح في وطننا قطر.

- 1-
- 2-
- 3-
- 4-



أوراق علاجية وواجبات

-27 صل بين العمود (أ) ما يناسبه من العمود (ب):

1- من طُرُق الحفاظ على
الصالح العام

2- يجب تقديم النصيحة لمن

3- من صفات المواطن
الصالح

• احترام القوانين.

• عدم رمي القمامة في الأماكن العامة.

• يكتب على جدران المدرسة.

انتهت الأسئلة