

تم تحميل هذا الملف من موقع المناهج القطرية



تدريبات علاجية وواجبات في الوجدتين الأولى والثانية غير مجانية من مدرسة مسييد

موقع المناهج ← المناهج القطرية ← المستوى السادس ← تكنولوجيا المعلومات ← الفصل الأول ← ملفات متنوعة ← الملف

تاريخ إضافة الملف على موقع المناهج: 2024-10-20 20:47:00

ملفات اكتب للمعلم اكتب للطالب | اختبارات الكترونية | اختبارات | حلول | عروض بوربوينت | أوراق عمل | منهج انجليزي | ملخصات وتقارير | مذكرات وبنوك | الامتحان النهائي للمدرس

المزيد من مادة
تكنولوجيا
المعلومات:

إعداد: مدرسة مسييد

التواصل الاجتماعي بحسب المستوى السادس



صفحة المناهج
القطرية على
فيسبوك

الرياضيات

اللغة الانجليزية

اللغة العربية

التربية الاسلامية

المواد على تلغرام

المزيد من الملفات بحسب المستوى السادس والمادة تكنولوجيا المعلومات في الفصل الأول

نموذج إجابات أوراق عمل إثرائية منتصف الفصل

1

أوراق عمل إثرائية منتصف الفصل غير مجانية

2

نسخة مجانية

العام الأكاديمي 2025/2024

منتصف الفصل الدراسي الأول



أوراق العمل الإثرائية

مادة الدراسات الاجتماعية

الصف الرابع الابتدائي

	اسم الطالب
	الصف والشعبتي

(الوحدة الأولى)

السؤال الأول :- اختر الإجابة الصحيحة بوضع علامة [X] في المربع المقابل لها.

1- يبلغ عدد دوائر العرض:

أ- 90 دائرة

ب- 360 دائرة

ج- 180 دائرة

د- 160 دائرة

2- دائرة العرض الرئيسية التي تقسم الكرة الأرضية إلى نصفين متساويين هي:

أ- دائرة الاستواء

ب- مدار الجدي

ج- مدار السرطان

د- الدائرة القطبية الجنوبية

3- تقع دولة قطر في قارة :

أ- آسيا

ب- أفريقيا

ج- أوروبا

د- أستراليا

السؤال الثاني: ضع علامة (✓) أو علامة (x) أمام الجمل الآتية

1- تساعد دوائر العرض في تحديد الأماكن شمالاً وجنوباً (صح)

2- يبلغ عدد خطوط الطول 180 خطاً طولياً. (خطأ)

3- يمثل خط غرينيتش خط الطول الرئيس. (صح)

4- تقسم خطوط الطول الكرة الأرضية إلى نصفين متساويين نصف شمالي ونصف جنوبي (خطأ)

السؤال الثالث: أكمل الفراغات التالية

- 1- يبلغ عدد خطوط الطول360..... يتوسطها خط طولي رئيس معروف باسم ..جرينتش
- 2- يبلغ عدد دوائر العرض180..... تتوسطها دائرة.....الاستواء.....

السؤال الرابع :- اكتب المقصود بالمفاهيم الآتية:1- خطوط الطول:

...عبارة عن انصاف دوائر وهمية تصل بين القطبين

2- دوائر العرض:

....عبارة عن دوائر وهمية أفقية متوازية تحيط بالكرة الارضية....

السؤال الخامس :- بم تفسر:1- أهمية خطوط الطول:

1-..تحديد موقع البلدان . شرق وغرب خط جرينتش.....

2-..حساب فرق التوقيت بين المدن والدول.....

2- أهمية دوائر العرض:

1-..تحديد الأماكن على سطح الأرض شمالا وجنوبا.....

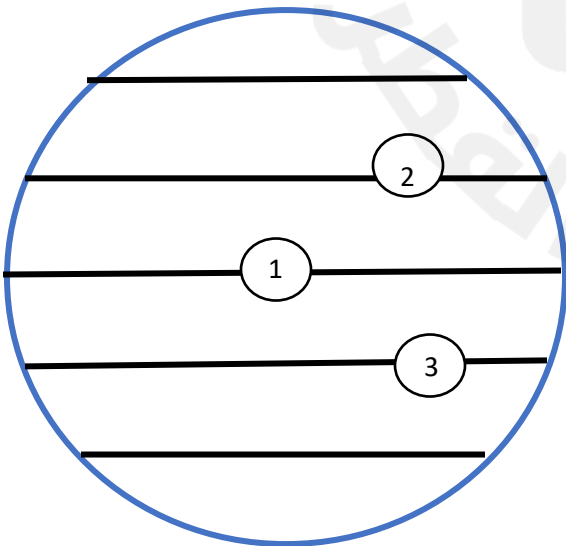
2-..تقسيم العالم الى مناطق حارة وباردة على سطح الكرة الارضية.....

السؤال السادس: انظر الشكل أدناه وأجب عن الأسئلة الآتية:-وضح ما تشير إليه الأرقام التالية:

1- دائرة...الاستواء.....

2- مدار... السرطان.....

3- مدار...الجدى.....



السؤال السابع: أكمل الفراغات في الجدول التالي:

دوائر العرض	خطوط الطول	وجه المقارنة
.....الاستواء.....جرينتش.....	الخط الرئيسي
.....180.....360.....	العدد

السؤال الثامن :- اختر الإجابة الصحيحة بوضع علامة [X] في المربع المقابل لها.

1- تتصل دولة قطر باليابس من جهة الجنوب مع:

أ- السعودية

ب- البحرين

ج- الإمارات

د- الكويت

2- من أشكال سطح الأرض الداخلية في دولة قطر:

أ- الجزر

ب- التلال

ج- الرؤوس الأرضية

د- السبخات الساحلية

3- من أشكال سطح الأرض الساحلية بدولة قطر:

أ- التلال

ب- الدحول

ج- الروضات

د- الرؤوس الأرضية

4- هي أرض تحيط بها المياه من جميع الجهات:

أ- الجزيرة

ب- شبه الجزيرة

ج- الرؤوس الأرضية

د- السبخات الداخلية

5- تبلغ مساحة دولة قطر:

أ- 10637 كم²

ب- 11637 كم²

ج- 12637 كم²

د- 13637 كم²

السؤال التاسع:- بم تفسر:

1- صلاحية الروضات للزراعة:

1-..... ووفرة المياه.....

2-..... خصوبة التربة.....

السؤال العاشر:- اكتب المقصود بالمفاهيم التالية:

1- **الجزر:-** هي أرض تحيط بها المياه من جميع الجهات.....

2- **الخلجان:-** عبارة عن توغل مياه البحر داخل اليابس.....

السؤال الحادي عشر:- أكمل الفراغات التالية:-

1- من أشكال سطح الأرض الداخلية في دولة قطر..... الدحول..... و..... التلال.....

و..... الروضات..... و..... الكثبان الرملية.....

1- من أشكال سطح الأرض الساحلية في دولة قطر..... الجزر..... و..... الخلجان.....

و..... الرؤوس الأرضية..... و..... السبخات الساحلية.....

(الوحدة الثانية)

السؤال الأول :- اختر الإجابة الصحيحة بوضع علامة [X] في المربع المقابل لها.

1- كان موطن أسرة آل ثاني قبل هجرتهم إلى قطر منطقة:

- أ- الخور
 ب- الوشم
 ج- الحجاز
 د- الأحساء

2- ثالث حكام دولة قطر الشيخ:

- أ- محمد بن ثاني
 ب- جاسم بن محمد بن ثاني
 ج- عبد الله بن جاسم آل ثاني
 د- علي بن عبد الله آل ثاني

3- أطلق لقب "شيخ الدوحة" على:

- أ- محمد بن ثاني
 ب- أحمد بن علي آل ثاني
 ج- خليفة بن حمد آل ثاني
 د- عبد الله بن جاسم آل ثاني

4- من أسباب معركة الوجبة أسر العثمانيين للشيخ:

- أ- محمد بن ثاني
 ب- أحمد بن محمد بن ثاني
 ج- جاسم بن محمد آل ثاني
 د- عبد الله بن جاسم آل ثاني

5- مَنح الشيخ جاسم بن محمد بن ثاني لقب قائم مقام من قبل:

- أ- فرنسا
 ب- بريطانيا
 ج- البرتغال
 د- الدولة العثمانية

6- أرسل الشيخ جاسم بن محمد بن ثاني دعوة للعثمانيين لمساعدته في مواجهة الأطماع:

- أ- البرتغالية
 ب- الهولندية
 ج- البريطانية
 د- الفرنسية

السؤال الثاني: ضع علامة (✓) أو علامة (✕) أمام الجمل الآتية

- 1- هاجرت أسرة آل ثاني الى قطر قادمة من منطقة نجد. (صح)
 2- وُلد الشيخ محمد بن ثاني في مدينة الدوحة (خطأ)
 3- نجح الشيخ محمد بن ثاني في الحصول على اعتراف بريطانيا بقطر كإمارة مستقلة (صح)
 4- تميزت العلاقات بين الشيخ جاسم بن محمد آل ثاني وبريطانيا بالتعاون (خطأ)

السؤال الثالث: أكمل الفراغات الآتية:

- 1- استمر حكم الشيخ حمد بن خليفة آل ثاني...18....عاما.
 2- الحاكم الثاني الذي تولى حكم دولة قطر عام 1878. الشيخ جاسم بن محمد بن ثاني...

السؤال الرابع: بم تفسر:

أ- هجرة أسرة آل ثاني من منطقة نجد إلى قطر:

- 1-.....سوء الأحوال الاقتصادية.....
 ب- اجتماع القبائل في قطر على الشيخ محمد بن ثاني كشيخ لقطر:
 1-...توحيد القبائل القطرية.....

2-..نجح في الحصول على اعتراف بريطانيا بقطر كإمارة مستقلة.....

السؤال الخامس :- صل بين القائمة (أ) وما يناسبها من القائمة (ب) في الجمل الآتية :-

(ب)	(أ)
الوجبة	ولد الشيخ محمد بن ثاني في مدينة
فويرط	عمل الشيخ جاسم بن محمد آل ثاني مع والده في تجارة
اللؤلؤ	انتصرت القوات القطرية على العثمانيين في معركة
الذهب	

السؤال السادس: بم تفسر:

أ- يُعد الشيخ جاسم بن محمد آل ثاني المؤسس الفعلي لدولة قطر:

1- صفاته التي تمتع بها مثل الشجاعة وحب العلم.

2- أعماله الدينية من بناء المساجد واستضافة العلماء.

ب- حدوث معركة الوجبة:

1- محاولة العثمانيين فرض ضرائب على تجارة اللؤلؤ....

2- اعتقال الوالي العثماني للشيخ احمد بن محمد..

السؤال السابع: اذكر نتائج معركة الوجبة:

1- انتصرت القبائل القطرية بقيادة الشيخ جاسم بن محمد بن ثاني على العثمانيين....

2- فك أسر أخيه الشيخ احمد بن محمد ومن معه...

ب- وضح أهمية معركة الوجبة 1893م بالنسبة للقطريين :

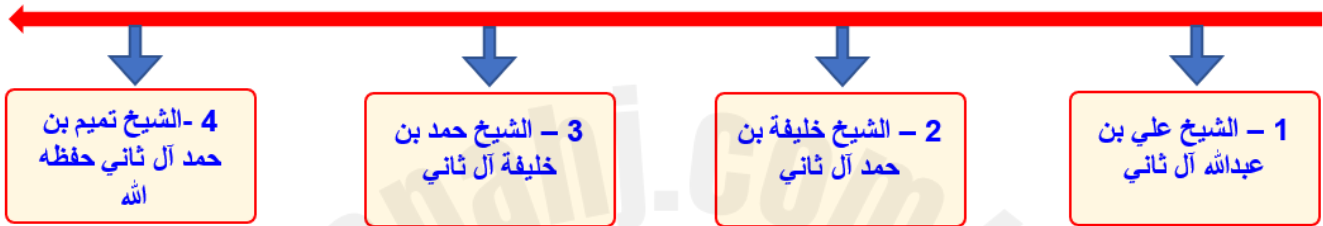
1- اظهرت أهمية الاتحاد بين القبائل القطرية في مواجهة الأزمات

2- اوضحت تقدير السلطان العثماني للشيخ جاسم بن محمد

ثانياً: - رتب على الخط الزمني حكام دولة قطر من الأقدم إلى الأحدث: -

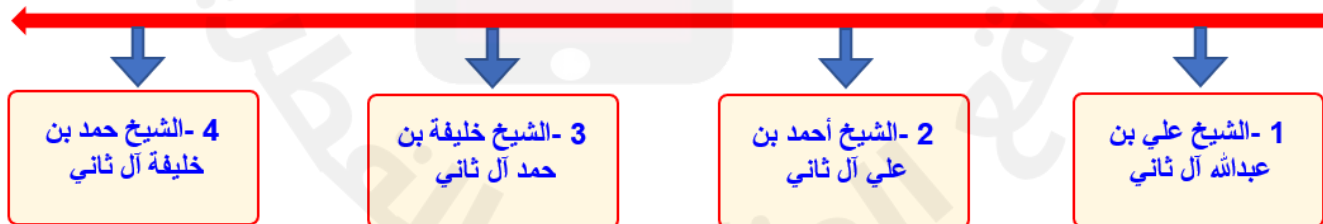
(الشيخ تميم بن حمد آل ثاني - الشيخ علي بن عبد الله آل ثاني - الشيخ خليفة بن حمد آل ثاني - الشيخ حمد بن

خليفة آل ثاني)

ثالثاً: - رتب على الخط الزمني حكام دولة قطر من الأقدم إلى الأحدث: -

(الشيخ أحمد بن علي آل ثاني - الشيخ علي بن عبد الله آل ثاني - الشيخ خليفة بن حمد آل ثاني - الشيخ حمد بن

خليفة آل ثاني)



(الوحدة الثالثة)

السؤال الأول :- اختر الإجابة الصحيحة بوضع علامة [X] في المربع المقابل لها.

1- مجموعة من الأحداث التي مر بها الآباء والأجداد وجعلتهم أبناء هوية واحدة:

أ- الدين واللغة

ب- التاريخ المشترك

ج- العادات والتقاليد

د- الوحدة الجغرافية

2- أي مما يأتي يُعد من آثار الاعتزاز بالهوية الوطنية:

أ- الدين واللغة

ب- التاريخ المشترك

ج- وحدة أبناء الوطن

د- التشابه في العادات والتقاليد

3- هي مجموعة الخصائص التي تميز الشعب القطري عن غيره وتظهر روح الانتماء لدى أبناء الوطن:

أ- الانتماء

ب- الإقليم

ج- السلطة

د- الهوية الوطنية

السؤال الثاني: ضع علامة (✓) أو علامة (x) أمام الجمل الآتية

1- يشترك أبناء المجتمع القطري في الدين واللغة (صح)

2- تختلف العادات والتقاليد بين أبناء المجتمع القطري. (خطأ)

3- تُعد معركة الوجبة من الأحداث التاريخية المهمة التي شهدتها دولة قطر. (صح)

السؤال الثالث: - أكمل الفراغات التالية: -

1- من مكونات الهوية الوطنية القطرية

.....الدين واللغة.....

.....التاريخ المشترك.....

.....المستقبل المشترك.....

.....العادات والتقاليد المشتركة.....