

تم تحميل هذا الملف من موقع المناهج القطرية



* للحصول على أوراق عمل لجميع الصفوف وجميع المواد اضغط هنا

<https://almanahj.com/qa>

* للحصول على أوراق عمل لجميع مواد المستوى الرابع اضغط هنا

<https://almanahj.com/qa/4>

* للحصول على جميع أوراق المستوى الرابع في مادة اجتماعيات ولجميع الفصول, اضغط هنا

<https://almanahj.com/qa/4social>

* للحصول على أوراق عمل لجميع مواد المستوى الرابع في مادة اجتماعيات الخاصة بـ الفصل الثاني اضغط هنا

<https://almanahj.com/qa/4social2>

* لتحميل كتب جميع المواد في جميع الفصول للمستوى الرابع اضغط هنا

<https://almanahj.com/qa/grade4>

* لتحميل جميع ملفات المدرس رمضان حسن عمار اضغط هنا

للتحدث إلى بوت المناهج القطرية على تلغرام: اضغط هنا

https://t.me/qacourse_bot



يسر
قسم الدراسات الاجتماعية
أن يُقدم لطلبة
الصف الرابع الابتدائي
أوراق العمل الإثرائية
لنهاية الفصل الدراسي الثاني
للعام الأكاديمي 2023/2022م



إعداد وتقديم

الأستاذ/ رمضان حسن عمار

معلم الدراسات الاجتماعية



ورقة عمل إثرائية رقم (1)	الصف: الرابع	الشعبة:	اسم الطالب: -
الوحدة الأولى	الدرس الأول: الموارد الطبيعية	اليوم: - الأحد	التاريخ: -

السؤال الأول: - اختر الإجابة الصحيحة من بين البدائل الآتية: -

1- هي كل الموارد التي وهبها الله في الطبيعة لخدمة الإنسان دون تدخل الإنسان.			
1- الموارد الطبيعية	2- الأيدي العاملة	3- رأس المال	4- وسائل النقل
2- تتمثل الموارد الطبيعية المتجددة في.			
1- المياه	2- الحديد	3- الذهب	4- النفط
3- هي الموارد الطبيعية القابلة للتجدد والاستمرار ذاتياً.			
1- الموارد الصناعية	2- الموارد المتجددة	3- الحديد والذهب	4- النفط والغاز الطبيعي

السؤال الثاني: - ضع علامة صح أو خطأ أمام العبارات الآتية: -

1- الموارد الطبيعية هي كل الموارد التي وهبها الله لخدمة الإنسان دون تدخل الإنسان. ()
2- من الموارد الطبيعية المتجددة النفط والغاز الطبيعي. ()

السؤال الثالث: أعطي أمثلة للموارد الطبيعية المتجددة: -

1.	2.
3.	4.

السؤال الرابع: - بم تفسر: - وضّح أهمية الموارد الطبيعية؟

1.
2.
3.



ورقة عمل إثرائية رقم (2)	الصف: الرابع	الشعبة:	اسم الطالب: -
الوحدة الأولى	الدرس الثاني: الأنشطة الاقتصادية	اليوم: - الأربعاء	التاريخ: -

السؤال الأول: - اختر الإجابة الصحيحة من بين البدائل الآتية: -			
1. تشتهر مدينة رأس لفان بصناعة.			
1- الآلات	2- الإسمنت	3- السيارات	4- إسالة الغاز الطبيعي
2- يُعد من محاصيل الزراعة المكشوفة في دولة قطر.			
1- البصل	2- الفلفل	3- الخيار	4- الطماطم

السؤال الثاني: - عدد أنواع الزراعة في دولة قطر.	
1-	2-

السؤال الثالث: - اذكر أنواع الثروة الحيوانية في دولة قطر.			
1-	2-	3-	4-

السؤال الرابع: - مَّا أنواع الثروة السمكية في دولة قطر؟			
1-	2-	3-	4-

السؤال الخامس: - مَّا أهم الصناعات في دولة قطر؟			
1-	2-	3-	4-

السؤال السادس: - عدد أهم أنواع السياحة في دولة قطر؟			
1-	2-	3-	4-

السؤال السابع: - صنف المواد الآتية إلى صادرات وواردات: - (السيارات - النفط - الغاز الطبيعي المسال - الآلات والمعدات): -			
الصادرات		الواردات	
1-	2-	1-	2-

السؤال الثامن: - وضِّح أهمية الأنشطة الاقتصادية؟	
1.	2.
3.	4.



ورقة عمل إثرائية رقم (3)	الصف: الرابع	الشعبة:	اسم الطالب:
الوحدة الثانية	الدرس الأول: الشيخ علي بن عبد الله آل ثاني	اليوم: الأحد	التاريخ: -

السؤال الأول: - اختر الإجابة الصحيحة من بين البدائل الآتية: -

1- متى ولد الشيخ علي بن عبد الله آل ثاني؟

1899 -4

1898 -3

1897 -2

1896 -1

2- من الحاكم الرابع لدولة.

4- الشيخ عبد الله بن جاسم آل ثاني

3- الشيخ خليفة بن حمد آل ثاني

2- الشيخ أحمد بن علي آل ثاني

1- الشيخ علي بن عبد الله آل ثاني

3- تولى الشيخ علي بن عبد الله آل ثاني الحكم عام.

4- 1949 م

3- 1948 م

2- 1947 م

1- 1946 م

السؤال الثاني: - ضع علامة صح أو خطأ أمام العبارات الآتية: -

1- ولد الشيخ علي بن عبد الله آل ثاني في مدينة الدوحة. ()

2- نشأ الشيخ علي بن عبد الله آل ثاني مُتدينًا ومحبًا للعلم والعلماء. ()

السؤال الثالث: - مَّا صفات الشيخ علي بن عبد الله آل ثاني؟

2.

1.

4.

3.

السؤال الرابع: - بم تفسر: - وضَّح أهم أعمال الشيخ علي بن عبد الله آل ثاني؟

1-

2-

3-



ورقة عمل إثرائية رقم (4)	الصف: الرابع	الشعبة:	اسم الطالب:
الوحدة الثانية	الدرس الأول: الشيخ أحمد بن علي آل ثاني	اليوم: الأربعاء	التاريخ: -

السؤال الأول: - اختر الإجابة الصحيحة من بين البدائل الآتية: -

1- متى ولد الشيخ أحمد بن علي آل ثاني؟

1950 -4

1940 -3

1930 -2

1920 -1

2- من الحاكم الخامس لدولة قطر.

4- الشيخ عبد الله بن جاسم آل ثاني

3- الشيخ خليفة بن حمد آل ثاني

2- الشيخ أحمد بن علي آل ثاني

1- الشيخ علي بن عبد الله آل ثاني

3- تولى الشيخ أحمد بن علي آل ثاني الحكم عام.

4- 1963 م

3- 1962 م

2- 1961 م

1- 1960 م

السؤال الثاني: - ضع علامة صح أو خطأ أمام العبارات الآتية: -

1- ولد الشيخ أحمد بن علي آل ثاني في مدينة الدوحة. ()

2- نشأ الشيخ أحمد بن علي آل ثاني مُتديناً ومحباً للعلم والعلماء. ()

السؤال الثالث: - مَّا صفات الشيخ أحمد بن علي آل ثاني؟

2.

1.

4.

3.

السؤال الرابع: - بم تفسر: - وضَّح أهم أعمال الشيخ أحمد بن علي آل ثاني؟

1.

2.



ورقة عمل إثرائية رقم (5)	الصف: الرابع	الشعبة:	اسم الطالب:
الوحدة الثالثة	الدرس الثاني: الوطن والمواطن	اليوم: - الأربعاء	التاريخ: -

السؤال الأول: - اختر الإجابة الصحيحة من بين البدائل الآتية: -

1- متى ولد الشيخ خليفة بن حمد آل ثاني؟			
1934 -4	1933 -3	1932 -2	1931 -1
2- من الحاكم السادس لدولة قطر.			
1- الشيخ علي بن عبد الله آل ثاني	2- الشيخ أحمد بن علي آل ثاني	3- الشيخ خليفة بن حمد آل ثاني	4- الشيخ عبد الله بن جاسم آل ثاني
3- تولى الشيخ خليفة بن حمد آل ثاني الحكم عام.			
1972 -1 م	1973 -2 م	1974 -3 م	1975 -4 م

السؤال الثاني: - ضع علامة صح أو خطأ أمام العبارات الآتية: -

1- ولد الشيخ خليفة بن حمد آل ثاني في مدينة الدوحة. ()
2- نشأ الشيخ خليفة بن حمد علي يدي مجموعة من المشايخ والعلماء. ()

السؤال الثالث: - مَّا صفات الشيخ خليفة بن حمد آل ثاني؟

1.	2.
3.	4.

السؤال الرابع: - بم تفسر: - وضَّح أهم أعمال الشيخ خليفة بن حمد آل ثاني؟

1.
2.
3.
4.



ورقة عمل إثرائية رقم (6)	الصف: - الرابع	الشعبة:	اسم الطالب:
الوحدة الثالثة	الدرس الثاني: الوطن والمواطن	اليوم: - الأربعاء	التاريخ: -

السؤال الأول: - اختر الإجابة الصحيحة من بين البدائل الآتية: -

1- هو المكان الذي نعيش فيه، وننتهي إليه، ونشعر فيه بالأمان، ونفتخر به.

1- الوطن	2- الحقوق	3- المواطن	4- الانتماء
----------	-----------	------------	-------------

2- ارتباط الفرد بالمكان الذي يعيش فيه، وحبه للأرض التي يعيش عليها يسمى.

1- الحقوق	2- الانتماء	3- المواطن	4- الواجبات
-----------	-------------	------------	-------------

السؤال الثاني: - ضع علامة صح أو خطأ أمام العبارات الآتية: -

1- الوطن: هو المكان الذي نعيش فيه، وننتهي إليه، ونشعر فيه بالأمان، ونفتخر به. ()

2- من واجبات المواطن الدفاع عن وطنه. ()

السؤال الثالث: - مَّا صفات المواطن الصالح؟

1.	2.
3.	4.

السؤال الرابع: - بم تفسر: - وضِّح أهم مظاهر الانتماء الوطني؟

1.
2.
3.
4.



ورقة عمل رقم (7)	الصف: - الرابع	الشعبة: -	اسم الطالب: -
الوحدة الرابعة: - نحن والبيئة.	الدرس الأول: - النظام البيئي.	اليوم: - الأحد	التاريخ: -

السؤال الأول: - اختر الإجابة الصحيحة من بين البدائل الآتية: -

1- هو تفاعل بين الكائنات الحية والعناصر غير الحية: -

- 1- النظام البيئي. 2- التوازن البيئي 3- الاختلال البيئي. 4- التلوث البيئي.

2- هو بقاء مكونات البيئة الطبيعية على حالتها كما خلقها الله بتوازنٍ دون الإخلال به: -

- 1- النظام البيئي. 2- التوازن البيئي 3- الاختلال البيئي. 4- التلوث البيئي.

3- هو كل حدثٍ يؤدي إلى تغيير في العلاقات القائمة بين مكونات النظام البيئي: -

- 1- النظام البيئي. 2- التوازن البيئي 3- الاختلال البيئي. 4- التلوث البيئي.

4- من عناصر النظام البيئي غير الحية: -

- 1- الهواء. 2- النبات. 3- الإنسان. 4- الحيوان.

5- من أمثلة الكائنات الحية في النظام البيئي: -

- 1- الماء. 2- الهواء. 3- المناخ. 4- الحيوان.

6- من أسباب اختلال التوازن البيئي: -

- 1- الصيد الجائر للطيور. 2- زيادة المساحات الخضراء. 3- معالجة مياه الصرف الصحي. 4- تنقية الغازات المتصاعدة من المصانع.

7- عندما يتعرض النظام البيئي لعوامل تؤدي إلى تغيير بعض عناصر البيئة يحدث: -

- 1- استمرار الحياة. 2- التوازن البيئي. 3- الاختلال البيئي. 4- المحافظة على البيئة.

السؤال الثاني: - ضع علامة (✓) أو علامة (x) أمام العبارات الآتية: -

1- النظام البيئي هو تفاعل الكائنات الحية وغير الحية على مساحة من الأرض. (.....)

2- أدى التطور الكبير في الأنشطة الاقتصادية إلى ظهور عدد من المشكلات البيئية. (.....)

3- من عناصر النظام البيئي غير الحية الحيوان. (.....)

4- من أمثلة الكائنات الحية في النظام البيئي النبات. (.....)

5- من أسباب اختلال التوازن البيئي الصيد الجائر للطيور. (.....)

6- عندما يتعرض النظام البيئي لعوامل تؤدي إلى تغيير بعض عناصر البيئة يحدث الاختلال البيئي. (.....)

السؤال الثالث: - عدد مكونات النظام البيئي.

1-

2-



ورقة عمل رقم (8)	الصف: - الرابع	الشعبة: -	اسم الطالب:
الوحدة الرابعة: - نحن والبيئة.	الدرس الأول: - النظام البيئي.	اليوم: - الأحد	التاريخ: -

السؤال الأول: - اكتب المقصود بالمفاهيم الآتية: -

1- النظام البيئي: -

.....

2- التوازن البيئي: -

.....

3- الاختلال البيئي: -

.....

السؤال الثاني: - أجب عن الأسئلة الآتية: -

1- ما أهمية التوازن البيئي؟

1-

2-

3-

2- وضح أسباب حدوث الاختلال البيئي؟

1-

2-

3-

3- وضح طرق المحافظة على التوازن البيئي؟

1-

2-

3-

السؤال الثالث: - ما النتائج المترتبة على الاستخدام الأمثل للموارد الطبيعية في البيئة؟

1-

2-

السؤال الرابع: - أعط أمثلة لمكونات النظام البيئي الحية.

1-

2-

3-

4-



ورقة عمل رقم (9)	الصف:- الرابع	الشعبة:-	اسم الطالب:
الوحدة الرابعة:- نحن والبيئة.	الدرس الأول:- النظام البيئي.	اليوم:- الأحد	التاريخ:-

السؤال الأول:- أكمل الفراغات الآتية مما بين القوسين:-

(الزراعة – الإنسان – الماء – النظام البيئي)

1- من أمثلة مكونات النظام البيئي الحية

2- من أمثلة مكونات النظام البيئي غير الحية

3- هو تفاعل بين الكائنات الحية وغير الحية على مساحة من الأرض

السؤال الثاني:- أعط أمثلة لمكونات النظام البيئي من العناصر غير الحية.

1-

2-

3-

السؤال الثالث:- اذكر مكونات النظام البيئي من الكائنات الحية.

1-

2-

3-

السؤال الرابع:- رتب العناصر الآتية في الجمل التالية:-

(الهواء – النبات – التربة – الحيوان – الماء – الإنسان)

العناصر غير الحية	الكائنات الحية

السؤال الرابع:- صل العبارات من القائمة (أ) مع ما يناسبها من القائمة (ب) في الجمل الآتية:-

القائمة (أ)	القائمة (ب)
1- أهم مكونات النظام البيئي.	حرائق الغابات
2- أحد أسباب تلوث الهواء.	الكائنات الحية
3- يُعد أحد العناصر غير الحية في النظام البيئي.	نشر الوعي بأهمية سلامة البيئة
	الهواء



ورقة عمل رقم (10)	الصف: - الرابع	الشعبة: -	اسم الطالب: -
الوحدة الرابعة: - نحن والبيئة.	الدرس الثاني: - التلوث.	اليوم: - الأربعاء	التاريخ: -

السؤال الأول: - اختر الإجابة الصحيحة من بين البدائل الآتية: -

1- هو انتشار الملوثات في البيئة، وإلحاق الضرر بها: -			
1- التلوث.	2- تلوث الهواء.	3- التوازن البيئي.	4- الاختلال البيئي.
2- هو انبعاث مواد ملوثة إلى الجو؛ مما يؤدي إلى إلحاق الضرر بالكائنات الحية والممتلكات: -			
1- التلوث.	2- تلوث الهواء.	3- التوازن البيئي.	4- الاختلال البيئي.
3- من الأسباب التي تؤدي إلى تلوث الهواء: -			
1- عوادم السيارات.	2- إلقاء المخلفات في المياه.	3- تسرب النفط.	4- دفن المخلفات.
4- يُعد التلوث البيئي من المشكلات البيئية التي تنتج عن زيادة: -			
1- كمية النباتات.	2- كمية الأمطار.	3- عدد السكان.	4- عدد الحيوانات.
5- من طُرُق التغلُّب على مُشكلة تلوث الهواء: -			
1- حرائق الغابات.	2- زراعة الحدائق.	3- زيادة أدخنة المصانع.	4- رشُّ المبيدات الحشرية.
6- من جهود دولة قطر للحد من تلوث الهواء: -			
1- زيادة الحرائق.	2- زيادة أدخنة المصانع.	3- زيادة عوادم السيارات.	4- نشر الوعي بأهمية سلامة البيئة.

السؤال الثاني: - ضع علامة (✓) أو علامة (x) أمام العبارات الآتية: -

1- يُعد التلوث البيئي من المشكلات البيئية التي تنتج عن زيادة عدد السكان.	(.....)
2- يُعد من أسباب تلوث الهواء رشُّ المبيدات الحشرية.	(.....)
3- تُعد زيادة أدخنة المصانع سبب رئيس في مشكلة تلوث الهواء.	(.....)
4- يجب سن القوانين لمكافحة مشكلة تلوث الهواء.	(.....)
5- من جهود دولة قطر للحد من تلوث الهواء، تضمن الدستور القطري مواد لحماية البيئة.	(.....)

السؤال الثالث: - صل العبارات من القائمة (أ) مع ما يناسبها من القائمة (ب) في الجمل الآتية: -

القائمة (أ)	القائمة (ب)
1- أهم مكونات النظام البيئي.	حرائق الغابات
2- أحد أسباب تلوث الهواء.	الكائنات الحية
3- يُعد أحد العناصر غير الحية في النظام البيئي.	نشر الوعي بأهمية سلامة البيئة
	الهواء



ورقة عمل رقم (11)	الصف:- الرابع	الشعبة:-	اسم الطالب:-
الوحدة الرابعة:- نحن والبيئة.	الدرس الثاني:- التلوث.	اليوم:- الأحد	التاريخ:-

السؤال الأول:- رتب العناصر الآتية في الجمل التالية:-

(زيادة أدخنة المصانع – سن القوانين لمكافحة تلوث الهواء – زيادة عوادم السيارات – الاهتمام بزراعة الحدائق العامة)

أسباب التلوث	طرق مكافحة التلوث
.....
.....
.....

السؤال الثاني:- أكمل الفراغات الآتية بوضع الكلمة المناسبة:-

1- تُعد عوادم السيارات من أسباب تلوث

2- تركيب فلتر للحد من عوادم السيارات و.....

3- تضمن الدستور القطري مواد تنص على حماية

السؤال الثالث:- ما المقصود بالمفاهيم الآتية:-

1- التلوث:-

2- تلوث الهواء:-

السؤال الرابع:- عدد أنواع التلوث البيئي.

1-

2-

3-

السؤال الخامس:- أجب عن الأسئلة الآتية:-

1- وضّح أسباب تلوث الهواء؟

1-

2-

3-

2- اذكر طرق التغلب على مشكلة تلوث الهواء.

1-

2-

3-



ورقة عمل رقم (12)	الصف: - الرابع	الشعبة: -	اسم الطالب: -
الوحدة الخامسة: - تاريخ قطر	الدرس الأول: - الشيخ حمد.	اليوم: - الأربعاء	التاريخ: -

السؤال الأول: - اخترا الإجابة الصحيحة من بين البدائل الآتية: -

1- من الحاكم السابع لدولة قطر: -

1- علي بن عبد الله آل ثاني.	2- أحمد بن علي آل ثاني.	3- حمد بن خليفة آل ثاني.	4- تميم بن حمد آل ثاني.
2- تولى الشيخ حمد بن خليفة آل ثاني الحكم عام: -			
1- 1992م.	2- 1993م.	3- 1994م.	4- 1995م.

3- ولد الشيخ حمد بن خليفة آل ثاني عام: -

1- 1949م.	2- 1950م.	3- 1951م.	4- 1952م.
-----------	-----------	-----------	-----------

4- ولد الشيخ حمد بن خليفة آل ثاني في يناير عام 1952 في مدينة: -

1- فويرط.	2- الزبارة.	3- الدوحة.	4- الوكرة.
-----------	-------------	------------	------------

5- تلقى الشيخ حمد بن خليفة آل ثاني تعليمه الأساسي في: -

1- قطر.	2- عمان.	3- الكويت.	4- العراق.
---------	----------	------------	------------

6- تلقى الشيخ حمد بن خليفة آل ثاني تعليمه العسكري في كلية سانت هيرست في: -

1- فرنسا.	2- ألمانيا.	3- إيطاليا.	4- بريطانيا.
-----------	-------------	-------------	--------------

7- صدر أول دستور دائم في قطر في فترة حكم الشيخ: -

1- أحمد بن علي آل ثاني.	2- خليفة بن جماد آل ثاني.	3- حمد بن خليفة آل ثاني.	4- تميم بن حمد آل ثاني.
-------------------------	---------------------------	--------------------------	-------------------------

8- تم اختيار دولة قطر لاستضافة كأس العالم 2022م في عهد الشيخ: -

1- أحمد بن علي آل ثاني.	2- خليفة بن جماد آل ثاني.	3- حمد بن خليفة آل ثاني.	4- تميم بن حمد آل ثاني.
-------------------------	---------------------------	--------------------------	-------------------------

9- تنازل الشيخ حمد بن خليفة آل ثاني عن الحكم لولى عهده سمو الشيخ تميم بن حمد آل ثاني عام: -

1- 2010م.	2- 2011م.	3- 2012م.	4- 2013م.
-----------	-----------	-----------	-----------

السؤال الثاني: - ضع علامة (✓) أو علامة (x) أمام العبارات الآتية: -

1- تُعدُّ قطر أكبر دولة مصدرة للغاز الطبيعي المسال في العالم.	(.....)
2- تُعدُّ قطر أول دولة عربية تفوز باستضافة كأس العالم لعام 2022م.	(.....)
3- وضع الشيخ حمد بن خليفة آل ثاني خطة شاملة لتطوير البلاد في جميع المجالات.	(.....)
4- تنازل الشيخ حمد بن خليفة آل ثاني عن الحكم لولى عهده سمو الشيخ تميم بن حمد آل ثاني عام 2011م.	(.....)



ورقة عمل رقم (13)	الصف: - الرابع	الشعبة: -	اسم الطالب: -
الوحدة الخامسة: - تاريخ قطر	الدرس الأول: - الشيخ حمد.	اليوم: - الأربعاء	التاريخ: -

السؤال الأول: - أكمل الفراغات التالية بما يُناسبها: -

1- صدر أول دستور دائم لدولة قطر عام

2- أصبحت دولة قطر أكبر مصدر

3- لضمان حقوق وحرية أبناء قطر تم إصدار

السؤال الثاني: - صل العبارات من القائمة (أ) مع ما يناسبها من القائمة (ب) في الجمل الآتية: -

القائمة (أ)	القائمة (ب)
1- ولد الشيخ حمد بن خليفة آل ثاني عام.	مدارس قطر
2- تلقى الشيخ تعليمه الأساسي في.	1952م
3- أكمل الشيخ حمد بن خليفة آل ثاني تعليمه الجامعي في.	الدستور الدائم
4- تم إنشاء مؤسسة قطر للعلوم والتربية في عهد الشيخ.	بريطانيا
5- من إنجازات الشيخ حمد بن خليفة آل ثاني صدور.	حمد بن خليفة آل ثاني
	تميم بن حمد آل ثاني

السؤال الثالث: - أنسب الأعمال الآتية في الجدول التالي لصاحبها: -

(افتتاح أول مجلس شورى بقطر - أصبحت قطر أكبر مصدر للغاز الطبيعي المسال في العالم - إنشاء جامعة قطر عام 1973م - إنشاء مؤسسة قطر للعلوم والتربية - تأسيس مستشفى حمد العام - أول دستور دائم لدولة قطر عام 2004م)

الشيخ خليفة بن حمد آل ثاني	الشيخ حمد بن خليفة آل ثاني
1.	1.
2.	2.
3.	3.

السؤال الرابع: - وضِّح أهم إنجازات الشيخ حمد بن خليفة آل ثاني؟

- 1-
- 2-
- 3-
- 4-



ورقة عمل رقم (14)	الصف:- الرابع	الشعبة:-	اسم الطالب:-
الوحدة الخامسة:- تاريخ قطر	الدرس الثاني:- الشيخ تميم بن حمد	اليوم:- الأربعاء	التاريخ:-

السؤال الأول:- اختر الإجابة الصحيحة من بين البدائل الآتية:-

1- من الحاكم الثامن لدولة قطر:-

1- علي بن عبد الله آل ثاني.	2- أحمد بن علي آل ثاني.	3- حمد بن خليفة آل ثاني.	4- تميم بن حمد آل ثاني.
1- 2010م.	2- 2011م.	3- 2012م.	4- 2013م.

3- ولد الشيخ تميم بن حمد آل ثاني عام:-

1- 1980م.	2- 1981م.	3- 1982م.	4- 1983م.
-----------	-----------	-----------	-----------

4- ولد الشيخ تميم بن حمد آل ثاني في 3 يونيو عام 1980 في مدينة:-

1- فويرط.	2- الزيارة.	3- الدوحة.	4- الوكرة.
-----------	-------------	------------	------------

5- تلقى الشيخ حمد بن خليفة آل ثاني تعليمه الثانوي:-

1- قطر.	2- فرنسا.	3- بريطانيا.	4- الولايات المتحدة.
---------	-----------	--------------	----------------------

6- تخرج الشيخ تميم بن حمد آل ثاني من أكاديمية ساند هيرست العسكرية الملكية عام:-

1- 1997م.	2- 1998م.	3- 1999م.	4- 2000م.
-----------	-----------	-----------	-----------

7- تم إنجاز مشروع ميناء حمد البحري في عهد الشيخ:-

1- علي بن عبد الله آل ثاني.	2- خليفة بن حمد آل ثاني.	3- حمد بن خليفة آل ثاني.	4- تميم بن حمد آل ثاني.
-----------------------------	--------------------------	--------------------------	-------------------------

8- تم افتتاح أول خط مترو الدوحة (الريل) الخط الأحمر عام 2019م في عهد الشيخ:-

1- أحمد بن علي آل ثاني.	2- خليفة بن حمد آل ثاني.	3- حمد بن خليفة آل ثاني.	4- تميم بن حمد آل ثاني.
-------------------------	--------------------------	--------------------------	-------------------------

9- افتتح مطار حمد الدولي في عهد الشيخ تميم بن حمد آل ثاني عام:-

1- 2011م.	2- 2012م.	3- 2013م.	4- 2013م.
-----------	-----------	-----------	-----------

السؤال الثاني:- ضع علامة (✓) أو علامة (×) أمام العبارات الآتية:-

1- تُعدُّ كلية الشرطة أول مشروع تم افتتاحه في عهد الشيخ تميم بن حمد آل ثاني.	(.....)
2- تم افتتاح مطار حمد الدولي عام 2012م.	(.....)
3- قبل تولي تميم بن حمد آل ثاني الحكم كان رئيسًا للمجلس الأعلى للتعليم.	(.....)
4- أصبح الشيخ تميم بن حمد آل ثاني وليًا للعهد عام 2003م.	(.....)



ورقة عمل رقم (15)	الصف: - الرابع	الشعبة: -.....	اسم الطالب: -.....
الوحدة الخامسة: - تاريخ قطر	الدرس الثاني: - الشيخ تميم بن حمد	اليوم: - الأربعاء	التاريخ: -

السؤال الأول: - أكمل الفراغات التالية بما يُناسبها: -

1- تم إنشاء أول كلية للشرطة عام

2- افتتاح مطار حمد الدولي في عهد الشيخ عام 2014م.

3- افتتاح أول خط مترو الدوحة (الريل) عام 2019م.

السؤال الثاني: - صل العبارات من القائمة (أ) مع ما يناسبها من القائمة (ب) في الجمل الآتية: -

القائمة (أ)	القائمة (ب)
1- ولد الشيخ تميم بن حمد آل ثاني عام.	مدارس قطر
2- تلقى الشيخ تعليمه الابتدائي والإعدادي في.	1980م
3- أكمل الشيخ تميم بن حمد آل ثاني تعليمه الثانوي في.	تميم بن حمد آل ثاني
4- تم إنجاز مشروع ميناء حمد البحري في عهد الشيخ.	بريطانيا
5- من إنجازات الشيخ تميم بن حمد آل ثاني إنشاء أول.	حمد بن خليفة آل ثاني
	كلية شرطة عام 2013م.

السؤال الثالث: - أنسب الأعمال الآتية في الجدول التالي لصاحبها: -

(إنشاء أول كلية شرطة عام 2013م - أصبحت قطر أكبر مصدر للغاز الطبيعي المسال في العالم - افتتاح مطار حمد الدولي عام 2014م - إنشاء مؤسسة قطر للعلوم والتربية - إنجاز مشروع ميناء حمد البحري عام 2017م - أول دستور دائم لدولة قطر عام 2004م)

الشيخ حمد بن خليفة آل ثاني	الشيخ تميم بن حمد آل ثاني
1.	1.
2.	2.
3.	3.

السؤال الرابع: - وضِّح أهم إنجازات الشيخ تميم بن حمد آل ثاني؟

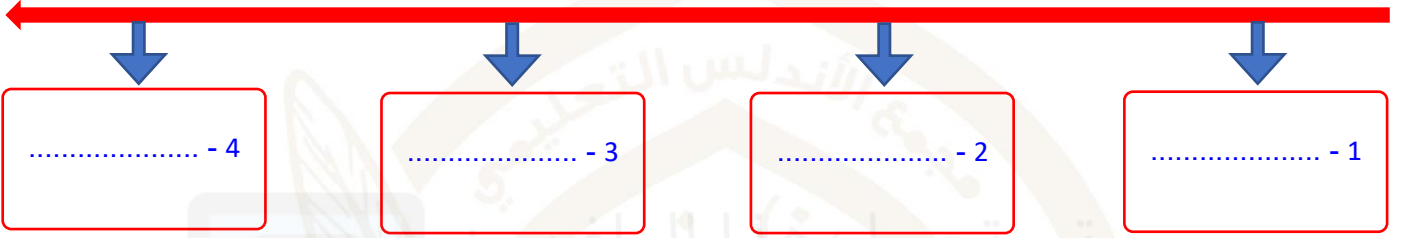
1-
2-
3-
4-



ورقة عمل رقم (16)	الصف:- الرابع	الشعبة:-.....	اسم الطالب:-.....
الوحدة الخامسة:- تاريخ قطر	الدرس الثاني:- الشيخ تميم بن حمد	اليوم:- الأحد	التاريخ:-

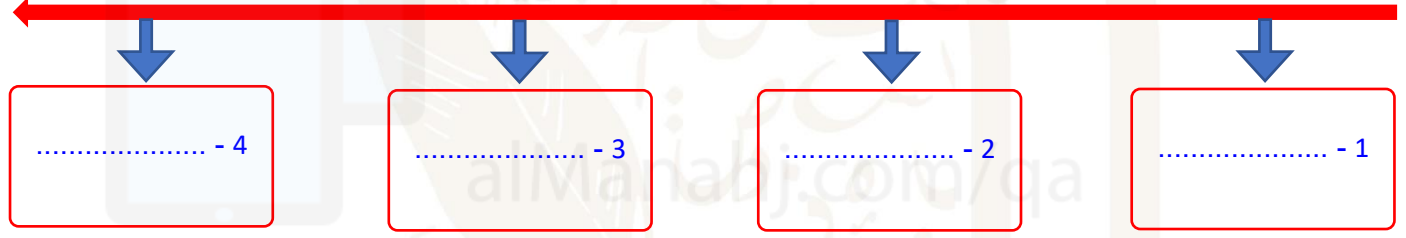
السؤال الأول:- رتب على الخط الزمني حكام دولة قطر من الأقدم إلى الأحدث:-

(الشيخ تميم بن حمد آل ثاني - الشيخ علي بن عبد الله آل ثاني - الشيخ خليفة بن حمد آل ثاني - الشيخ حمد بن خليفة آل ثاني)



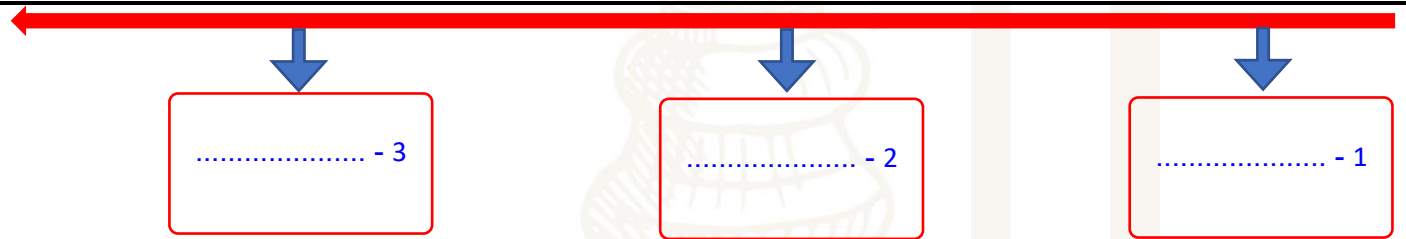
السؤال الثاني:- رتب على الخط الزمني حكام دولة قطر من الأحدث إلى الأقدم:-

(الشيخ علي بن عبد الله آل ثاني - الشيخ تميم بن حمد آل ثاني - الشيخ خليفة بن حمد آل ثاني - الشيخ حمد بن خليفة آل ثاني)



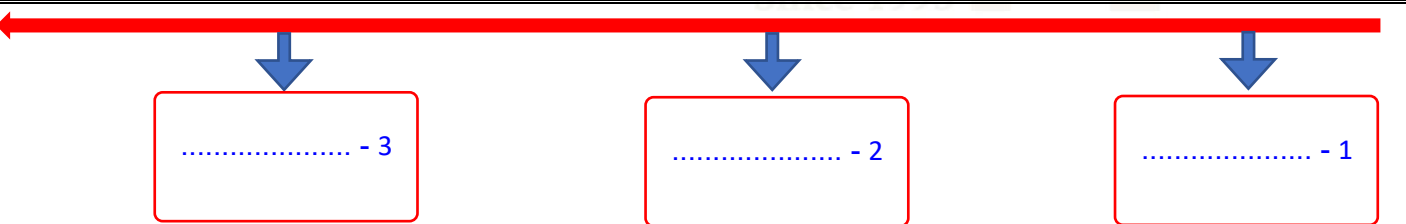
السؤال الثالث:- رتب على الخط الزمني أهم إنجازات الشيخ حمد بن خليفة آل ثاني من الأقدم إلى الأحدث:-

(استضافة قطر لكأس العالم 2022م - تأسيس مؤسسة قطر للعلوم والتربية - إصدار أول دستور دائم لدولة قطر)



السؤال الرابع:- رتب على الخط الزمني أهم إنجازات الشيخ تميم بن حمد آل ثاني من الأقدم إلى الأحدث:-

(افتتاح خط مترو الدوحة عام 2019م - إنشاء أول كلية للشرطة عام 2013م - إنجاز مشروع ميناء حمد البحري عام 2017م)





ورقة عمل رقم (18)	الصف: - الرابع	الشعبة: -.....	اسم الطالب: -.....
الوحدة السادسة: - حقوقي وواجباتي	الدرس الأول: - حقوقي	اليوم: - الثلاثاء	التاريخ: -
السؤال الأول: - اختر الإجابة الصحيحة من بين البدائل الآتية: -			
1- مجموعة من الامتيازات التي يتمتع بها الفرد تضمن له العيش الكريم: -			
1- الوطن.	2- المواطنة.	3- الحقوق.	4- الواجبات.
2- تعتبر دولة من الدول المتقدمة في المجال التعليمي حيث تأتي في المرتبة: -			
1- الأولى عالميًا.	2- الثالثة عالميًا.	3- الخامسة عالميًا.	4- الرابعة عالميًا.
3- تحتل دولة قطر عربيًا في التعليم المرتبة: -			
1- الأولى.	2- الثالثة.	3- الرابعة.	4- الخامسة.
السؤال الثاني: - ضع علامة (✓) أو علامة (×) أمام العبارات الآتية: -			
1- تُعدُّ المساواة أحد الحقوق المحددة بالقوانين.			
(.....)			
2- مجموعة من الامتيازات التي يتمتع بها الفرد تضمن له العيش الكريم.			
(.....)			
السؤال الثالث: - اذكر حقوق الفرد التعليمية.			
1-	2-		
3-	4-		
السؤال الرابع: - وضِّح أهم حقوق الفرد الصحية؟			
1-	2-		
3-	4-		
السؤال الخامس: - تنص المادة 18 في الدستور أن المجتمع القطري يقوم على دعائم.			
1-	2-		
3-	4-		
السؤال السادس: - ماذا تنص المادة 25 في الدستور القطري؟			
1-	2-		
3-	4-		
السؤال السابع: - تنص المادة 34 من الدستور القطري أن.			
1-			



ورقة عمل رقم (18)	الصف: - الرابع	الشعبة: -.....	اسم الطالب: -.....
الوحدة السادسة: - حقوقي وواجباتي	الدرس الأول: - واجباتي	اليوم: - الثلاثاء	التاريخ: -
السؤال الأول: - اختر الإجابة الصحيحة من بين البدائل الآتية: -			
1- أفعالٌ يَجِبُ عَلَى الْفَرْدِ الْقِيَامُ بِهَا تَجَاهَ الْمُجْتَمَعِ وَالْوَطَنِ، يُقْصَدُ بِهَا.			
1- الحقوق.	2- الواجبات.	3- طاعة ولي الأمر.	4- أداء الخدمة الوطنية.
2- تُعدُّ أهم واجبات الفرد نحو وطنه.			
1- التعليم المجاني.	2- الدفاع عن الوطن.	3- المساواة في الحقوق.	4- الرعاية الصحية المتميزة.
3- احترام خيارات الناس واجتهاداتهم وأذواقهم من ضمن.			
1- الحقوق.	2- الواجبات.	3- طاعة ولي الأمر.	4- أداء الخدمة الوطنية.
السؤال الثاني: - ضع علامة (✓) أو علامة (×) أمام العبارات الآتية: -			
1- ترك أذى الناس، وعدم ازعاجهم من ضمن واجبات الفرد نحو الآخرين.			
2- عدم معاملة الآخرين باحترام من ضمن واجبات الفرد نحو مجتمعه.			
السؤال الثالث: - وضح واجبات الفرد نحو وطنه؟			
1-	2-		
3-	4-		
السؤال الرابع: - وضح أهم واجبات الفرد نحو الآخرين.			
1-	2-		
3-	4-		
السؤال الخامس: - وضح العلاقة بين كلاً من الحق والواجب؟			
1-	2-		
3-	4-		
السؤال السادس: - وضح الفرق بين الحق والواجب؟			
1-			
3-			