


## شكراً لتحميلك هذا الملف من موقع المناهج القطرية



## أوراق عمل نهاية الفصل غير مجانية

موقع المناهج ⇨ المناهج القطرية ⇨ المستوى الرابع ⇨ اجتماعيات ⇨ الفصل الأول ⇨ الملف

تاريخ نشر الملف على موقع المناهج: 07:31:39 2023-12-07

## التواصل الاجتماعي بحسب المستوى الرابع



## روابط مواد المستوى الرابع على تلغرام

[الرياضيات](#)

[اللغة الانجليزية](#)

[اللغة العربية](#)

[التربية الاسلامية](#)

## المزيد من الملفات بحسب المستوى الرابع والمادة اجتماعيات في الفصل الأول

<a href="#">تدريبات علاجية وواجبات محابة نهاية الفصل</a>	1
<a href="#">تدريبات علاجية وواجبات غير محابة نهاية الفصل</a>	2
<a href="#">أوراق عمل نهاية الفصل مدرسة الأندلس</a>	3
<a href="#">تدريبات دعم وإثراء الفرقان نهاية الفصل</a>	4
<a href="#">جدول مواصفات اختبار نهاية الفصل</a>	5

# أوراق اثرائية لنهاية الفصل الأول الدراسات الاجتماعية

الصف: الرابع



اسم الطالب: .....

الصف الرابع/.....

صل بين القائمة ( أ ) وما يناسبها من القائمة ( ب ) في الجمل الآتية:-

الرقم	( أ )	( ب )
1	توغل مياه البحر داخل اليابس هو.	الكتبان
2	كتل من الرمال تكونت بفعل الرياح هي.	الخلجان
3	أرض تحيط بها المياه من جميع الجهات هي.	التلال
4	مناطق يرتفع سطحها عن سطح البحر	الجزر
5	الكهوف الأرضية التي انهارت الأجزاء العليا منها	السبخات
6	أراض منخفضة عما يجاورها تتجمع فيها مياه الأمطار وترتبت خصبه هي.	الرؤوس الأرضية
7	السنه صخرية من اليابس متوغلة داخل مياه البحر هي.	الدحول
8	هو كل ما تركه الأجداد من علم وفن وعمارة وعادات وقيم	الروضات
9	هي نوع من الأناشيد الشعبية الغنائية قد يصاحبه الآلات الموسيقية	التراث
10	هي الخصائص والسمات التي يتميز بها الشعب القطري عن الشعوب الأخرى	الهوية الوطنية
11	هي مجموعة من الأحداث التي مر بها الإباء والأجداد	المعنوي
12	هي القيم التي تتوارثها الأجيال ويشترك بها جميع أبناء المجتمع	الأهزوجة
13	تعد القلاع والابراج والحصون والبيوت من التراث	التاريخ المشترك
		العادات والتقاليد

ضع علامة ( ✓ ) أو علامة ( ✕ ) أمام الجمل الآتية :-

- ( ) يبلغ عدد خطوط الطول 180 خطاً طولياً
- ( ) تساعدنا دوائر العرض في حساب فرق التوقيت
- ( ) يتصف مناخ دولة قطر في فصل الصيف بارتفاع درجة الحرارة
- ( ) تعتبر الدحول من أشكال سطح الأرض الداخلية لدولة قطر
- ( ) تتصل دولة قطر من جهة الجنوب مع الكويت
- ( ) شبة الجزيرة تحيط بها المياه من أربع جهات
- ( ) يعود نسب ال ثاني الى قبيلة بني تميم
- ( ) شارك الشيخ جاسم بن محمد مع والده في إدارة حكم البلاد
- ( ) عمل الشيخ جاسم بن محمد بن ثاني في تجارة الجلود
- ( ) منحت بريطانيا الشيخ جاسم بن محمد لقب قائمقام
- ( ) انتصرت القوات القطرية على العثمانية في معركة الزبارة
- ( ) يشترك أبناء المجتمع القطري في الدين واللغة
- ( ) تختلف العادات والتقاليد بين أبناء المجتمع القطري
- ( ) تعد القلاع والأبراج والحصون والبيوت من التراث المعنوي
- ( ) التراث هو كل ما تركه الأجداد من علم وفن وعمارة وعادات وتقاليد
- ( ) تهدف هيئة متاحف قطر إلى تطوير ودعم المتاحف والفنون والتراث
- ( ) تقوم وزارة الثقافة بترميم وحماية المواقع والقلاع والحصون التاريخية
- ( ) انخفض عدد سكان دولة قطر عن 2 مليون نسمة عام 2018م

- ( ) ( ترجع الزيادة في عدد سكان دولة قطر إلى ظهور النفط والغاز )
- ( ) ( استحوذ الذكور على النسبة الأكبر من سكان قطر لعام 2015م )
- ( ) ( تمثل فئة كبار السن أقل نسبة من سكان دولة قطر )
- ( ) ( بلدية الوكرة هي ثاني أكثر بلديات قطر سكانا لعام 2015م )
- ( ) ( يتركز غالبية سكان قطر على الساحل الغربي )
- ( ) ( يقارب عدد سكان مدينة الدوحة حوالي 40% من سكان دولة قطر )
- ( ) ( يوجد ببلدية الدوحة مقر الحكم والوزارات والمؤسسات الحكومية )
- ( ) ( تعد مدينة الشمال أقل بلديات دولة قطر سكانا عام 2015 )
- ( ) ( تولى الشيخ عبدالله بن جاسم ال ثاني الحكم عام 1913م )
- ( ) ( اكتشف في عهد الشيخ عبدالله بن جاسم ال ثاني النفط في منطقة مسيعيد عام 1940م )
- ( ) ( عقد الشيخ عبدالله بن جاسم ال ثاني المعاهدات مع بريطانيا لحفظ استقرار البلاد )
- ( ) ( اكتشف النفط في مدينة دخان في عهد الشيخ عبدالله بن جاسم ال ثاني )
- ( ) ( أحد طرق المحافظة على الصالح العام المحافظة على أدوات المدرسة )
- ( ) ( يعد من صفات المواطن الصالح احترام قوانين وعادات وتقاليد المجتمع )

اختر الإجابة الصحيحة بوضع علامة ☐ x المربع المقابل: -

1- تستغرق دورة الأرض حول نفسها:

أ- 24 ساعة

ب- 25 ساعة

ج- 30 يوماً

د- 365 يوماً

2- يترتب على دوران الأرض حول نفسها:

أ- دورة الشمس

ب- ميل محور الأرض

ج- تعاقب الليل والنهار

د- تعاقب فصول السنة

3- يبلغ عدد خطوط الطول:

أ- 90

ب- 160

ج- 190

د- 360

4- يبلغ عدد دوائر العرض :

أ- 90

ب- 180

ج- 360

د- 160

5- من أشكال سطح الأرض الداخلية بدولة قطر:

أ- التلال

ب- الجزر

ج- الرؤوس الأرضية

د- السبخات الساحلية

6- من أشكال سطح الأرض الساحلية بدولة قطر:

أ- الدحول

ب- التلال

ج- الروضات

د- الرؤوس الأرضية

7- "أراضٍ منخفضة تتجمع فيها الأمطار وصالحة للزراعة" يشير التعريف السابق

إلى:

أ- التلال

ب- الدحول

ج- الروضات

د- الكثبان الرملية

8- تتصل دولة قطر باليابس من جهة الجنوب مع :

أ- السعودية

ب- البحرين

ج- الإمارات

د- الكويت

9- "كتل من الرمال تكونت بفعل الرياح كما في منطقة سيلين" يشير التعريف السابق إلى:

أ- التلال

ب- الدحول

ج- الروضات

د- الكثبان الرملية

7- "أرض تحيط بها المياه من جميع الجهات" يشير التعريف السابق إلى:

أ- السبخات

ب- الخلجان

ج- الجزر

د- الرؤوس الأرضية

8- كان موطن أسرة آل ثاني قبل هجرتهم إلى قطر في منطقة:

أ- الوشم

ت- الخور

ج- الاحساء

د- الحجاز

9-منح الشيخ جاسم بن محمد بن ثاني لقب قائمقام من قبل:  
أ-بريطانيا  
ب-فرنسا  
ج-البرتغال  
د-الدولة العثمانية

10-عمل الشيخ جاسم بن محمد مع والده في تجارة:  
أ-الفراء  
ب-الفواكه  
ج-الجلود  
د-اللؤلؤ

11- مجموعة من الأحداث التي مر بها الآباء والأجداد جعلتهم أبناء هوية واحدة:  
أ-الدين واللغة  
ب-العادات والتقاليد  
ج-التاريخ المشترك  
د-الوحدة الجغرافية

12- المكان الذي يمثل هويتنا ونشعر فيه بالأمان هو:  
أ- الوطن  
ب- الهوية  
ج - الانتماء  
د- المواطنة

13- أي مما يأتي يعد من التراث المادي؟  
أ- القلع  
ب-العلوم  
ج- الفنون  
د- الامثال

14- ترميم وحماية المواقع والقلاع والحصون التاريخية من مهام :  
أ- هيئة متاحف قطر  
ب- الحي الثقافي (كتارا)  
ج- مركز نوماس  
د- مركز قطر للتراث والهوية



15- تنظم الفعاليات والاحتفاء بالمناسبات الوطنية من مهام :

أ- هيئة متاحف قطر

ب- مركز نوماس

ج- وزارة الثقافة

د- الحي الثقافي (كتارا)

16- الفئة التي تمثل أعلى نسبة من سكان دولة قطر هي :

أ- الأطفال

ب- الشباب

ج- كبار السن

د- الإناث

17- يرجع ارتفاع نسبة العمالة الوافدة بدولة قطر إلى :

أ- حسن المعاملة

ب- اعتدال المناخ

ج- ارتفاع مستوى المعيشة

د كثرة الأماكن السياحية

18- تتمثل الزيادة غير الطبيعية لسكان دولة قطر في :

أ- الهجرات الوافدة

ب- عدد المواليد

ج- عدد الوفيات

د- عدد السكان

19- أكثر بلديات دولة قطر سكانا عام 2015م بلدية:

أ- الدوحة

ب- الشمال

ج- الريان

د- الظعائن

20- من المدن الصناعية التي تشهد تركزا للسكان بدولة قطر :

أ- رأس لفان

ب- أم صلال

ج- الوكرة

د- الكعبان

- 21- ولد الشيخ عبدالله بن جاسم ال ثاني في مدينة :  
أ- الوكرة  
ب- فويرط  
ج- الدوحة  
د- الزبارة

- 22- سميت اول مدرسة أنشئت في عهد الشيخ عبدالله بن جاسم ال ثاني بالمدرسة :  
أ- المستقلة  
ب- الأثرية  
ج- الفنية  
د- الدينية

- 23- هو كل ما يعود بالنفع على المجتمع أو الفرد يشير المفهوم السابق إلى:  
أ- التقاليد  
ب- الصالح العام  
ج- الهوية الوطنية  
د- الانتماء للوطن

بم تفسر: أهمية دوائر العرض؟

- 1-.....  
2-.....

بم تفسر: أهمية خطوط الطول؟

- 1-.....  
2-.....

عدد أشكال سطح الأرض الداخلية بدولة قطر؟

- 1-.....  
2-.....  
3-.....

عدد أشكال سطح الأرض الساحلية بدولة قطر؟

- 1-.....
- 2-.....
- 3-.....

بم تفسر: هجرة أسرة آل ثاني من منطقة نجد إلى قطر؟

- 1-.....
- 2-.....

بم تفسر: حدوث معركة الوجبة؟

- 1-.....
- 2-.....

ما النتائج المترتبة على معركة الوجبة؟

- 1-.....
- 2-.....

عدد مكونات الهوية الوطنية؟

- 1-.....
- 2-.....
- 3-.....

كيف تحافظ على التراث؟

- 1-.....
- 2-.....
- 3-.....

عدد مواد البناء المستخدمة في البيت القطري؟

- 1-.....
- 2-.....

عدد المؤسسات المعنية بالتراث في دولة قطر؟

- .....-1
- .....-2
- .....-3
- .....-4

عدد جهود وزارة الثقافة في الحفاظ على التراث الوطني؟

- .....-1
- .....-2

عدد جهود هيئة متاحف في الحفاظ على التراث الوطني؟

- .....-1
- .....-2

بم تفسر: تطور اعداد سكان دولة قطر؟

- .....-1
- .....-2

بم تفسر: تمثل فئة الشباب أكثر من 84% من سكان قطر ؟

- .....

بم تفسر: ارتفاع نسبة الذكور بدولة قطر ؟

- .....

بم تفسر: زيادة العمالة الوافدة الى قطر؟

- .....-1
- .....-2

بم تفسر: تركيز السكان في مدينة الدوحة؟

- .....-1
- .....-2
- .....-3

بم تفسر: قلة تركيز السكان في المناطق الجنوبية الشرقية والغربية في قطر؟

.....

عدد المدن الصناعية في دولة قطر؟

.....-1

.....-2

.....-3

عدد بعض إنجازات الشيخ عبد الله بن جاسم آل ثاني؟

.....-1

.....-2

.....-3

اذكر صفات الشيخ عبد الله بن جاسم آل ثاني؟

.....-1

.....-2

.....-3

كيف تحافظ على الصالح العام في المجتمع؟

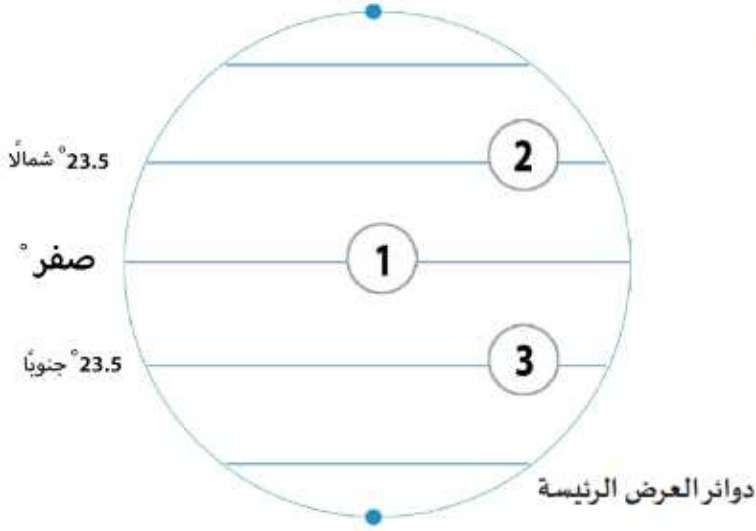
.....-1

.....-2

.....-3

انظر للشكل واجب عن الأسئلة:

- وضح ما تشير إليه الأرقام التالية:



1- دائرة .....

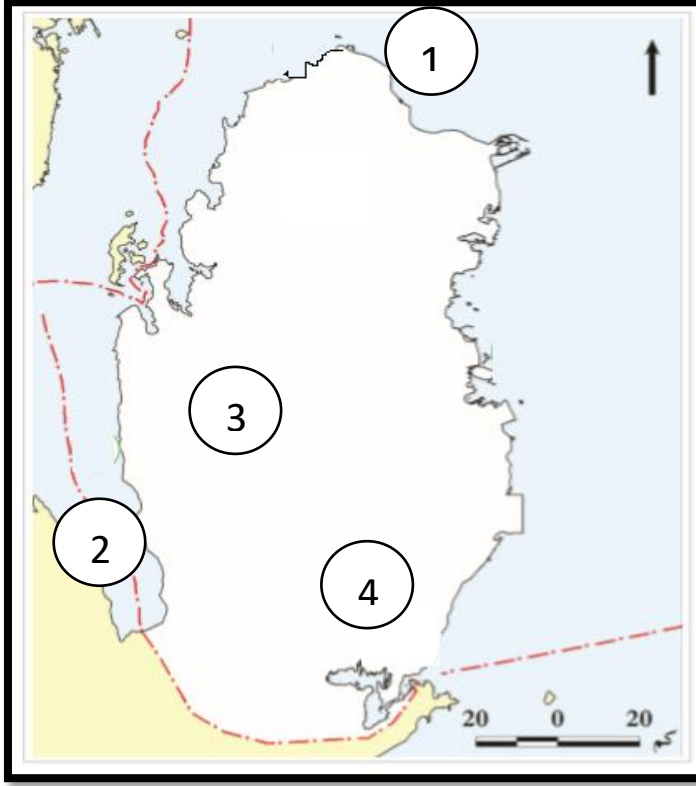
2- مدار .....

3- مدار .....

قارن بين خطوط الطول ودوائر العرض في الجدول التالي:

دوائر العرض	خطوط الطول	وجه المقارنة
.....	.....	الخط الرئيس
.....	.....	العدد

أمامك خريطة صماء لدولة قطر اكتب اسم أشكال السطح التي تدل عليها الأرقام التالية



1- رأس .....

2- خليج .....

3- روضة .....

4- الكثبان .....

رتب حكام دولة قطر على الخط الزمني حسب فترات حكمهم :

( الشيخ عبدالله بن جاسم آل ثاني – الشيخ جاسم بن محمد ثاني – الشيخ محمد بن ثاني –  
علي بن عبدالله آل ثاني )

