

شكراً لتحميلك هذا الملف من موقع المناهج القطرية



تدريبات علاجية وواجبات مجانية نهاية الفصل

[موقع المناهج](#) ← [المناهج القطرية](#) ← [المستوى الرابع](#) ← [اجتماعيات](#) ← [الفصل الأول](#) ← [الملف](#)

تاريخ نشر الملف على موقع المناهج: 07-12-2023 07:29:47

التواصل الاجتماعي بحسب المستوى الرابع



روابط مواد المستوى الرابع على تلغرام

[الرياضيات](#)

[اللغة الانجليزية](#)

[اللغة العربية](#)

[التربية الاسلامية](#)

المزيد من الملفات بحسب المستوى الرابع والمادة اجتماعيات في الفصل الأول


تدريبات علاجية وواجبات غير محابة نهاية الفصل	1
أوراق عمل نهاية الفصل مدرسة الأندلس	2
تدريبات دعم وإثراء الفرقان نهاية الفصل	3
جدول مواصفات اختبار نهاية الفصل	4
تدريبات مجمع الفرقان منتصف الفصل	5



أوراق علاجية وواجبات

العام الدراسي
2024-2023

الصف الرابع
4



مادة الدراسات الاجتماعية

الإجابات النموذجية

تدريبات علاجية - واجبات

منهاج نهاية الفصل الدراسي الأول

اسم الطالب:

الصف: الرابع

ملحوظة مهمة: هذه الأسئلة إثرائية ولا تغني عن الكتاب المدرسي وهو
المصدر الرئيس للتعلم



أوراق علاجية وواجبات

التاريخ: 27 - 31 / 8 / 2023م

الأسبوع الأول

الزمن:	مادة: الدراسات الاجتماعية
الصف / الشعبة	اسم الطالب
الرابع (.....)

- أولاً الأسئلة الموضوعية: قم بتحديد إجابتك بوضع علامة X في المربع المقابل للاختيار الصحيح:

يبلغ عدد خطوات الطول:	1
.100	A
.180	B
.200	C
.360	D

دائرة العرض الرئيسية التي تنصف الكرة الأرضية الى نصفين شمالي وجنوبي هي:	2
جرينتش.	A
الاستواء.	B
مدار الجدي.	C
مدار السرطان.	D



أوراق علاجية وواجبات

تتصل دولة قطر باليابس من جهة الجنوب مع:		3
A	الكويت.	
B	البحرين.	
C	الامارات.	
D	السعودية.	X

من أشكال سطح الأرض الداخلية في دولة قطر:		4
A	الجُزر.	
B	التلال.	X
C	الرؤوس الأرضية.	
D	السبخات الساحلية.	

" الكهوف الأرضية التي انهارت أجزاءها العليا؛ فكوّنت فتحات على سطح الأرض " يشير التعريف السابق لمفهوم:		5
A	الدحول.	X
B	الخلجان.	
C	الكتبان الرملية	
D	. الرؤوس الأرضية.	



أوراق علاجية وواجبات

تعتبر من أنواع النباتات الحوليّة بدولة قطر نبات: (ملاحظة غير مطلوب في الاختبار)		6
الفقع.	A	X
السبّدر.	B	
النخيل.	C	
العوسج.	D	

من أشكال سطح الأرض الساحلية بدولة قطر:		7
التلال.	A	
الدحول.	B	
الروضات.	C	
الرؤوس الأرضية.	D	X

عمل الشيخ جاسم بن محمد بن ثاني مع والده في تجارة:		8
اللؤلؤ.	A	X
الفراء.	B	
الجلود.	C	
الفواكه.	D	



أوراق علاجية وواجبات

التاريخ: 3 - 7 / 9 / 2023م

الأسبوع الثاني

مُنح الشيخ جاسم بن محمد بن ثاني لقب قائمقام من قبل:		9
فرنسا.	A	
بريطانيا.	B	
البرتغال.	C	
الدولة العثمانية.	D	X

من أسباب معركة الوجة أسرُ العثمانيين للشيخ:		10
جاسم بن محمد بن ثاني.	A	
محمد بن ثاني بن محمد.	B	
أحمد بن محمد بن ثاني.	C	X
عبد الله بن جاسم آل ثاني.	D	

تحتفل دولة قطر باليوم الوطني في:		11
18 سبتمبر.	A	
18 أكتوبر.	B	
18 نوفمبر.	C	
18 ديسمبر.	D	X



أوراق علاجية وواجبات

- ثانياً السؤال المقالى: أجب عن الآتى:

1. بم تفسر؟

أهمية دوائر العرض؟

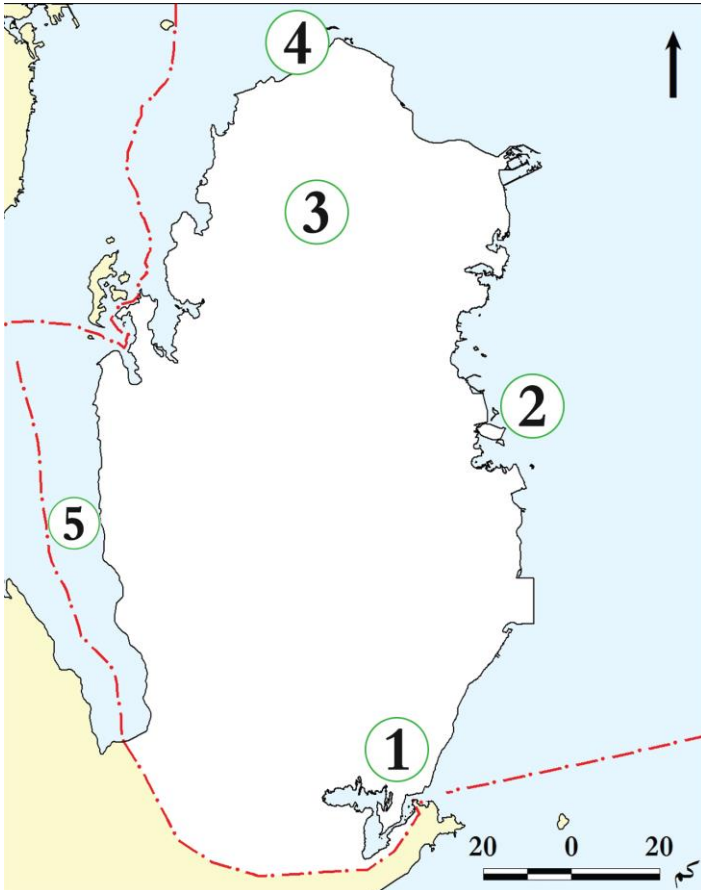
الإجابة: 1- تحديد الأماكن على سطح الأرض شمالاً وجنوباً.

2- تقسيم العالم إلى مناطق حارة وباردة على سطح الكرة الأرضية.

صلاحية الروضات للزراعة؟

الإجابة: تتجمع فيها مياه الأمطار، وترتبتها طينية خصبة

2.



أمامك خريطة صمء لدولة قطر

حدّد عليها ما يلي:

- اكتب اسم أشكال السطح التي تدلُّ

عليها الأرقام التالية:

الرملية

1- الكثبان

الساقلية

2- جزيرة

الفرس

3- روضة

ركن

4- رأس

سلوى

5- خليج



أوراق علاجية وواجبات

التاريخ: 10 - 14 / 9 / 2023م

الأسبوع الثالث

3- قارن بين أحوال المناخ في دولة قطر شتاءً وصيفاً. (ملاحظة غير مطلوب في الاختبار)

العنصر	أحوال المناخ شتاءً	أحوال المناخ صيفاً
درجة الحرارة	انخفاض درجات الحرارة	ارتفاع درجة الحرارة والرطوبة
الأمطار	سقوط الأمطار	انعدام سقوط الأمطار

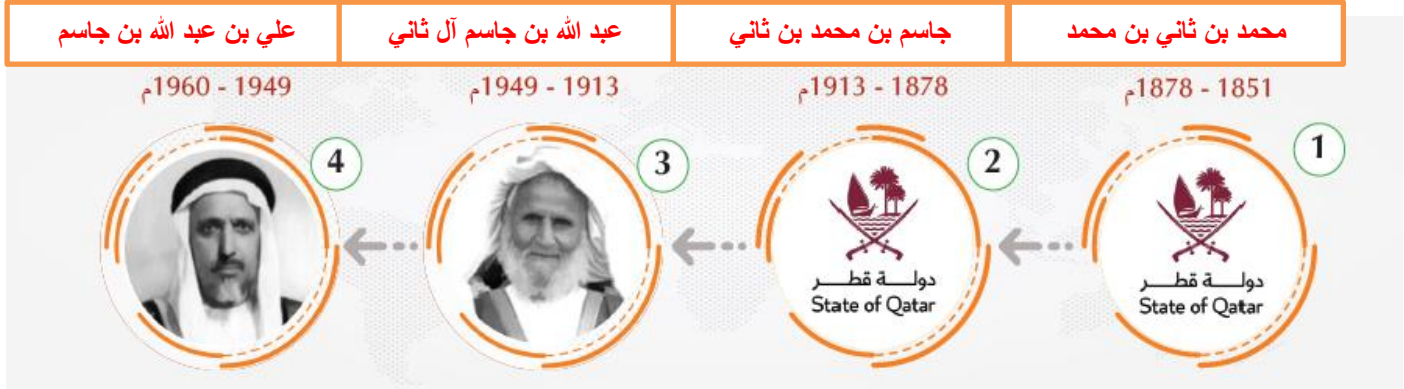
4- ضع علامة (✓) أمام العبارة الصحيحة، وعلامة (✗) أمام العبارة الخاطئة:

- 1- وُلِدَ الشَّيْخُ مُحَمَّدُ بْنُ ثَانِي فِي الدَّوْحَةِ. (✗)
- 2- هَاجَرَتْ أُسْرَةُ آلِ ثَانِي إِلَى قَطْرِ قَادِمَةً مِنْ إِقْلِيمِ نَجْدٍ. (✓)
- 3- نَجَحَ الشَّيْخُ مُحَمَّدُ بْنُ ثَانِي فِي الْحُصُولِ عَلَى اعْتِرَافِ بَرِيْطَانِيَا بِقَطْرِ كإِمَارَةٍ مُسْتَقْلَةٍ. (✓)
- 4- تَبَدُّو قَطْرِ عَلَى شَكْلِ شِبْهِ جَزِيرَةٍ مُمْتَدَّةٍ فِي مِيَاهِ الْخَلِيجِ الْعَرَبِيِّ. (✓)
- 5- يَتَمَيَّزُ فَصْلُ الصَّيْفِ بِدَوْلَةِ قَطْرِ بِسُقُوطِ الْأَمْطَارِ الْغَزِيرَةِ. (ملاحظة غير مطلوب في الاختبار) (✗)
- 6- تَحْتَفِلُ دَوْلَةُ قَطْرِ بِالْيَوْمِ الْوَطْنِيِّ فِي 22/سبْتَمْبَرٍ مِنْ كُلِّ عَامٍ. (✗)
- 7- يَشْتَرِكُ أَبْنَاءُ الْمَجْتَمَعِ الْقَطْرِيِّ فِي الدِّينِ وَاللُّغَةِ. (✓)
- 8- تَخْتَلِفُ الْعَادَاتُ وَالتَّقَالِيدُ بَيْنَ أَبْنَاءِ الْمَجْتَمَعِ الْقَطْرِيِّ. (✗)



أوراق علاجية وواجبات

5- أكمل الخُطَّ الزمني لحكام أسرة آل ثاني من الأقدم الى الأحدث بكتابة اسم الشيخ (الأمير) في الفراغ.



6- اذكر مكونات الهوية الوطنية القطرية.

1 - التاريخ المشترك

2 - المستقبل المشترك

3 - الدين واللغة المشتركة

4 - العادات والتقاليد المشتركة

7- وضح أهمية معركة الوجبة 1893م بالنسبة للقطريين.

الإجابة: أ أظهرت أهمية الاتحاد بين القبائل القطرية في مواجهة الأزمات.

الإجابة: ب أوضحت تقدير السلطان العثماني عبد الحميد الثاني للشيخ جاسم من خلال ارساله رسالة يعتذر فيها.

8- عرف كل من المفاهيم الآتية؟

أ- الحامية: قوة عسكرية هدفها حماية منطقة ما

ب- النبات الطبيعي: هو النبات الذي ينمو طبيعياً بقدرة الله اعتماداً على كمية المطر دون تدخل الإنسان. (ملاحظة)

غير مطلوب في الاختبار



أوراق علاجية وواجبات

التاريخ: 17 - 21 / 9 / 2023م

الأسبوع الرابع

9- عدد أنواع الحيوانات البرية التي تعيش في دولة قطر. (ملاحظة غير مطلوب في الاختبار)

1- الزواحف مثل: الثعابين والسحالي.

2- حيوانات آكلة للغضب كالمها والأرانب.

3- الطيور كالصقور والكروان، واليمام.

4- الحشرات مثل الخنافس والجراد.

10- بم تفسر، يعد الشيخ جاسم بن محمد بن ثاني المؤسس الفعلي لقطر.

1-

صفاته التي تمتع بها مثل الشجاعة وحب العلم.

2-

أعماله الدينية من بنائه المساجد واستضافة العلماء.

3-

تميز عهده بانتشار الأمن والرخاء وازدهار التجارة.



أوراق علاجية وواجبات

- أولاً الأسئلة الموضوعية: قم بتحديد إجابتك بوضع علامة X في المربع المقابل للاختيار الصحيح:

يبلغ عدد دوائر العرض:		1
.90	A	
.180	B	X
.200	C	
.360	D	

خط الطول الرئيسي الذي ينصف الكرة الأرضية الى نصفين شرقي وغربي هو:		2
جرينتش.	A	X
الاستواء.	B	
مدار الجدي.	C	
مدار السرطان.	D	

يقع مدار السرطان بالنسبة لدولة قطر في جهة:		3
الشرق.	A	
الغرب.	B	
الشمال.	C	
الجنوب.	D	X



أوراق علاجية وواجبات

يحلُّ فصل الصيف في نصف الكرة الأرضية الشمالي عندما تتعامد الشمس على: (ملاحظة غير مطلوب في الاختبار)		4
A	مدار الجدي.	
B	مدار السرطان.	X
C	دائرة الاستواء.	
D	القطب الجنوبي.	

يحلُّ الشتاء في نصف الكرة الأرضية الشمالي عندما تتعامد الشمس على: (ملاحظة غير مطلوب في الاختبار)		5
A	مدار الجدي.	X
B	مدار السرطان.	
C	دائرة الاستواء.	
D	القطب الجنوبي.	

يتَّصف مُناخ دولة قطر في فصل الصيف ب:..... (ملاحظة غير مطلوب في الاختبار)		6
A	زيادة الأمطار.	
B	انعدام الأمطار.	X
C	انخفاض الرطوبة.	
D	انخفاض درجة الحرارة.	



أوراق علاجية وواجبات

من أمثلة الطيور في دولة قطر: (ملاحظة غير مطلوب في الاختبار)		7
الضَّبُّ.	A	
الجراد	B	
الغزلان.	C	
الكروان.	D	X

أرسل الشيخ جاسم بن محمد بن ثاني دعوة للعثمانيين لمساعدته في مواجهة الأطماع:		8
الفرنسية.	A	
البرتغالية.	B	
الهولندية.	C	
البريطانية.	D	X

كان مَوْطِنُ أسرة آل ثاني قبل هجرتهم إلى قطر في منطقة:		9
الخور.	A	
الوشم.	B	X
الحجاز.	C	
الأحساء.	D	



أوراق علاجية وواجبات

التاريخ: 24 - 28 / 9 / 2023م

الأسبوع الخامس

ولد الشيخ محمد بن ثاني في مدينة:		10
A	فويرط.	X
B	الزبارة.	
C	الدوحة.	
D	الرويس.	

كانت أطول مدة حكم لقطر في عهد الشيخ:		11
A	أحمد بن علي آل ثاني.	
B	جاسم بن محمد بن ثاني.	
C	علي بن عبد الله آل ثاني.	
D	عبد الله بن جاسم آل ثاني.	X

أي مما يأتي يُعدُّ من آثار الاعتزاز بالهوية الوطنية:		12
A	الدين واللغة.	
B	التاريخ المشترك.	
C	تماسك أبناء الوطن.	X
D	التشابه في العادات والتقاليد.	



أوراق علاجية وواجبات

"مجموعة الأحداث التي مرَّ بها الآباء والأجداد، وجعلتهم أبناء هويَّة واحدة" التعريف السابق يشير لمفهوم:		13
A	الدين واللغة.	
B	العادات والتقاليد.	
C	التَّاريخُ المشترك.	X
D	الوحدة الجغرافية.	

أيِّ ممَّا يأتي يُعدُّ من التراث المادي: (ملاحظة غير مطلوب في الاختبار)		14
A	القلاع.	X
B	العلوم.	
C	الفنون.	
D	الأمثال الشعبية.	

ترميم وحماية المواقع والقلاع والحصون التاريخية من مهام: (ملاحظة غير مطلوب في الاختبار)		15
A	هيئة متاحف قطر.	X
B	الحي الثقافي (كتارا).	
C	مركز قطر للتراث والهويَّة.	
D	مؤسسة قطر للتربية والعلوم.	



أوراق علاجية وواجبات

التاريخ: 1 - 5 / 10 / 2023م

الأسبوع السادس

• ثانياً السؤال المقالي: أجب عن الآتي:

1- أكمل الفراغات الآتية:

أ - استمرَّ حكم الشيخ حمد بن خليفة آل ثاني 18 عامًا.

ب - الحاكم الثاني الذي تولَّى حكم دولة قطر عام 1878م الشيخ جاسم بن محمد بن ثاني

ج - تُوفي الشيخ جاسم بن محمد بن ثاني عام 17 يوليو 1913م

د - أرسل اعتذارًا للشيخ جاسم بن محمد بن ثاني بعد معركة الوجبة السلطان العثماني عبد الحميد الثاني

هـ - أدَّى وجود الحامية العثمانية في قطر إلى مواجهة الأطماع البريطانية

2- عرف كل من المفاهيم الآتية؟

التراث: كل ما تركه الأجداد من علم وفن وعلم، وعمارة، وعادات، وقيم. (ملاحظة غير مطلوب في الاختبار)

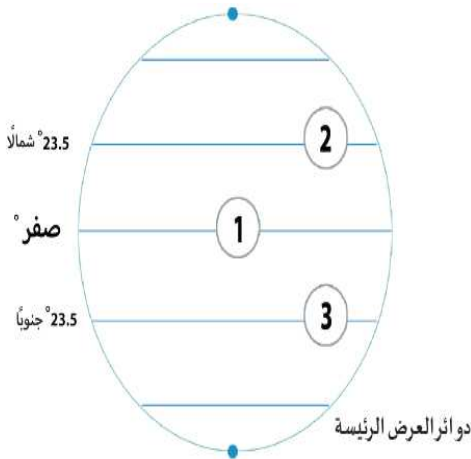
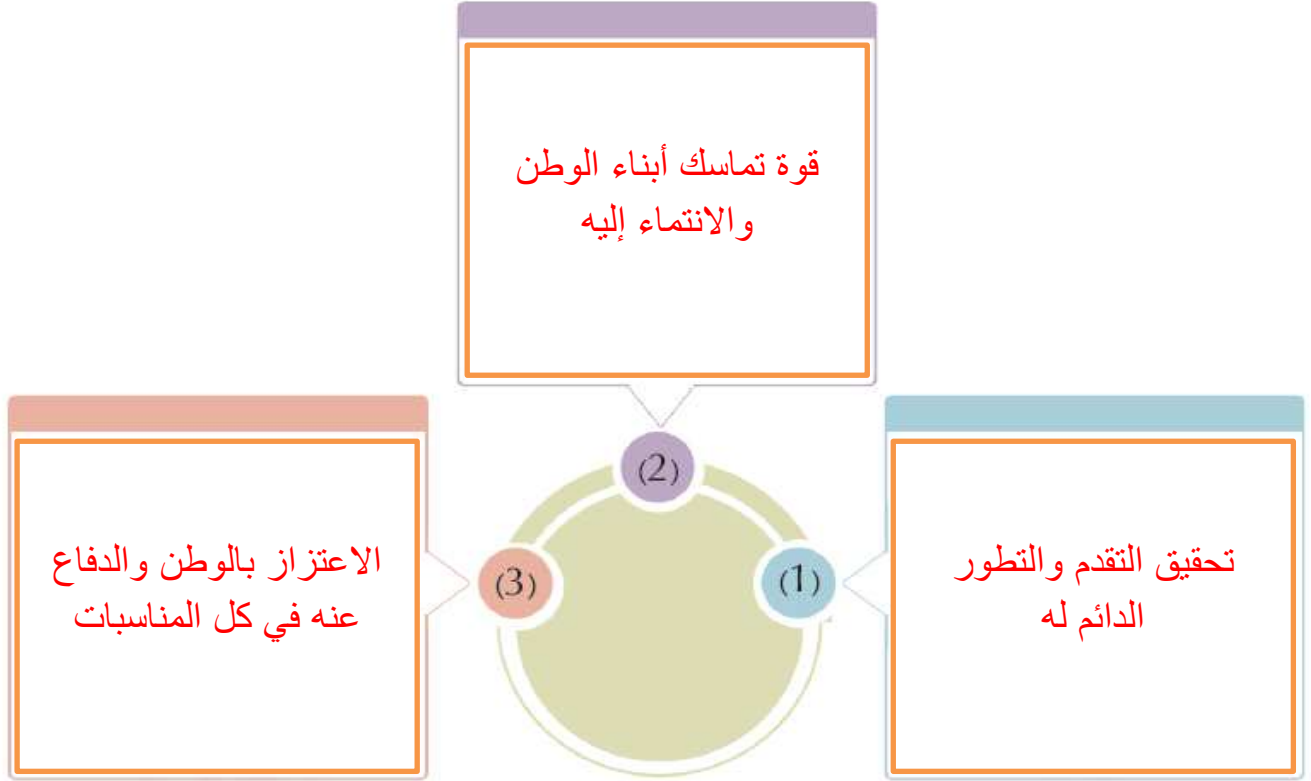
الأهزوجة: هي نوع من الأناشيد الشعبية الغنائية. (ملاحظة غير مطلوب في الاختبار)

الهوية الوطنية القطرية: هي الخصائص والسمات التي يتميز بها الشعب القطري عن الشعوب الأخرى.



أوراق علاجية وواجبات

3- اكتب نتائج التمسك بالهوية الوطنية في الشكل التالي:



4- انظر الشكل أدناه وأجب عن الأسئلة الآتية.

1 - دائرة الاستواء

2- مدار السرطان

3 - مدار الجدي



أوراق عمل علاجية

قسم	الدراسات الاجتماعية	الصف الرابع	الأسبوع	العاشر
الوحدة	الثالثة – درس 2 (التراث)	التاريخ	10 / 29 – 11 / 2 / 2023 م	

أولاً: الاختيار من متعدد:

1- أيٌّ ممَّا يأتي يُعدُّ من التراث المادي؟

أ – القلاع

ب – العلوم

ج – الفنون

د – الأمثال الشعبية

2- الجهة التي تقوم بترميم وحماية المواقع والقلاع والحصون التاريخية في دولة قطر هي:

أ – هيئة متاحف قطر

ب – مؤسسة قطر للتربية والعلوم

ج – الحي الثقافي (كتارا)

د – مركز قطر للتراث والهويّة.

ثانياً: ضع علامة (✓) أمام العبارة الصحيحة وعلامة (x) أمام العبارة الخاطئة

- 1- تُعدُّ القلاع والأبراج، والحصون والبيوت من التراث المعنوي (x)
- 2- التراث هو كلُّ ما تركه الأجداد من علم وفنّ، وعمارة، وعادات، والقيم (✓)
- 3- تهدف هيئة متاحف قطر إلى تطوير ودعم المتاحف والفنون والتراث (✓)

ثالثاً: أجب عما يلي:

1- عرف المفاهيم الآتية:

المفهوم	التعريف
التراث	هو كلُّ ما تركه الأجداد من علم وفنّ، وعمارة، وعادات، والقيم
الأهزوجة	هي نوع من الأناشيد الشعبية الغنائية، التي قد يصاحبها في بعض الأحيان الآلات الموسيقية.
العرضة	أهزوجة حربية أصبحت حالياً تؤدي في أوقات الاحتفالات والأعياد الوطنية.



أوراق علاجية وواجبات

2- وضح كيف يمكن أن نحافظ على التراث الوطني.

1- تقدير أصحاب الحرف والصناعات الشعبية.

2- المشاركة في إحياء الاحتفالات التراثية والشعبية.

3- زيارة المتاحف القطرية والمحافظة على المعروضات.

3- عدد المؤسسات التي تعنى بالتراث القطري.

1- وزارة الثقافة / هيئة متاحف قطر

2- من المؤسسات الأخرى: مركز نوماس / الحي الثقافي (كتارا) / مؤسسة قطر للتربية والعلوم وتنمية المجتمع.

4- اذكر أشكال الأهازيج الشعبية في دولة قطر.

1- الأهازيج البرية: مثل العرضة وأهازيج الأطفال

2- الأهازيج البحرية:

5- وضح الدور أو الأهداف التي تقوم بها المؤسسات التي تُعنى بالتراث القطري:

المؤسسات	الدور / الهدف
وزارة الثقافة	1- رعاية شؤون الثقافة والفنون والتراث الشعبي. 2- تنظيم الفعاليات والاحتفاء بالمناسبات الوطنية
هيئة متاحف قطر	1- تطوير، ودعم المتاحف، والفنون، والتراث. 2- ترميم وحماية المواقع والقلاع والحصون التاريخية.



أوراق علاجية وواجبات

6- صل بين العمود (أ) ما يناسبه من العمود (ب):

● كل ما تركه الأجداد من علم وفن، وعماره، وعادات، وقيم.	1- الأهزوجة
● نوع من الأناشيد الشعبية الغنائية ويصاحبها أحياناً الآلات الموسيقية.	2- التراث
● الأناشيد التي يتغنى بها البحارة أثناء رحلاتهم لاستخراج اللؤلؤ ولصيد السماك.	3- العرضة
● أهزوجة حربية أصبحت حالياً تؤدي في أوقات الاحتفالات والأعياد الوطنية	4- الأهازيج البحرية



أوراق عمل علاجية

القسم	الدراسات الاجتماعية	الصف الرابع	الأسبوع	الحادي عشر
الوحدة	الرابعة - درس 1 (نمو وتركيب السكان في دولة قطر)	التاريخ	11 / 5 - 11 / 9 / 2023 م	

أولاً: الاختيار من متعدد:

3- الفئة التي تمثل أعلى نسبة من سكان دولة قطر هي:

ب - الشباب

أ - الأطفال

د - الإناث

ج - كبار السن.

4- "تعني الفرق بين عدد المواليد وعدد الوفيات" التعريف السابق يشير الى مفهوم:

ب - الزيادة غير الطبيعية

أ - الزيادة الطبيعية

د - مركز قطر للتراث والهوية.

ج - الهجرات الوافدة

5- الفئة التي تمثل أقل نسبة من سكان دولة قطر هي:

ب - الشباب

أ - الأطفال

د - الإناث

ج - كبار السن.

6- يرجع ارتفاع نسبة العمالة الوافدة بدولة قطر إلى:

ب - اعتدال المناخ.

أ - حسن المعاملة.

د - ارتفاع مستوى المعيشة

ج - كثرة الأماكن السياحية

7- "هي الهجرات الوافدة إلى دولة قطر" التعريف السابق يشير الى مفهوم:

ب - الزيادة غير الطبيعية

أ - الزيادة الطبيعية

د - مركز قطر للتراث والهوية.

ج - التركيب النوعي

ثانياً: ضع علامة (✓) أمام العبارة الصحيحة وعلامة (×) أمام العبارة الخاطئة

(×)

4- انخفض عدد سكان دولة قطر عن 2 مليون نسمة عام 2018 م

(✓)

5- ترجع الزيادة في عدد سكان دولة قطر إلى ظهور النفط والغاز

(✓)

6- استحوذ الذكور على النسبة الأكبر من سكان قطر لعام 2015 م



أوراق علاجية وواجبات

ثالثا: أجب عما يلي:

7- عرف المفاهيم الآتية:

المفهوم	التعريف
النمو السكاني.	هو تغير عدد السكان خلال فترة زمنية معينة.
الزيادة الطبيعية.	وتعني الفرق بين عدد المواليد وعدد الوفيات.
التركيب النوعي.	وهو تصنيف السكان حسب النوع إلى ذكور وإناث
التركيب العمري.	وهو تصنيف السكان حسب فئات العمر؛

8- بم تفسر تطور أعداد سكان قطر؟

1- ظهور النفط والغاز

2- النهضة الاقتصادية الكبرى التي تشهدها البلاد

9- ما أسباب زيادة العمالة الوافدة إلى قطر؟

1- توافر فرص العمل في البلاد.

2- ارتفاع مستوى المعيشة في دولة قطر

10- وضح ارتفاع نسبة الذكور بدولة قطر.

1- استقبال أعداد كبيرة من العمالة الوافدة معظمهم من الذكور.



أوراق علاجية وواجبات

10- وضح أوجه الاختلاف في التركيب النوعي والتركيب العمري من حيث تصنيف كل منهما لسكان دولة قطر.

أوجه الاختلاف	التركيب السكاني
	التركيب النوعي
	1- ذكور 2- إناث
	التركيب العمري
	1- أطفال 2- شباب 3- كبار السن

11- صل بين العمود (أ) ما يناسبه من العمود (ب):

<ul style="list-style-type: none">● تعني الفرق بين عدد المواليد وعدد الوفيات● هو تصنيف السكان حسب النوع إلى (ذكور وإناث)● هي الهجرات الوافدة إلى دولة قطر● هو تغيّر عدد السكّان خلال فترة زمنيّة مُعيّنة	<ul style="list-style-type: none">1- النموّ السكّانيّ2- الزيادة الطبيعيّة3- التركيب النوعيّ4- التركيب العمريّ
---	--



أوراق عمل علاجية

القسم	الدراسات الاجتماعية	الصف الرابع	الأسبوع	الثاني عشر
الوحدة	الرابعة - درس 2 (التوزيع السكاني وكثافته في قطر)	التاريخ	11 / 12 - 11 / 16 / 2023 م	

أولاً: الاختيار من متعدد:

8- أكثر بلديات دولة قطر سكاناً عام 2015 م بلدية:

- أ - الدوحة
ب - الريان
ج - الشمال
د - الظعنين

9- أقل بلديات دولة قطر سكاناً عام 2015 م بلدية:

- أ - الشمال
ب - الريان
ج - الوكرة
د - الشحانية

10- من المدن الصناعية التي تشهد تركّزاً للسكان بدولة قطر:

- أ - رأس لفان
ب - أم صلال
ج - الوكرة
د - الكعبان

11- يقلُّ تركّز سكان دولة قطر في المناطق الجنوبية الغربية والشرقية؛ بسبب وجود:

- أ - الصحاري
ب - الروضات
ج - حقول النفط
د - الجبال الوعرة

12- " يُقصد به توزيع السكان على أرض دولة قطر " التعريف السابق يشير الى مفهوم:

- أ - الزيادة الطبيعية
ب - النمو السكاني
ج - التركيب النوعي
د - التوزيع الجغرافي للسكان

ثانياً: ضع علامة (✓) أمام العبارة الصحيحة وعلامة (×) أمام العبارة الخطأ

- 7- بلدية الوكرة هي ثاني أكثر بلديات قطر سكاناً لعام 2015 م (×)
- 8- يتركّز غالبية سكان قطر على الساحل الغربي (×)
- 9- يُقارب عدد سكان مدينة الدوحة حوالي 40 % من سكان دولة قطر (✓)
- 10- يوجد ببلدية الدوحة مقرُّ الحكم والوزارات والمؤسسات الحكومية. (✓)



أوراق علاجية وواجبات

ثالثاً: أجب عما يلي:

12- عرف المفاهيم الآتية:

المفهوم	التعريف
التوزيع الجغرافي للسكان.	يُقصد به توزيع السكَّان على أرض دولة قطر
الزيادة الطبيعية.	هو الفرق بين عدد المواليد والوفيات

13- بم تفسر، تركُّز السكان في مدينة الدوحة؟

- 1- يوجد بها مقر الحكم والوزارات والمؤسسات الحكومية
- 2- توافر الخدمات
- 3- توافر فرص

14- ما أسباب قلَّة تركُّز السكان في المناطق الجنوبية الشرقية والغربية في قطر؟

- 1- انتشار الكثبان الرملية
- 2- انتشار الصحاري

15- عدد مناطق التركُّز السكَّاني بدولة قطر.

- 1- عاصمة دولة قطر / 2- المدن الرئيسية / 3- مناطق الصناعة وإنتاج النفط والغاز



أوراق علاجية وواجبات

16- رتب البلديات التالية من حيث نسب السكان لدولة قطر في كل بلدية بوضع الأكثر كثافة سكانية أولاً والأقل في الآخر.

الترتيب	اسم البلدية
1-الدوحة	الشمال
2-الريان	الوكرة
3-الوكرة	الريان
4-الشمال	الدوحة

17- صل بين العمود (ا) ما يناسبه من العمود (ب):

- بلدية الشمال
- تعتبر عاصمة دولة قطر
- يُقصد به توزيع السُّكَّان على أرض دولة قطر
- تحتل المرتبة الثانية تعداداً للسكان في دولة قطر

1- التوزيع الجغرافي للسُّكَّان

2- أقل بلديات قطر سكاناً

3- بلدية الريان

4- الدوحة



أوراق عمل علاجية

القسم	الدراسات الاجتماعية	الصف الرابع	الأسبوع	الثالث عشر
الوحدة	الخامسة – درس 1 (الشيخ عبدالله بن جاسم آل ثاني)	التاريخ	11 / 19 – 11 / 23 / 2023 م	

أولاً: الاختيار من متعدد:

13- وُلد الشَّيْخ عبد الله بن جاسم آل ثاني في مدينة:

- أ – الوكرة
ب – فويرط
ج – الدوحة
د – الزبارة

14- الحاكم الثالث لدولة قطر الشيخ:

- أ – جاسم بن محمد آل ثاني.
ب – عبد الله بن جاسم آل ثاني.
ج – علي بن جاسم آل ثاني.
د – أحمد بن علي آل ثاني.

15- سُمِّيت أول مدرسة أُنشئت في عهد الشيخ عبد الله بن جاسم آل ثاني بالمدرسة:

- أ – المستقلة
ب – الأثرية
ج – الفنية
د – الدينية

16- اكتشِف النفط في عهد الشيخ عبد الله بن جاسم آل ثاني في منطقة:

- أ – الزبارة
ب – فويرط
ج – الدوحة
د – دخان

17- تولى الشيخ عبد الله بن جاسم آل ثاني الحكم بعد وفاة والده لدولة قطر عام:

- أ – 1911م
ب – 1912م
ج – 1913م
د – 1914م

ثانياً: ضع علامة (✓) أمام العبارة الصحيحة وعلامة (x) أمام العبارة الخاطئة

- 11- تولى الشَّيْخ عبد الله بن جاسم آل ثاني الحكم عام 1913 م. (✓)
- 12- اكتشِف في عهد الشَّيْخ عبد الله بن جاسم آل ثاني النَّفْط في منطقة مسعيد عام 1940 م. (x)
- 13- عقَد الشَّيْخ عبد الله بن جاسم آل ثاني المعاهدات مع بريطانيا؛ لحفظ استقرار البلاد. (✓)
- 14- سميت أول مدرسة أُنشئت في عهد الشيخ عبد الله بن جاسم آل ثاني بالمدرسة الدينية. (x)



أوراق علاجية وواجبات

ثالثا: أجب عما يلي:

18- عرف المفاهيم الآتية:

المفهوم	التعريف
المدرسة الأثرية	أول مدرسة أنشئت في عهد الشيخ عبد الله بن جاسم آل ثاني في دولة قطر

19- أذكر بعض صفات الشيخ عبد الله بن جاسم آل ثاني.

1- التدين

2- الشجاعة

3- شدة الذكاء

20- عدد أهم أعمال وإنجازات الشيخ عبد الله بن جاسم آل ثاني..

1- اهتمامه بالتعليم،

2- اكتشاف النفط في عهده في منطقة دخان عام 1940 م.

3- عقده المعاهدات مع بريطانيا؛ لحفظ استقرار البلاد.

21- وضح كم استمر حكم الشيخ عبد الله بن جاسم آل ثاني بالأعوام

36 عاما



أوراق علاجية وواجبات

-22- صل بين العمود (ا) ما يناسبه من العمود (ب):

● بلدية الشمال	1- اكتشاف النفط
● الأثرية	2- ولد الشيخ عبد الله بن جاسم في مدينة
● دخان 1940م	3- أول مدرسة أنشئت في قطر
● الدوحة	



أوراق عمل علاجية

القسم	الدراسات الاجتماعية	الصف الرابع	الأسبوع	الرابع عشر
الوحدة	السادسة - درس 2 (الصالح العام)	التاريخ	11 / 26 - 11 / 30 / 2023 م	

أولاً: الاختيار من متعدد:

18- أي من التالية يُعدُّ من صفات المواطن الصالح في المجتمع:

- أ - مخالفة القوانين.
ب - اهدار الممتلكات العامة.
ج - الكتابة على الجدران.
د - حب الوطن والانتماء إليه.

19- يُمكن المحافظة على الصالح العام من خلال:

- أ - إلقاء المُخلفات في الشوارع.
ب - الكتابة على طاولة الصف.
ج - المحافظة على وقت العمل.
د - استخدام مياه المنزل في غسيل السيارة.

20- " هو كل ما يعود بالنفع على المجتمع أو الفرد." التعريف السابق يشير الى مفهوم:

- أ - التقاليد
ب - الصالح العام.
ج - الهوية الوطنية.
د - الانتماء للوطن.

ثانياً: ضع علامة (✓) أمام العبارة الصحيحة وعلامة (x) أمام العبارة الخطأ

- 15- أحد طرق المحافظة على الصالح العام المحافظة على أدوات المدرسة. (✓)
16- يُعدُّ من صفات المواطن الصالح احترام قوانين وعادات وتقاليد المجتمع. (✓)
17- الصالح العام يشمل فقط ممتلكات الأفراد دون الدولة ومواردها، (x)



أوراق علاجية وواجبات

ثالثا: أجب عما يلي:

23- عرف المفاهيم الآتية:

المفهوم	التعريف
الصالح العام	هو كل ما يعود بالنفع على المجتمع أو الفرد

24- وضح طرق المحافظة على الصالح العام في المجتمع.

- 1- عدم رمي القمامة في الأماكن العامّة. مثال: الحدائق والطرق.
- 2- المحافظة على وقت العمل.
- 3- المحافظة على أدوات المدرسة من المقاعد والسبورة والأجهزة

25- عدد صفات المواطن الصالح في وطننا قطر.

- 1- حُبُّ الوطن والانتماء إليه.
- 2- احترام القوانين وعادات وتقاليد المجتمع.
- 3- الأمانة والمحافظة على ممتلكات الدولة.
- 4- التعاون مع الآخرين والإخلاص في العمل.



أوراق علاجية وواجبات

-26 صل بين العمود (أ) ما يناسبه من العمود (ب):

<ul style="list-style-type: none">● احترام القوانين.● عدم رمي القمامة في الأماكن العامة.● يكتب على جدران المدرسة.	<ol style="list-style-type: none">1- من طُرُق الحفاظ على الصالح العام2- يجب تقديم النصيحة لمن3- من صفات المواطن الصالح
---	--

انتهت الأسئلة