

تم تحميل هذا الملف من موقع المناهج القطرية



أوراق عمل إثرائية منتصف الفصل غير مجانية

موقع المناهج ← المناهج القطرية ← المستوى السادس ← تكنولوجيا المعلومات ← الفصل الأول ← أوراق عمل ← الملف

تاريخ إضافة الملف على موقع المناهج: 2024-10-20 20:34:17

ملفات اكتب للمعلم اكتب للطالب | اختبارات الكترونية | اختبارات | حلول | عروض بوربوينت | أوراق عمل
منهج انجليزي | ملخصات وتقارير | مذكرات وبنوك | الامتحان النهائي للمدرس

المزيد من مادة
تكنولوجيا
المعلومات:

التواصل الاجتماعي بحسب المستوى السادس



صفحة المناهج
القطرية على
فيسبوك

الرياضيات

اللغة الانجليزية

اللغة العربية

التربية الاسلامية


المواد على تلغرام

المزيد من الملفات بحسب المستوى السادس والمادة تكنولوجيا المعلومات في الفصل الأول



العام الدراسي
2025-2024

الصف الرابع
4



مادة الدراسات
الاجتماعية

تدريبات إثرائية - واجبات

منهاج منتصف الفصل الدراسي الأول
الوحدة الأولى + الوحدة الثانية + الوحدة الثالثة

اسم الطالب:

الصف: الرابع /

ملحوظة هامة: هذه الأسئلة إثرائية ولا تغني عن الكتاب المدرسي وهو
المصدر الرئيس للتعلم



الوحدة الأولى:

جغرافيا

(الدرس الأول خطوط الطول ودوائر العرض وحركتا الارض)
(الدرس الثاني قطر طبيعيا)



التاريخ	الوحدة الاولى جغرافيا	الأسبوع
01 - 05/09/2024م	الدرس الأول خطوط الطول ودوائر العرض وحركتا الارض	1

تعليمات
اختر الإجابة الصحيحة لكل من الأسئلة من 1 إلى 2 وذلك بوضع علامة X داخل المربع المجاور للإجابة الصحيحة.

يبلغ عدد خطوط الطول:

1

360

370

380

390

خط الطول الرئيسي الذي ينصف الكرة الأرضية إلى نصفين شرقي وغربي :

2

جرينتش

الاستواء

مدار الجدي

مدار السرطان



تعليمات

عند الإجابة على الأسئلة من 3 اكتب إجابتك في الفراغ المخصص للإجابة:

3

أ- ما أهمية خطوط الطول؟

الإجابة: أ-

ب-

ب - عرف خطوط الطول .

الإجابة: أ-

ب

ج- صل بين القائمة (أ) وما يناسبها من القائمة (ب) في الجمل الآتية :-

الرقم	(أ)	(ب)
أ-	عبارة عن أنصاف دوائر وهمية تصل بين القطبين	الاستواء
ب-	دائرة الخط الرئيسي ودرجتها صفر وهي أكبر الدوائر	الحركة اليومية
ج-	حركة الأرض حول (محورها)الشرق كل 24 ساعة	خطوط الطول
		جرينتش



التاريخ	الوحدة الاولى جغرافيا	الأسبوع
8 - 09/12 /2024م	الدرس الأول خطوط الطول ودوائر العرض وحركتها الارض	2

تعليمات
اختر الإجابة الصحيحة لكل من الأسئلة من 1 إلى 3 وذلك بوضع علامة X داخل المربع المجاور للإجابة الصحيحة.

1 يبلغ عدد دوائر العرض :

160

170

180

190

2 الدائرة الرئيسية التي تُقسم الكرة الأرضية إلى نصفين شمالي ونصف جنوبي هي:

الجدى

الاستواء

السرطان

جرينتش

3 تتصل دولة قطر باليابس من جهة الجنوب مع:

الكويت

الإمارات

البحرين

السعودية



تعليمات

عند الإجابة على الأسئلة من 3 اكتب إجابتك في الفراغ المخصص للإجابة:

3

أ- عرف مفهوم دوائر العرض.

الإجابة: أ-

ب-

ب- بم تفسر أهمية دوائر العرض؟

الإجابة: أ-

ب-



التاريخ	الوحدة الاولى جغرافيا	الأسبوع
15 - 19 /09/2024م	(الدرس الثاني قطر طبيعيا)	3

تعليمات
اختر الإجابة الصحيحة لكل من الأسئلة من 1 إلى 4 وذلك بوضع علامة X داخل المربع المجاور للإجابة الصحيحة.

أي الجهات الآتية تتصل بها السعودية برا مع دولة قطر ؟

1

- الشرق
- الغرب
- الجنوب
- الشمال

تعد من أشكال سطح الأرض الداخلية في دولة قطر:

2

- الجُزر
- التلال
- الحلجان
- السبخات



" الكهوف الأرضية التي انهارت أجزاءها العليا، فكوّنت فتحات على سطح الأرض "

3

يشير التعريف السابق لمفهوم:

- التلال
- الدحول
- الخلجان
- الروضات

تُعد من أشكال سطح الأرض الساحلية بدولة قطر:

4

- الجُزر
- التلال
- الرمال
- الروضات



عند الإجابة على الأسئلة من 05 إلى 06، اكتب إجابتك في الفراغ المخصص للإجابة:

تعليمات

		5
أ- بم تفسر صلاحية الروضات للزراعة؟ الإجابة: أ- _____ ب- _____		
ج - عدد أشكال سطح الأرض الداخلية. الإجابة: أ- _____ ب- _____		

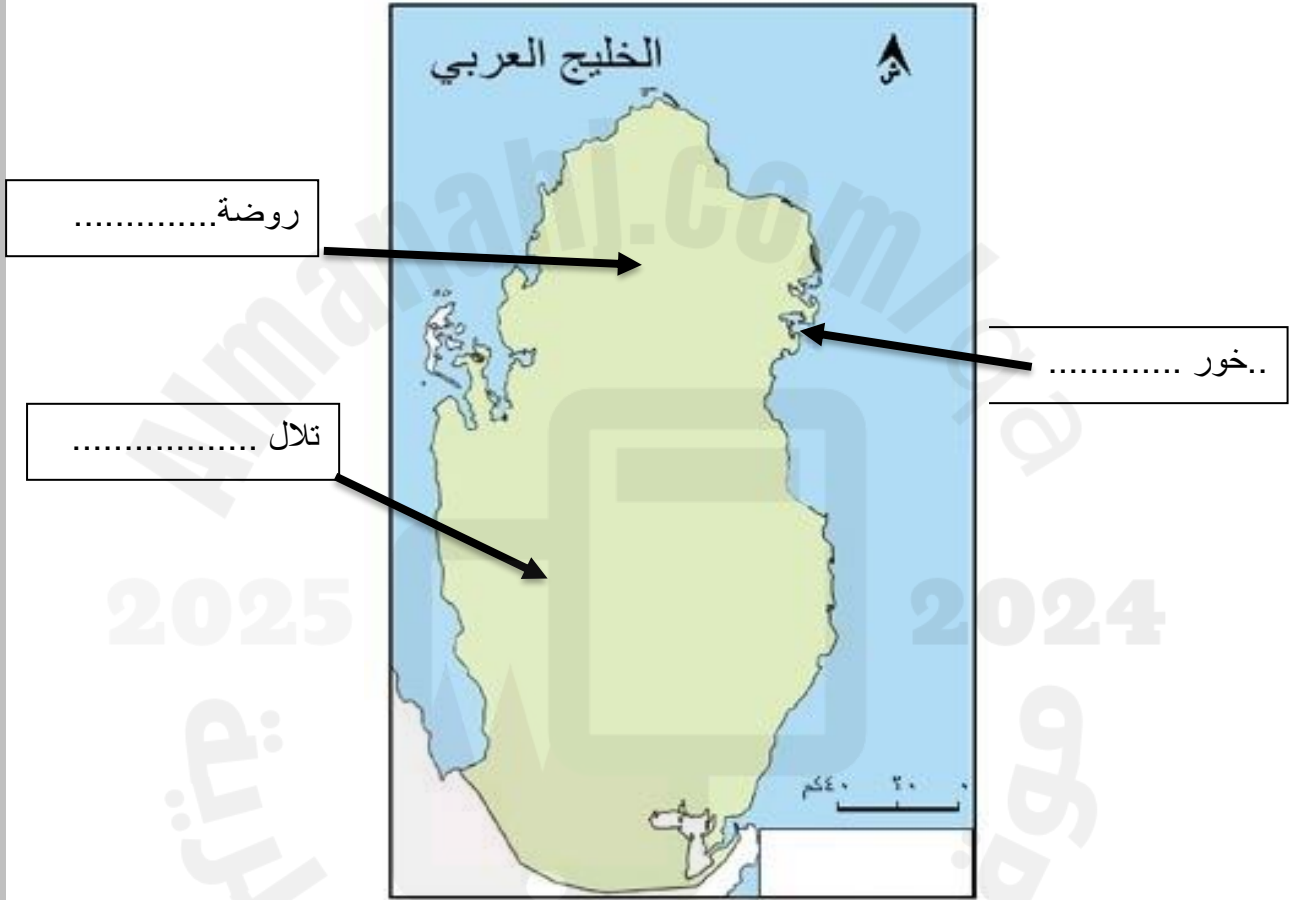


تعليمات

عند الإجابة على الأسئلة من 05 إلى 06، اكتب إجابتك في الفراغ المخصص للإجابة:

6

أ- حدد على خريطة دولة قطر أشكال السطح التالية :





ب- اذكر أشكال سطح الأرض الساحلية في دولة قطر .

الإجابة: أ- _____

ب- _____

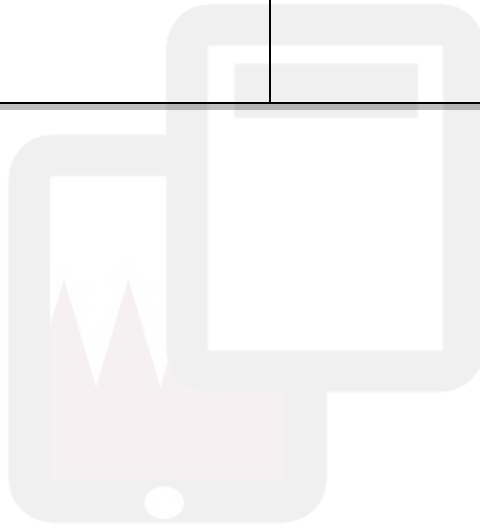
ج - صنف أشكال سطح الأرض الآتي في الجدول التالي :

(الكتبان الرملية - الخلجان - الجزر - الروضات - التلال - الرؤوس)

الداخلية	الساحلية

2025

2024



موقع المناهج القطرية



الوحدة الثانية:

تاريخ

(الدرس الأول أسرة ال ثاني)

(الدرس الثاني نشأة امارة قطر)

2025

2024



موقع المناهج القطرية



التاريخ	الوحدة الثانية تاريخ	الأسبوع
2024 /09/26 – 22م	(الدرس الأول أسرة ال ثاني)	4

تعليمات
اختر الإجابة الصحيحة لكل من الأسئلة من 1 إلى 3 وذلك بوضع علامة X داخل المربع المجاور للإجابة الصحيحة.

1 أي المناطق الآتية كان موطن أسرة (آل ثاني) قبل هجرتهم إلى قطر؟

- الخور
- الوشم
- الحجاز
- الاحساء

2 ولد الشيخ محمد بن ثاني في مدينة:

- فويرط
- الزيارة
- الدوحة
- الرويس

3 كانت أطول مدة حكم لقطر في عهد الشيخ:

- أحمد بن علي آل ثاني
- جاسم بن محمد بن ثاني
- علي بن عبد الله آل ثاني
- عبد الله بن جاسم آل ثاني



تعليمات

عند الإجابة على الأسئلة من 4 اكتب إجابتك في الفراغ المخصص للإجابة:

4

أ-- بم تفسر هجرة (آل ثاني) من منطقة (نجد) إلى قطر؟

الإجابة: أ--

ب--

ب- بم تفسر إجماع القبائل في قطر على الشيخ (محمد بن ثاني) كشيخ لدولة قطر؟

الإجابة: أ--

ب

ج- ضع علامة (✓) أو علامة (✕) أمام الجمل الآتية :-

أ- تميزت العلاقة بين الشيخ جاسم بن محمد بن ثاني بالتعاون ()

ب- يبلغ عدد دوائر العرض 360 دائرة عرض ()

ج- ولد الشيخ محمد بن ثاني في فويرط ()

د- نشأ الشيخ جاسم بن محمد بن ثاني في مدينة الدوحة ()



التاريخ	الوحدة الثانية تاريخ	الأسبوع
2024 / 10 / 3 – 9 / 29 م	(الدرس الثاني نشأة إمارة قطر)	5

تعليمات
اختر الإجابة الصحيحة لكل من الأسئلة من 1 إلى 4 وذلك بوضع علامة X داخل المربع المجاور للإجابة الصحيحة.

1 أي المهن التجارية الآتية عمل بها الشيخ جاسم بن محمد بن ثاني ؟

- اللؤلؤ
- الفراء
- الجلود
- الفواكه

2 مُنح الشيخ جاسم بن محمد بن ثاني لقب قائمقام من قبل:

- الفرنسيون
- البريطانيون
- البرتغاليون
- العثمانيون

3 أرسل الشيخ جاسم بن محمد بن ثاني دعوة للعثمانيين لمساعدته في مواجهة الأطماع:

- الفرنسية
- البرتغالية
- الهولندية
- البريطانية



تعليمات

عند الإجابة على الأسئلة من 5 اكتب إجابتك في الفراغ المخصص للإجابة:

5

أ- بم تفسرُ يعد الشيخ جاسم بن محمد بن ثاني المؤسس الفعلي لدولة قطر.

الإجابة: أ- _____

ب- _____

ب- ما النتائج المترتبة على معركة الوجبة؟

الإجابة: أ- _____

ب- _____

ج- ما أهمية معركة الوجبة 1893م بالنسبة للقطريين؟

الإجابة: أ- _____

ب- _____

د- وضح أسباب معركة الوجبة .

الإجابة: أ- _____

ب- _____



الوحدة الثالثة:

المواطنة

(الدرس الهوية الوطنية)



التاريخ	الوحدة الثالثة مواطنة	الأسبوع
6 - 10/10 / 2024م	(الدرس الأول الهوية الوطنية)	6

تعليمات
اختر الإجابة الصحيحة لكل من الأسئلة من 1 إلى 2 وذلك بوضع علامة X داخل المربع المجاور للإجابة الصحيحة.

أي مما يأتي يُعدُّ من آثار الاعتزاز بالهويَّة الوطنية؟

1

- الدين واللغة
- التاريخُ المشترك
- تماسُّكُ أبناء الوطن
- التشابه في العادات والتقاليد

"مجموعة الأحداث التي مرَّ بها الآباء والأجداد، وجعلتهم أبناء هويَّة واحدة"

2

يشير التعريف السابق إلى مفهوم التاريخ:

- القديم
- الحديث
- المشترك
- المعاصر

"الأساليب التي تتوارثها الأجيال ويشترك فيها جميع أبناء الشعب القطري"

3

يشير التعريف السابق إلى مفهوم:

- الدين واللغة.
- العادات والتقاليد.
- التاريخُ المشترك.
- الوحدة الجغرافية.



تعليمات

عند الإجابة على الأسئلة من 3 اكتب إجابتك في الفراغ المخصص للإجابة:

3

أ- عرف مفهوم الهوية الوطنية القطرية .

الإجابة:

أ-

ب-

ب بين نتائج التمسك بالهوية الوطنية القطرية .

الإجابة:

أ-

ب-

ج - عدد مكونات الهوية الوطنية القطرية .

الإجابة:؟

أ-

ب-

أحمد حسن
نائب المدير للشؤون الأكاديمية
22 SEP 2024