

## تم تحميل هذا الملف من موقع المناهج القطرية



## أوراق عمل مسيعيد منتصف الفصل غير مجانية

موقع المناهج ← المناهج القطرية ← المستوى الخامس ← اجتماعيات ← الفصل الأول ← أوراق عمل ← الملف

تاريخ إضافة الملف على موقع المناهج: 2024-10-31 01:38:20

ملفات اكتب للمعلم اكتب للطالب | اختبارات الكترونية | اختبارات | حلول | عروض بوربوينت | أوراق عمل  
منهج انجليزي | ملخصات وتقارير | مذكرات وبنوك | الامتحان النهائي للمدرس

المزيد من مادة  
اجتماعيات:

## التواصل الاجتماعي بحسب المستوى الخامس



صفحة المناهج  
القطرية على  
فيسبوك

الرياضيات

اللغة الانجليزية

اللغة العربية

التربية الاسلامية

المواد على تلغرام

## المزيد من الملفات بحسب المستوى الخامس والمادة اجتماعيات في الفصل الأول

أوراق عمل أم القرى منتصف الفصل مع الإجابة النموذجية

1

تدريبات وأوراق عمل اثرائية منتصف الفصل غير مجانية

2

تدريبات وأوراق عمل اثرائية منتصف الفصل مع الإجابة النموذجية

3

أوراق عمل الأندلس الوحدة الثانية مع الإجابة النموذجية

4


أوراق عمل الأندلس الوحدة الثانية غير مجانية

5



العام الدراسي  
2025-2024

الصف/  
الخامس  
5



مادة الدراسات  
الاجتماعية

تدريبات إثرائية - واجبات

منهاج منتصف الفصل الدراسي الأول  
الوحدة الأولى + الوحدة الثانية + الوحدة الثالثة

اسم الطالب: .....

الصف: الخامس/ .....

ملحوظة هامة: هذه الأسئلة إثرائية ولا تغني عن الكتاب المدرسي وهو  
المصدر الرئيس للتعلم



# الوحدة الأولى:

(جغرافيا)

## الأرض من حولنا



التاريخ	الدرس	الأسبوع
01 – 09/05 /2023م	المناخ وعناصره	1

تعليمات  
اختر الإجابة الصحيحة لكل من الأسئلة من 1 إلى 3 وذلك بوضع علامة X داخل المربع المجاور للإجابة الصحيحة.

1 أي الرياح الآتية تهب على دولة قطر؟

- الكوس  
 السموم  
 الهوب  
 الخماسين

2 " وصف حالة الجو في فترة زمنية قصيرة يوم او أسبوع "

يشير التعريف السابق الى مفهوم:

- المناخ  
 الطقس  
 الحرارة  
 الضغط الجوي

3 أي مما يلي من العناصر المناخية التي تؤثر على باقي عناصر المناخ؟

- الرياح  
 الحرارة  
 الرطوبة  
 الأمطار




تعليمات

عند الإجابة على الأسئلة من 04 إلى 05، اكتب إجابتك في الفراغ المخصص للإجابة:

أجب عما يلي		4
أ- عدد أنواع الرياح .		
الإجابة		
أ- .....		
ب- .....		
ج- .....		
ب- قارن بين مفهوم كل من الضغط الجوي والرياح من خلال الجدول الآتي:		
الرياح	الضغط الجوي	
ج- اذكر عناصر المناخ.		
الإجابة		
أ- .....		
ب- .....		
ج- .....		



	أجب عما يلي	5
- عرف المفاهيم الآتية:		
1- الطقس: .....		
2- المناخ: .....		
3- الرياح الدائمة: .....		





التاريخ	الدرس	الأسبوع
8 - 09/12 /2023م	شبه الجزيرة العربية طبيعياً	2

تعليمات  
اختر الإجابة الصحيحة لكل من الأسئلة من 1 إلى 5 وذلك بوضع علامة X داخل المربع المجاور للإجابة الصحيحة.

1 "موقع المكان بالنسبة لخطوط الطول ودوائر العرض"

يشير التعريف السابق إلى مفهوم الموقع:

- الفلكي
- الجغرافي
- المتوسط
- الاستراتيجي

2 أي مما يلي من المسطحات المائية يحد شبه الجزيرة العربية من جهة الغرب؟

- عمان
- العرب
- الأحمر
- المتوسط

3 أكبر دول شبه الجزيرة العربية من حيث المساحة:

- اليمن
- الكويت
- البحرين
- السعودية



4

"أراض مرتفعة عن سطح البحر ولها قمة" ويزيد ارتفاعها عن 1000 متر"

يشير التعريف السابق إلى مفهوم الموقع:

- الجبال
- السهول
- الهضاب
- الصحاري

5

يحد شبه الجزيرة العربية من جهة الشمال دولة:

- لبنان
- سوريا
- العراق
- فلسطين





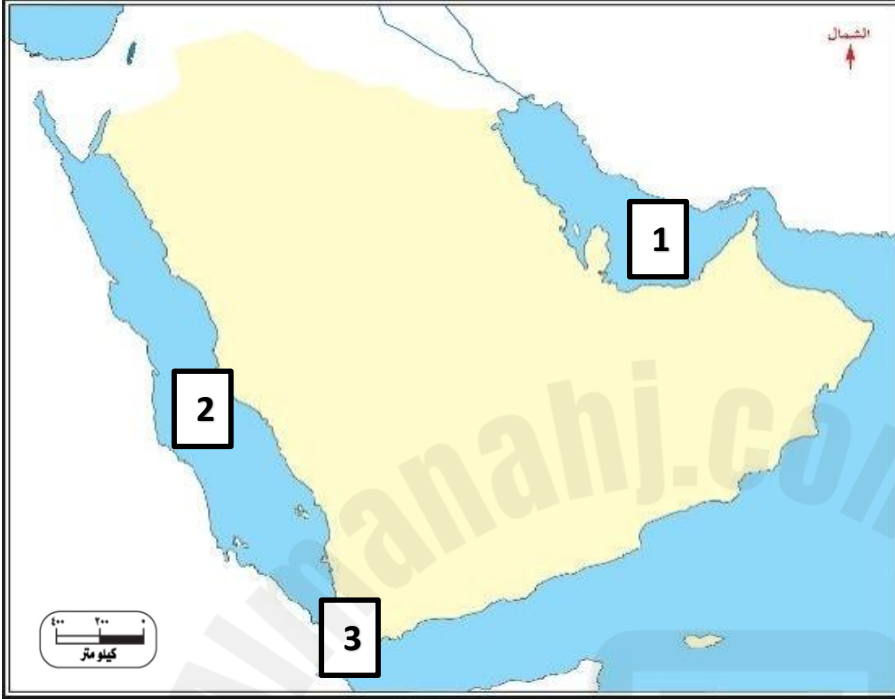
تعليمات

عند الإجابة على الأسئلة من 6 إلى 7، اكتب إجابتك في الفراغ المخصص للإجابة:

أجب عما يلي		6
أما أهمية موقع شبه الجزيرة العربية؟		
أ- .....		
ب- .....		
ج- .....		
ب-قارن بين مفهوم كل من الجبال والهضاب من خلال الجدول الآتي:		
الهضاب		الجبال
2025		2024
ج - اذكر أهم الهضاب في شبه الجزيرة العربية. الإجابة		
أ- .....		
ب- .....		
ج- .....		



7- اكتب ما تشير إليه الأرقام الآتية على خريطة شبه الجزيرة العربية الصماء التي أمامك: -



1-الخليج .....

2-البحر .....

3-مضيق .....



التاريخ	الدرس	أسبوع
15 - 09/19 / 2024م	شبه الجزيرة العربية طبيعياً	3

تعليمات  
اختر الإجابة الصحيحة لكل من الأسئلة من 1 إلى 6 وذلك بوضع علامة X داخل المربع المجاور للإجابة الصحيحة.

1 "أراض منخفضة مستوية السطح تمتد على سواحل البحار والمحيطات والخلجان" يشير التعريف السابق إلى مفهوم السهول:

- الداخلية
- الفيضية
- الرسوبية
- الساحلية

2 أي السهول الآتية تمتد على سواحل البحر الأحمر؟

- تهامة
- الباطنة
- الإحساء
- حضر موت

3 أي مما يلي من الهضاب تقع في جنوب شبه الجزيرة العربية؟

- نجد
- الحماد
- الصمان
- حضر موت



4 "أي السهول الآتية رملية وتكثر بها السبخات؟"

- تهامة  
 الباطنة  
 حضرموت  
 الخليج العربي

5 "المكان الذي يشغله جزء من اليابس على سطح الأرض"

يشير التعريف السابق إلى مفهوم الموقع :

- الفلكي  
 المتوسط  
 الجغرافي  
 الاستراتيجي

6 يربط مضيق هرمز بين الخليج العربي وبحر:

- عُمان  
 العرب  
 الأحمر  
 المتوسط



تعليمات

عند الإجابة على الأسئلة من 07 إلى 08، اكتب إجابتك في الفراغ المخصص للإجابة:

أجب عما يلي	7
<p>أ- عدد أهم السهول في شبه الجزيرة العربية.</p> <p>الإجابة</p> <p>أ- .....</p> <p>ب- .....</p> <p>ج- .....</p> <p>ب- بين خصائص سهول الخليج العربي .</p> <p>الإجابة</p> <p>أ- .....</p> <p>ب- .....</p> <p>ج- .....</p> <p>ج- اذكر أهم الهضاب في شبه الجزيرة العربية.</p> <p>الإجابة</p> <p>أ- .....</p> <p>ب- .....</p> <p>ج- .....</p>	



أجب عما يلي		8
<p>أ- ما أهمية موقع شبه الجزيرة العربية ؟</p>		
<p>الإجابة</p>		
<p>أ- .....</p>		
<p>ب- .....</p>		
<p>ج- .....</p>		
<p>ب- عدد أهم البحار التي تطل على شبه الجزيرة العربية .</p>		
<p>الإجابة</p>		
<p>أ- .....</p>		
<p>ب- .....</p>		
<p>ج- .....</p>		
<p>ج- اذكر المضائق البحرية المهمة التي تشرف عليها شبه الجزيرة العربية .</p>		
<p>الإجابة</p>		
<p>أ- .....</p>		
<p>ب- .....</p>		
<p>ج - .....</p>		



## الوحدة الثانية:

(تاريخ)

## الحضارات القديمة في شبه الجزيرة العربية



التاريخ	الدرس	الأسبوع
22 - 26 /09/ 2024م	عوامل قيام الحضارة في شبه الجزيرة العربية + حضارات شبه الجزيرة العربية	4

تعليمات  
اختر الإجابة الصحيحة لكل من الأسئلة من 1 إلى 4 وذلك بوضع علامة X داخل المربع المجاور للإجابة الصحيحة.

1 "كل ما أنجزه الإنسان في جميع المجالات سواء ماديا أو معنويا نتيجة تفاعله مع البيئة" يشير التعريف السابق إلى مفهوم:

- التجارة
- الصناعة
- الأنشطة
- الحضارة

2 أي مما يلي من موارد المياه تخلق منها شبه الجزيرة العربية؟

- الأنهار
- الأمطار
- الينابيع
- العيون

4 سقطت حضارة سبأ على يد دولة :

- حمير
- كندة
- معين
- قنبان





تعليمات

عند الإجابة على الأسئلة من 05 إلى 06، اكتب إجابتك في الفراغ المخصص للإجابة:

5	أجب عما يلي
	أ- بين العوامل الطبيعية في قيام الحضارة في شبه الجزيرة العربية. الإجابة
	أ- .....
	ب- .....
	ج- .....
	ب- عدد أهم الموارد الطبيعية في شبه الجزيرة العربية . الإجابة
	أ- .....
	ب- .....
	ج- .....
	ج- بم تفسر ازدهار الزراعة في مملكة سبأ ؟ الإجابة أ-
	ب- .....
	ج - .....



أجب عما يلي		6
أ- ما أسباب سقوط مملكة سبأ؟ الإجابة		
أ- .....		
ب- .....		
ج- .....		
ب-م تفسر سقوط مملكة كندة؟ الإجابة		
أ- .....		
ب- .....		
ج- .....		
ج- رتب ظهور الممالك القديمة الآتية في شبه الجزيرة العربية موضحاً ذلك على الخط الزمني ترتيباً صحيحاً من الأقدم إلى الأحدث . ( سبأ – حمير – معين )		
<p>115 ق.م: 525م</p> <p>950 ق.م: 115 ق.م</p> <p>1300 ق.م: 650 ق.م</p> <p>الأحدث ←</p> <p>→ الأقدم</p>		



التاريخ	الدرس	الأسبوع
9/29 - 10/3 / 2024م	حضارات شبه الجزيرة العربية	5

اختر الإجابة الصحيحة لكل من الأسئلة من 1 إلى 3 وذلك بوضع علامة X داخل المربع المجاور للإجابة الصحيحة.

تعليمات

1 الحرفة السائدة لسكان البادية في شبه الجزيرة العربية:

الرعي

الصناعة

التجارة

الحدادة

2 أي الفئات الآتية تضمها الطبقة الدنيا في مجتمع حضارات شبه الجزيرة العربية؟

الحكام

العبيد

المزارعين

أصحاب الحرف

3 أي الممالك الآتية في شبه الجزيرة العربية تعد الأقدم:

كندة

حمير

سبأ

معين



تعليمات

عند الإجابة على الأسئلة من 5 ، 6 اكتب إجابتك في الفراغ المخصص للإجابة:

5	أجب عما يلي
	أ- عدد أهم الصناعات في ممالك شبه الجزيرة العربية . الإجابة أ- ..... ب- ..... ج- .....
	ب- اعطِ أمثلة على المحاصيل الزراعية في حضارات شبه الجزيرة العربية. الإجابة أ- ..... ب- ..... ج- .....



	أجب عما يلي	6
<p>أ- اذكر الفئات التي تضمها الطبقة العليا في المجتمع العربي في حضارات شبه الجزيرة العربية .</p> <p>الاجابة</p> <p>أ- .....</p> <p>ب- .....</p> <p>ج- .....</p>		





## الوحدة الثالثة:

(المواطنة)

المجتمع القطري



التاريخ	الدرس	الأسبوع
6/ - 10/10 /2024م	العمل التطوعي	6

تعليمات  
اختر الإجابة الصحيحة لكل من الأسئلة من 1 إلى 2 وذلك بوضع علامة X داخل المربع المجاور للإجابة الصحيحة.

1- "الجهد الذي يبذله الإنسان تجاه المجتمع بدون مقابل مادي"

يشير التعريف السابق إلى مفهوم العمل:

- التطوعي
- الحكومي
- التعاوني
- الصناعي

2- تأسست جمعية الهلال الأحمر القطري في عام:

- 1975م
- 1976م
- 1977م
- 1978م



تعليمات

عند الإجابة على السؤال 3 ، 4 اكتب إجابتك في الفراغ المخصص للإجابة:

أجب عما يلي		3
أ- فسر أهمية العمل التطوعي . الإجابة		
أ- .....		
ب- .....		
ج- .....		
ب- أعط أمثلة على المؤسسات التطوعية في دولة قطر. الإجابة		
أ- .....		
ب- .....		
ج- .....		
ج- وضح أهداف مركز أصدقاء البيئة في دولة قطر. الإجابة		
أ- .....		
ب- .....		
ج- .....		





أجب عما يلي		4
أ- ما أهمية العمل التطوعي ؟ الإجابة		
أ- .....		
ب- .....		
ج- .....		
ب- عدد أشكال العمل التطوعي . الإجابة		
أ- .....		
ب- .....		
ج- .....		

2025

2024

